




1. Yukarıdaki şekle göre aşağıdakilerden hangisi **doğrudur** ?

			
A.	Güney	Güneybatı	Güneydoğu
B.	Batı	Kuzeydoğu	Güneydoğu
C.	Batı	Kuzeydoğu	Güneybatı

2. Aşağıdaki öğrencilerden hangisi, Atatürk'ün yapmış olduğu yenilikler ile ilgili **yanlış** bilgi vermiştir ?

- A.  Uzunluk ve ağırlık ölçülerinde değişiklik yapmıştır.
- B.  Arap alfabesi getirilmiştir.
- C.  Kadınlara seçme ve seçilme hakkı verilmiştir.



Okuduğu okullar:

1. Mahalle Mektebi
2.İlkokulu
3. Selanik Askeri Ortaokulu
4. Askeri Lisesi
5. Harp Okulu
6. Akademisi

3. Sevgili öğrenciler, bu tabloda eksik olan okul isimlerinin **doğrusu** hangi seçenektir ?

- A. Şemsi Efendi İlkokulu – Harp Akademisi
- B. Şems İlkokulu - Askeri Akademisi
- C. Şemsi Efendi İlkokulu – Mülkiye Akademisi

4.



Bu aile için aşağıdakilerden hangisini söylememiz **mümkündür** ?

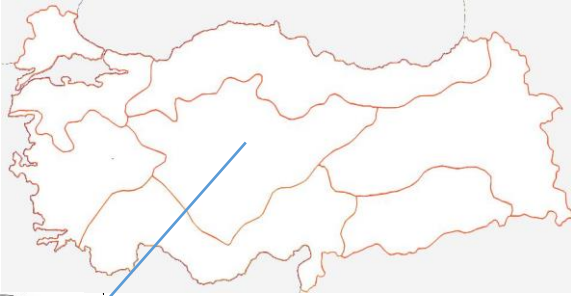
- A. Çekirdek aile
- B. Küçük aile
- C. Geniş aile



5. Eslem ve İsmail, dünya haritası üzerinde suların ve karaların olduğu bölümü boyamak istiyorlar. Buna göre **suları ve karaları** hangi renklere boyamalıdır ?

- A. Yeşil ve kahverengi
- B. Mavi – kahverengi
- C. Sarı - mavi

6.



Yaz tatilinde dedemleri ziyaret edeceğiz. Bu nedenle ben, **hangi bölgeye** gideceğim ?

- A. Karadeniz Bölgesi
- B. Ege Bölgesi
- C. İç Anadolu Bölgesi

7. 😊 masa

😊 çatal

😊 bardak

😊 tencere

Yukarıdaki eşyalardan hangileri **aynı maddeden** yapılmıştır ?

- A. masa – çatal
- B. masa – bardak
- C. tencere – çatal

8.



Yukarıdaki görsel hangi **doğal afet** ile ilgilidir ?

- A. Heyelan
- B. Sel
- c. Çığ

9.

Ömer :Aile bütçesine göre alışveriş yaparım.

Nayla: Reklamlara bakarak alışveriş yaparım.

Furkan: Besinlerin üretim tarihlerine ve son kullanma tarihlerine dikkat ederim.

Dilara: Ürünlerdeki TSE damgasına dikkat etmem.

Ceren : Aldığım ürünün fatura veya fişini mutlaka alırım.

Yukarıdaki öğrencilerin söylediklerinden yola çıkarak kaç öğrenci **bilinçli bir tüketicidir ?**

A. 2 B. 5 C. 3

1.Hastane	
2.Yolda çalışma var	
3.Yaya giremez	
4.Okul geçidi	

10. Yukarıdaki trafik işaretleri tablosunda kaç numaralı yerlerde yanlışlık yapılmıştır?

A. 2. 3. ve 4.
B. 1. ve 2.
C. 3. ve 4.

11.

Her yıl 29 Ekim'de Ulusal Egemenlik ve Çocuk Bayramı'nı kutlarız.

☐ Her yıl 19 Mayıs' da Atatürk'ü anma, Gençlik ve Spor Bayramı'nı kutlarız.

☐ Her yıl 30 Eylül ' de Zafer Bayramı'nı kutlarız.

☐ Her yıl 23 Nisan ' da Cumhuriyet Bayramı'nı kutlarız.

Yukarıdaki bilgilerden doğru olanlara (D) ,yanlış olanlara (Y)olarak yazdığımızda aşağıdaki tablolardan hangisi **doğru olur ?**

A.

D
D
Y
Y

B.

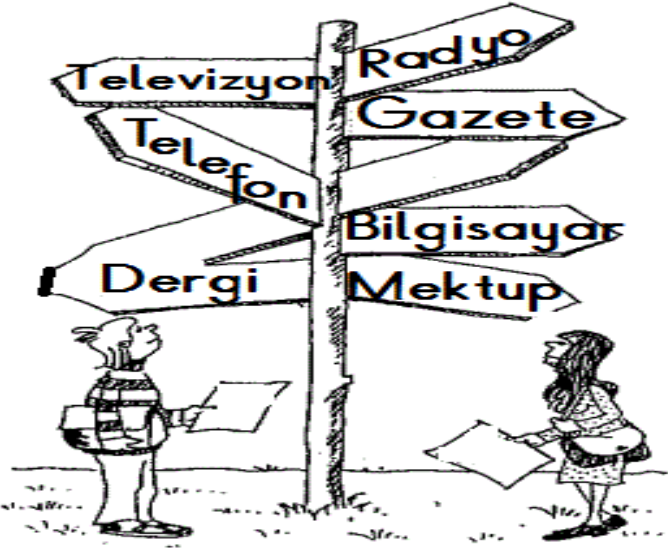
Y
D
Y
Y

C.

Y
D
D
Y



12.




Tabelada yazılı olan iletişim araçlarından kaç **tanesi hem görsel hem de işitsel** iletişim aracıdır ?

A. 4 B. 2 C. 3

13. Aşağıdaki görsellerden hangisi temel ihtiyaçlarımızla ilgili **değildir** ?


A.



B.



C.



14. Gökyüzünü incelerim,
Havanın nasıl olacağını
haber veririm,
Tahminlerim genelde
doğrudur,
Havanın durumu benden
sorulur.

Bu sözleri söyleyen kişinin **mesleği** aşağıdakilerden hangisidir ?


A.



B.



C.



15.

Ben, sınıfımızdaki çalışkan arkadaşlarımı severim.	
Sınıf başkanı olarak bütün arkadaşlarıma eşit davranırım.	
Bütün arkadaşlarımla boya kalemrimi paylaşıyorum.	
Bir oyunda ,en yakın arkadaşlarımı oyuna alırım.	
Bir olay karşısında, arkadaşım haklı ya da haksız da olsa ben arkadaşımı haklı bulurum.	

Yukarıdaki cümlelerden yanlı olanların karşısına (Y), tarafsız olanların karşısına (T) yazdığımızda hangi sonuç ortaya çıkar ?

- A. T – T – T – T – Y
B. Y – T – T – Y – Y
C. T – T – T – Y – Y

**Deneme sınavını bitirdin.
Şimdi yapamadığın sorulara geri dönüp, yapmaya çalışmalı ve cevaplarını forma doğru kodlayıp kodlamadığını kontrol etmelisin.**