


SAYI ÖRÜNTÜLERİ ÇALIŞMAMIZ

Çiçeklerin üzerindeki verilmeyen sayıları bulunuz. Sayı örüntüsünün kuralını belirleyiniz.



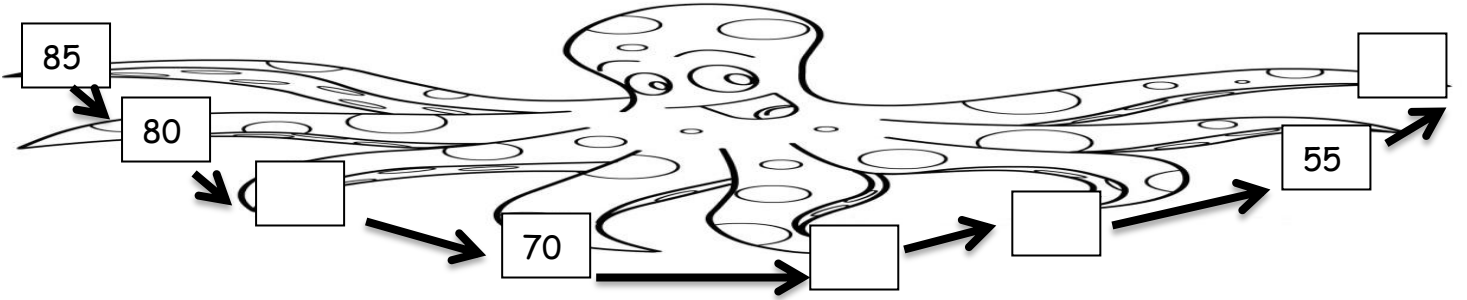
KURAL:

Ayıcıkların üzerindeki verilmeyen sayıları bulunuz. Sayı örüntüsünün kuralını belirleyiniz.



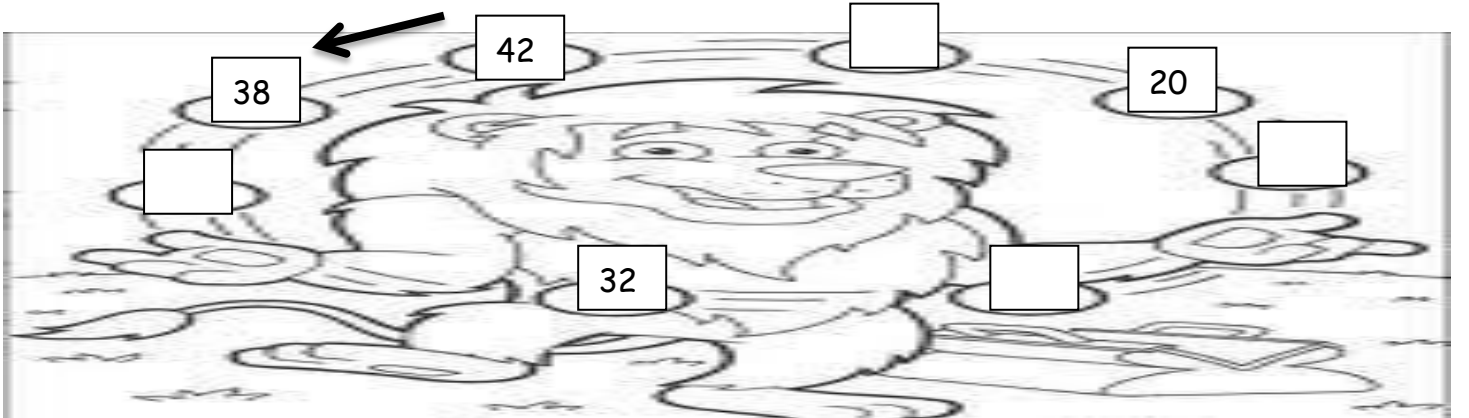
KURAL:

Ahtapotun ayaklarındaki verilmeyen sayıları bulunuz. Sayı örüntüsünün kuralını belirleyiniz.



KURAL:


Aslanın çevirdiği topların üzerindeki verilmeyen sayıları bulunuz. Sayı örüntüsünün kuralını belirleyiniz.



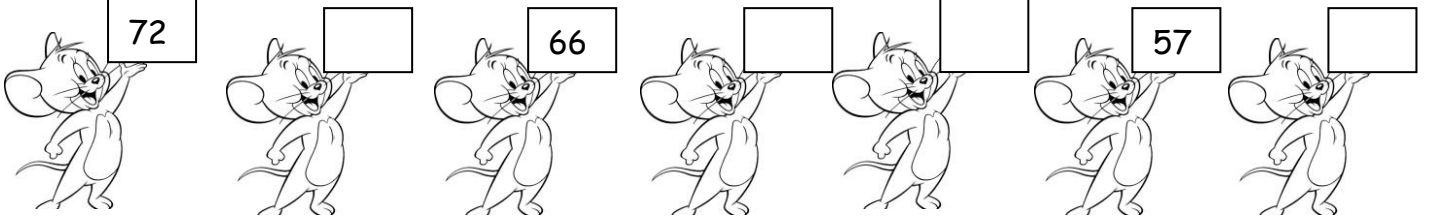
KURAL:

Kuralı verilen sayı örüntülerini devam ettiriniz.


KURAL: Sayılar 4' er 4'er azalmaktadır.



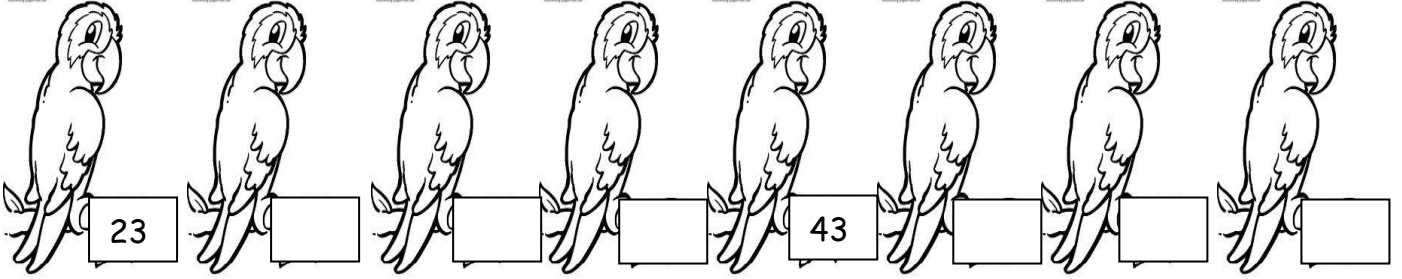
KURAL: Sayılar 3' er 3' er artmaktadır.



KURAL: Sayılar 10' ar 10' ar azalmaktadır.



KURAL: Sayılar 5' er 5' er artmaktadır.



KURAL: Sayılar 4' er 4' er artmaktadır.

