





MATEMATİK TEKRAR ÇALIŞMAMIZ

Armutların üzerinde yazılı olan toplama işlemlerini yapınız ve sonucu en büyük olan armudu yemesi için ok ile ayıya götürünüz.


$$\begin{array}{r} 45 \\ +36 \\ \hline \end{array}$$



$$\begin{array}{r} 66 \\ +29 \\ \hline \end{array}$$



$$\begin{array}{r} 14 \\ +42 \\ \hline \end{array}$$



$$\begin{array}{r} 68 \\ +24 \\ \hline \end{array}$$




Balıkların üzerindeki çıkarma işlemlerini yapınız. Kalanı en küçük balığı yemesi için ok ile ayıya götürünüz.



$$\begin{array}{r} 48 \\ -33 \\ \hline \end{array}$$



$$\begin{array}{r} 54 \\ -25 \\ \hline \end{array}$$



$$\begin{array}{r} 72 \\ -36 \\ \hline \end{array}$$


$$\begin{array}{r} 28 \\ -09 \\ \hline \end{array}$$

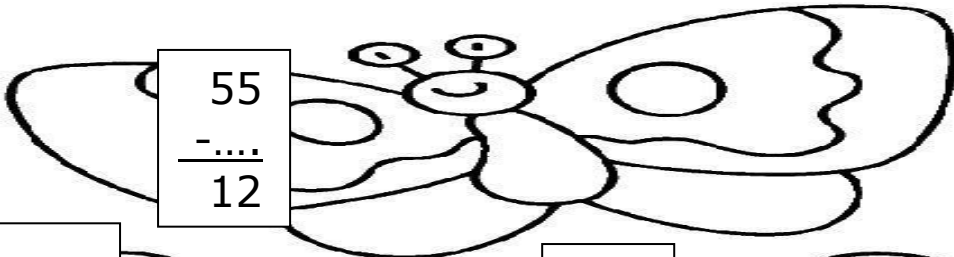
Çiçeklerin yanındaki toplama işlemlerinde verilmeyen toplananı bulunuz. Bulduğunuz toplananlardan 1 onluk ve 5 birlikten oluşan çiçeği boyayınız.

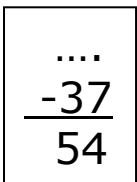

$$\begin{array}{r} \dots \\ +32 \\ \hline 95 \end{array}$$

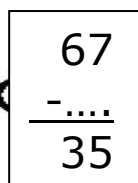

$$\begin{array}{r} 44 \\ +\dots \\ \hline 59 \end{array}$$



$$\begin{array}{r} 12 \\ +\dots \\ \hline 61 \end{array}$$

Kelebeklerin üzerindeki çıkarma işlemlerinde verilmeyen terimi bulunuz. Bulduğunuz terimlerden 3 onluk ve 2 birlikten oluşan çiçeğin üzerine ok ile götürünüz.


$$\begin{array}{r} 55 \\ -\dots \\ \hline 12 \end{array}$$


$$\begin{array}{r} \dots \\ -37 \\ \hline 54 \end{array}$$



$$\begin{array}{r} 67 \\ -\dots \\ \hline 35 \end{array}$$





Selam ben Talha, üzerindeki çarpmanın çarpımı (sonucu) 36 olan araba bizim arabamız. Hadi arabamızı bulun ve istediğiniz renklerle boyayın.

$$\begin{array}{r} 4 \\ \times 8 \\ \hline \end{array}$$




$$\begin{array}{r} 2 \\ \times 6 \\ \hline \end{array}$$



$$\begin{array}{r} 9 \\ \times 4 \\ \hline \end{array}$$



$$\begin{array}{r} 7 \\ \times 3 \\ \hline \end{array}$$




Meyvelerin üzerinde yazılı olan işlemleri yapınız. Sonucu aynı olan meyveleri ok ile tabağa götürünüz.

$$44 - 32 =$$



$$99 - 38 =$$



$$77 - 16 =$$



$$67 - 26 =$$



$$54 + 7 =$$



$$65 + 25 =$$



$$28 + 53 =$$



$$94 - 25 =$$



Cailou ve annesi 4 tepsi kurabiye yaptı. Her tepsinin içinde 6 tane kurabiye olduğuna göre kaç tane kurabiye yapmışlardır?

ÇÖZÜM:



Bir sirkte 8 aslan, 3 tane fil ve fillerin 2 katı kadar maymun olduğuna göre bu sirkte kaç hayvan vardır?

ÇÖZÜM:



Dora 38 sayfalık kitabının 25 sayfasını okuduğuna göre kitabının kaç sayfası kalmıştır?

ÇÖZÜM:



Bir ağaçta 9 tane dal ve her dalda 5 tane kuş vardır. Bu kuşların 12 tanesi uçtuğuna göre ağaçta kaç kuş kaldı?

ÇÖZÜM: