




ADI-SOYADI:


Çarpma Problemleri-3

2.SINIF
MATEMATİK

Bir ineğin 4 ayağı vardır.
5 ineğin kaç ayağı olur?



6 geyiğin kaç ayağı vardır?



Bir kulübede 3 köpek var.
Bunların ayak sayıları toplamı
kaçtır?




4 elde toplam kaç parmak olur?




Bir sepette 3 yumurta var.
5 sepette kaç yumurta olur?



4 horozun kaç ayağı vardır?



5 koyunun kaç ayağı vardır?




4 sandalyenin kaç ayağı
vardır?



5 elde kaç parmak var?



6 kuşta kaç ayak vardır?



Veli:.....

Öğretmen:.....