

MATEMATİK TESTİ

1-Kitap okuduğum zamanı hangisiyle ölçemem?

- a) dakika b) metre c) saat

2- Bir pastayı dört dilime ayırıp bir dilimini yiyen bir çocuk pastanın ne kadarını yemiştir?

- a) yarısını b) çeyreğini c) tamamını

3- " $59 + 38 = \triangle$ " işleminde \triangle yerine aşağıdakilerden hangisi gelmelidir?

- a) 87 b) 96 c) 97

4- Aşağıdaki işlemlerden hangisinin sonucu diğerlerinden büyüktür?

- a) 76 b) 18 c) 9

$$\underline{\quad 39 \quad} + \underline{\quad 13 \quad} \times 4 \underline{\quad \quad}$$

5- Bir vazodaki 37 gülün 19 tanesi kırmızı diğerleri sarıdır?

Vazoda kaç tane sarı gül vardır?

- a) 22 b) 56 c) 18

6- Aşağıdaki sayılardan hangisi diğerlerinden küçüktür?

- a) doksan b) yetmiş bir
c) altmış dokuz

7- Aşağıdaki işlemlerden hangisinin sonucu diğerlerinden farklıdır?

- a) $8 \times 4 =$ b) $20 + 12 =$
c) $48 - 15 =$

8- Kemal, pazartesi 25, salı günü 15 sayfa kitap okumuştur. Kemal'in kitabı 50 sayfa olduğuna göre Kemal'in okuyacağı daha kaç sayfa vardır?

- a) 90 b) 40 c) 10

9-

$$8 - 12 - 16 - \triangle - 24 - \triangle - 32$$

Yukarıdaki örüntüde üçgenlerin yerine gelecek olan sayıların toplamı nedir?

- a) 20 b) 28 c) 48

10. Dedem babamdan 28 yaş büyüktür.






Babam 38 yaşında olduğuna göre, dedem kaç yaşındadır?

- a) 66 b) 56 c) 10

11. Bir çıkarma işleminde eksilen 68, fark 29 ise çıkan sayı aşağıdakilerden hangisidir?

- A. 29 B. 39 C. 49

AĞAÇLAR TABLOSU

Muz	
Elma	
Kiraz	
Armut	
Portakal	

Her şekil 3 ağacı göstermektedir.

12- Bahçede kaç tane kiraz ağacı vardır ?

- a) 3 b) 9 c) 6

13- Bahçede en az bulunan armut ağacı kaç tanedir ?

- a) 3 b) 6 c) 1

14-Muz ve kiraz ağaçları toplam kaç tanedir?

- a) 18 b) 6 c) 9

15. Aşağıdaki çıkarma işlemlerinin hangisinin sonucu diğerlerinden daha büyüktür?

- a) $57 - 24 =$ b) $48 - 20 =$
c) $61 - 25 =$

MATEMATİK TESTİ BİTTİ.