









## NESNE GRAFİĞİ OLUŞTURMA

Bir konuyla ilgili araştırma yaparak bilgi toplamaya veri toplama denir.

★ ★ ★ Aşağıdaki nesne grafiğinde sınıfımızdaki öğrencilerin en çok sevdiği meyveler gösterilmiştir. Grafikten yararlanarak soruları yanıtlayınız.

Meyve Türü	Meyve Sayısı
Çilek	
Muz	
Ananas	
Elma	
Portakal	
Armut	








































Her şekil 2 meyveyi göstermektedir.

- ★ En çok sevilen meyve hangisidir? \_\_\_\_\_
- ★ En az sevilen meyve hangisidir? \_\_\_\_\_
- ★ Kaç öğrenci ananas sevmektedir? \_\_\_\_\_
- ★ Kaç öğrenci muz sevmektedir? \_\_\_\_\_
- ★ Hangi meyveyi 2 deste öğrenci sevmektedir? \_\_\_\_\_
- ★ Hangi meyveyi 1 düzine öğrenci sevmektedir? \_\_\_\_\_
- ★ Hangi meyveleri seven öğrencilerin sayısı eşittir? \_\_\_\_\_
- ★ Hangi meyveyi 1 deste öğrenci sevmektedir? \_\_\_\_\_
- ★ Sınıfta kaç öğrenci vardır? \_\_\_\_\_

Ders çalışırken görüp sana inek diyen arkadaşlarına aldırma. Onlara " Bir yıl inek olmak ömür boyu eşek olmaktan iyidir. " atasözünü hatırlat.

\*\*\* Bir çiftlikteki hayvan sayılarını gösteren şekil grafiği aşağıdaki gibidir.

Grafik: -----

Hayvanlar	Hayvan Sayıları
	       
	        
	   
	   
	   
	   

Her şekil 3 varlığı göstermektedir.

1. Çiftlikte en çok hangi hayvan vardır?

A. At B. Koyun C. Keçi

2. Çiftlikteki koyunların sayısı kaç tanedir?

A. 8 B. 24 C. 30

3. Çiftlikteki atlar koyunlardan kaç fazladır?

A. 2 B. 4 C. 6

4. Çiftlikteki at ve koyunların toplamı kaçtır?

A. 30 B. 54 C. 70

5. Bu çiftlikteki 4 ayaklı hayvanların sayısı kaç tanedir?

A. 40 B. 55 C. 75

6. Bu çiftlikte yaşayan iki ayaklı hayvanlar kaç tanedir?

A. 15 B. 27 C. 33

7. Hangi hayvanın sayısı 2 desteye eşittir?

A. Koyun B. At C. Ördek

8. Keçilerin sayısı ineklerin sayısından kaç fazladır?

A. 1 B. 2 C. 3

9. Hangi hayvanın sayısı 1 desteye eşittir?

A. Keçi B. Tavuk C. Ördek

Bilgi yükür, paylaştıkça azalır.



[www.canlarim12345.com](http://www.canlarim12345.com)