

A**A****A****A****A**

TÜRKÇE TESTİ ÇÖZÜMLERİ

1. Soru kökündeki cümlede “hiç değilse” sözü cümleye “başka bir şey olmasa bile”, en azından” anlamı katmıştır. Bu anlam C seçeneğindeki “bari” sözcüğünde vardır.

Yanıt: C

2. “Hafif” sözcüğünün cümledeki anlamı “tartıda az çeken” dir. “Ağır” sözcüğü bu anlama karşıt olarak D seçeneğindeki “ağır valiz” sözünde kullanılmıştır.

Yanıt: D

3. “Durmak” sözcüğünün ilk anlamı “hareket etmeyi bırakmak, yürümez olmak” tır. Bu anlam A seçeneğindeki cümlede vardır. Sözcük B seçeneğinde “çalışmamak”; C’de “varlığını sürdürmek” D’de “çok ilgilenme”, zaman harcamak” anlamında kullanılmıştır.

Yanıt: A

4. Soru kökündeki cümlede “bahçeyi ot basmak” ifadesinde “her yanı sarmak, her tarafı kaplamak” anlamı vardır. Bu anlam C seçeneğindeki cümlede vardır.

Yanıt: C

5. Soru kökündeki altı çizili “doya doya” ve “sindirmek” sözleri somut anlamlı sözcüklerden verilen cümlede soyut anlam kazanmış; “bakmadan, istediği kadar” ve “özümlemek” anlamını kazanarak mecazlaşmıştır.

Yanıt: A

6. A seçeneğindeki cümlede “ne ... ne” sözcükleri “her iki eylemi yapmama”; B’de “hem ... hem” sözcükleriyle “her iki eylemi gerçekleştirme”; C’de “ya ... ya...” sözcükleriyle “her iki eylemden birinci seçme” D’de “kâh ... kâh...” sözcükleriyle de “eylemlerin zaman zaman yapıldığı” anlamı verilmiştir.

Yanıt: C

7. A – B – C seçeneklerinde kullanılan deyimler cümlede anlamlarına uygun kullanılmıştır. D seçeneğindeki “dizlerinin bağı çözülmek” deyimini “korkudan ayakta duramamak” anlamındadır ve cümledeki “sevinçli olma” durumuna uygun değildir.

Yanıt: D

8. B seçeneğindeki cümlede “işini bitirmek için iki günün olması” az bulunmaktadır. Dolayısıyla cümle “azımsama” anlamı taşımaktadır. Cümlelerin “küçümseme” anlamı taşıyabilmesi için “nitelikleri değersiz bulma” yargısı olması gerekir.

Yanıt: B



A

9. A seçeneğinde eylem her durumda yapılabaktır, B’de neden-sonuç ilişkisi; C’de de bir görüş bildirme vardır. D seçeneğinde “yorgunluğu atmak” “iyi bir tatil yapma” koşuluna bağlanmıştır.

Yanıt: D**A**

10. A – C – D seçeneğinde neden-sonuç ilişkisi taşıyan cümleler verilmiştir. B seçeneğinde “yemek yapmak” “karşı tarafı mutlu etmek” amacına yöneliktir.

Yanıt: B

11. A - B - D seçeneklerindeki atasözleri, düşünerek konuşmanın, yerinde ve doğru konuşmanın önemini vurgulamaktadır. C’deki “Tatlı dil, yılanı deliğinden çıkarır.” atasözü ise karşı tarafın hoşuna gidecek, güzel ve etkili konuşmanın önemini vurgulamaktadır.

Yanıt: C

12. Parçadaki kişi mücadeleyi seven, zorluklardan yılmayan, her savaşından deneyim kazanarak çıktığına inanan bir kişi olduğunu söylemelidir. Bu düşüncelere sahip bir kişinin, A - B ve D seçeneklerindeki yargıyı söylemesi doğaldır. C’deki yargıyı - zorluklardan yılan kişilerin anlayışla karşılanması – böyle düşünen bir kişi söylemez.

Yanıt: C**A**

13. Parça, Troya Efsane’sinin ilk kez Anadolulu ozan Homeros tarafından söylendiğini; Troya kentini, savaşları, yaşanan aşkları konu aldığını anlatmaktadır. B - C - D seçenekleri bu bilgileri içermektedir. Parçadan A seçeneğindeki “kaç kez müzikal olarak sahnelendiği” bilgisine ulaşılamaz. Anadolu Ateşi grubunun 2008’den beri efsaneyi sahnelediği belirtilmiş, ancak kaç kez sahnelendiği hakkında bilgi verilmemiştir.

Yanıt: A**A**

14. Paragraf Behçet Necatigil’in şiirlerini, bu şiirlerde hangi ayrıntılara yer verdiğini anlatmaktadır. Düşünce akışı ve bağlama özellikleri dikkate alındığında cümleler “3-4-2-1” şeklinde sıralanmalıdır.

Yanıt: B

15. Bir olay yazısından alınan parçada betimleme yapılırken benzetmeden (ellerim ayaklarım buz gibi, yay gibi gergin); deyimden (iliklerine işlemek, gözlerini yola dikmek); kişisel görüş bildiren cümlelerden yararlanılmıştır. İnsana ait bir özellik başka varlığa yüklenmediği için “kişileştirme” yoktur.

Yanıt: B**A**

16. Parça Galapagos Adaları ve orada yaşayan dev kaplumbağalar hakkında bilgi vermektedir. Buna göre parçadan A - B - D seçeneklerindeki bilgilere ulaşılabilir. Dev kaplumbağaların dünyanın en uzun yaşayan canlıları olduğu parçada yer alıyor ancak “Yalnız George” nun bu özelliği taşıyıp taşımadığı belirtilmiyor.

Yanıt: C

A

17. Eylemsilerin cümlelere kattığı anlamı sorgulayan soruda A'daki "başlayalı", C'deki "başlayınca", D'deki "fırsat bulduğunda" bağ fiilleri, yüklemi "zaman" açısından tamamlamaktadır. B'deki "düşünmeden" eylemsisi ise yüklemi "durum" anlamından tamamlanmaktadır.

Yanıt: B**A**

18. Virgül; B - C - D seçeneklerindeki cümlelerde eş görevli sözcükleri ayırmak için, A'daki cümlede sıralı cümleleri ayırmak için kullanılmıştır.

Yanıt: A

19. A – B – C seçeneklerindeki cümlelerde yazım yanlışı yoktur. D seçeneğindeki cümlede "Atatürk Orman Çiftliği", özel isimlerin yazımına uygun yazılmadığı için yazım yanlışı yapılmıştır.

Yanıt: D

20. Parçada yazar, başaracağına inanan ve bunun için çaba gösteren insanların başarılı olacağına inandığını söylemektedir. İkinci cümle "Hayır" ret kelimesiyle başladığı için ilk cümlede kendi düşüncesine aykırı bir düşüncüyü ifade eden bir cümle bulunmalıdır. Seçeneklere bakıldığında A seçeneğinin parçanın anlattıkları ilgili olmadığı görülür. B ve C seçenekleri ise yazarın düşüncesiyle örtüşür. Ancak D'deki cümle yazarın düşüncesine ters bir düşünce içerdiği için paragrafın ilk cümlesi olmaya uygundur.

Yanıt: D**A**

21. "Basma, danışma, kızartma" sözcükleri ad eylem eki almış olmalarına rağmen eylemsi özelliklerini kaybetmiş, kalıplaşmış ad olmuştur. "Güvenme" sözcüğü "-me" ad eylem eki almış ve eylemsi olarak kullanılmıştır.

Yanıt: C**A**

22. B'de "beklemiş" eylemi duyulan geçmiş zamanla çekimlenmiş, C'de "hatırlamadı" eylemi görülen geçmiş zamanla çekimlenmiş, D'de "gerekiyormuş" eylemi şimdiki zamanın rivayetiyle çekimlenmiştir. A'daki "güvenmektir" sözcüğü, ad eylemin "-dir" eylemini alarak yüklem görevinde kullanılmış şeklidir. Çekimli eylem değildir.

Yanıt: A

23. A) Gizli Özne: O
Toplantıya bütün sınıfı çağırdı.
 Dolaylı Tüm. Belirtili Nesne Yüklem.
- B) Seninle tartışacak zamanım yok.
 Özne Yüklem.
- C) Gizli Özne: Sen
Ona yeni aldığı giysiyi göster..
 Belirtili Nesne Yüklem.
- D) Gizli Özne: Ben
Bu kitapları kardeşime aldım.
 Belirtili Nesne Dolaylı Tüm. Yüklem.

Öge incelemelerine bakıldığı zaman özne ve yüklemden oluşan cümlenin B seçeneğinde olduğu görülür.

Yanıt: B

TÜRKÇE TESTİ BİTTİ.
MATEMATİK TESTİNE GEÇİNİZ.

A

A

A

A

A

MATEMATİK TESTİ ÇÖZÜMLERİ

1. 7 milyar = $7 \cdot 10^9$ dur.

1 yetişkin ağaç günde ortalama 17 kişinin oksijen ihtiyacını karşılıyorsa 7 milyar yetişkin ağaç günde ortalama;

$7 \cdot 10^9 \cdot 17 = 119 \cdot 10^9 = 1,19 \cdot 10^{11}$ kişinin oksijen ihtiyacını karşılar.

Yanıt: C

2. Kırmızı karıncanın ağırlığı, ateş karıncanın ağırlığının

$$\frac{5^{-5}}{25^{-2}} = \frac{5^{-5}}{(5^2)^{-2}} = \frac{5^{-5}}{5^{-4}} = 5^{(-5)-(-4)} = 5^{-1}$$

katıdır.

Yanıt: C

3. $(-2) \cdot (-2) = (-2)^2$

$$(-2) \cdot \left(-\frac{1}{2}\right) = (+1) \neq (-1)^1$$

$$\frac{1}{4} \cdot (-2) = \left(-\frac{1}{2}\right) \neq (2^{-1})$$

$$\frac{1}{4} \cdot \left(-\frac{1}{2}\right) = \left(-\frac{1}{8}\right) = (-2)^{-3}$$

2 tanesi doğrudur.

Yanıt: B

4. Her adımda bir önceki adımdaki parçaları 3 eş parçaya böldüğü için;

1. adımda = 3^1

2. adımda = 3^2

3. adımda = 3^3

⋮

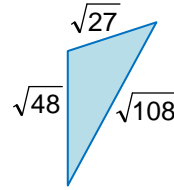
8. adımda = 3^8 parça elde eder.

Yanıt: C

5. $72,5252... < 72,5555... < 72,5656 ...$

Yanıt: C

6. Alanı 48 br^2 olan karenin bir kenarı $\sqrt{48} \text{ br}$,
Alanı 27 br^2 olan karenin bir kenarı $\sqrt{27} \text{ br}$,
Alanı 108 br^2 olan karenin bir kenarı $\sqrt{108} \text{ br}$ dir.



$$\begin{aligned} \text{Çevre} &= \sqrt{27} + \sqrt{48} + \sqrt{108} \\ &\quad \quad \quad \swarrow \quad \quad \swarrow \quad \quad \swarrow \\ &\quad \quad \quad 9.3 \quad 16.3 \quad 36.3 \\ &= 3\sqrt{3} + 4\sqrt{3} + 6\sqrt{3} = 13\sqrt{3} \text{ br} \end{aligned}$$

Yanıt: D

7. Halının bir kenarının uzunluğu hem $\sqrt{75} \text{ m}$ den, hem $\sqrt{52} \text{ m}$ den kısa olmalıdır.
 $7 < \sqrt{52} < 8$ olduğundan halının bir kenarının uzunluğu en çok 7 m dir.

Yanıt: A

A

8. $5\sqrt{7} = \sqrt{25 \cdot 7} = \sqrt{175} \text{ cm},$
 $3\sqrt{11} = \sqrt{9 \cdot 11} = \sqrt{99} \text{ cm},$
 $7\sqrt{3} = \sqrt{49 \cdot 3} = \sqrt{147} \text{ cm},$
 $5\sqrt{7} > 7\sqrt{3} > 3\sqrt{11} > \sqrt{92}$

A**A****Yanıt: B****9.**

I. $-\sqrt{9+4} = -\sqrt{13} \in \mathbb{I}$
 $-\sqrt{13} \notin \mathbb{N}$
 $-\sqrt{13} \notin \mathbb{Z}$
 $-\sqrt{13} \notin \mathbb{Q}$

II. $\sqrt{1,6} + \sqrt{3,6} = \frac{\sqrt{16}}{\sqrt{10}} + \frac{\sqrt{36}}{\sqrt{10}}$
 $= \frac{4}{\sqrt{10}} + \frac{6}{\sqrt{10}} = \frac{10}{\sqrt{10}}$
 $= \frac{10\sqrt{10}}{10} = \sqrt{10}$
 $\sqrt{10} \in \mathbb{I}$
 $\sqrt{10} \notin \mathbb{N}$
 $\sqrt{10} \notin \mathbb{Z}$
 $\sqrt{10} \notin \mathbb{Q}$

III. $\sqrt{2,7} = \sqrt{2\frac{7}{9}} = \sqrt{\frac{25}{9}} = \frac{5}{3} \in \mathbb{Q}$
 $\frac{5}{3} \notin \mathbb{N}, \frac{5}{3} \notin \mathbb{Z}, \frac{5}{3} \notin \mathbb{I}$

İşlemler	$-\sqrt{9+4}$	$\sqrt{1,6} + \sqrt{3,6}$	$\sqrt{2,7}$
Kümeler			
Doğal sayılar		✓ X	
Tam sayılar	✓ X	✓ X	
Rasyonel sayılar	✓ X		✓✓
İrrasyonel sayılar		✓✓	

Yanıt: C

A

A

A

A

A

10'dan 20'ye kadar olan seçmeli soruların çözümleri aşağıdaki gibi hazırlanmıştır.
Aynı numaralı sorularda işlediğiniz konulara göre size uygun olanın çözümünü inceleyiniz.

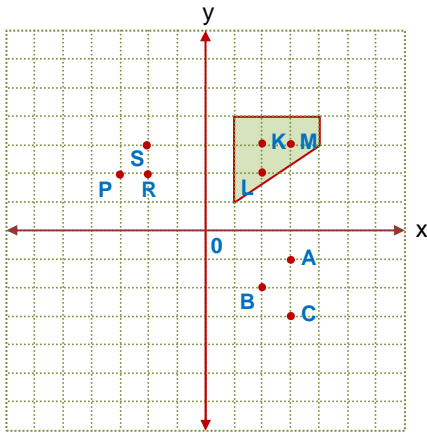
10. 1. adımda = 1
2. adımda = 1 + 2
3. adımda = 1 + 2 + 4
4. adımda = 1 + 2 + 4 + 8
5. adımda = 1 + 2 + 4 + 8 + 16
6. adımda = 1 + 2 + 4 + 8 + 16 + 32 = 63
tane altıgen bulunur.

Yanıt: D

11. 2. şekil çıkarılırsa kalan 3 şekil birbirinin ötelelemeli yansıması olur.

Yanıt: B

12. Şekil aşağıdaki gibi orijin etrafında saat yönünde 180° döndürüldüğünde içerisinde 3 nokta kalır.



Yanıt: B

10. $a - b = 10$ ise $b - a = -10$ dur.

$$\frac{1}{a} - \frac{1}{b} = \frac{b}{ab} - \frac{a}{ab} = \frac{b-a}{ab} = \frac{-10}{4} = -\frac{5}{2}$$

Yanıt: D

11. $a_n = a_1 + (n-1).r$ $r = -3$
 $= 4 + (n-1).(-3)$
 $= -3n + 7$ dir.

- A) $-3n + 7 = -83$ $-3n = -90$ $n = 30$ -83 dizinin 30. terimidir.
B) $-3n + 7 = -58$ $-3n = -65$ $n = \frac{65}{3} \notin \mathbb{Z}^+$ -58 dizinin herhangi bir terimi değildir.
C) $-3n + 7 = -47$ $-3n = -54$ $n = 18$ -47 dizinin 18. terimidir.
D) $-3n + 7 = -38$ $-3n = -45$ $n = 15$ -38 dizinin 15. terimidir.

Yanıt: B

12. $x^2 - y^2 = (x-y).(x+y)$

Şeyma'nın elindeki kart kullanılmaz.

Yanıt: B

A

13. 39-45 yaş aralığındaki 50 bin kişinin de 39 veya 40 yaşında olduğunu kabul edersek, 40 yaşından büyük olup kursa katılan kişi sayısı en az $60 + 80 = 140$ bin olabilir.

Yanıt: D**A**

14. İlkinde yeşil renge sürme olasılığı $= \frac{1}{7}$
İkincide sarı renge sürme olasılığı $= \frac{1}{7}$
 $\frac{1}{7} \cdot \frac{1}{7} = \frac{1}{49}$

Yanıt: A

15. Hangi deneme sınavından daha başarılı olduklarını belirlemek için öncelikle aritmetik ortalamaya bakılır. Dolayısıyla 8-H sınıfı öğrencileri II. ve IV. deneme sınavlarında diğer deneme sınavlarına göre daha başarılıdır.

Bu iki deneme sınavından hangisi daha istikrarlı yani standart sapması düşükse, o deneme daha başarılıdır. Dolayısıyla 8-H sınıfı öğrencileri II. deneme sınavında daha başarılıdır.

Yanıt: B**A**

13. Karenin alanı $x \cdot x = x^2 \text{ cm}^2$ dir.
Kalan sarı bölgenin alanı
 $2x \cdot (x+6) = 2x^2 + 12x \text{ cm}^2$ dir.
Dikdörtgenin alanı
 $x^2 + 2x^2 + 12x = 3x^2 + 12x = 3x(x+4) \text{ cm}^2$ dir.
Dikdörtgenin kısa kenarı $(x+4) \text{ cm}$ ise uzun kenarı $3x \text{ cm}$ dir.

Yanıt: D**A**

14. Futbol takımındaki herkes 34 yaşında olsa;
 $34 \cdot 11 = 374$ (yaşları toplamının maksimum değeri)
Futbol takımındaki herkes 22 yaşında olsa;
 $22 \cdot 11 = 242$ (yaşları toplamının minimum değeri)
Futbolcuların yaşları toplamı maksimum 374 minimum 242 olabilir. 386 olamaz.

Yanıt: A

15. x: Bir gece konaklama ücreti
y: Bir tekne turu ücreti olsun.

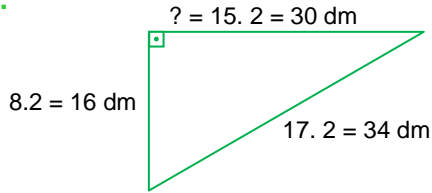
$$\begin{array}{rcl} -3/3x + 2y = 280 & \left. \begin{array}{l} \\ \\ \end{array} \right\} \rightarrow & -9x - 6y = -840 \\ 2/5x + 3y = 450 & & + \quad 10x + 6y = 900 \\ & & \hline & & x = 60 \end{array}$$

Bir otelde sadece iki gece konaklayacak olan Demir, otele $2x = 120$ lira öder.

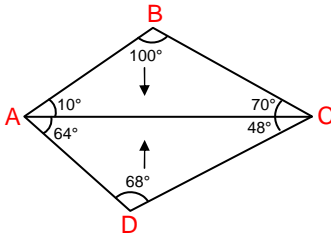
Yanıt: B

A

16. D seçeneğindeki mavi doğru parçası yüksektir.

Yanıt: D**17.**

Eşyalar arasındaki uzaklıkların oluşturduğu üçgenin kenar uzunlukları (8, 15, 17) özel üçgeninin kenar uzunluklarının 2 şer katıdır.

Yanıt: A**18.**

En uzun kenar [AC] dir. Dolayısıyla mavi topun aldığı en uzun mesafe [AC] dir.

Yanıt: A**A**

16. 7. adım

$$5 + 30 + 75 + 100 + 75 + 30 + 5 = 320$$

Yanıt: D**17.**

$$\frac{x^2 + \square x + 3}{2x - 6} = \frac{\overset{x}{x^2} + \overset{-1}{\square} x + \overset{-3}{3}}{2(x - 3)} = \frac{\overbrace{x^2 - 4x + 3}^{(x-1) \cdot (x-3)}}{2(x-3)}$$

$$\square = (-3) + (-1) = (-4) \text{ tür.}$$

Yanıt: A**18.**

$$\frac{3x}{x+3} - \frac{1}{20} = -\frac{9}{x+3}$$

$$\frac{60x}{20x+60} - \frac{x+3}{20x+60} = \frac{-180}{20x+60}$$

$$60x - x - 3 = -180$$

$$59x = -177$$

$$x = -3$$

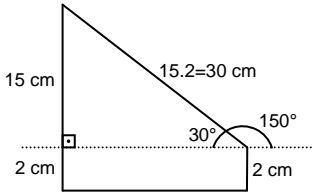
-3 paydayı sıfır yapan değer olduğundan cevap \emptyset dir.

Yanıt: A

A

19. Burak Bey'in cam kenarına oturma olasılığı $\frac{18}{36}$, Duygu Hanım'ın iki bayandan herhangi birinin yanına oturma olasılığı $\frac{2}{35}$ dir.

$$\frac{\frac{1}{18} \cdot \frac{1}{2}}{\frac{1}{36} \cdot \frac{1}{2}} = \frac{1}{35}$$

Yanıt: B**20.**

90°nin karşısındaki kenarın uzunluğu, 30°nin karşısındaki kenarın uzunluğunun 2 katıdır.

Yanıt: C**A****A****A****A****19.**

1. zıplayışında: $\frac{64}{256} \cdot \frac{3}{4} = 192$ cm
2. zıplayışında: $\frac{48}{192} \cdot \frac{3}{4} = 144$ cm
3. zıplayışında: $\frac{36}{144} \cdot \frac{3}{4} = 108$ cm
4. zıplayışında: $\frac{27}{108} \cdot \frac{3}{4} = 81$ cm

Yanıt: B

20. Gömleğin etiket fiyatına ₺ (3x+1) indirim yapıldığında Ayşe'nin ödeyeceği toplam para, $(x^2+8x+7) - (3x+1) = (x^2+5x+6)$ lira olur.

(x+3) taksit yapıldığına göre, her taksit

$$\frac{x^2+5x+6}{x+3} = \frac{(x+3) \cdot (x+2)}{(x+3)} = (x+2) \text{ lira olur.}$$

Yanıt: C

**MATEMATİK TESTİ BİTTİ.
FEN BİLİMLERİ TESTİNE GEÇİNİZ.**

A

A

A

A

A

FEN BİLİMLERİ TESTİ ÇÖZÜMLERİ

1. • Toprağa dikilen dal parçasının büyüüp gelişmesi mitoz bölünmeyle olur. Eşeysiz üretilir.
- İkiye kesilen deniz yıldızı eksik parçalarını mitoz bölünmeyle tamamlar. Eşeysiz üretilir.
- Yumurta ve sperm oluşumu mayoz bölünmeyle olur. Zigotun büyüüp gelişerek civciv oluşturması ise mitoz bölünmeyle olur. Eşeyli üretilir.

Üç olayda da ortak olarak mitoz bölünme görülür.

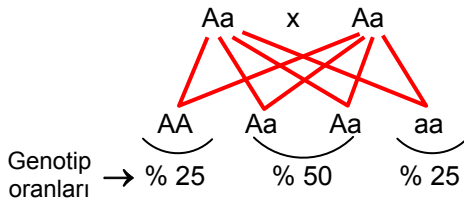
Yanıt: D

2. Mayoz bölünme sonucu oluşan hücrelerin kromozom sayısı ana hücrenin kromozom sayısının yarısıdır. O halde bölünme çeşidi mayoz bölünmedir.

Mayoz bölünme sonucunda oluşan hücrelerin genetik yapısı birbirlerinden farklıdır.

Yanıt: D

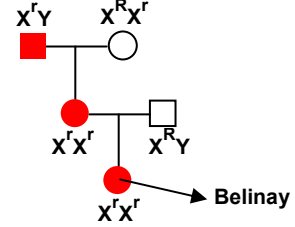
3. Kahverengi gözlü anne ve babanın mavi gözlü çocuklarının olabilmesi için; anne ve babanın melez olması gerekir.



Bu oran tüm çocukların oluşumu için aynıdır.

Yanıt: A

4. D seçeneğindeki soy ağacını incelersek;



Belinay renk körü olduğuna göre babasından X^r kromozomunu almalıdır. Ama bu soy ağacında baba renk körü değildir.

Yanıt: D

5. Bir DNA molekülünde deoksiriboz şekeri sayısı, nükleotit sayısı, fosfat sayısı ve toplam baz sayısı birbirlerine eşittir. Adenin bazı ya da timin bazı sayısı bilinmeden tek başına guanin bazı sayısının bilinmesi ile nükleotit sayısı bulunamaz.

Çünkü

$A = T$

$G = C$ dir.

Yanıt: A

6. ● **Mutasyon** : DNA dilimindeki ve kromozomlardaki değişikliklerdir.

★ **Modifikasyon**: Çevre şartlarının etkisiyle canlılarda ortaya çıkan kalıtsal olmayan değişikliklerdir.

▲ **Adaptasyon** : Canlıların belirli ortam koşullarında yaşama ve üreme şansını artıran kalıtsal özellikler kazanmasıdır.

O halde;

Kaktüsün yapraklarının diken şeklinde olması adaptasyondur. Dawn Sendromlu çocuk oluşması mutasyondur. Bronzlaşmak ise modifikasyondur.

Yanıt: A

A

7. Van kedisinin iki gözünün farklı renkte olması mutasyon sonucunda oluşmuştur.

Yanıt: B

A

8. Sıcak bölge ve soğuk bölge tilkileri ile su ve kara kaplumbağaları, farklı ekosistemlerde yaşayan aynı tür canlılara örnektir.

Kutuplarda yaşayan ayı ve tilkiler ise aynı ekosistemde yaşayan farklı tür canlılara örnektir.

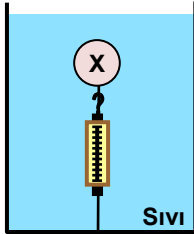
Yanıt: C

9. Sıvıların yoğunlukları arasındaki ilişki $\rho_y > \rho_x > \rho_z$ dir.

L cismi Z sıvısından yoğun olduğu için Z sıvısında batar.

Yanıt: C

10. Dinamometre sıfırdan farklı bir değeri gösterdiğine göre, X cisminin yoğunluğu sıvının yoğunluğundan küçüktür. Bu durumda cisme uygulanan kaldırma kuvveti cismin ağırlığından büyüktür. Cisim serbest bırakıldığında, kaldırma kuvveti yönünde hareket ederek sıvıda yüzecektir.



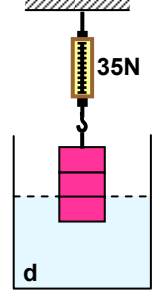
Yanıt: C

A

11.

Kaldırma kuvveti = Cismin havadaki ağırlığı – Cismin sudaki ağırlığı

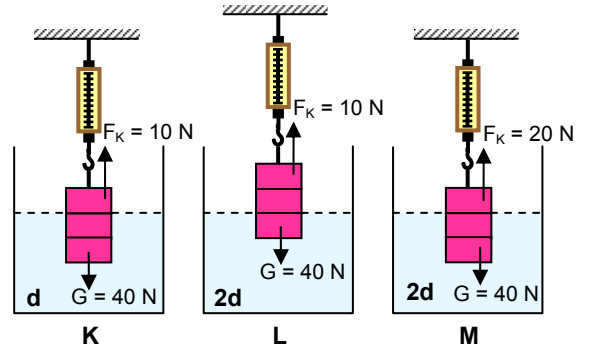
Şekil-2 deki ağırlığı 40 N olan bir bölmesi d yoğunluklu sıvı içindeki cisme $F_K = 5N$ kaldırma kuvveti uygulanmaktadır.



Şekil - 2

Buna göre; Şekil -3 te

K'de $F_K = 10 N$, L'de $F_K = 10 N$ ve M'de $F_K = 20 N$ dur.



Dinametreler;

K da L de M de
 $40 - 10 = 30N$, $40 - 10 = 30N$ $40 - 20 = 20N$

gösterir.

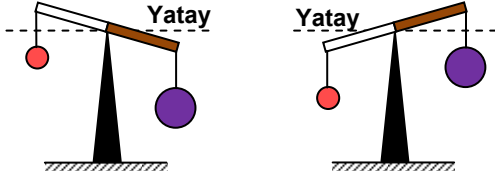
Yanıt: B

A

12. Gazlar da cisimlere kaldırma kuvveti uygular. Gazların uyguladığı kaldırma kuvveti cismin hacmi ve gazın yoğunluğu ile doğru orantılıdır.

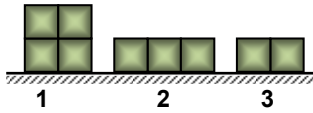
I. düzenekte 2V hacimli cisme daha fazla kaldırma kuvveti uygulanır. Hava boşaltılırsa cisimler kaldırma kuvveti kadar ağırlaşır. O zaman denge 2V hacimli cisim yönünde bozulur.

II. düzeneğe hava pompalanırsa, 2V hacimli cisme daha fazla kaldırma kuvveti uygulanacağı için bu cisim daha çok hafifler, denge V hacimli cisim yönünde bozulur.

**Yanıt: B**

13. Küplerin ağırlıkları G, yüzey alanlarında S olsun.

D seçeneğini ele alırsak;



$$P_1 = \frac{4G}{2S} \quad P_2 = \frac{3G}{3S} \quad P_3 = \frac{2G}{2S}$$

$$P_1 = \frac{2G}{S} \quad P_2 = \frac{G}{S} \quad P_3 = \frac{G}{S}$$

$P_1 > P_2 = P_3$ olur.

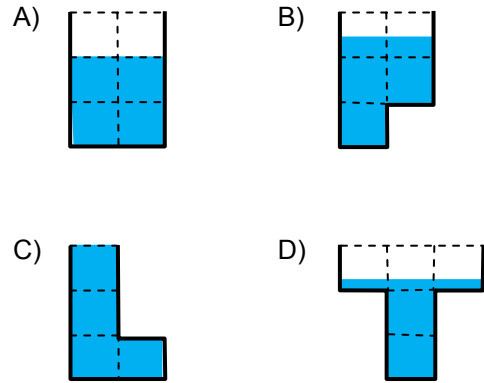
Yanıt: D**A**

14. Tabloya göre, yüzey alanı sabitken ağırlık arttıkça basınçta artar.

Yanıt: B**A****A**

15. 16 bölmeden oluşan kaptaki su dört kaba eşit olarak paylaştırılınca her kaba 4 bölmelik su düşer.

Seçeneklerdeki kaplarda su yükseklikleri aşağıdaki gibi olur.



Sıvı basıncı sıvının yüksekliğine ve yoğunluğuna bağlıdır. C seçeneğindeki kaptaki sıvı yüksekliği en fazla olduğu için kap tabanındaki sıvı basıncı en fazla olur.

Yanıt: C

A

A

A

A

A

- 16.** Şekildeki barometrelerde cam borulardaki sıvıların basıncı açık hava basıncına eşittir.

X barometresinde açık hava basıncı = 2 hd

Y barometresinde açık hava basıncı = 4 hd

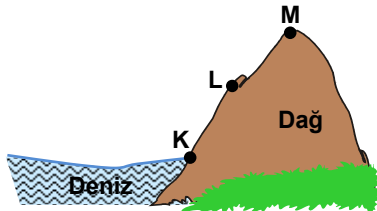
Z barometresinde açık hava basıncı = 3 hd

ile orantılıdır.

$$P_Y > P_Z > P_X \quad \text{dir.}$$

Deniz seviyesinden yükseklere çıkıldıkça açık hava basıncı azalır.

Bu yüzden;

$$K da \rightarrow Y$$
$$L \text{ de } \rightarrow Z$$
$$M \text{ de } \rightarrow X$$


barometresi ile ölçüm yapılmıştır.

Yanıt: A

17. a. Tel ve levha haline getirilebilme özelliği metal ve yarımetallere aittir.
- b. Elektrik ve ısıyı metaller ve yarımetaller iletirler.
- c. Yarımetaller parlak veya mat olabilirler.
- d. Ametaller kırıkandır.

Yanıt: A

18. Periyodik sistemde yeşil renk ile gösterilen bölümde metaller bulunur. Demir, bakır ve gümüş metal, kurşun kalem ucu ametaldir.

Yanıt: B

- 19.

[illegible]

- K alkali metaller grubundadır.
- R'nin enerji katman sayısı en azdır.
- S nin atom numarası en büyüktür.
- P halojenler grubundadır.

Yanıt: D

- 20.** X : Son yörüngesinde 8 e⁻ bulundurulur, kararlıdır. Bileşik oluşturmaz ve elektriği iletmez.
- Y : Son yörüngesinde 2 e⁻ bulundurulur, metaldir. Elektriği iyi iletir.
- Z : Son yörüngesinde 6 e⁻ bulundurulur, ametaldir. Kovalent bağlı bileşik oluşturur.

Yanıt: A

**FEN BİLİMLERİ TESTİ BİTTİ.
SOSYAL BİLGİLER TESTİNE GEÇİNİZ.**

A

A

A

A

A

SOSYAL BİLGİLER TESTİ ÇÖZÜMLERİ

1. Atatürk bu sözüyle bağımsızlığa olan düşkünlüğünü ortaya koymaktadır.

Yanıt: D

2. – Mustafa Kemal ve arkadaşları Harp Okulu'nda iken memleketin kötüye gidişini diğer öğrencilere anlatmak için kendi el yazılarıyla gazete çıkardılar.
- Mustafa Kemal ilk görev yeri olan Şam'daki 30. Süvari Alayı'ndayken II. Abdülhamit'in baskılarına karşı arkadaşlarıyla Vatan ve Hürriyet Cemiyeti'ni kurdu.

Mustafa Kemal'in gençlik yıllarındaki bu gelişmelere dayanarak onun siyasi çalışmalarına Harp Okulu'ndan sonrada devam ettiği anlaşılmaktadır.

Yanıt: C

3. Tarihçi Hamza Eroğlu'nun anlattıkları Balkan Savaşlarının nedenlerini oluşturmaktadır.

Yanıt: D

4. Batı Cephesi'nde Yunanlılara karşı I. İnönü Savaşı'nın kazanılması TBMM'nin içeride ve dışarda itibar kazanmasına Türk halkının TBMM'ye ve düzenli orduya güveninin artmasına neden olmuştur. Bu olayın Türkiye'nin ekonomik kalkınmasına bir katkı sağladığı savunulamaz.

Yanıt: B

5. İstanbul Hükümeti'nin Mustafa Kemal'i 9. Ordu Müfettişi olarak Anadolu'ya göndermekle İtilaf Devletlerinin Karadeniz Bölgesi'ndeki karışıklıkların önlenmesini istemeleri ve O'nu İstanbul'dan uzaklaştırarak kendilerine karşı bir tehlike oluşturmalarını engellemek istemişlerdir.

Milli Mücadeleyi halka mal etmek diye bir düşünceleri yoktur.

Yanıt: A

- 6.

TBMM'nin üzerinde hiçbir gücü tanımaması

Manda ve himayeyi reddetmesi

Yasama, yürütme ve yargı yetkilerini kendisinde toplaması

TBMM'nin bu özellikleri millet egemenliğine dayandığı, kuvvetler birliği ilkesini benimsediği, bağımsızlığı hedeflediğine kanıt olarak gösterilir.

Ancak meclis hükümeti sistemini benimsediğine ulaşamaz.

Yanıt: D

7. Fransa'nın yaptığı görüşmeleri TBMM ile yapması O'nu Türk milletinin gerçek temsilcisi olarak gördüklerini kanıtlar.

Yanıt: C



A

8.



Havza ve Amasya Genelgeleri ile yapılan mitinglerle halkı bilinçlendirmeye çalıştım. Erzurum Kongresi'nde Doğu Anadolu'daki cemiyetleri, Sivas Kongresi'nde de tüm yurttaki Müdafaa-i Hukuk Cemiyetlerini birleştirdim.

Mustafa Kemal'in bu sözündeki amacı Milli Mücadele'yi tek elden yönetmektir.

Yanıt: B

9. Soruda verilen Misakımilli kararlarından ülkenin yönetim şekli ile ilgili bir karar alındığı sonucu çıkarılamaz.

Yanıt: A

10.

Manda ve himaye kabul olunamaz.



Erhan

Erhan'ın söylediği "Manda ve himaye kabul olunamaz." maddesi Erzurum Kongresi'nde kayıtsız şartsız milli bağımsızlığın amaçlandığının kanıtıdır.

Yanıt: B

11. Türkiye ile Fransa arasında yapılan Ankara Antlaşmasına göre Türkiye sınırı Hatay dışında çizilmiş, İskenderun ve Hatay'da özerk bir yönetim kurulmasına karar verilmiştir.

Yanıt: C

A

12.

Bölgesel bir kongre olmasına karşın aldığı kararlar bakımından ulusaldır.



Erzurum Kongresi

Milli Mücadelenin ilk ulusal belgesidir.



Havza Genelgesi

Ulusal Kurtuluş hareketinin amaç, gerekçe ve yöntemi ortaya çıkmıştır.



Amasya Genelgesi

Tablo yukarıdaki gibi düzenlendiğinde yanıt A olur.

Yanıt: A

13. Soruda verilen paragraf incelendiğinde;

- I. Atatürk'ün Osmanlı Hükümeti temsilcisi ile görüşmeler yaptığına
- II. Mebuslar Meclisi'nde alınan Misakımilli kararlarının İtilaf Devletlerinin çıkarlarına aykırı olduğuna
- III. İstanbul Hükümeti'nin, Amasya Görüşmesi'nin bazı maddelerine sadık kalmadığına ulaşılır.

Yanıt: D

14. Milli cemiyetlerin kurulmasında, faaliyetlerinde Padişahın ve İstanbul Hükümeti'nin hiçbir katkısı olmamıştır. Aksine onlara karşı işgalcilerle işbirliği yapmışlardır.

Yanıt: A

A

15. Sevr Antlaşması'nda yer alan "Osmanlı Devleti tüm gelirlerine el konularak kapitülasyonlar aynen devam edecektir." maddesi İtilaf Devletlerinin Osmanlı Devleti üzerindeki emellerini açıkça ortaya koymaktadır.

Yanıt: B**A**

16. İstanbul Hükümeti ve İtilaf Devletlerinin kışkırtmasıyla Orta Anadolu ve Batı Anadolu'nun bir kısmı, kardeşin kardeşle boğuştuğu bir savaş alanı haline sokulmuştur. Türkiye Büyük Millet Meclisi Yunanlara karşı kullanılan dört tümden fazla kuvveti cepheden çekerek bu olayları bastırmak için görevlendirmiştir.

Bu paragraftan "Yunanistan'a karşı Türk ordusunun başarıları TBMM'ye karşı ayaklanmaların çıkmasına neden olmuştur." yorumu yapılamaz.

Yanıt: C

DİN KÜLTÜRÜ VE AHLAK BİLGİSİ DERSİNİ OKUYANLAR AŞAĞIDAKİ SORULARI CEVAPLAYACAKLAR. OKUMAYANLAR BUNUN YERİNE, AYNI NUMARALI SOSYAL BİLGİLER SORULARINI CEVAPLAYACAKLAR.

17.

Gerçekten insan için kendi çalışmasının karşılığından başka bir şey yoktur.

Necm Suresi, 39. ayet

Bu ayete en uygun davranış "emek sarf ederek" kazanmaktır.

Yanıt: B**A**

18. Zekât vermek zengin bir Müslümanın malının bir bölümünü isteyerek bağışlamasıdır. "Her yetişkin zekât verecektir." diye bir şey olmaz.

Yanıt: D**A**

19. Peygamberler Allah tarafından görevlendirilen kutsal varlıklardır. Onların özellikleri arasında gösterirse önem vermedikleri söylenemez.

Yanıt: C**A**

20. Bilim veya ilim, fiziki ve doğal evrenin yapısının ve davranışlarının birtakım yöntemler (deney, düşünce ve/veya gözlemler) aracılığıyla sistematik bir şekilde incelenmesini de kapsayan entelektüel ve pratik çalışmalar bütünüdür.

Bu tanımdan bilimi araştırmacı bir yapıya sahip olduğu görülmektedir.

Yanıt: A

A

A

A

A

A

**DİN KÜLTÜRÜ VE AHLAK BİLGİSİ DERSİNİ
OKUMAYANLAR AŞAĞIDAKİ SOSYAL BİLGİLER
SORULARINI CEVAPLAYACAKLAR. DİN
KÜLTÜRÜ VE AHLAK BİLGİSİ DERSİNİ
OKUYANLAR CEVAPLAMAYACAKLAR.**

17. İnsanların temel ve vazgeçilmez hakkı “yaşama hakkı”dır.

Yanıt: B

18. I. İnsanların duygu ve düşüncelerini serbestçe söyleyebilmesi
II. Yöneticilerin belli bir süre için halk tarafından seçilmesi
III. Temel hak ve hürriyetlerin anayasal güvence altına alınması

bu gelişmelere sahip bir ülkenin demokratik bir yapıda olduğu savunulabilir.

Yanıt: D

19. Amasya Genelgesi'nde bahsedilen Milli kurul Erzurum ve Sivas kongrelerinde Temsil Heyeti olarak hayata geçmiştir.

Yanıt: C

20. Sivil toplum örgütleri basın – yayın organları siyasi partiler vb. kurumlar bir ülkede kamuoyunu doğrudan etkileyebilirler.

Kooperatiflerin ise bu konuda doğrudan etkili olduğu savunulamaz.

Yanıt: A

**SOSYAL BİLGİLER TESTİ BİTTİ.
İNGİLİZCE TESTİNE GEÇİNİZ.**



A

A

A

A

A

İNGİLİZCE TESTİ ÇÖZÜMLERİ

1. Rüyanda kuş görürsen hediye alacaksın anlamına gelir. 'Anlamına gelir' kelimesi '**mean**' olduğu için doğru cevap D seçeneğidir.

Yanıt: D

2. Ebrunun babasının çok parası var. O araba satın almak için yeteri kadar zengin denilmektedir. Boşluğa yeteri kadar zengin anlamına gelen '**rich enough**' kalıbı gelmelidir. Doğru cevap B seçeneğidir.

Yanıt: B

3. Resimde tek başına koşu yapan bir kız resmi olduğu için boşluğa '**jogging alone yesterday morning**' gelmelidir. Doğru cevap A seçeneğidir.

Yanıt: A

4. O şiiirden zevk alır. Kelime yazmaktan ve ezberlemekten hoşlanır. Resimdeki kız şiir okuduğu için boşluğa '**interested in reading**' gelmelidir. Doğru cevap D seçeneğidir.

Yanıt: D

5. Geçen akşam rüyamda sonbahardı. Ağaçtaki yapraklar sarı ve kahverengiydi. Harika manzarayı seyrediyordum. Seçeneklerde verilen ifadeye en uygun 'sonbahar' resmi B seçeneğidir.

Yanıt: B

6. Bad, quick ve slow sıfatları sonlarına -ly ekini alarak düzenli zarf olmuşlardır. Good sıfatı değişerek well zarfına dönüşmüştür. Well zarfı düzensiz bir zarftır. Eşleştirmelerden farklı olan kelime A seçeneğidir.

Yanıt: A

7. Soruda '**Yüzümde sivilce var. Ne yapmalıyım?**' diye sorulmuştur. Yüzünde sivilce olan bir kişiye verilecek en iyi tavsiye Abur cubur yemeği bırakmalısın. '**You should stop eating junk food**' olmalıdır. Doğru cevap D seçeneğidir.

Yanıt: D



A

8. Soruda ‘Olay yerinde ne gördün’ diye sorulmuştur. Soruya en uygun cevap ‘Hiç birsey göremedim. Karanlıktı’. ‘I couldn’t see any thing. It was dark’ olmalıdır. Doğru cevap C seçeneğidir.

Yanıt: C

A

9. Soruda çocuk ‘Ödevime yardım edebilir misin’ diye sormuştur. Annesi de ‘Elbette seve seve’ ‘Certainly I would love to’ diyerek cevap vermelidir. Doğru cevap B seçeneğidir.

Yanıt: B

10. Verilen eylemlerden olayı anlatan 3. cümle ile ‘Two armed robbers tried to steal money from the bank.’ İki silahlı soyguncu bankadan para soymaya çalıştılar diyerek başlarız. Sonra ‘But they didn’t succeed’ Fakat başarılı olamadılar diyerek devam etmeliyiz. Daha sonra ‘Because one of them pressed the alarm button by accident’. Çünkü bir tanesi alarm düğmesine yanlışlıkla bastı diyerek neden soygunu yapamadıklarını belirtmeliyiz. Son olarak da ‘The police soon arrived and arrested both of them’. Çok geçmeden polis geldi ve her ikisini de tutukladı diyerek bitirmeliyiz. Sıralama 3-1-2-4 şeklinde gitmelidir. Doğru cevap A seçeneğidir.

Yanıt: A

A

11. Kaan’ın sorduğu soruya Serdar 29 Ekim 1923’te diyerek cevap vermiştir. Bu cevaba en uygun soru ‘When do we celebrate the Republic Day’. Cumhuriyet Bayramı’nı ne zaman kutluyoruz olmalıdır. Doğru cevap A seçeneğidir.

Yanıt: A

A

12. Satış elemanının sorduğu soruya müşteri Genellikle “large” bazen “medium” diyerek cevap vermiştir. Bu cevaba uygun soru ‘What size are you’ Bedeniniz kaç olmalıdır. Doğru cevap B seçeneğidir.

Yanıt: B

A

13. Sevgi Bana göre İstanbul Avrupa’nın en kalabalık ülkesidir demiştir. Berk’te çünkü neredeyse 15 milyon nüfusu vardır dediği için Sevginin söylediğine katılıyordur. Boşluğa ‘I agree with you’ gelmelidir. Doğru cevap A seçeneğidir.

Yanıt: A



A

14. Kemal'in sorduğu soruya Mehmet 1881 yılında doğdu diyerek cevap vermiştir. Kemal'in sorusu **'When was Atatürk born'** olmalıdır. Doğru cevap D seçeneğidir.

Yanıt: D

A

A

A

A

17. Soru Mesut Özil'i çocukluğunda kim desteklemiştir diye sorulmuştur. Paragrafa baktığımızda cevabı Babası **'His father'** olmalıdır. Doğru cevap D seçeneğidir.

Yanıt: D

15. Mert Atatürk'ün hayatını okudun mu? diye sormuştur. Barış'ta Tabi ki de okudum. Çok ilginç **'Of course I did. It is very interesting'** diyerek cevap vermelidir. Doğru cevap C seçeneğidir.

Yanıt: C

16. Soruyu paragrafa göre cevapladığımızda boşluğa **'Mesut Özil is a talented footballer in Real Madrid'** gelmelidir. Doğru cevap B seçeneğidir.

Yanıt: B

SINAV BİTTİ
YANITLARINIZI KONTROL EDİNİZ.



A

A

A

A

A

ALMANCA TESTİ ÇÖZÜMLERİ

1. Modalverben konusuna göre izin verilmiyor kavramı kullanılmalı.

Yanıt: D

2. Uygun bağlaç seçiminde cümlelerin anlamına ve yapısına bakılır. Anlamına göre obwohl ve nach kelimeleri uygun değildir. Weil ve denn arasında seçim yaparken weil in cümlede fiilin sonda çekimli olması gerekir ama biz cümle dizilişinin normal olduğunu görüyoruz bu yüzden cevap **denn** seçeneğidir.

Yanıt: B

3. Geçmiş zamanda fiillerin çekimleri istenmiştir. Cümleye uygun olan fiiller mektup yazdım schreiben fiili, elbiselerin yıkanması waschen, paket göndermek schicken ve bunların geçmiş zaman halleri olmalıdır.

Yanıt: A

4. Artikelin uygun çekimlenmiş halini bulmak için Auto kelimesinin artikelinin bilinmesi gerekmektedir. Das artikelli kelimemiz mit edatının arkasından dativ halde bulunmalıdır. **Mit dem Auto.**

Yanıt: D

5. Bağlaç seçimi yaparken cümlelerin anlamı ve yapısı önemlidir. Ob-dolayı, obwohl-rağmen, nach-sonra dass- ki, diye, için. Wissen fiilinden sonra da **dass** kullanılabilir.

Yanıt: B

6. Cümle dizilişinde özne ile başlanmalıdır. Niemand- cümle perfekt yapısındadır. Öznen sonra haben ya da sein fiillerinden birinin gelmesi gerektiği bilinmelidir. Çekimlenmiş haliyle hat ile devam eder. Sıfat tamlaması ile dem armen Mann devam eder. En sonda fiil 3. haliyle kullanılır.

Yanıt: A

7. Sıfat tamlamasında das artikelli kelimemiz Brot dan önceki sıfatın -es eski alması gerekir. Cümlede belirli ya da belirsiz artikel olmadığından sıfata -es getirilir.

Yanıt: D

8. Resme göre kişi neler yaptığını anlatmaktadır. Buna uygun sorulacak sorunun geçmiş zaman halde olması gerekir. A seçeneği olmaz. B seçeneği ne buldu anlamındadır olmaz. D seçeneğinde Automarkt' dan bahsedilmektedir cevapla alakası olmayan bir sorudur. Cevap **C** seçeneğindeki ne yaptın sorusu olmalıdır.

Yanıt: C



A

9. Metnin doğru anlaşılmış olması ve seçenekteki kelimelerin anlamının bilinmesi gerekir. Sahip oldukları arasında uçak yani **B** seçeneği yoktur.

Yanıt: B

A

10. Yine aynı metne göre sorulan sorunun çözümü için sorunun anlaşılması gerekir. Mesleğinin ne olduğu sorulmaktadır. Seçeneklerde sadece **A** da bir meslek adı verilmiştir

Yanıt: A

11. Geçmiş yapıdaki cümlede uygun fiili bulmak için Buch kelimesi bize yardımcı olmaktadır. Fiillerden lesen okumak kitap okumak fiilinin geçmiş zaman hali **las** doğru cevap olmalıdır.

Yanıt: A

A

12. Resme göre kedinin nerede olduğu sorulmaktadır. A seçeneğinde geçen Bett-yatak C seçeneğindeki Wand-duvar ve D seçeneğindeki Tür-kapı zaten resimde görülmemektedir. Altında anlamına gelen **unter** kelimesi doğru cevaptır.

Yanıt: B

A

13. Uygun soru sözcüğünü bulmak için verilen cevaba bakmak gerekir. Cevapta postaneye gidiyorum denilmektedir. Nereye anlamına gelen **wohin?** Soru kelimesi doğru cevaptır.

Yanıt: A

A

14. Cümleye anlamca en yakın olan seçeneği bulmak için cümlelerin doğru anlaşılması gerekmektedir. Çantanın Peter' a ait olduğu söylenmektedir. Buna göre seçeneklere bakılırsa A seçeneğinde meine-benim B seçeneğinde mir –bana, C seçeneğinde sahiplik eki eksikliği olduğundan doğru cevap **D** şıkkıdır.

Yanıt: D

A

15. Kelime bilgisi ölçülmektedir. Resimde ki kurşun kalemın almanca karşılığı C seçeneğinde verilmiştir.

Yanıt: C

A

A

A

A

17. Kelime bilgisi gerektiren soruda A seçeneğinde Kunsterziehung: sanat eğitimi, B seçeneğinde Wirtschaftslehre: ekonomi bilgisi, C Rechtslehre: hukuk eğitimi kelimelerinin hepsi eğitim, bilgi konularındadır. Ama D seçeneğinde yer alan Erwachsene: yetişkin kelimesi bu grubun dışında kalır ve doğru cevaptır.

Yanıt: D

16. Geçmiş zamandaki cümlelerdeki boşlukları doldurmak için birinci boşlukta yer alan pasiv yapıya dikkat edilmelidir. Doğmak fiili **geboren** şeklinde kullanılmalıdır. Sein fiilinin geçmiş yapısı **war** ikinci boşluğa gelen uygun kelimedir. 3.boşlukta ise dişi tekil şahsa göre **seine** olmalıdır.

Yanıt: B

SINAV BİTTİ
YANITLARINIZI KONTROL EDİNİZ.



A**A****A****A****A**

FRANSIZCA TESTİ ÇÖZÜMLERİ

1. Noel yani yeni yıl için ihtiyaç olan büyük bir çam ağacıdır.

Yanıt: D

2. Martin öğretmenini her zaman dinler bu yüzden çalışandır.

Yanıt: B

3. Eğer çok param olsaydı, tüm dünyadaki mücevherleri satın alırdım.

Yanıt: A

4. Kilo almak anlamında olan “prendre des kilos” 1.tekil şahısta “prends” olarak çekilir.

Yanıt: D

5. “Tembel misin?” sorusuna cevap hayır hep iyi notlar alırdım.

Yanıt: B

6. “Dersini iyi öğrendin mi?” sorusuna cevap “onu iyi öğrendim.” dir.

Yanıt: A

7. Ankara Türkiye’nin başkentidir.

Yanıt: D

8. Resme göre Paul kısa boylu olduğu için rafa dokunamaz.

Yanıt: C



A

9. Çift katlı otobüslere Londra’da rastlanır.

Yanıt: B

A

10. Resimdeki Pierre bir hırsızdır.

Yanıt: A

11. Resimdeki Ali ve büyükbabası satranç oynuyorlar.

Yanıt: A

12. Resimdeki Ayşe’nin başı ağrıyor.

Yanıt: B

13. Resimdeki Alice kısa saçlı güzel bir sarışındır.

Yanıt: A

14. Farklı olan sözcük ne anlamına gelen “**Quoi**” dir. Diğerleri “**Hangi**” anlamına gelmektedir.

Yanıt: D

A

15. II. “**Juin**” haziran ayı anlamına gelir. Önüne “**au**” eki yerine “**en**” eki gelmesi zorunludur.

IV. Maria mutlu bir kadındır. “**Heureux**” mutlu sözcüğü erkekte yazılır. Ama doğrusu Maria dişi olduğu için “**heureuse**” dir.

Yanıt: C

16. İlgilenmek eylemi anlamına gelen “**s’interess**” devamında “**de**” yerine “**a**” eki almak zorundadır.

Yanıt: B

17. Catherine okul otobüsünden indi cümlesinde “**descendre**” eylemi inmek anlamındadır. Bu cümlede geçmiş zamanda ve dişi konumda çekildiği için yardımcı eylem olarak “**etre**” olmak fiili kullanıldığı için indi anlamına gelen “**descendu**” sözcüğü ek olarak “**e**” alır.

Yanıt: D

SINAV BİTTİ
YANITLARINIZI KONTROL EDİNİZ.

