



Aşağıdaki resimde gördüğünüz meslekleri ve ne yaptıklarını yazınız.




Tiyatrocu:



Aşağıdaki problemleri şekillerden de yararlanarak çözünüz. Mutlaka işlem yapınız. Problemin sonunda hangi uzunluk ölçüsünün istendiğine dikkat ediniz.


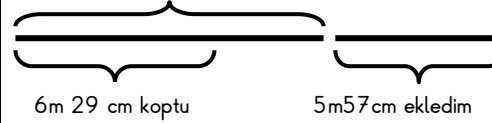
1) Kayu'nun boyunun uzunluğu 1 m 28 cm'dir. Pepe, Kayu'dan 19 cm daha kısadır. Pepe'nin boyunun uzunluğu kaç cm'dir?

19 cm
kısadır


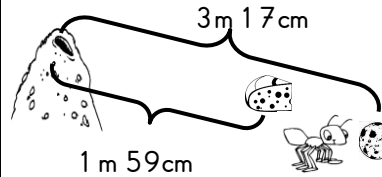


2) Uçurtmanın ipi 9 m 81 cm'iydi. Rüzgar hızlı esince 6 m 29 cm'si koptu. Evde 5 m 57 cm ip buldum ve ipime ekledim. Uçurtmanın ipi şimdi kaç metredir?

İp 9 m 81 cm'iydi

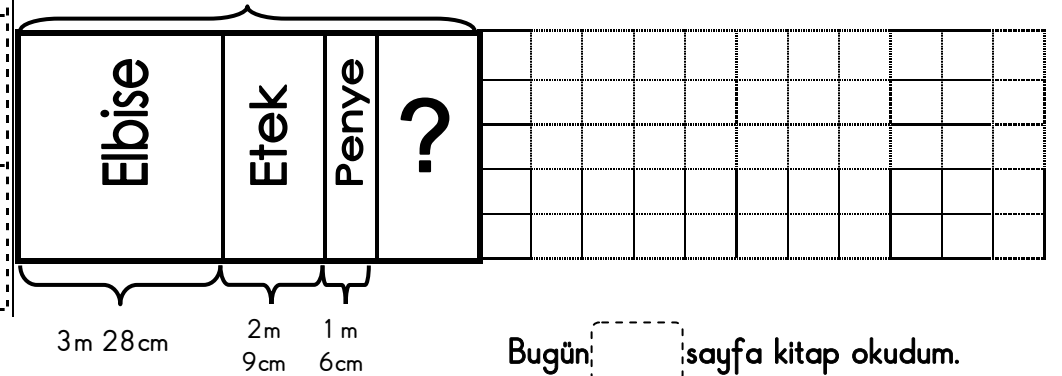


3) Karıncamız Çalışkan, yuvasından çıkarak 3 m 17 cm ilerliyor. Bir bisküvi parçası bulup yuvasına geri getiriyor. Tekrar yuvasından çıkıp 1 m 59 cm ileride bir peynir parçası buluyor ve yuvasına taşıyor. Çalışkan o gün kaç cm yol yürümüştür?



4) Annem pazardan 8 m 56 cm kumaş aldı. 3 m 28 cm'si ile elbise, 2 m 9 cm ile etek ve 1 m 6 cm'si ile penye dikti. Geriye kaç m kumaş kaldı?

8 m 56 cm



Bugün: sayfa kitap okudum.