







## KONU TARAMA TESTİ


### UZUNLUKLARI ÖLÇME



1.  Bir uçurtmanın ipi 35 metredir.  
9 yarım metre ip daha ekledim. İpin uzunluğu ne oldu?
- A) 39 m 50 cm      B) 38 m 50 cm      C) 40 m


2.  2 metre kumaşın, 1 65 cm si satılıyor.  
Geriye kalan kumaş kaç santimetredir?
- A) 25 cm      B) 35 cm      C) 45 m

3. Pınar'ın boyunun uzunluğu 1 m 27 cm'dir. Gizem, Pınar'dan 18 cm uzundur.  
İkisinin boylarının uzunlukları toplamı ne kadardır?
- A) 2 m 72 cm      B) 2 m 82 cm      C) 2 m 92 cm

4.  Bir bilet kuyruğunda Mehmet gişeden 4 m 73 cm uzaklıkta, Dilek ise 3 m 84 cm uzunluktadır.  
Buna göre Mehmet ile Dilek arasındaki uzunluk kaç santimetredir?
- A) 98 cm      B) 89 cm      C) 1 00 cm

5. Aşağıdakilerden hangisi en uzundur?
- A) 50 cm      B) 5 m      C) 1 00 cm

6. Aşağıdaki uzunluklardan hangisi en kısadır?
- A) 1 m      B) 5 m      C) 40 cm


7.  2 m 13 cm'lik ağaç 54 cm'lik ağaçtan kaç santimetre daha uzundur?
- A) 1 m 50 cm  
B) 1 m 55 cm  
C) 1 m 59 cm

o c a k 5 5 6 7

J. Deak

8. Bir arsanın etrafına 7 m ara ile fidan dikilmiştir.  
Toplam olarak 88 fidan dikildiğine göre yolun uzunluğu kaç metredir?
- A) 600 m      B) 616 m      C) 716 m

9. 2 metresi 10 TL olan kuşağın 6 metresi kaç türk lirasıdır?
- A) 25 TL      B) 30 TL      C) 35 TL

10.  3 metresi 72 TL olan perdenin metresi ne kadardır?
- A) 24 TL  
B) 30 TL  
C) 44 TL