

TÜRKÇE GÜNLÜK ÖDEV

ADI SOYADI:

17 / 12 / 2010

Konu Tarama Testi

"Hızlı koşunca soluk alıp vermeleri hızlanıyor.

"Soluk renkli kıyafetlerden hoşlanmıyorum."

1. Yukarıdaki cümlelerde altı çizili sözcükler anlamları bakımından nasıl sözcüklerdir?

- A) Eş sesli B) Eş anlamlı C) Zıt anlamlı

2. Aşağıdaki sözcüklerden hangisinin eş seslisi (sesteş) yoktur?

- A) tuz B) sal C) taş

3. "asma - dost - bel - koş - aç - sal"

Yukarıdaki sözcüklerden kaç tanesi eş seslidir?

- A) 2 B) 4 C) 5

4. Aşağıdaki sözcüklerden hangisi anlamca diğerinden farklıdır?

- A) mor B) sarı C) renk

5. Aşağıdaki sözcük çiftlerinden hangisi eş anlamlıdır?

- A) üretim - tüketim B) ilk - son C) teklif - öneri

6. Aşağıdakilerden hangisi anlam ilişkisi yönünden diğerlerinden farklıdır?

- A) saklı - gizli B) acemi - usta C) hüzn - keder

7. "Dal" sözcüğü, aşağıdaki cümlelerin hangisinde farklı anlamda kullanılmıştır?

- A) Bahçemizdeki büyük ağacın dalına salıncak kurduk.
B) Dedem, meyveleri toplarken dalları kırmamamızı söyledi.
C) Kitap okurken öyle dalmıştı ki beni bile farketmedi.

8. "Yazılışları ve okunuşları farklı, anlamları aynı olan sözcükleredenir." cümlesinde noktalı yere aşağıdakilerden hangisi gelmelidir?

- A) eş anlamlı sözcükler B) zıt anlamlı sözcükler C) eş sesli sözcükler

9. "Sene" sözcüğünün eş anlamlısı hangi cümlede kullanılmıştır?

- A) Bu ay okulumuzda bilgi yarışması yapılacak.
B) Kardeşim önümüzdeki yıl okula başlayacak.
C) Her mevsimin farklı güzellikleri vardır.

10. Aşağıdaki eşleştirmelerden hangisi yanlıştır?

- A) Doğa - tabiat → eş anlamlı
- B) İssiz - تنها → zıt anlamlı
- C) Evli - bekar → zıt anlamlı

11. Aşağıdaki cümlelerden hangisinde zıt anlamlı sözcükler bir arada kullanılmıştır?

- A) İşçiler sabah akşam durmadan çalışıyorlar.
- B) Okula geç kalınca koşa koşa gittim.
- C) Konsere çoluk çocuk herkes gelmişti.

12. "Irak" sözcüğünün zıt anlamlısı aşağıdakilerden hangisidir?

- A) uzak
- B) yakın
- C) yavaş

13. "Vatan" sözcüğünün anlamdaşı aşağıdakilerden hangisidir?

- A) yurt
- B) millet
- C) vatandaş

14. Aşağıdaki cümlelerden hangisinin sonunda yanlış noktalama işareti kullanılmıştır?

- A) Ördüğüm kazağı kaç aydır bitiremedim?
- B) Kaç defa sorduysam cevap vermedi.
- C) Bugün sınıfta kaç problem çözdünüz?

15. Aşağıdaki cümlelerden hangisinin sonuna ünlem işareti (!) konulmalıdır?

- A) Seni gördüğüme çok sevindim ()
- B) Yeter artık susun ()
- C) Neden bu kadar korktun ()

16. Aşağıdaki tarihlerden hangisi doğru yazılmıştır?

- A) 28.Ekim.2009
- B) 10-08-2006
- C) 16.04.2008

17. Aşağıdakilerden hangisinde nokta işareti kullanılamaz?

- A) Tamamlanmamış cümlelerin sonunda
- B) Sayılardan sonra sıra bildirmek için
- C) Bazı kısaltmaların sonunda

18. Aşağıdaki cümlelerin hangisinde virgül yanlış kullanılmıştır?

- A) Evin salonunu, odasını, mutfağını boyattık.
- B) Pencerenin önünde dalgın, dalgın dışarıyı izliyordu.
- C) Sahilin en temiz, en güvenilir oteline gittik.

MATEMATİK GÜNLÜK ÖDEV

ADI SOYADI: 18 / 12 / 2010

Konu Tarama Testi

1. Aşağıdaki cisimlerden hangisinin köşesi yoktur?

- A) Üçgen prizma
- B) Küre
- C) Dikdörtgen prizma

2. Silindirin yan yüzeyinin şekil olarak adı nedir?

- A) Daire
- B) Kare
- C) Dikdörtgen

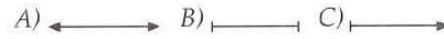
3. Aşağıdaki geometrik cisimlerden hangisinin 6 yüzeyi, 8 köşesi ve 12 ayrıtı vardır?

- A) Daire
- B) Üçgen prizma
- C) Dikdörtgenler prizması


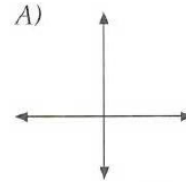
4. Küpün kaç köşesi vardır?

- A) 6
- B) 8
- C) 12

5. Aşağıdakilerden hangisi doğru modelinin gösterimidir?




6. Aşağıdaki çizimlerden hangisi birbirine paralel durumdadır?



7. Birbirine paralel doğrular için aşağıdakilerden hangisi doğrudur?

- A) Paralel doğrular kesişmezler.
- B) Paralel doğrular belli bir yerde kesişirler.
- C) Paralel doğrular birbirine dik indiği için kesişir.


8. Alper'in ıtalı uurtma yapmak iin aldığı ıtaların ekli aağıdaki modellerden hangisidir?



- A) Doğru
- B) Doğru parası
- C) Işın

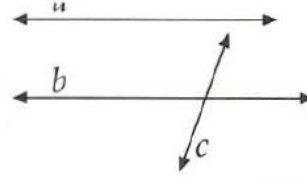
9. Noktanın kullandığı yerler aağıdakilerden hangisinde doğru verilmiştir?

- A) Soru cümlelerinin sonunda nokta kullanır.
- B) Sıra bildiren sayıların sonunda nokta kullanır.
- C) Eş görevli sözcüklerin arasında nokta kullanılır.



10. Yukarıdaki karelerin her köşesine "nokta" koyarsak ekil üzerinde kaç nokta olur?

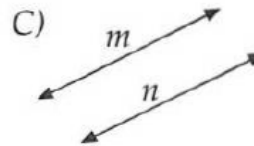
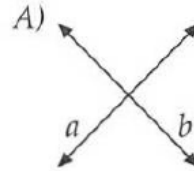
- A) 11
- B) 13
- C) 12



11. Yukarıdaki ekle göre aağıdakilerden hangileri yanlıştır?

- A) a, b doğruları paraleldir.
- B) b, c doğruları birbirine diktir.
- C) a, b doğruları birbirine diktir.

12. Aağıdakilerden hangisi paralel doğrulardır?



HAYAT BİLGİSİ GÜNLÜK ÖDEV

ADI SOYADI: 19 / 12 / 2010

Konu Tarama Testi

1. Katıldığımız kulüp çalışmalarında nasıl davranmalıyız?
- A) Sorumluluğumuzu bilip yaratıcı fikirler üretmeliyiz
- B) Zorunlu kalmadıkça katılmayabiliriz.
- C) Sadece arkadaşlarımızı dinlemeliyiz.

2. Aşağıdakilerden hangisi kimsesizlere yardım etmek amacıyla yapılan bir etkinliktir?
- A) Bahar bayramı
- B) Kermes
- C) Okuma bayramı

3. Okulu güzelleştirmek amacıyla aşağıdaki etkinliklerden hangisini yapabiliriz?
- A) Bilgi yarışması
- B) Temizlik kampanyası
- C) Anıtkabir'e gezi

4. Aşağıdakilerden hangisi kimsesiz çocukları ziyaret edebileceğimiz yerdir?
- A) Postahane
- B) Çocuk Esirgeme Kurumu
- C) Huzurevi

5. Grup çalışmalarının verimli olabilmesi için elemanlar aşağıdaki davranışlardan hangisine uymalıdır?
- A) Çalışmalarda sorun çıkarmak
- B) Değişik fikirlere karşı çıkmak
- C) Liderin verdiği görevleri yerine getirmek

6. Küçülmüş kıyafetlerinizi, oynamadığınız oyuncakları değerlendirebilmek için, aşağıdakilerden hangisi etkili bir fikir olabilir?
- A) Bunların Çocuk Esirgeme Kurumuna verilmesi
- B) Darülaceze'ye verilmesi
- C) Güçsüzler yurduna verilmesi

7. Grup çalışmaları ile ilgili olarak aşağıdaki ifadelerden hangisi yanlıştır?
- A) Grup çalışmasında bulunmak sorumluluk ister.
- B) Grubun başarısı için lider çok önemlidir.
- C) Grup çalışmalarında bencil davranılması doğaldır.

8. Bir proje çalışmasında ilk olarak hangisi yapılmalıdır?
- A) Amaç belirlenmeli
- B) Görev paylaşılmalı
- C) Çalışma değerlendirilmeli

<p>9. Temiz bir çevreye sahip olmayan insanlar için aşağıdaki tehlikelerden hangisi kaçınılmazdır?</p> <p>A) Toprak kayması B) Sağlığın bozulması C) Çığ düşmesi</p> <p>10. Aşağıdakilerden hangisi iyi bir liderin özelliklerindendir?</p> <p>A) Arkadaşlarını aynı amaç altında toplayabilme, B) Grup üyeleri arasında ayrım yapma C) Yeni fikirlere açık olmama</p> <p>11. Aşağıdaki ifadelerden kaç tanesi doğrudur?</p> <p>1) Sağlıklı bir çevre için yeşil alanları korumalıyız. 2) Hava kirliliği bir çevre sorunudur. 3) Gürültü çevre kirliliği değildir. 4) Cam, plastik ve kâğıt gibi geri dönüşümlü atıkları ait oldukları çöp kutularına atmalıyız.</p> <p>A) 1, 2, ve 3 B) 2, 3 ve 4 C) 1, 2 ve 4</p> <p>12. Aşağıdakilerden hangisi temiz çevre ile ilgili slogan olabilir?</p> <p>A) Ağaç yaş iken eğilir. B) Çevreni temiz tut, yeşili koru! C) Bindığın dalı kesme!</p>	<p>13. Okulumuzda yapılan temizlik kampanyasına katılmanın amacı nedir?</p> <p>A) Öğretmenin gözüne hoş görünmek B) Okulda iş yapmak C) Çevre bilinci kazanmak</p> <p>14. Aşağıdakilerden hangisi doğal afet değildir?</p> <p>A) Trafik kazası B) Deprem C) Sel</p> <p>15. Aşağıdakilerden hangisi sınıf tahliye çantasında ihtiyaçların dışında konulması gerektirir?</p> <p>A) Arkadaşlarının resmi B) Müdürün resmi C) Aile resmi</p>
---	--