

### GEOMETRİ

### DÜZLEMSEL ŞEKİLLER

### ETKİNLİK 2

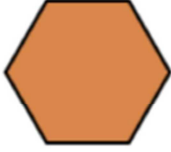
1. Aşağıdaki düzlemsel şekillerin adlarını yazınız.



.....



.....



.....



.....



.....



.....



.....

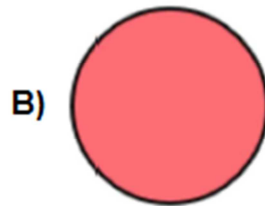


.....

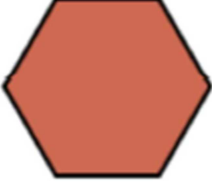
2. Aşağıdaki şekillerde açık şekilleri işaretleyiz.



3. Aşağıdaki şekillerden hangisi dairedir?



4. Aşağıdaki düzlemsel şeklin kaç kenarı vardır?



A) 3

B) 4

C) 5

D) 6

5. Aşağıdaki şekillerden hangisinin kenarları daha fazladır?

A)



B)




C)



6. Aşağıdakilerden hangisi yandaki düzlemsel şeklin benzeridir?



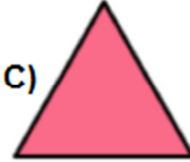
A)



B)



C)

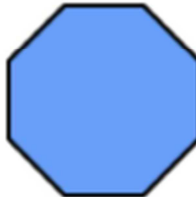


7. Aşağıdaki düzlemsel şekillerin hangisi üçgendir?


A)



B)



C)



### GEOMETRİ

### DÜZLEMSEL ŞEKİLLER

### ETKİNLİK 3

1. Yandaki düzlemsel şeklin benzeri aşağıdakilerden hangisidir?



A)



B)




C)



2. Aşağıdaki düzlemsel şekiller arasından dört kenarlı olanlarını işaretleyiniz.



3. Aşağıdaki düzlemsel şekillerden hangisinin kenarı en azdır?



4. Aşağıdaki düzlemsel şekillerden hangisinin karşılıklı kenar uzunlukları eşittir?

A)



B)



C)



5. Aşağıdaki düzlemsel şekillerden hangisinin tüm kenar uzunlukları eşit olamaz?

A) Dikdörtgen

B) Kare

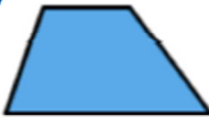
C) düzgün beşgen

6. Aşağıdaki şekillerin köşe sayılarını yazınız.

Köşe Sayısı						

7. Aşağıdaki düzlemsel şekillerden hangisinin köşe sayısı bakımından diğerlerinden farklıdır?

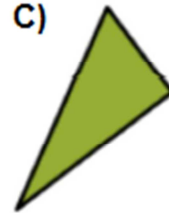
A)



B)

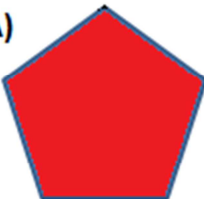


C)



8. Aşağıdaki düzlemsel şekillerden hangisinde köşe yoktur?

A)



B)



C)

