


Adım Soyadım:


1. Şekilleri sayalım kaç tane olduklarını bulalım ve karşısındaki uygun sayı ile eşleştirelim.



13



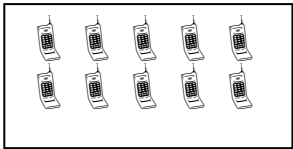
14



12



10



15

19

2. Kutuları sayalım kaç tane olduklarını yazalım. Onluk ve birliklerine ayıralım.




13 = 1 onluk 3 birlik




... = ... onluk ... birlik



... = ... onluk ... birlik



... = ... onluk ... birlik





... = ... onluk ... birlik




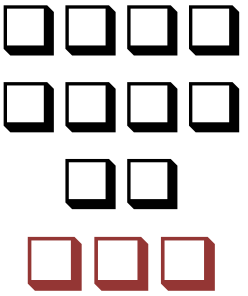
... = ... onluk ... birlik


3. Onluk ve birlikleri say. Boşlukları tamamla.


	
10	2
12	

	
...	...
...	

	
...	...
...	

	
...	...
...	

	
...	...
...	

	
...	...
...	

4. Örneği inceleyerek diğerlerini siz yapınız.

16 = 1 onluk 6 birlik

10 = ... onluk ... birlik

18 = ... onluk ... birlik

11 = ... onluk ... birlik

14 = ... onluk ... birlik

