

.....İlkokulu 1/... Sınıfı
Onluk ve Birlik Çalışma Kâğıdı - 3

Adım Soyadım:

1. Aşağıdaki şekilleri say. Kaç onluk ve kaç birlikten oluştuğunu bul. Boşlukları tamamla.

			= ..
..	..onluk	..birlik	

			= ..
..	..onluk	..birlik	

			= ..
..	...onluk	..birlik	

2. Şekilleri say. Boşlukları tamamla.

	...onluk ...birlik
--	-----------------------	-------


EEEEEEEEEEE EEEE	...onluk ...birlik
---------------------	-----------------------	-------

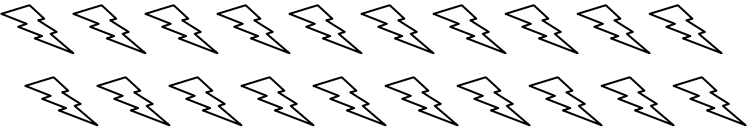
A A A A A A A A A A A	...onluk ...birlik
--------------------------	-----------------------	-------


	...onluk ...birlik
--	-----------------------	-------

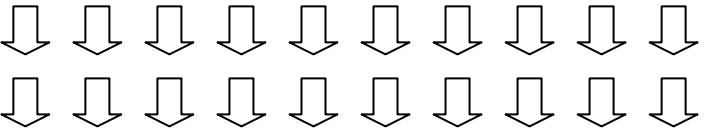
	...onluk ...birlik
--	-----------------------	-------

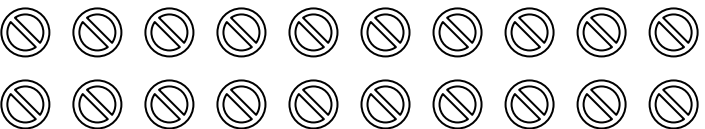
3. Aşağıdaki tabloda verilen nesneleri baştaki sayı kadar boy.

19	
----	---

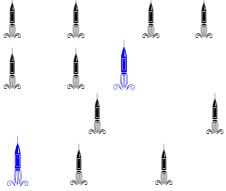

13	
----	---



16	
----	---



12	
----	--

15	
----	---

4. Onluk ve birlikleri say boşlukları tamamla.

	
10	2
12	

	
..	.
..	

	
..	.
..	

5. Sayıları takip et, noktaları birleştir. Resmi tamamla.

