

ADI :

SOYADI :

OKUL NO :

2012-2013 EĞİTİM- ÖĞRETİM YILI KADİR
REZAN HAS KIZ YATILI BÖLGE ORTAOKULU
7. SINIF MATEMATİK DERSİ 1. DÖNEM
1.YAZILI SINAV SORULARI

ÖĞRENCİNİN NOTU

YAZIYLA :

RAKAMLA:

SORULAR

1.SORU: Aşağıdaki işlemleri yapınız

a) $(-2) \cdot (-5) =$ b) $(-12) : (4) =$

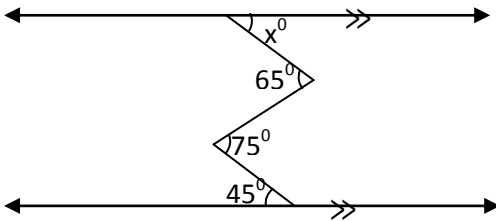
2.SORU: Aşağıdaki sayıların rasyonel karşılığını bulunuz.

a) $0,2\overline{32} =$ b) $0,\overline{3} =$

3.SORU: Aşağıdaki devirli ondalık karşılığını bulunuz.

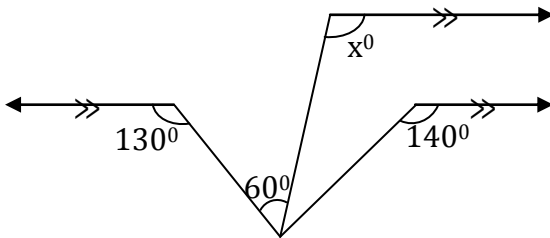
a) $\frac{11}{3} =$ b) $\frac{5}{12} =$

4.SORU:



Yukarıdaki şekle göre x açısı kaç derecedir?

5.SORU:

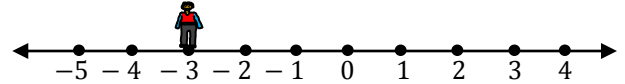


Yukarıda verilenlere göre; x kaç derecedir?

6.SORU: Aşağıdaki işlemlerin yapınız.

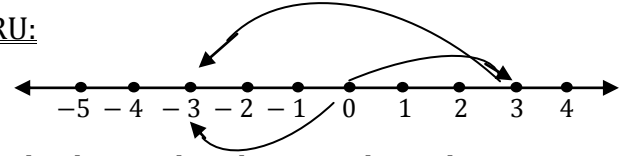
a) $(-2) + (-5) =$ b) $(-12) - (-4) =$

7.SORU:



Ali bulunduğu noktadan 6 br sağa 3 br sola giderse hangi noktaya gelir? Çizerek gösteriniz.

8.SORU:



Yukarıda ok işaretleriyle gösterilmiş olan işlemin matematiksel (cebirsel) olarak yazınız.

9.SORU: A _____ B

A B doğru parçasına bir tane orta dikme inşa ediniz.

10.SORU: $[(-2) \cdot (-5)] + (-3 + 1) = ?$

İşleminin sonucu kaçtır?

Her soru 10 puandır. Sınav süresi 40 dakikadır.

Murat BİLGİN

Matematik Öğretmeni