


1. Buluş yapılmasında aşağıdakilerden hangisinin etkisi olmuştur?

- A) insanların ihtiyaçları
- B) Ulaşımda zorluk çekilmesi
- C) Teknolojik gelişmeler
- D) Ticaretin oluşması


2. Kumun cama dönüşmesi hangi buluş sonucu olmuştur?

- A) yazı
- B) tekerlek
- C) ateş
- D) matbaa

3. Aşağıdaki icat ya da buluşlardan hangisi ulaşım alanında gelişmeyi sağlamıştır?



A) kâğıt- kalem



B) ateş



C) tekerlek



D) yazı

4. Buluşlar ve teknolojik gelişmelerle ilgili aşağıdaki ifadelerden hangisi doğrudur?

- A) Teknolojik gelişmeler buluşlardan önce olur.
- B) Buluşlar, teknolojik gelişmelerin oluşumunu sağlar.
- C) Her teknolojik gelişme ateşin bulunmasıyla ilgilidir.
- D) Teknolojik gelişmeler olmadan buluş yapılamaz.

5. Bilim adamlarının edindikleri bilgileri objektif olarak yorumlaması onların hangi özelliğe sahip olduğunu gösterir?

- A) meraklı
- B) tarafsız
- C) bilgili
- D) şüpheli



6. "Sabah çalar saatin sesiyle uyandım. Kendime bir tost yaptım. Otobüse binerek okula gittim." Yukarıda anlatılanlar aşağıdakilerden hangisiyle ilişkilidir?

- A) Teknolojik gelişmelerin yaşamımızı etkilemesiyle
- B) Güvenliğimiz için teknolojik ürün kullanmalıyız.
- C) Teknolojik gelişmeleri genellikle evde kullanmalıyız.
- D) Teknolojik ürünler sayesinde yaşamımızı sürdürürüz.

7. Bilim adamlarının bulduklarıyla yetinmeyip çeşitli kaynakları incelemesi bilim adamının hangi özelliğinin sonucudur?

- A) araştırmacı
- B) planlı
- C) tarafsız
- D) bilgili

- 8. I. inatçı
- II. Kararlı
- III. Azimli

Yukarıdakilerden hangileri bilim insanının özelliklerindendir?

- A) I ve II
- B) I ve III
- C) II ve III
- D) I, II ve III

9. Einstein'ın "Ben atomu insanlığa hizmet etmek için buldum. Onlar bomba yapıp birbirlerini yok ettiler." ifadesi aşağıdakilerden hangisini kanıtlar?

- A) Buluşların hızla geliştiğinin
- B) Buluşların kötü amaçlarda kullanılabildiğinin
- C) Buluşların yaşamı kolaylaştırdığının
- D) Buluşların evrensel olduğunun

10. Atatürk'ün, "Hayatta en hakiki mürşit ilimdir, fendir." sözü aşağıdakilerden hangisini gösterir?

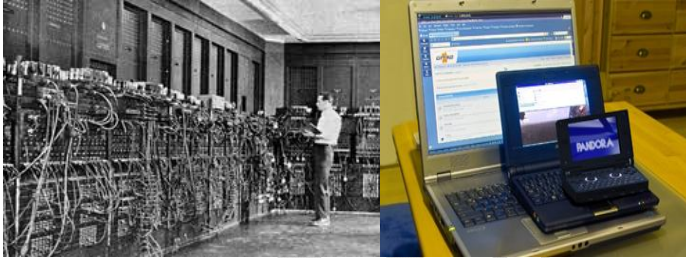
- A) Atatürk'ün bilime önem verdiğini
- B) Atatürk'ün bilim insanı olduğunu
- C) Atatürk'ün yeniliklerini bilim sayesinde yapıldığını
- D) Okullarda fen derslerinin okutulması gerektiğini

11. I. Otomobil II. Gemi III. Tren  
Yukarıdaki ulaşım araçlarından hangilerinin icat edilmesinde tekerleğin bulunmasının etkisi olmuştur?

- A) I ve II
- B) I ve III
- C) II ve III
- D) I, II ve III

12. Aşağıdakilerden hangisi teknolojinin yaşamımıza etkisine örnek değildir?

- A) Hızlı tren ile seyahat etmek
- B) Fırında yemek pişirmek
- C) interneti kullanarak araştırma yapmak
- D) Betonarme ev yapmak



İlk Bilgisayar

Günümüzdeki Bilgisayar

13. İlk bilgisayar oda büyüklüğündeydi. Günümüzde ise bilgisayarlar kolayca taşınabilir hâle gelmiştir. Bu durum ile ilgili aşağıdakilerden hangisi gösterir?

- A) icatların teknoloji ile sürekli geliştiğini
- B) Teknolojik ürünlerden küçük olanlarının kullanışlı olduğunu
- C) icatların büyüklük bakımından birbirinden farklılık olduğunu
- D) insanların günümüzde boyutları ufak icatları tercih ettiğini

- 14. I. Yaşamımızı kolaylaştırır.
- II. Toplum kurallarını etkiler.
- III. insanlara zaman kazandırır.

Yukarıdaki ifadelerden hangileri teknolojik ürünlerin yaşamımıza etkilerinin sonuçlarıdır?

- A) I, II ve III
- B) I ve III
- C) II ve III
- D) I ve II

15. Bir bilim adamının çok sayıda deney ve denemeler yapması onun hangi özelliğe sahip olduğunu gösterir?

- A) hayalperest
- B) güvenilir
- C) dikkatsiz
- D) sabırlı

16. Ateşin bulunması aşağıdakilerden hangisini sağlamıştır?

- A) Yazının bulunmasını
- B) Bilgisayarın icadını
- C) Telefonun kullanılmasını
- D) Enerji sağlamasını

17. Aşağıdaki teknolojik ürünlerden hangisi sınıfta kullanılmaz?

- A) projeksiyon
- B) bilgisayar
- C) faks
- D) televizyon

18. Aşağıdakilerden hangisi teknolojik ürünlerin yaşamımıza olumsuz etkilerine örnektir?

- A) internette alışveriş yapmak
- B) Otomobil ile yolculuk yapmak
- C) Elektronik posta yolu ile haberleşmek
- D) Trafik yoğunluğu yaşamak

19. Aşağıdaki teknolojik ürünlerin hangisi günlük hayatta sık kullanılmaz?

- A) telefon
- B) bilgisayar
- C) röntgen cihazı
- D) televizyon