

MATEMATİK(UZUNLUK ÖLÇÜLERİ)	
ADI-SOYADI:	TARİH:...../...../20...

MATEMATİK(UZUNLUK ÖLÇÜLERİ)	
ADI-SOYADI:	TARİH:...../...../20...

MATEMATİK(UZUNLUK ÖLÇÜLERİ)	
ADI-SOYADI:	TARİH:...../...../20...

[illegible][illegible][illegible]


5 m=.....cm	608 cm=.....m.....cm
6 m 10 cm=.....cm	440 cm=.....m.....cm
7 m 100 cm=.....m	375 cm=.....m.....cm
500 cm=.....m	8m 15 cm=.....cm

Age Group	Percentage
18-24	100%
25-34	85%
35-44	70%
45-54	55%
55-64	40%
65-74	25%
75+	10%

[illegible][illegible][illegible][illegible]

A)  B)  C) 

1 2)Aşağıdakilerden hangisinin uzunluğu 30 cm'yi geçmez?



1 3)*5 m 25 cm=.....cm, eşitliğinde noktalı yere aşağıdakilerden hangisi yazılmalıdır?

A)30 B)1 25 C)525

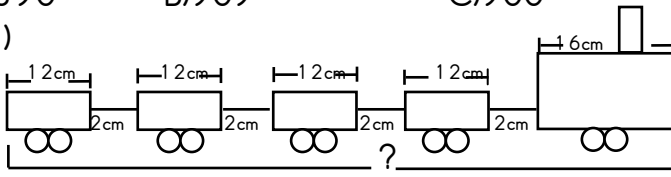
1 4) 4 metrelik kurdeleden 90 cm uzunluğunda 4 parça kesersek kaç santimetre kurdele kalır?

A)74 B)40 C)1 6

1 5)*9m>.....cm, ifadesinde noktalı yere aşağıdakilerden hangisi yazılabilir?

A)890 B)909 C)900

1 6)



Resimdeki oyuncak trenin her vagonu 12 cm ve lokomotif 16 cm'dir. Vagonların arasındaki uzaklık da ikişer santimetre olduğuna göre trenin uzunluğu kaç santimetredir?

A)72 B)73 C)82

1 6)Necla Hanım aldığı perdelik kumaştan biri 2m55cm, diğeri 3m35cm uzunluğunda iki perde dikmiştir. Necla Hanım'ın aldığı kumaşın uzunluğu ne kadardır?

A)5m90cm B)5 05cm C)5m8 0cm

1 7)Aşağıdaki eşitliklerden hangisi doğrudur?

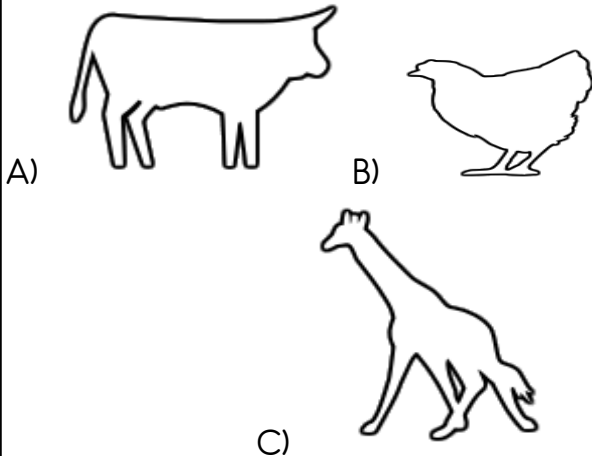
A)1 09cm=1 0m9cm B)21 0cm=2m1 00cm

C)7 24cm=7m2 4cm

1 8)Tamamı 1 00m olan kumaşın 48m'sini Songül hanım, kalan kumaşın yarısını da Nermin Hanım aldı. Nermin Hanım kaç metre kumaş almıştır?

A)26 B)31 C)68

1 9)aşağıdaki hayvanlardan hangisinin uzunluğu tahminen 600cm gelir?



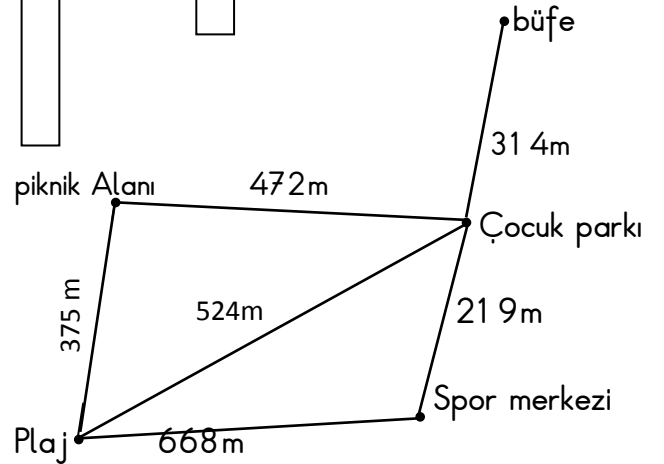
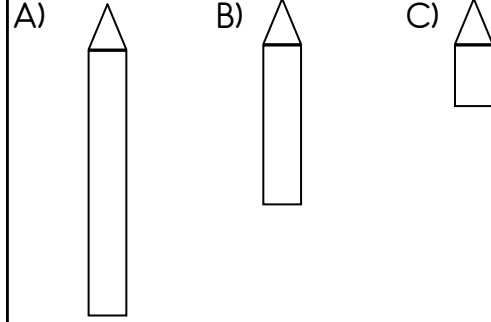
2 0)240cm+□=5m olduğuna göre □ yerine aşağıdakilerden hangisi yazılmalıdır?

A)340cm B)260cm C)1 1 0cm

2 1)Melda'nın boyu 1 28cm ve İlayda'nın boyundan 9 cm daha kısa olduğuna göre İlayda'nın boyu ne kadardır?


A)1 m37cm B)1 m21 cm C)1 m1 9cm

2 2)Aşağıdaki kalemelerden hangisinin uzunluğu yaklaşık 4cm gelir?




Aşağıdaki soruları şekle göre cevaplayınız.

2 3)Piknik alanından çocuk parkına, oradan da büfeye giden bir kişi kaç metre yol almış olur?



2 4)Spor merkezinden piknik alanına gitmek isteyen bir kişi en kısa yolu tercih ettiğinde kaç metre yol alır?



2 5)Plajdan büfeye gitmenin kaç farklı yolu vardır?

A)1 B)2 C)3

2 6)Büfeden alışveriş yapan bir kişi plaja gitmek istiyor. Aşağıdakilerden hangisini mutlaka geçmek zorundadır?

A)piknik alanı B)spor merkezi C)çocuk parkı

2 7)Plajdan büfeye giden en kısa yol kaç metredir?

