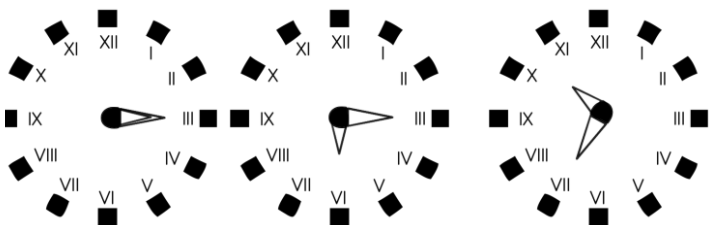
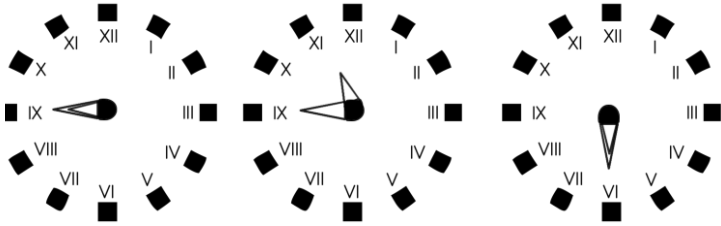
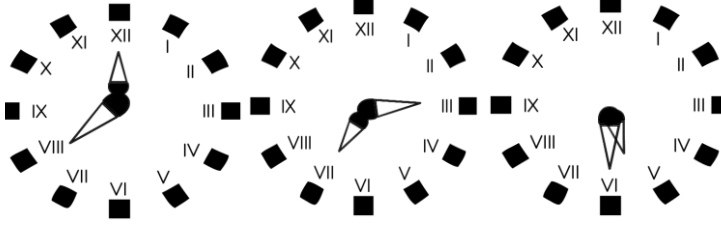
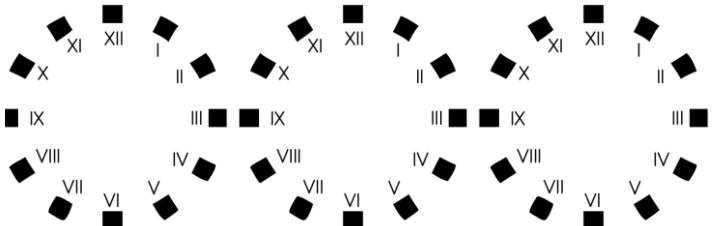


1) Aşağıdaki saatlerin okunuşlarını altlarına yazınız.

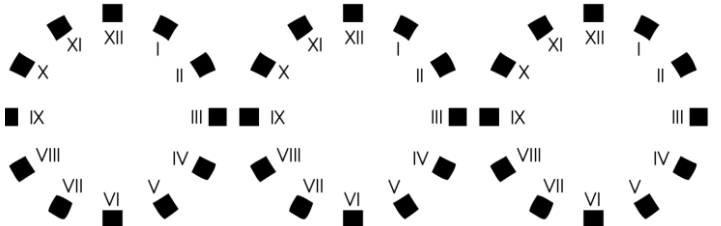


2) Aşağıdaki sayısal saatlerdeki zamanı, altındaki saatlere akrep ve yelkovanı kullanarak gösteriniz.

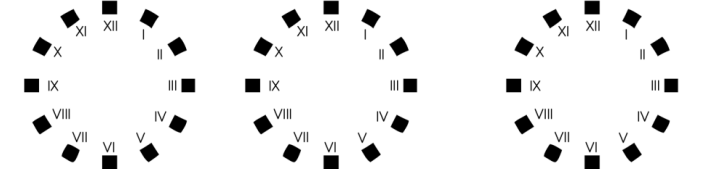
15:45 06:45 21:15



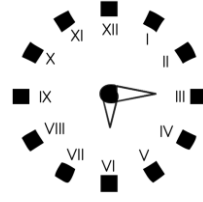
04:30 23:15 13:15



08:30 03:15 00:30



3) Yandaki saatin okunuşu hangi seçenekte verilmiştir?
A) 6'ya çeyrek var.
B) 6'yı çeyrek geçiyor.
C) 5'i çeyrek geçiyor.



4) Kaç dakika bir çeyrek saat yapar?
A) 15 B) 20 C) 30

5) Çeyrek saatin $\frac{1}{3}$ 'ü kaç dakikadır?
A) 7 B) 6 C) 5

6) Nihat 18:15'te kitap okumaya başladı. 18:45'te okumayı bıraktı. Nihat kaç çeyrek saat kitap okudu.
A) 1 B) 2 C) 3

7) Babamın izlediği film 5 çeyrek saatte bitti. Babamın izlediği film kaç dakika sürdü?
A) 1 saat 20 dakika B) 1 saat 15 dakika
C) 1 saat 10 dakika

8) Çeyrek saatte 19 kilometre yol giden otomobil, 1 saatte kaç kilometre yol gider?
A) 76 B) 78 C) 66

9) Bir otobüs saat 08:00'de terminalden hareket etti. 09:45'te mola verdi. Mola yerine kadar yolculuk kaç çeyrek saat sürmüştür?
A) 9 B) 8 C) 7

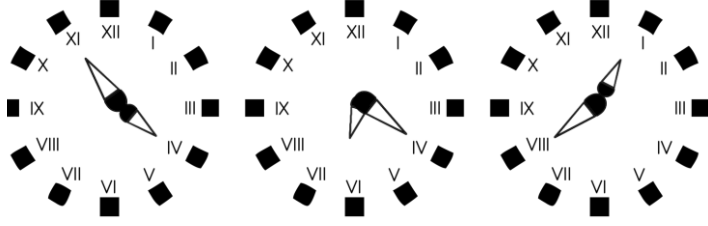
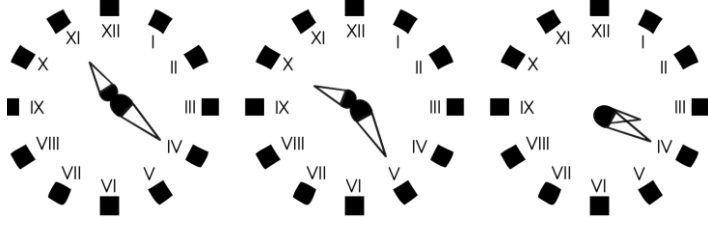
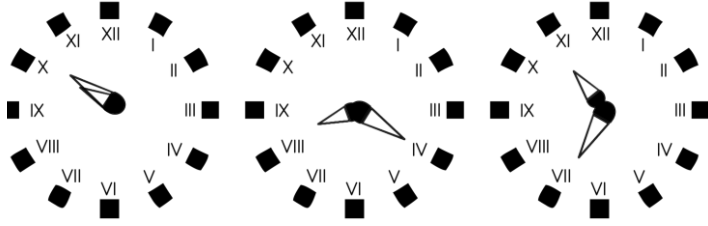
10) Simge saat 13:20'de arkadaşına ders çalışmaya gitti. 6 çeyrek saat sonra geri geldi. Simge eve geldiğinde saat kaçtı?
A) 14:50 B) 14:45 C) 14:40

11) Televizyonda izlediğimiz maç 14:00'da başladı. 15:30'da bitti. Maç kaç çeyrek saat sürdü?
A) 5 B) 6 C) 7

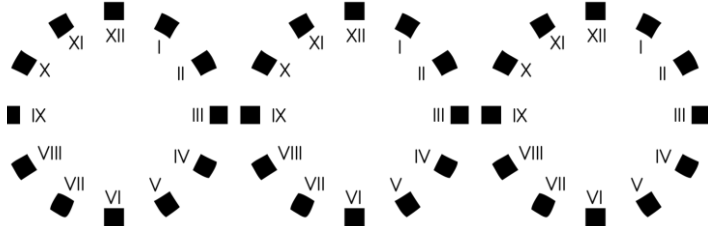
12) Merih, televizyon izlemeye başladığında saat 15:40'tı. 3 çeyrek saat sonra izlemeyi bıraktı. İzlemeyi bıraktığı zaman saat kaçtı?
A) 16:25 B) 16:30 C) 16:35

13) Ablam yaptığı keki fırına 13:50'de koydu. 14:20'de fırından çıkardı. Ablamın yaptığı kek kaç çeyrek saatte pişti?
A) 4 B) 3 C) 2

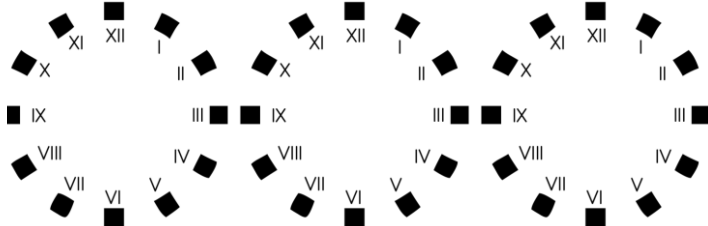
1 4)Aşağıdaki verilen saatlerin kaçı gösterdiklerini altlarına yazınız.



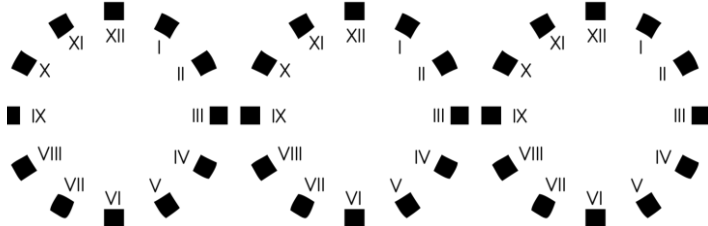
1 5)Aşağıdaki saatlerin akrep ve yelkovanlarını, altlarında verilenlere göre yapınız.



7'yi 1 0 geçiyor. 3'e 25 var. 11'i 5 geçiyor.



1 2'ye 25 var. 9'u 5 geçiyor. 6'ya 1 5 var.

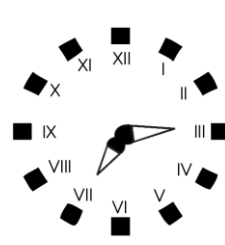


8'i 5 geçiyor. 1 buçuk. 1 0'a 1 0 var.

1 6)Ayhan evden dışarı çıktığında saat 1 2:40'ti. Eve 4 çeyrek saat sonra döndü. Ayhan eve geldiğinde saat kaç olur?

A) 1 3:50 B) 1 3:35 C) 1 3:40

1 7)



Yandaki saat öğleden sonra sayısal olarak nasıl yazılır?

A) 9:1 5 B) 9:45 C) 20:1 5

1 8)Meltem evden 08:05'da çıktı. Saat 08:20'de okula vardı. Meltem okula kaç dakikada gitti?

A) 1 0 B) 1 5 C) 2 0

1 9)Bir günde toplam 75 dakika tenffüs yapıyoruz. Günde 5 tenffüsümüz olduğuna göre bir tenffüsümüz kaç dakikadır?

A) 1 0 B) 1 5 C) 2 0

2 0)Bir buçuk saat kaç dakikadır?

A) 7 0 B) 8 0 C) 9 0

2 1)Annem çamaşır makinesini çalıştırdığında saat 1 3:55'ti. Saat 1 4:45'te makine yıkamayı bitirdi. Çamaşır makinesi kaç dakika çalıştı?

A)45 B)50 C)55

2 2)Babamla birlikte sinemaya gittik. Film saat 1 4:25'te başladı ve 1 saat 40 dakika sürdü. Film bittiğinde saat kaçtı?

A) 1 5:55 B) 1 6:00 C) 1 6:05

2 3)Ablamın girdiği sınav saat 09:30'da başladı. Ablam sınavdan çıktığında saat 1 2:1 0'du. Ablamın sınavı kaç dakika sürdü?

A) 1 40 B) 1 50 C) 1 60

2 4)Bir tren saat 1 5:40'da gardan hareket etti. Gideceği yere varıncaya kadar 9 yarım saat geçti. Tren saat kaçta gideceği şehre vardı?

A) 1 9:50 B) 20:1 0 C) 20:30

2 5)Otobüse bindiğimizde saat 1 4:50 idi. 1 35 dakika sonra otobüsten indik. Yolculuğumuz bittiğinde saat kaçtı?

A) 1 7:05 B) 1 7:00 C) 1 6:55

2 6)Ailece izlediğimiz tiyatro saat 1 0:35'te başladı. Saat 1 1 :55'te sona erdi. İzlediğimiz tiyatro kaç dakika sürdü?

A) 7 0 B) 8 0 C) 9 0

2 7)Nermin akşam saat 21 :30'da uyudu. Sabah 8:00'da kalktı. Nermin kaç yarım saat uyudu? A) 21 B) 2 0 C) 1 9