

ADI SOYADI:.....

...../...../20..

Doğru Sayısı:..... Aldığı Puan:.....

1. "İki ucu görünmeyen tren rayı
..... modelidir."

Yukarıdaki ifadede noktalı yere
aşağıdakilerden hangisi yazılmalıdır?


- A. ışın
B. doğru parçası
C. doğru

2. Kurşun kalem aşağıdakilerden
hangisine model olabilir?

- A. doğru
B. doğru parçası
C. ışın

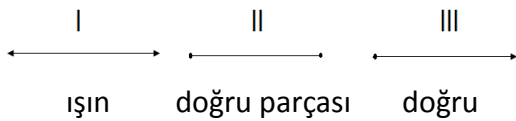
3. Doğru, doğru parçası ve ışıktan
hangisi daha uzundur?

- A. doğru
B. doğru parçası
C. ışın



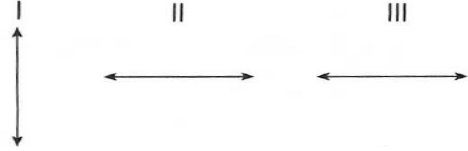
4. Yukarıdaki modeli belirten noktalı
yere aşağıdakilerden hangisi
yazılmalıdır?

- A. doğrusu
B. ışın
C. doğru parçası



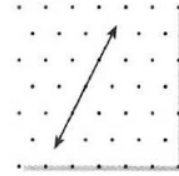
5. Yukarıdakilerden hangisinin ismi
doğru verilmiştir?

- A. I B. II C. III




6. Yukarıdakilerden kaç tanesi dikey
doğru modelidir?

- A. 1 B. 2 C. 3



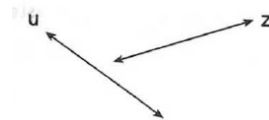
7. İzometrik kağıda çizilen doğru modeli,
aşağıdakilerden hangisi ile belirtilebilir?

- A. Yatay doğru
B. Dikey doğru
C. Eğik doğru



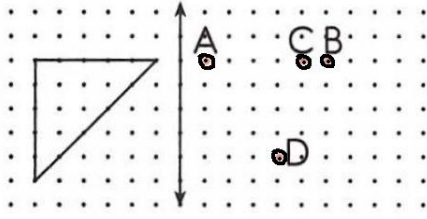
8. k ve m doğruları için aşağıdakilerden
hangisi söylenebilir?

- A. Dikeydirler.
B. Kesişirler.
C. Paraleldirler.

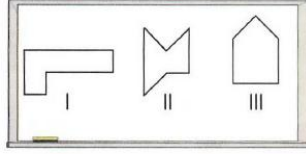


9. u ve z doğruları kaç noktada
kesişirler?

- A. 0 B. 1 C. 2

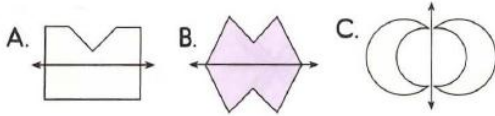


10. Noktalı kağıttaki şeklin simetri eksenine göre simetrik olması için A noktası ile hangi nokta birleştirilmelidir?
A.(B) B.(C) C.(D)

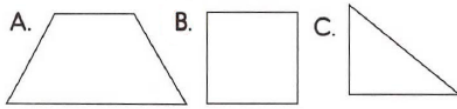


11. Yukarıdaki şekillerden hangisi simetriktir?
A.I B.II C.III

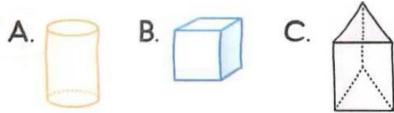
12. Aşağıdaki şekillerden hangisinde şeklin doğruya göre simetriği yanlış verilmiştir?



13. Aşağıdaki şekillerden hangisi hem simetriktir, hem de 4 dik açısı vardır?

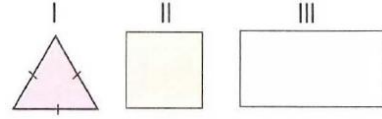


14. Aşağıdaki geometrik şekillerden hangisinin yan yüzeyi ile süsleme oluşturulamaz?



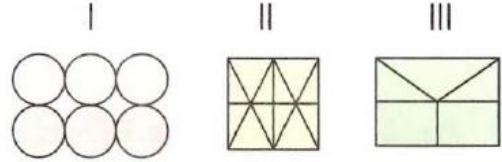
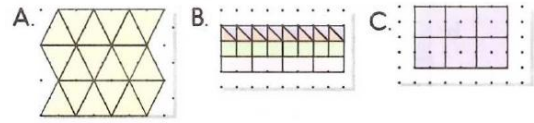
15. "Bir süslemede"

- Yukarıdaki cümle aşağıdakilerden hangisi ile tamamlanabilir?
A. boşluk kalmamalıdır.
B. sadece üçgensel bölge kullanılmalıdır.
C. sadece karesel bölge kullanılmalıdır.



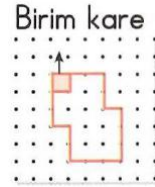
16. Yukarıdaki bölgelerden kaç tanesi tek başına kullanılarak süsleme yapılabilir?
A.1 B. 2 C.3

17. Aşağıdaki süslemelerden hangisinde karesel, dikdörtgensel ve üçgensel bölgenin üçü de kullanılmıştır?



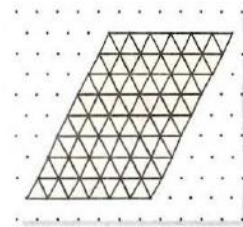
18. Yukarıdakilerden hangisi süsleme değildir?

- A.I B. II C. III



19. Noktalı kâğıtta verilen şekil, kaç birim kare ile kaplanır?

- A.12 B.16 C.18



20. Yukarıdaki süsleme aşağıdaki şekillerden hangisi ile oluşturulmuştur?

