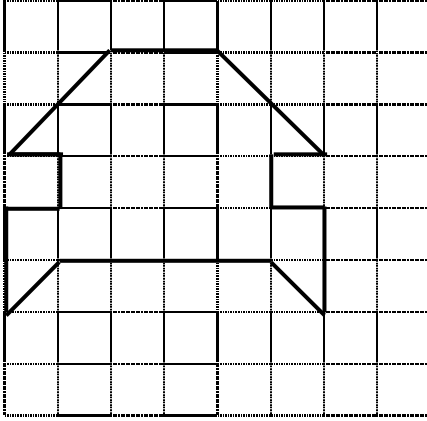


Yandaki boyalı bölgenin alanını birim kareler cinsinden bulunuz.

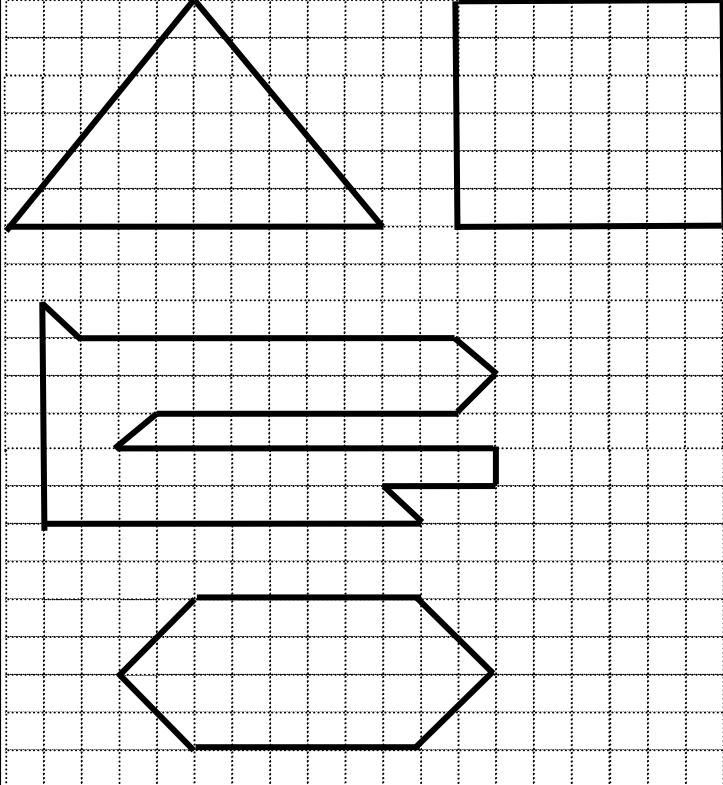
1 birim



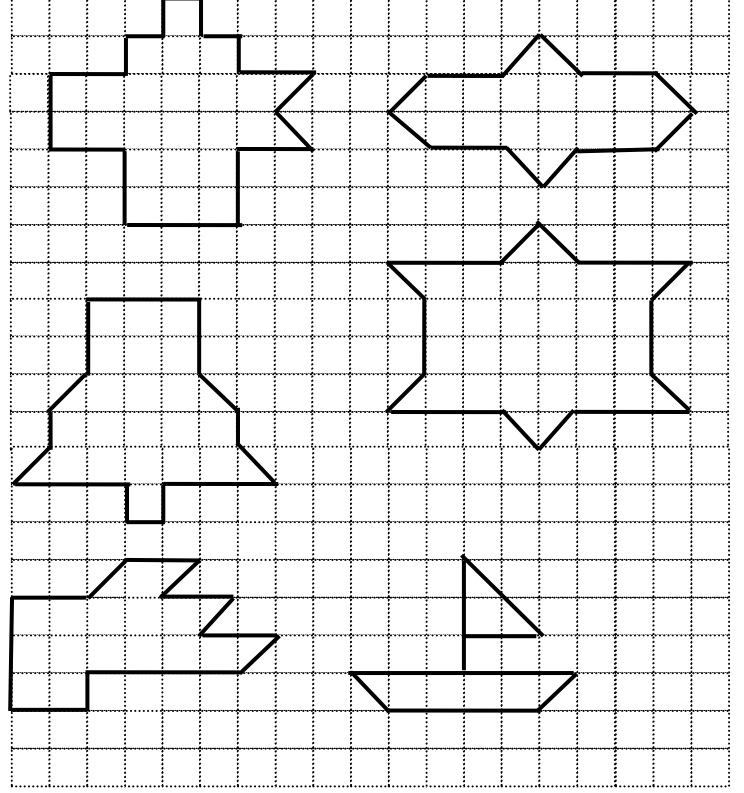
Yandaki şeklin alanını birim kareler cinsinden bulunuz.

1 birim

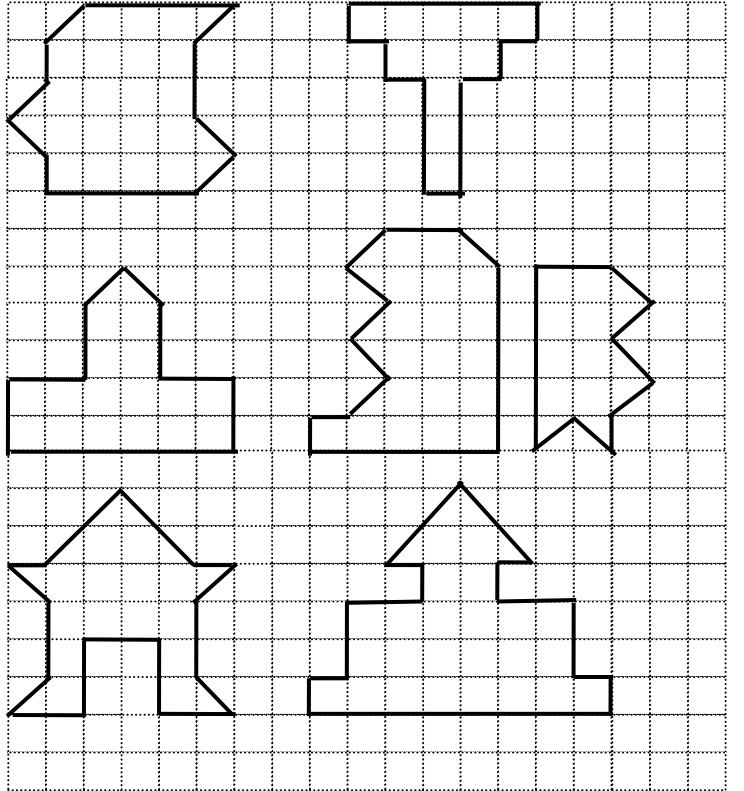
•Aşağıda verilen geometrik şekillerin alanlarını birim kare cinsinden bulunuz.



•Aşağıdaki düzlemsel şekillerin alanı kaç birim karedir?



•Aşağıdaki düzlemsel şekillerin alanı kaç birim karedir?



•Aşağıdaki alıştırmaları yapınız.

4 saat = dakika

2 saatin yarısı kaç dakikadır?.....

96 saat = gün

547 dakika = saat + dakika

4 saat = dakika

240 saat = gün

7 gün = saat

8 saatin yarısı kaç dakikadır?

316 dakika = saat + dakika

2 günün yarısı kaç saattir?

5 saatin yarısı kaç dakikadır?

192 saat = gün

9 saatin yarısı kaç dakikadır?

5 saat = dakika

240 dakika = saat

316 dakika = saat + dakika

7 saatin yarısı kaç dakikadır?

120 dakika = saat

7 gün = saat

7 günün yarısı kaç saattir?.....

1 günün yarısı kaç saattir?.....

522 dakika = saat + dakika

9 saatin yarısı kaç dakikadır?

1 gün = saat

522 dakika = saat + dakika

7 gün = saat

4 saatin yarısı kaç dakikadır?.....

6 günün yarısı kaç saattir?

1 günün yarısı kaç saattir?.....

318 dakika = saat + dakika

73 dakika = saat + dakika

4 saat = dakika

4 saatin yarısı kaç dakikadır?.....

120 saat = gün

2 günün yarısı kaç saattir?

8 günün yarısı kaç saattir?.....

120 saat = gün

3 günün yarısı kaç saattir?.....

9 saatin yarısı kaç dakikadır?.....

10 gün = saat

420 dakika = saat

420 dakika = saat

420 dakika = saat

1 gün = saat

9 gün = saat

10 saat = dakika

7 saatin yarısı kaç dakikadır?.....

8 saatin yarısı kaç dakikadır?.....

6 gün = saat

9 gün = saat

7 saat = dakika

24 saat = gün

240 saat = gün

300 dakika = saat

180 dakika = saat

6 günün yarısı kaç saattir?

8 günün yarısı kaç saattir?

6 saat + 25 dakika = dakika

540 dakika = saat

2 saat + 33 dakika = dakika

6 gün = saat

7 saatin yarısı kaç dakikadır?

3 günün yarısı kaç saattir?

300 dakika = saat

240 saat = gün

1 saat + 33 dakika = dakika

7 gün = saat

6 günün yarısı kaç saattir?

3 saat = dakika

2 saat + 35 dakika = dakika

1 saatin yarısı kaç dakikadır?

6 saatin yarısı kaç dakikadır?