


ADI :
SOYADI :
SINIFI :
OKUL NO :

HAYAT BİLGİSİ

ÜNİTE 2 / TEST 1



Temel ihtiyaçlarımızdan biri aşağıdakilerden hangisidir?

- A) beslenme B) tatil C) oyun oynama

- 2) İnsanların olduğu gibibarınmaya ihtiyaçları vardır.

Yukarıdaki cümlede boş kalan yere aşağıdakilerden hangisi gelmelidir?


- A) hayvanlarında
B) bitkilerinde
C) araçlarında

- 3) Aşağıdaki hayvanlardan hangisi evde beslenebilen bir hayvan değildir?



- 4) Evimizde beslediğimiz hayvanlarla ilgili olarak hangi seçenek doğru verilmiştir ?

- A) Evdeki hayvanın yemeği sokakta yedirilir.
B) Evimizde beslediğimiz hayvanın ihtiyaçlarından ev sakinleri sorumludur.
C) Evimizde beslediğimiz hayvanlar ihtiyaçlarından kendileri sorumludur



Ben sıcakı seven muhlis bir hayvanım.Evde sahiplerimin neşesiyim.

Yukarıdaki hayvanın temel ihtiyaçları arasında aşağıdakilerden hangisi **olamaz**?

- A) barınmak
B) beslenmek
C) yüzmek

- 6) Bitkilerin; güneş ışığına,havaya ,suya ve..... ihtiyacı vardır.

Boş kalan yere aşağıdakilerden hangisi gelir?

- A) sevmeye
B) bakıma
C) toprağa



Aşağıdakilerden hangisi bir ormanda yanımızda pusula olmadan yönümüzü bulabileceğimiz etmenlerden biri **değildir**?

- A) Ağaçların yosunlu tarafları
B) Karınca yuvaları
C) Ormandaki hayvanların türü



8) Mektup zarfında aşağıdaki bilgilerden hangisi bulunmalıdır?

- A) Alıcının adresi
B) Gönderenin imzası
C) Mektup zarfının beyaz olması

- 9) Aşağıdakilerden hangisi adres bilgilerinden **değildir**?

- A) sokak adı
B) bina numarası
C) binanın rengi

10)



Güneşin battığı yöne sırtını dönen birinin yüzü hangi yönü gösterir?

- A) Doğu
B) Batı
C) Kuzey

- 11) Gördüklerini görsel olarak ifade etmek isteyen bir kişi, aşağıdaki seçeneklerden hangisini yapmalıdır ?

- A) resim yaparak
B) şarkı söyleyerek
C) şiir yazarak




12) Aşağıdakilerden hangisi evde yetiştirmeye uygun bir bitkidir?

- A) selvi
B) menekşe
C) erik ağacı

- 13) İlk kez evinize gelecek bir arkadaşınıza, evinizin yerini tarif etmek için aşağıdaki seçeneklerin hangisinden faydalanırsınız?

- A) binanın şeklini anlatırım.
B) yön olarak tarif ederim.
C) Adres veririm.



Benim babam, sebze, meyve yetiştirir.

Ali'nin babasının mesleği aşağıda seçeneklerin hangisinde doğru **verilmemiştir** ?

- A) Bahçıvan
B) Manav
C) Çiftçi

ADI :
SOYADI :
SINIFI :
OKUL NO :

HAYAT BİLGİSİ

ÜNİTE 2 / TEST 2



Enerji tasarrufuyla ilgili aşağıdakilerden hangisi doğrudur?

- A) Enerji kaynaklarımız sınırlıdır ve onları tutumlu bir şekilde kullanmamız gerekir.
- B) Ücretini ödediğimiz enerji kaynağını dilediğimiz gibi kullanabiliriz.
- C) Her türlü enerji kaynağını kendimizi kısıtlamadan kullanmalıyız.



Aşağıdaki illerden hangisinde güneş diğerlerine göre daha geç batar?

- A) Konya B) Antalya C) İzmir

3) Güneşin doğduğu yöne sırtını dönen genç kızın sol kolu hangi yönü gösterir?

- A) Kuzey B) Güney C) Doğu

4) Aşağıdaki meslek ve görev eşleştirmelerinden hangisi **yanlıştır** ?

- A) İtfaiyeci - yangın söndürür
- B) Terzi - elbise diker
- C) Doktor - ilaç yapar



Mert okuldan eve gelince bol bol tv. izlemektedir. Ders çalışmaya zamanı kalmadığından okula hazırlıksız gitmektedir.

Buna göre Mert'in aşağıdakilerden hangisini yapması gerekir?

- A) Televizyon ve ders saatlerini planlaması
- B) Zamanının hepsini derse ayırması
- C) Televizyon seyretmemesi

6) **Burak okulun basketbol takımına seçilmek istiyormuş.** Burak'ın bu amacına ulaşması için aşağıdakilerden hangisini yapması gerekir?

- A) Tv'de basketbol maçları izlemeli
- B) Çok çalışıp iyi basketbol oynamalı
- C) Beden Eğitimi dersinden iyi not almalı



Aşağıdakilerden hangisi görgü kurallarından **değildir**?

- A) Konuşan kişilerin sözünü kesmemek
- B) Yemek yerken ağızını kapamak
- C) Sağlıklı besinler tüketmek

8)



Aşağıdakilerden hangisi Atatürk'ün öncülüğünde gerçekleştirilen yeniliklerden birisi **değildir**?

- A) Kılık kıyafetin değiştirilmesi
- B) Kadınlara seçme ve seçilme hakkı verilmesi
- C) Bilgisayar ortamında ders çalışılması

9)



Yukarıdaki görsel aşağıdakilerden hangisini ifade etmektedir?

- A) Anne pasta yapıyor kızı izliyor
- B) Annesiyle birlikte küçük kız pasta yapıyor
- C) Annesi satın alınan pastayı açıyor

10)



Bence dünya ve doğa çok güzel. Ben büyüyünce bütün güzellikleri çizmek ve renklendirmek istiyorum.

Melisa'nın hayalindeki meslek aşağıdakilerden hangisidir?

- A) Fotoğrafçı
- B) Mimar
- C) Ressam

11)



Aşağıdaki elektrikli eşyalardan hangisi mutfak eşyasıdır?

A)



B)



C)



12) Aşağıdakilerden hangisi evimizde kullandığımız ortak eşyalardan biridir?

- A) Koltuk B) Diş fırçası C) Kazak

13)



Aşağıdakilerden seçeneklerden hangisi **yanlış** verilmiştir ?

- A) Elektrik prizlerine parmağımızı soktuğumuzda elektrik çarpar.
- B) Evde kibritle oynamak yangın çıkarabilir.
- C) Mutfakta tüpü açık unutursak o kendi kendine söner.

14)



Aşağıdakilerden hangisi olası bir deprem öncesi yapılan hazırlıklardan biri **değildir**?

- A) Deprem çantası hazırlamak
- B) Mobilyaları duvara sabitlemek
- C) Saat başı uyanıp kontrol etmek