


ADI-SOYADI:.....

TARİH:...../...../20...

1)Eskimonun evine ulaşabilmesi için doğru yolu bulabilir misiniz?



2)Aşağıdaki harf panosuna 10 tane meslek yerleştirilmiştir. Soldan sağa ve yukarıdan aşağıya doğru yerleştirilen meslekleri bularak boş yere yazınız.

M	Ü	H	E	N	D	İ	S	Ö
İ	P	İ	L	O	T	A	D	Ğ
M	O	Ş	O	F	Ö	R	İ	R
A	L	A	R	U	M	E	K	E
R	İ	Z	A	N	Ö	K	E	T
O	S	D	O	K	T	O	R	M
R	İ	H	E	M	Ş	İ	R	E
G	A	Z	E	T	E	C	İ	N

MESLEKLER

.....

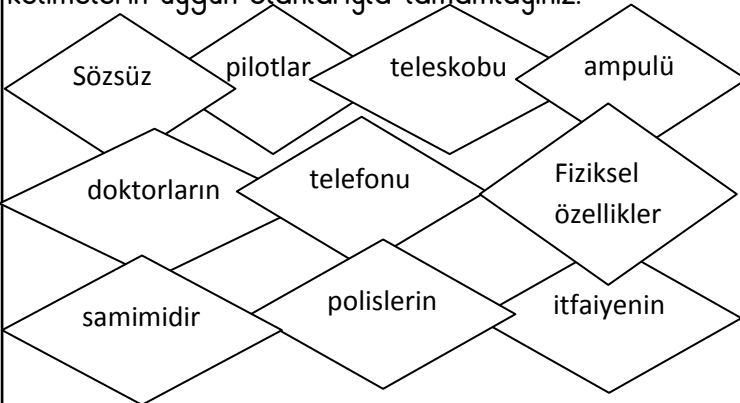
.....

.....

.....

.....

3)Aşağıdaki ifadelerde boş bırakılan yerlere verilen kelimelerin uygun olanlarıyla tamamlayınız.



- ☐, insanları birbirinden ayıran özelliklerdendir.
- ☐ Galileo,.....bulmuştur.
- ☐ Edison,.....bulmuştur.
- ☐ Graham Bell,.....bulan kişidir.
- ☐ Toplumun güvenliğini sağlamak.....görevidir.
- ☐ Yangın söndürme,.....görevidir.
- ☐,hastaları muayene eder.
- ☐,uçak kullanır.
- ☐ Konuşmadan,duyu organlarıyla iletişim kurmakiletişimdir.

☐ Ailede ilişkiler çevremizdeki insanlarla iletişime göre

4)Aşağıdaki ifadelerden doğru olanların başına D, yanlış olanların başına Y harfi yazınız.

- ☐ İnsanlar arasında fiziksel özellikler bakımından farklılıklar vardır.
- ☐ İbn-i Sina tıpla ilgili eserler hazırlamıştır.
- ☐ İbrahim Müteferrika kuduz aşısını bulmuştur.
- ☐ Öğretmen,öğrencileri yetiştirir, mesleğe hazırlar.
- ☐ Meslek sahibi kişiler hayatımızı kolaylaştırmak için çalışırlar.
- ☐ Duygu,düşünce ya da bilgi alışverişi yapmaya görgü kuralları denir.
- ☐ Çevremizdeki insanlarla iletişim, ailemizle iletişimi-miz gibi samimidir.
- ☐ Aile,toplumu oluşturan en küçük topluluktur.
- ☐ Toplumda aile yapıları aynıdır.
- ☐ Çekirdek ailelerde birey sayısı azdır.

5)Emel'in boyu arkadaşlarına göre biraz uzunmuş. Sınıfta en arka sırada oturmuş. Aynı zamanda boyu uzun olduğu için çok iyi basketbol oynamış. Emel, boyunun uzun olmasından çok memnunmuş.

Bu durumda Emel ile ilgili aşağıdakilerden hangisi doğrudur?

- A)uzun boylu olmasından hoşlanmamaktadır.
- B)sporun her dalıyla ilgilenmektedir.
- C)Fiziksel özelliğini sevmektedir.

6) Mete, Edison'un lambayı bulması ile ilgili ödev hazırlamıştır. Öğretmeni edindiği bilgileri özgün biçimde ifade etmelerini söylemiştir. Buna göre Mete'nin aşağıdakilerden hangisini yapması gerekir?

- A)Edison ile ilgili fotoğraf bulmak
- B)Ulaştığı bilgileri kendi cümleleriyle ifade etmek
- C)Ödevini aile bireylerine yazdırmak

7)Hayalindeki mesleği sanat yoluyla isteyen öğrenci;

- I. Şiir yazmak
- II. Resim yapmak
- III. Araştırma yapmak

davranışlarından hangilerini yapabilir?

- A)I ve II B)II ve III C)I,II ve III

8)Aşağıdakilerden hangisi sözsüz iletişime örnek değildir?

- A)büyük annesinin Eda'nın saçını okşaması
- B)Demet'in, arkadaşı Erhan'a el sallaması
- C)Melih'in arkadaşına telefon etmesi

9)"Aile üyeleri ile ilişkiler daha.....dir."ifadesinde boş bırakılan yere aşağıdakilerden hangisi gelebilir?

- A)samimi B)mesafeli C)etkili

10)Aile yapıları ile ilgili aşağıdaki ifadelerin hangisi yanlıştır?

- A)Aile yapıları arasında farklılıklar vardır.
- B)Bütün ailelerde çocuk sayısı aynıdır.
- C)Birey sayısı az olan aileler küçük ailedir.

11)Toplumun güvenliğini sağlama görevi hangi melseğe aittir?

- A)polis B)itfaiyeci C)mimar

12)Aşağıdaki meslek ve görev eşleştirmelerinden hangisi doğrudur?

- A)çiftçi-sebze,meyve satmak B)doktor-ilaç satmak
C)kasap-et satmak

13)İletişim kurmakla ilgili aşağıdakilerden hangisi yanlıştır?

- A)Duyu organları ile iletişim kurulabilir.
- B)Sözsüz iletişim, yazarak kurulan iletişimdir.
- C)İletişim, sözlü ve sözsüz olmak üzere ikiye ayrılır.

14)Aşağıdaki ifadelerden doğru olanların başına D, yanlış olanların başına Y harfi yazınız.

☐ İnsanlar arasındaki inanç farklılıklarına karşı saygılı olmalıyız.

☐ Ailede görev dağılımı yapılmalıdır.

☐ Ailede kararları her zaman baba alır.

☐ Çalışma planı yapmak başarımızı artırır.

☐ Paramızı harcarken isteklerimize öncelik vermeliyiz.

☐ Aile içinde sorun çözerken sorunun ne olduğu belirlenmelidir.

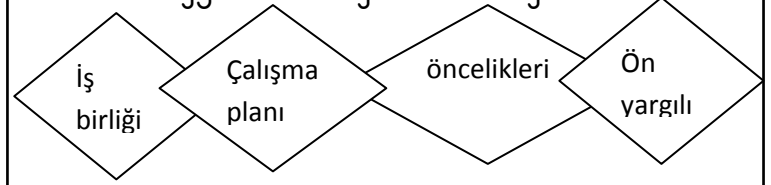
☐ Ailede sadece yaşı büyük bireyler söz hakkına sahiptir.

☐ Günlük plan yaparken öncelikle yapılacak işleri belirlemeliyiz.

☐ Çalışma planına uymak bize düzenli olma alışkanlığı kazandırır.

☐ Para harcarken tutumlu olmalıyız.

15)Aşağıdaki ifadelerde boş bırakılan yerlere verilen kelimelerin uygun olanlarıyla tamamlayınız.



○ Bizden farklı olan insanlara karşı.....olmamalıyız.

○ Ailede görevler yerine getirilirken.....yapılmalıdır.

○ Günlük ve haftalık.....yapılmalıdır.

○ Para harcarken.....belirlemeliyiz.

16)Mete,her sabah apartman görevlisi Ahmet amcaya "Günaydın" der. Arkadaşı Ozan, Ahmet amcaya selam vermemesi gerektiğini, onun okulu bitirmediğini söyler. Ceren ise Ahmet amcanın aynı yaştaki kızını oyuna çağırır.

Bu durumda kimin davranışı yanlıştır?

- A)Mete B)Ozan C)Ceren

17)Atatürk, insanların eşit olduğunu savunurdu. Aşağıdakilerden hangisi Atatürk'ün düşüncesi kanıtlar?

A)Kadınlara seçme ve seçilme hakkı vermesi

B)Kurtuluş Savaşı'nı başlatması

C)Türkiye Büyük Millet Meclisini açması

18)Aile içinde ortaya çıkan sorunları çözerken aşağıdakilerden hangisine dikkat edilmelidir?

A)Birbirimizin haklarına saygı göstermek

B)Her zaman haklı olduğumuzu söylemek

C)Sorunu kimseden yardım almadan çözmek

19)Ali, üçüncü sınıf öğrencisidir. Ailesinde üstlendiği görevleri severek yapmaktadır. Ali, yeni görevler üstlenmektedir. Aşağıdakilerden hangisi Ali'nin üstlenebileceği görevlerden değildir?

A)Giyisilerini katlayıp yerine koymak

B)Temizlik yapılırken toz almak

C)Mutfak dolaplarını düzenlemek

20)Karar alırken her bireyin düşüncesini söylediği bir aile için aşağıdakilerden hangisi söylenebilir?

A)Demokratik bir ailedir.

B)Büyük ailedir.

C)Aile reisinin sözü geçmektedir.

21)Damla,ailesine haftalık mutfak alışverişini tek başına yapabileceğini söyler. Bu görevi üstlenmek için ısrar eder. Aile bireyleri de bu görevin onun yaşı için uygun olmadığını söylerler.

Damla'nın ailesi için aşağıdakilerden hangisi doğrudur?

A)Görev paylaşımını adil olarak yaparlar.

B)Görev dağılımını babaları yapar.

C) herkes istediği görevi üstlenebilir.