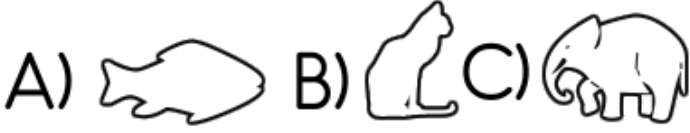



1)Aşağıdakilerden hangisi temel ihtiyaçlarımızdan biridir?

A)oyun B)gezme C)barınma

2)Aşağıdaki canlılardan hangisinin bakımını evimizde yapamayız?



3)  Akvaryumdaki balığımız için hangisini yapmalıyız?

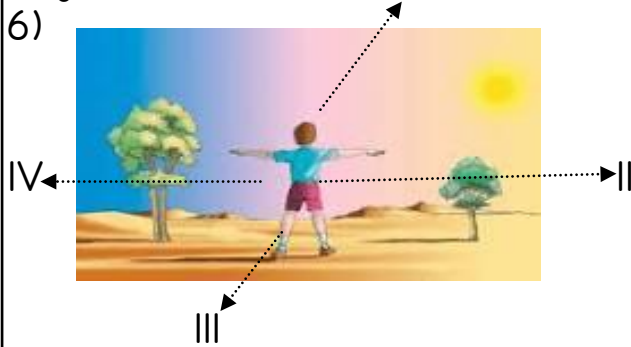
A)Yem veririz ama suyunu değiştirmeyiz.
B)Hem suyunu değiştirir hem de yemini veririz.
C)Yemini, aklımıza gelince veririz.

4)Aşağıdaki bilgilerden hangisi, adres yazar-ken kullanılmaz?

A)Mahalle adı B)Posta kodu
C)Telefon numarası

5)Aşağıdaki ifadelerden hangisi doğrudur?

A)Hayalimizdeki evler, hep aynı mimariye sahiptir.
B)Herkesin hayalindeki ev farklı olabilir.
C)Hayalimizdeki eve hiçbir zaman sahip olamayız.



Yukarıdaki resme göre 4 numaralı yön hangisidir?

A)doğu B)kuzey C)batı

7)Aşağıdaki ifadelerden hangisi yanlıştır?

A)Hayvanlar da doğar, büyür ve ölür.
B)Bitkiler;insanlar ve hayvanlar için besin kaynağıdır.
C)Bütün hayvanlar yumurtayla çoğalır.

8)Aşağıdakilerden hangisi yön bulmada kullandığımız bir alettir?

A)Güneş B)Pusula C)Yosunlar

9)Geceleyin gökyüzü bulutlu değilse yönümüzü bulabilmek için neye bakarız?

A)Ay'a bakarız. B)Kutup Yıldızı'na bakarız.
C)Güneş'e bakarız.

10)Aşağıdakilerden hangisi krokinin özelliği değildir?

A)Ölçüsüz olarak çizilir.
B)Harita gibi kullanılır.
C)Bir yerin kuşbakışı görünüşünün çizilmesidir.


11)Aşağıdaki davranışlardan hangisi yanlıştır?

A)Komşularımızla sevinç ve üzüntülerimizi paylaşıyoruz.
B)Evimizde eşyalarımızı düzenli kullanmalıyız.
C)Evde bize ait olamayan odaları istediğimiz gibi kullanmalıyız.

12)Aşağıdakilerden hangisi evin ortak kullanım alanlarından değildir?

A)Banyo ve tuvalet B)Mutfak
C)Yatak odası

13)Aşağıdakilerden hangisi dedemizin çocukluğu zamanında olmayan bir araçtır?



14)Aşağıdaki davranışlardan hangisi aile içinde huzursuzluk meydana getirir?

A)İlişkilerin saygı ve sevgiye dayanması
B)Bireylerin hoşgörülü olması
C)Farklı davranışlara izin verilmesi

1 5)Aşağıdakilerden hangisini, insanlığa hizmet etmiş kişiler arasında gösteremeyiz?

A)Louis Posteur B)Arda Turan C)İbni Sina

1 6)



Ben mahkemelerde
suçsuz insanları
savunacağım.

Yukarıda ifade edilen meslek hangisidir?

A)Hakim B)Savcı C)Avukat

1 7)Aşağıdakilerden hangisinde sağlık grubu meslekleri sıralanmıştır?

A)	*Doktor *Hemşire *Polis *Eczane	B)	*Öğretmen *Hemşire *Pilot *Gazeteci	C)	*Doktor *Hemşire *Eczane *Veteriner
----	--	----	--	----	--

1 8) "Kimsenin düşünce ve vicdanına egemen olunmaz.."

Atatürk

Yukarıdaki ifadede anlatılmak istenen nedir?

A)Düşünce hürriyeti B)Eşitlik ilkesi
C)Seyahat hakkı

1 9)



Yandaki resimde gösterilen aile tipi hangisidir?

A)Çekirdek aile
B)Geniş aile
C)Modern aile

20)

*İş bölümü
*Haklara saygı
*Paylaşım
*Dayanışma

Yandaki davranışlar aile yapısına nasıl bir katkıda bulunur?

A)Aile içinde iletişimi bozar.

B)Ailede saygınlığı azaltır.

C)Aile içi demokrasiyi geliştirir.


21)Duygu,düşünce,istek ve bilgi paylaşımına ne ad verilir?

A)Paylaşım B)Dinlenme C)İletişim

22)Anne ve babanız sizi severken aşağıdakilerden hangisini söylemez?

A)Böyle olur mu? B)Tatlım!
C)Aferin canım!

23)Aşağıdakilerden hangisi hem görsel hem de işitsel bir iletişim aracıdır?



24)Aşağıdakilerden hangisi doğru bir davranıştır?

A)Müziğin sesini fazla açmak
B)Parkta gereğinden fazla kalmak
C)Çevredekilerle nazik ifadelerle konuşmak

25)Aşağıdakilerden hangisi, aile üyelerimizden biri değildir?

A)dede B)hala C)öğretmenimiz

26)

*Yüz ifadeleri
*Dokunma
*El ve kol hareketleri

Yandaki iletişim öğeleri nasıl adlandırılır?

A)Sözlü iletişim
B)Haberleşme
C)Beden dili

27)Aşağıdakilerden hangisi ailede sorun oluşturabilir?

A)Aile büyüklerinden izin alarak bir yere gitmek

B)Odamızı dağınık bırakmak

C)Büyüklerin uyarılarına dikkat etmek

28)Aşağıdaki hangi ailede görev dağılımı adilidir?

A)Anne, bütün ev işlerini tek başına yapar.

B)Baba, çocukların odasını toplar.

C)Ev işlerinde çocuklar, anne ve babaya yardım eder.

29)Aşağıdakilerden hangisi sadece işitsel bir iletişim aracıdır?



30)

*Yatma-kalkma
*Yemek ve oyun
*Ders çalışma-uyku

Yandaki faaliyetleri belirli zaman dilimlerinde yapan biri aşağıdakilerden hangisine ulaşır?

A)Planlı yaşayıp verimli oluruz.

B)Hayatımızdan zevk almıyoruz.

C)Sıkıcı bir gün geçiririz.