

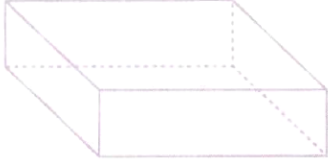
Matematik Etkinlik - 3

ADI SOYADI: / ... / 20.....

KONU: Düzlem,nokta

Aşağıdaki geometrik cisimlerin özelliklerini yazınız.

Çizimlerin üzerinden yeniden çiziniz.

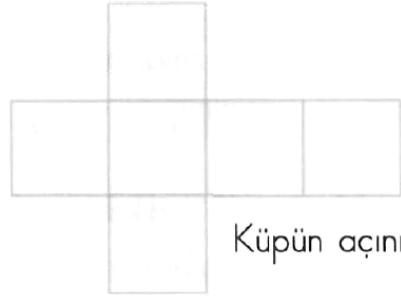
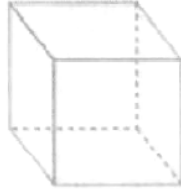


Dikdörtgenler Prizmasının özellikleri

Köşe:.....

Kenar:.....

Yüzey:



Küpün açınımı

Küpün özellikleri

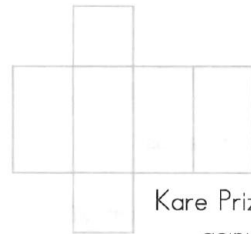
Köşe:.....

Kenar:.....

Yüzey:



Kare Prizma



Kare Prizmanın
açınımı

Kare prizmanın özellikleri

Köşe:.....

Kenar:.....

Yüzey:



Üçgen Prizma



Üçgen Prizmanın
açınımı

Üçgen prizmanın özellikleri

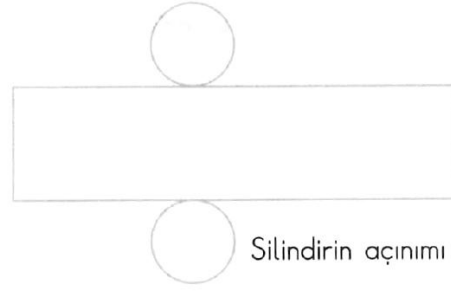
Köşe:.....

Kenar:.....

Yüzey:



Silindir



Silindirin açınımı

Silindirin özellikleri

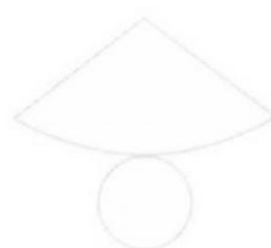
Köşe:.....

Kenar:.....

Yüzey:



Koni



Koninin açınımı

Koninin özellikleri

Köşe:.....

Kenar:.....

Yüzey: