

Aşağıdaki cümleleri bilgi yönünden doğru tamamlamak için noktalı yerlere yazılacak sözcükleri seçiniz.

1)Güneş'in battığı yöne yüzünü dönen birinin arkası.....gösterir.

A)doğu B)güney C)kuzey

2)Bulutsuz bir gecede yönümüzü,.....bakarak buluruz.

A)Güneş'e B)Ağaç kabuklarına C)Kutup Yıldızı'na

3)Pusula ibresinin renkli ucu, daima.....gösterir.

A)kuzeyi B)güneyi C)batıyı

4)Odamızı.....banyo ve tuvaleti.....kullanırsak aile bireylerine yardım etmiş oluruz.

A)temizleyip-kirleterek B)toplayıp-temiz C)dağıtıp-kirli

5)Aşağıdaki anlatımlar doğru ise D,yanlış ise Y yazınız.

☐ Bir yerin nerede olduğunu tarif edebilmek için yönlerden yararlanılır.

☐ Kaya ve ağaçların yosunlu yüzeyleri kuzeyi gösterir.

☐ Posta kodu, adres bilgilerinde belirtilir.

☐ Evlerin arasında kalan dar yollara cadde adı verilir.

☐ Kutup Yıldızı, daima güney yönde görülür.

☐ Yüzümüzü güneş'in doğduğu yöne döndüğümüzde sağ kolumuz güneyi gösterir.

6)Aşağıdakilerden hangileri fiziksel özelliklerle ilgilidir?

I. Zayıf olmak

II. Sarı saçlı olmak

III. Arkadaşının hoşuna giden bir olaydan zevk almak

A)I ve III B)II ve III C)I ve II

7)Aşağıdaki bilgilerden hangisi yanlıştır?

A)Farklı duygu ve düşüncelere sahip kişileri eşleştirmeliyiz.

B)Farklı özelliklere sahip kişilere hoşgörüyle yaklaşmalıyız.

C)Herkesin kendine özgü olduğunu kabullenmeliyiz.

8)Aile büyüklerinin çocukluğunu araştırırken aşağıdakilerin hangisinden yararlanılır?

A)fotoğraf albümü B)adres bilgileri C)komşuların anıları

9)Ali'nin yaptığı resmi ablası beğenmedi. Babası ise çok güzel olduğunu belirtti. Bu durumla ilgili aşağıda belirtilenlerden hangilerini söylemek doğru olur?

I. İnsanların duygu ve düşünceleri farklıdır.

II. Ali'nin ablası ile babası, farklı özelliklere sahiptir.

III. Kişisel farklılıklar bir zenginliktir.

A) I ve II B) I,II ve III C) II ve III

10)Atatürk, insanların mutlu ve huzurlu yaşamaları için devletlerin çaba harcaması gerektiğine inanırdı. "İnsan kendi milletinin varlığını düşündüğü kadar, başka milletlerin huzur ve refahını da düşünmelidir.." sözü, onun hangi kişilik özelliğini açıklamaktadır?

A)ileri görüşlülüğü B)millet sevgisi C)insan sevgisi

11)Aşağıdaki eşleştirmelerden hangisi yanlıştır?

A)göz rengimiz →Kişilik özelliğimizdir.

B)düşüncelerimiz→ Kişilik özelliğimizdir.

C)saç rengimiz→Fiziksel özelliğimizdir.

12)Edison aşağıdakilerden hangisini bularak insanlığa hizmet etmiştir?

A)kuduz aşısı B)ampul C)matbaa

13)Aşağıdaki mesleklerden hangisinde çalışanlar ulaşım hizmetini yürütür?

A)pilot B)postacı C)mimar

14)" İnsanlara bilgi ve beceri kazandırır. Onları hayata hazırlar.." Yukarıdakileri gerçekleştiren kişiler, hangi mes-

leği yapmaktadır.?

A)doktorluk B)avukatlık C)öğretmenlik

1 5)Aşağıdakilerin hangilerinde sözel olmayan iletişim ögeleri kullanılmıştır?

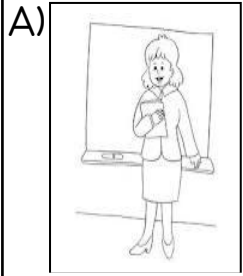
I. Oya'nın "Ben söyleyebilir miyim?," sorusuna, öğretmenin kaşlarını kaldırarak yanıt vermesi.

II. Babasının Okan'a pencereyi kapatmasını eliyle işaret etmesi.

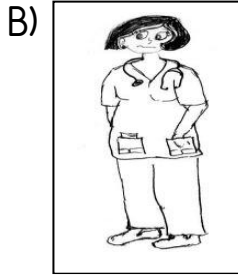
III. Çocuğun, gökte uçan uçurtmayı arkadaşına parmağıyla göstermesi.

A) I,II ve III B) II ve III C) I ve III


1 6)Aşağıda, bazı meslekler ve görevleri eşleştirilmiştir. Eşleştirmelerden hangisi yanlıştır?



Öğrencilere bilgi ve beceri kazandırır.



Güvenliği sağlar.



Toprakta çeşitli ürünler yetiştirir.

1 7)Kuduz aşısını bulan ünlü bilim insanı kimdir?

A)Kristof Kolomb B)Pastör C)İbn-i Sina

1 8)"Kişilerin farklı özelliklere sahip olmasını.....karşılmalıyız." cümlesini aşağıdakilerden hangisi tamamlamalıdır?

A)sabırsız B)acıyarak C)hoşgörüyle

1 9)"İnsanların kişisel farklılıklarından dolayı.....farklıdır." cümlesini aşağıdakilerden hangisi tamamlamalıdır?

A)elleri B)yetenekleri C)gözleri

20)"İbrahim Müteferrika,.....ülkemize getirmiştir." cümlesini aşağıdakilerden hangisi tamamlamalıdır?

A)matbaayı B)teleskobu C)mikroskobu

21)Aşağıdaki anlatımları doğru ise yeşile, yanlış ise kırmızıya boyayınız.

○ Çeşitli mesleklerde bizim için çalışanlara saygı göstermeliyiz.

○ Babamızın saçımızı okşaması sözsüz iletişime örnektir.

○Ülkemize matbaayı Gutenberg getirmiştir.

○Sencer'in güzel resim yapması, bireysel farklılıklara örnektir.

○Bireysel farklılıklara sahip insanlarla bir arada yaşamak güçtür.

22) I. Kedi II. Köpek III. Bülbül

Yukarıdakilerden hangisi ya da hangileri evde beslemeye uygun hayvandır?

A)yalnız III B) I ve II C) I,II ve III

23)Aşağıda verilen bitki gruplarından hangisi evde yetiştirilebilir?

A)sardunya,lale,menekşe B)erik,kabak,salatalık C)çam,menekşe,salatalık

24)Aşağıdaki eşleştirmelerden hangileri doğrudur?

I. Ev almak→Barınma ihtiyacı

II. Giysi almak→Giyinme ihtiyacı

III. Çeşitli besinleri yemek→Beslenme ihtiyacı

A) I ve II B) II ve III C) I,II ve III

25)a.İnsanların yetenekleri birbirinden farklıdır.
b.İnsanların farklı fiziksel özellikleriyle alay etmeliyiz.

c.Ten rengi, insanların fiziksel özelliğidir.

Yukarıdaki bilgilerden hangileri doğrudur?

A) a ve c B) b ve c C) a,b ve c

26)Aşağıdakilerden hangisi tıpla ilgili eserler yazmıştır?

A)Galileo B)İbn-i Sina C)İbrahim Müteferrika

27)Can ve mal güvenliğini sağlayan meslek grubunda çalışanlar, aşağıdakilerden hangisidir?

A)polis B)doktor C)avukat

28)Aşağıda, çeşitli mesleklerde çalışanlar ve görevleri eşleştirilmiştir. Bunlardan hangisi yanlıştır?

A)Manav→ Meyve ve sebze satar.

B)Kaptan →Gemiye kullanır.

C)Pilot→ Otobüsü sürer.

29)Anıl, matematik sorularının hepsini doğru yanıtlayınca öğretmeni Anıl'ın başını okşamıştır. Buna göre öğretmeni ile Anıl arasında nasıl bir iletişim kurulmuştur?

A)sözlü B)sözsüz C)bireysel