

4.
SINIF



T.C.
MİLLÎ EĞİTİM BAKANLIĞI

TED ANKARA KOLEJİ VAKFI ÖZEL İLKÖĞRETİM OKULU SEÇME SINAVI
(3'ten 4'e Geçenler)
16 HAZİRAN 2012 Saat: 10.00

Adayın Adı ve Soyadı :
Aday Numarası (T.C. Kimlik No) :

DERS ADI	SORU SAYISI	TOPLAM SORU SAYISI	SINAV SÜRESİ (DAKİKA)
TÜRKÇE	25	75	75
MATEMATİK	25		
HAYAT BİLGİSİ	25		

ADAYLARIN DİKKATİNE!

1. Sınav başladıktan sonra ilk **30** dakika dolmadan dışarı çıkmayınız.
2. Sınav sırasında sözlük, hesap makinesi, saat fonksiyonu dışında özellikleri bulunan saat veya çağrı cihazı, cep telefonu, telsiz, radyo ve bilgisayar özelliği bulunan elektronik cihazları yanınızda bulundurmayınız. Bu araçları kullanmanız veya kopya çekmeye teşebbüs etmeniz hâlinde sınavınız geçersiz sayılacaktır.
3. Soruları ve sorulara verdiğiniz cevapları, yanınızda götürmek amacıyla kaydetmeyiniz; hiçbir şekilde dışarı çıkarmayınız.
4. Sınavın değerlendirilmesi aşamasında, bilgisayar ortamında yapılan kopya analizinde, herhangi bir testten ikili veya toplu kopya tespiti hâlinde ilgili testiniz geçersiz sayılacaktır.
5. Kopya çekmeniz, başka adayın sınav evrakını kullanmanız ve geçerli kimlik belgenizi ibraz edemediğiniz durumlarda sınavınız geçersiz sayılacaktır.

CEVAP KÂĞIDI VE SORU KİTAPÇIĞI İLE İLGİLİ AÇIKLAMALAR

1. Cevap kâğıdınızdaki bilgilerin doğruluğunu kontrol ediniz ve cevap kâğıdınızı imzalayınız.
2. Cevap kâğıdındaki bilgiler size ait değilse veya cevap kâğıdı kullanılmayacak durumdaysa salon görevlilerinin temin edeceği yedek cevap kâğıdına kimliğinizle ilgili bilgileri açıklamalar doğrultusunda yazınız ve kodlayınız.
3. Cevap kâğıdı üzerindeki kodlamaları kurşun kalemle yapınız.
4. Değiştirmek istediğiniz bir cevabı, yumuşak silgiyle cevap kâğıdını örselemeden temizce siliniz ve yeni cevabınızı kodlayınız.
5. Cevap kâğıdında **Türkçe, Matematik ve Hayat Bilgisi** testleri için üç ayrı sütun bulunmaktadır. Cevaplarınızı, cevap kâğıdındaki ilgili sütunlara yuvarlağın dışına taşırmadan kodlayınız.
6. **Soru kitapçığı üzerinde yapılan cevaplandırmalar dikkate alınmayacaktır.**
7. Soru kitapçığının sayfalarını kontrol ediniz, baskı hatası var ise değiştirilmesini sağlayınız.
8. Soruların çözümü için size ayrıca boş kâğıt verilmeyecektir. Soru kitapçığının içindeki boş alanları çözümlerinizi için kullanabilirsiniz.
9. Cevaplamaya istediğiniz testin sorusundan başlayabilirsiniz. Cevabını bilmediğiniz sorular üzerinde fazla zaman kaybetmeden diğer sorulara geçiniz. Zamanınız kalırsa bu sorulara daha sonra dönebilirsiniz.
10. Puanlama; her test için yanlış cevap sayısının **üçte biri, doğru cevap sayısından çıkarılarak** elde edilecek geçerli cevaplar üzerinden yapılacağı için cevap kâğıdı üzerinde rastgele cevaplama yapmayınız.
11. Sınav bitiminde, soru kitapçığı ve cevap kâğıdını salon görevlilerine teslim ediniz.

BAŞLAYINIZ DENİLMEDEN SORU KİTAPÇIĞINIZI AÇMAYINIZ.

1. “Durmak” sözcüğü aşağıdakilerin hangisinde “bir yerde bir süre oylanmak” anlamında kullanılmıştır?

- A) Zamanım çoktu, o yüzden her çeşme başında durdum.
- B) Gün boyu aralıksız yağan yağmur akşamleyin durdu.
- C) Baş ucumdaki çalar saat yine durmuş.
- D) Çekmecesinde bir kutu çikolata duruyordu.

2. Öğleden sonra atölyede makine sesleri yeniden duyuldu.

Bu cümlede aşağıdaki sorulardan hangisinin cevabı yoktur?

- A) Nerede
- B) Ne zaman
- C) Niçin
- D) Ne

3. Aşağıdaki cümlelerin hangisinde “abartma” vardır?

- A) Emekleye emekleye buraya kadar gelmiş.
- B) Sesi, yedi kıtanın tüm kentlerinde duyuldu.
- C) Tüplerdeki boyalardan paletine bol bol sıktı.
- D) Yanında kalırsam kendisini daha iyi hissedeceğini söyledi.

4. Aşağıdakilerden hangisi gerçek yaşamdan alınmıştır?

- A) Köpek ağzında kemikle nehrin kenarında biraz bekledi.
- B) Kedi, fareleri kovalamayacağına söz verdi.
- C) Tilki, leyleğin yemeğe gelmesi için bir sürü dil döktü.
- D) Geyik, keşke tüylerim altından olsaydı, dedi.

5. Aşağıdaki cümlelerin hangisinde sebep-sonuç ilişkisi vardır?

- A) Akşama kadar ortalıkta gözükmedi.
- B) Kahvaltı yaptığı için kendisini zinde hissediyordu.
- C) Eve dönünce başından geçen olayları anlattı.
- D) Karnı çok acıkmış ama kimseye söyleyememiş.

6. 1. bölümünü
2. biriktiriyorum
3. bir
4. harçlıklarımın
5. kumbarada

Numaralandırılmış sözcükler, anlamlı ve kurallı bir cümle oluşturmak için nasıl sıralanmalıdır?


- A) 2, 1, 4, 5, 3
- B) 3, 5, 2, 1, 4
- C) 4, 3, 1, 5, 2
- D) 5, 1, 4, 2, 3

7. Kardeşim henüz okula gitmiyor yazıları heceleyebiliyor.

Bu cümlede boş bırakılan yere, düşüncenin yönüne göre, aşağıdakilerden hangisi getirilemez?

- A) ama B) çünkü
C) fakat D) ancak

8. Aşağıdaki yüzlerin hangisinde “şaşıklık” ifadesi vardır?



9.



Bu karikatürde aşağıdakilerin hangisine dikkat çekilmiştir?

- A) Suyun değerine
B) Dostluğun önemine
C) Birlik olmanın gücüne
D) Toprağın verimine

10. Âdem koşarak denize girdi. Hızlı hızlı yüzmeye başladı. Böyle yüzmesi kumsaldakilerin dikkatini çekti. O ise aynı şekilde yüzmeye devam etti.

Bu metinde aşağıdaki hikâye öğelerinden hangisi belirtilmemiştir?

- A) Zaman B) Yer
C) Ana karakter D) Olay

11. Bir kimsenin nasıl bir kişi olduğunu anlamak isterseniz yaptığı işlere bakınız. Bu işlerin niteliği, o kişinin yeteneğini, huyunu, tutumunu belli eder.

Bu metni özetleyen atasözü aşağıdakilerden hangisidir?

- A) İstediyini söyleyen, istemediyini ıstır.
B) Bugünün işini yarına bırakma.
C) İşten artmaz, diştten artar.
D) İş, insanın aynasıdır.

12. Güneye göç eden kuşlar,
N'olur (ne olur), söyleyin bana
Nerde kaldı o güneş,
O ılık akşamlar...
(Mehmet Çavuş)

Bu şiirin ana duygusu aşağıdakilerden hangisidir?

- A) Sevinç
B) Özlem
C) Pişmanlık
D) Kararsızlık

13. Edebiyatın, öykünün filizlendiği; kültürün yeşerdiği topraklardır masallar. Annemizin beşiği misali, tıngır mıngır ruhumuzu okşayan düşler ülkesidir onlar. Geçmiş zaman gecelerinin eğlencesi, nine-dede-torun sohbetlerinin can yoldaşlarıdır...

Bu metnin konusu aşağıdakilerden hangisidir?

- A) Kültürün değeri
B) Edebiyatın anlamı
C) Masalların önemi
D) Öykülerin zenginliği

14. Okuma süreci içinde her okuyucu aslında kendini okur. Yazarın ürettiği eser, insanın çeşitli hâllerini gösteren bir fotoğraf albümü görevi görür. Böylece okuyucu, kitabı okuduktan sonra kendisiyle ilgili birçok şeyin farkına vararak kendisini keşfeder.

Bu metnin ana fikri aşağıdakilerden hangisidir?

- A) Okumak, kitap aracılığıyla yazarı keşfetmektir.
B) Kitaplar, gerçek olaylardan esinlenerek yazılır.
C) Yazarın görevi düşüncelerini okuyucuya ulaştırmaktır.
D) Kitap okumak, insanın kendisini tanıma yolculuğudur.

15. (1) Çok eskiden elektrik olmadığı için evler ve sokaklar aydınlık değildi. (2) Evlerde radyo ve televizyon da yokmuş. (3) Bu yüzden çocuklar, çevreyi iyice aydınlatan sokak lambasının ışığında, oyun oynamanın tadına doyamıyorlarmış. (4) Büyükler de akşamları, komşularını ziyaret ediyorlarmış.

Numaralandırılmış cümlelerin hangisinde paragrafta anlatılanlarla ilgili çelişkili bir ifade vardır?

- A) 1 B) 2 C) 3 D) 4

16. 1. Kuşun kaçmasını istemediği için yerinden kıpırdamadı.
2. Sonra gelip onun omzuna kondu.
3. Kuş bir kanat çırpması ile daldan havalandı.
4. Kemal'in kalbi heyecanla çarpmaya başladı.
5. Kemal'in başı üstünde, birkaç daire çizerek uçtu.

Numaralandırılmış cümleler, olayların oluş sırasına göre nasıl sıralanmalıdır?

- A) 1, 5, 4, 2, 3 B) 2, 3, 4, 1, 5
C) 3, 5, 2, 4, 1 D) 4, 2, 5, 1, 3

17. Afrika'daki filler, yaşam alanları gittikçe daraldığı için yiyecek bulmakta zorlanıyorlar. Bu nedenle tarlalardaki ürünleri yiyorlar. Çiftçiler de filleri uzaklaştırmak için onları korkutmaya çalışıyorlar. Ancak bunun pek işe yaradığı söylenemez. Çünkü korkan filler saldırganlaşıyorlar. Bir grup doğa korumacı, tarlaları fillerden koruyacak bir şey bulmuşlar. Acı biber! Bibere acılığını veren kimyasal maddenin kokusu filleri kaçırıyor.

Bu bilgilere göre, metinde belirtilen "sorun"un çözümü aşağıdakilerden hangisidir?

- A) Acı biber tarlalarını, diğer tarlalardan uzaklaştırmak
B) Acı biber tarlalarını, çevreye zarar vermeden ilaçlamak
C) İklim şartlarına göre acı biber tarımı yapmak
D) Tarlaların çevresinde acı biber yetiştirmek

18. Bir köye geldim, hiç bilmediğim bir köye... Yollarının genişliği dikkatimi çekti. Dört bir yandaki çiftliklerin çevresi büyük ağaçlarla kaplanmıştı. Bir yağmur sonrasıydı, temiz bir hava vardı, her şey pek hoşuma gitti. Bunu çiftlik kapılarının önündeki köylülere verdiğim selamlarla belli etmeye çalıştım. Çekimser ama nazik bir şekilde selamıma karşılık verdiler. Kalacak bir yer bulsam burada gecelerdim, diye düşündüm.

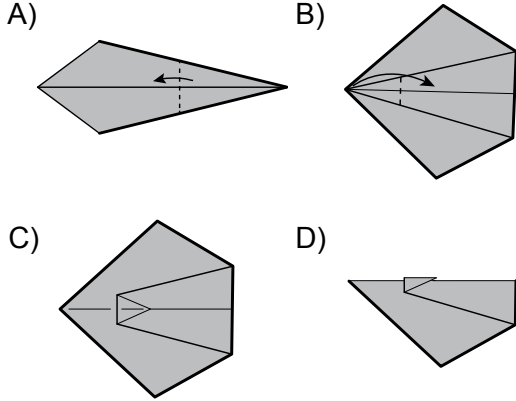
Bu parçadaki kişi ile ilgili olarak aşağıdakilerden hangisi söylenebilir?

- A) Memnuniyetini çevresindekilerle paylaşmaktadır.
B) Bir orman köyüne geldiğini düşünmektedir.
C) Köylülerin konukseverliği hoşuna gitmiştir.
D) Köyün nüfusunun az olması dikkatini çekmiştir.

19. AŞAMALAR

1. Kare şeklindeki kâğıdı, çapraz iki köşesi üst üste gelecek şekilde katlayıp tekrar açın.
2. Oluşan çapraz katlama izine kadar, karşılıklı iki köşeyi kenarları yan yana gelecek şekilde katlayıp kâğıdı çevirin.
3. Sivri köşeyi, karşısındaki köşeye kadar katladıktan sonra, önündeki boşluğun ortasına kadar bir kez daha katlayın.

Kare şeklindeki bir kâğıt bu aşamalara göre katlandığında, aşağıdaki şekillerden hangisi ortaya çıkar?



20. Aşağıdakilerin hangisinde eş anlamlı sözcükler bir arada kullanılmıştır?

- A) Hiç yorulmadan sabah akşam yürüdü.
- B) Bahçede güçlü kuvvetli bir adam çalışıyordu.
- C) Kadın, çocuğa yavaşça yaklaşıp bir şeyler fısıldadı.
- D) Büyük elleriyle samanların arasında küçük bir çukur açtı.

21. Anlattıklarından sonra onun yüzünde beliren gülümseme görülmeye değerdi.

Bu cümlede, aşağıdaki sözcüklerden hangisi bir adın yerine kullanılmıştır?

- | | |
|------------|------------|
| A) sonra | B) onun |
| C) yüzünde | D) beliren |

22. Aşağıdaki altı çizili sözcüklerden hangisi diğerleriyle eş seslidir?

- A) Kara gözleri onu yaşından büyük gösteriyordu.
- B) Çok uzak mesafelere bile kara yolu ile giderdi.
- C) Kara görününce tayfalar rahat bir nefes aldı.
- D) Karşıdaki kara parçasını yağmur bulutları kaplamıştı.

23. “İçine tuz konulan kap” anlamına gelen bir kelime yapmak için “tuz” kelimesine aşağıdakilerden hangisi eklenmelidir?

- | | | | |
|--------|---------|--------|---------|
| A) -cu | B) -luk | C) -lu | D) -suz |
|--------|---------|--------|---------|

24. Aşağıdaki altı çizili sözcüklerden hangisinin ilk harfi büyük yazılmalıdır?

- A) Bu göl alabalık bakımından zenginmiş.
- B) Eşsiz doğasıyla köyümüz herkesi büyüledi.
- C) Çalıların üstünde, serçeler cıvıldaşarak uçuyordu.
- D) Kedisi pamuk, suyla oynamayı sevmiş.

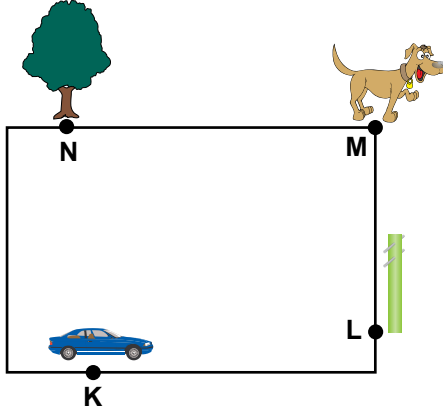
25. Dr() Levent()i de gezi programına ekledim.

Bu cümlede boş bırakılan yerlere, sırasıyla hangi noktalama işaretleri konmalıdır?

- | | |
|------------|------------|
| A) (.) (-) | B) (-) (.) |
| C) (/) (.) | D) (.) (') |

TÜRKÇE TESTİ BİTTİ.
MATEMATİK TESTİNE GEÇİNİZ.

1. Şekildeki ağacın bulunduğu nokta hangi harfle isimlendirilmiştir?



- A) L B) M C) N D) K

2. Bir kırtasiyedeki ataşlar, 100'lük ve 10'luk paketlerde satılmaktadır. 5 tane 100'lük, 3 tane 10'luk paket ataş alan bir kimse, toplam kaç tane ataş almış olur?

- A) 305 B) 350 C) 503 D) 530

3.



Şekildeki postacı, sokak numaralarını büyükten küçüğe doğru sıralayarak dağıtım yapacaktır. Postacı hangi sırayı izlemelidir?

- A) Neşe, Mutlu, Şen, Sevgi
B) Mutlu, Neşe, Sevgi, Şen
C) Mutlu, Neşe, Şen, Sevgi
D) Neşe, Mutlu, Sevgi, Şen

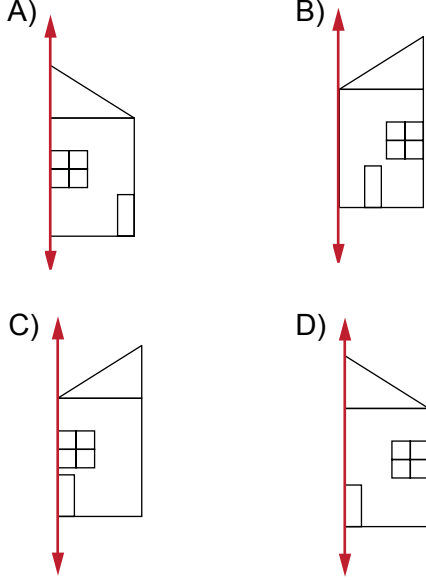
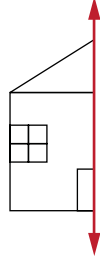
4. Aşağıdaki listede, bir pastanede bir gün içinde yapılan ürünler bulunmaktadır.



Pastaneci o gün, 450 ürün sattıktan sonra gelen her müşteriye, aldığı toplam ürün sayısı kadar ürün hediye etmiştir. Bu ürünlerin tümü gün içinde bittiğine göre, pastaneci kaç adet ürün hediye etmiştir?

- A) 16 B) 18 C) 28 D) 56

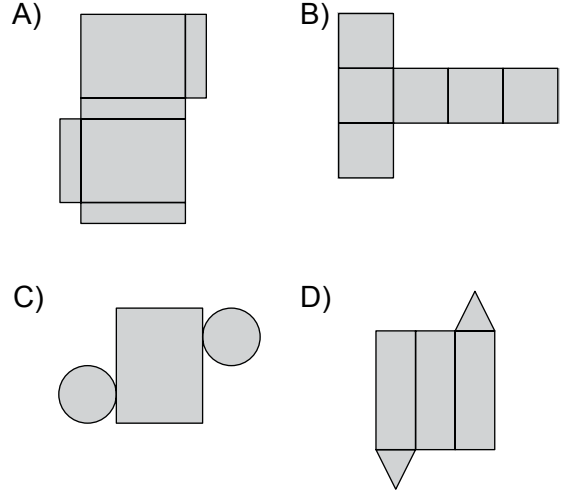
5. Yandaki şeklin verilen doğruya göre simetriği aşağıdaki-lerden hangisidir?



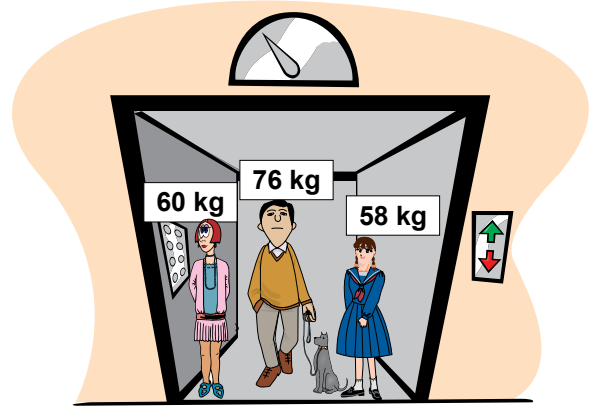
6. Çalışkanlar İlköğretim Okulunun ilkököl kısmında 513, ortaokul kısmında 437 öğrenci vardır. Bu okulda bulunan 5 ana sınıfının her birinde 10 öğrenci olduğuna göre, okuldaki toplam öğrenci sayısı kaçtır?

A) 950 B) 960 C) 990 D) 1000

7. Aşağıdaki düzlemsel şekillerden hangisi üçgen prizmanın bir açınıdır?



8. Hareket hâlinde olan şekildeki asansör, en fazla 200 kg yük taşımaktadır. Şekilde verilenlere göre köpek, en fazla kaç kilogram olabilir?




A) 2 B) 6 C) 8 D) 9

9. Ayşegül, her birinde 3 boncuk takılı olan 5 kolyeyi bir paket içinde satmaktadır. Bu paketlerin 50 tanesinde toplam kaç boncuk bulunur?

A) 150 B) 500 C) 600 D) 750

10. 98 tane elma şekildeki sepetlere eşit olarak dağıtılmıştır. Her bir sepette kaç tane elma vardır?

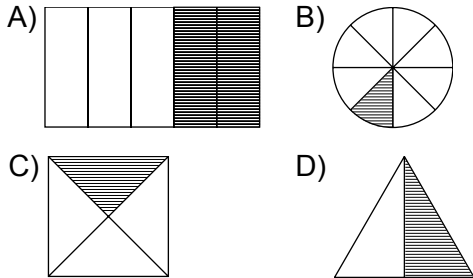


- A) 7 B) 10 C) 14 D) 16


11. 743 sayısı ile aşağıdaki sayılardan hangisi toplanırsa toplam, çift sayı olur?

- A) 16 B) 27 C) 32 D) 40

12. Aşağıda eş parçalara ayrılmış şekillerden hangisindeki taralı bölge, kesrin birimini belirtmez?



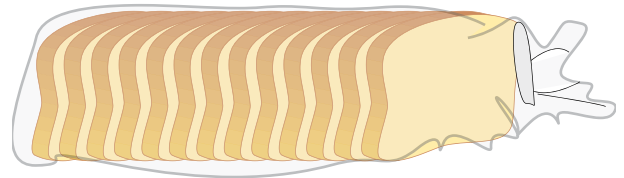
13. Bir terzi, düğme kutusundaki 72 düğmenin $\frac{1}{9}$ 'ini elindeki cekete dikmiştir. Terzinin düğmeleri diktiği bu ceket, aşağıdakilerden hangisi olabilir?



14. Bir okulda gazete toplama kampanyası düzenleniyor. 3A sınıfı 787 kilogram gazete, 3B sınıfı 972 kilogram gazete topluyor. Bu kampanyada 3B sınıfı 3A sınıfından kaç kilogram daha fazla gazete toplamıştır?

- A) 185 B) 195 C) 285 D) 295

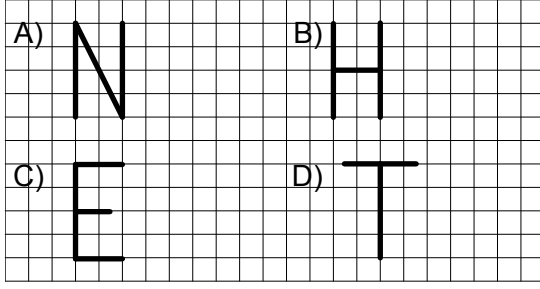
15.



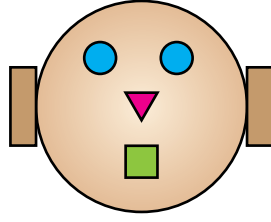
Cemil Bey, müşterilerine tost yapmak için, yukarıdaki dilimlenmiş ekmekten 5 adet alıyor. İki dilimden bir tost yapıldığına göre, Cemil Bey, bu ekmeklerle kaç tost yapabilir?

- A) 31 B) 32 C) 33 D) 34

16. Aşağıda tellerle oluşturulmuş harflerin hangisinde dik açı yoktur?



17. Yandaki modelde bulunan düzlemsel şekillerin toplam kaç köşesi vardır?



- A) 15 B) 16 C) 17 D) 18

18. Resimdeki Bahadır'ın boyu 56 cm'dir. Aralarındaki boy farkı 1 metre 91 santimetre olduğuna göre, Sultan'ın boyu kaç santimetredir?

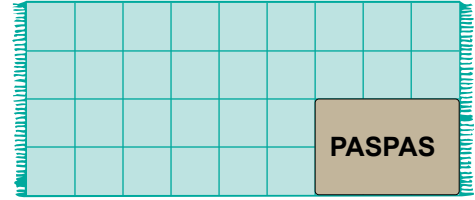


- A) 230 B) 247 C) 260 D) 293

19. 14 litre meyve suyunun bir kısmı 4 tane 2 litrelik şişeye dolduruluyor. Geri kalan meyve suyu en az kaç tane yarım litrelik şişeye doldurulur?


- A) 6 B) 10 C) 12 D) 20

20. Mehtap, evdeki halının yüzeyini üzerine serdiği paspas ile ölçüyor. Şekle göre, bu halı kaç paspas büyüklüktedir?




- A) 4 B) 6 C) 8 D) 9

21.



Funda alış veriş arabasındaki ürünleri almıştır.

Buna göre, 25 lirası olan Funda'nın, para üstü olarak alacağı miktar, aşağıdakilerin hangisinde gösterilmiştir?

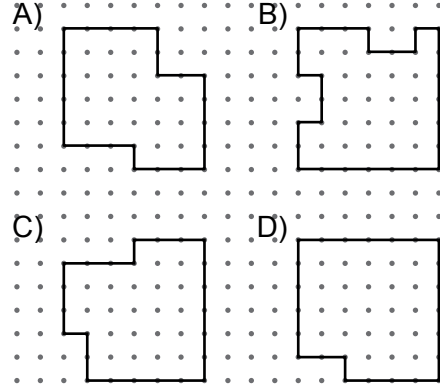
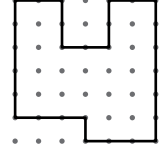


22. Şekildeki saat, 2 saat 15 dakika sonra kaç gösterir?



A) 2.00 B) 3.00 C) 11.15 D) 12.15

23. Verilen şeklin çevresinin uzunluğu aşağıdakilerden hangisinin çevresinin uzunluğuna eşittir?



24. Caner, kumbarasına her hafta aynı miktarda para atmaktadır. Caner'in 4 hafta boyunca biriktirdiği para miktarlarını gösteren tablo aşağıdakilerden hangisi olabilir?

A)

Hafta	Para Miktarı (TL)
1.	10
2.	30
3.	50
4.	70

B)

Hafta	Para Miktarı (TL)
1.	10
2.	20
3.	40
4.	80

C)

Hafta	Para Miktarı (TL)
1.	15
2.	30
3.	45
4.	60

D)

Hafta	Para Miktarı (TL)
1.	20
2.	40
3.	70
4.	90

25. Fidan'ın pazardan aldığı 6 poşet sebzenin tamamı 12 kilogram gelmektedir. Bagajdaki poşetlerde eşit miktarlarda sebze olduğuna göre, bunların her birinde kaç kilogram sebze bulunmaktadır?



A) 1

B) 2

C) 3

D) 4

**MATEMATİK TESTİ BİTTİ.
HAYAT BİLGİSİ TESTİNE GEÇİNİZ.**

1. Türkiye Cumhuriyeti'nde kadın erkek eşitliği aşağıdakilerden hangisi ile sağlanmıştır?

- A) Tevhid-i Tedrisat Kanunu
- B) Kabotaj Kanunu
- C) Soyadı Kanunu
- D) Medeni Kanun

2. Selanik Askerî Rüştîyesi'ni bitiren Mustafa Kemal öğrenimine aşağıdaki okulların hangisinde devam etmiştir?

- A) İstanbul Harp Okulu
- B) Şemsi Efendi İlkokulu
- C) İstanbul Harp Akademisi
- D) Manastır Askerî İdadisi

3.



Serkan'ın bu soruya vermesi gereken cevap aşağıdakilerden hangisidir?

- A) Zafer Bayramı
- B) Cumhuriyet Bayramı
- C) Ulusal Egemenlik ve Çocuk Bayramı
- D) Atatürk'ü Anma Gençlik ve Spor Bayramı

4. I. Atatürk'e başöğretmen unvanının verilmesi
 II. Mustafa Kemal'in Cumhurbaşkanı seçilmesi
 III. Ankara'da Büyük Millet Meclisi'nin açılması

Bu gelişmelerin oluş sırası aşağıdakilerden hangisidir?

- A) I - II - III
- B) III - I - II
- C) III - II - I
- D) I - III - II

5.

**NASIL BULMAK
İSTİYORSAN
ÖYLE BIRAK!**

Verilen afişte aşağıdakilerden hangisi vurgulanmak istenmiştir?

- A) Sevgi B) Temizlik
C) Barış D) Tutumluluk

6.



Balon içindeki ifadelerden hangileri ilköğretimin amaçlarındandır?

- A) I ve IV B) II ve III
C) III ve IV D) I ve II

7. Birleşmiş Milletler Eğitim, Bilim ve Kültür Örgütü'nün kısaltması aşağıdakilerden hangisidir?

- A) UNESCO B) AGİK
C) UNICEF D) SUNFED

8. Aylin markette gezerken, gördüğü bir ürünü çok beğenir.

Aylin'in bu ürünü alırken aşağıdakilerden hangisine öncelik vermesi gerekir?


- A) Fiyatına B) İhtiyacına
C) TSE belgesine D) Üretim tarihine

9. Ankara'da doğdu. Küçük yaşta yüzmeye başladı. 14 yaşında Millî Paletli Yüzme Takımı'na girdi. 1999, 2000 ve 2001 yıllarında serbest dalışta dünya rekoru kırdı.

Yukarıdaki tanıtım kime aittir?

- A) Gazi Yaşargil
B) Semahat Demir
C) Yasemin Dalkılıç
D) Sabiha Bengütaş

10.



Yukarıdaki görsellerden hangisi günümüze en yakın zamanda kullanılan iletişim aracıdır?

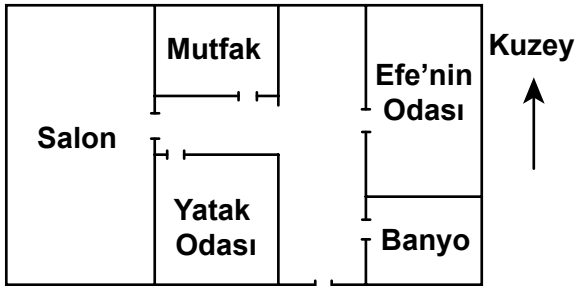
- A) I B) II C) III D) IV

11. • Gündüzler uzamaya başlar.
• Ağaçlar tomurcuklanır.
• Hava ısınmaya başlar.

Yukarıda verilen doğal değişimler hangi mevsimde görülür?

- A) Kış B) İlkbahar
C) Yaz D) Sonbahar

12.



Yukarıda verilen krokide Efe'nin odası mutfaka göre hangi yöndedir?

- A) Doğu B) Batı
C) Kuzey D) Güney

13. Aşağıdakilerden hangisi deprem anında yapılması gereken bir davranıştır?

- A) Yakınlara haber vermek.
B) Görevlilere yardım etmek.
C) Yatağını duvar kenarına çekmek.
D) Sağlam bir eşyanın yanına çömelmek.

14.

Tablo: Haftalık Hava Tahmin Raporu

	Pazartesi	Salı	Çarşamba	Perşembe	Cuma	Cumartesi	Pazar
Sabah							
Öğleden sonra							

Verilen tabloya göre aşağıdakilerden hangisi söylenemez?

- A) Haftanın ilk günü güneşlidir.
B) Cuma günü yağmurludur.
C) Hafta sonu bulutludur.
D) Hafta ortası rüzgârlıdır.

15. Akdeniz kıyısında yer alan Çukurova, Türkiye Fiziki Haritası'nda hangi renkle gösterilir?

- A) Mavi B) Sarı
C) Yeşil D) Kahverengi

16. Ata, öğretmeninin verdiği ödevi aşağıdaki yönergeye göre bilgisayarda yazdı.

- 1- Bilgisayar kasasındaki “Açma-Kapama” düğmesine basıp, ekranda masaüstü açılıncaya kadar bekleyin.
- 2- Masaüstü ekranındaki dosyanın üzerine farenin imlecini getirip, dosyaya farenin sol tuşuyla çift tıklayın.
- 3- Klavyeyi kullanarak çalışmanızı yaptıktan sonra “Enter” tuşuna basınız.
- 4-

Ata’nın yazdıklarını bilgisayara kaydetmesi için, yönergenin 4. adımında ne yapması gerekir?

- A) Dosya menüsünde açılan pencerede farenin sol tuşuyla “kaydet” yazısına bir kez tıklamalı.
- B) Farenin imlecini “Dosya” üzerine sürükleyerek “çıkış” yazısının üzerine tıklamalı.
- C) Bilgisayar kasasındaki “Açma-Kapama” düğmesine 2. kez basıp bilgisayarı kapatmalı.
- D) Farenin imlecini bilgisayar ekranının sol alt köşesindeki “kapat” yazısının üzerine sürükleyerek bir kez tıklamalı.

17. İrem, evdeki bazı eşyaları yapıldıkları maddelere göre aşağıdaki gibi sınıflandırdı.

Eşya	yapım maddesi
tencereler	→ çelik
bardaklar	→ cam
kaşıklar	→ metal
tabaklar	→ porselen

İrem, bu sınıflandırmada eşyaların farklı maddelerden yapıldıklarını farketti.

Buna göre, İrem’in sınıflandırdığı eşyalar neden farklı maddelerden yapılmıştır?

- A) Güzel göründükleri için
- B) Az yer kapladıkları için
- C) Daha ucuza alınabildiği için
- D) Kullanım amacına uygun olduğu için

18. Öğretmen, sınıftaki öğrencilere tasarruf konulu bir değerlendirme formu dağıttı.

DEĞERLENDİRME FORMU EVET HAYIR

1. Dişlerimi fırçalarken musluğu açık bırakırım.		
2. Gerekmediğinde açık lambaları kapatırım.		
3. İzlemesem bile televizyonu açık bırakırım.		
4. Isı kaybını önlemek için evime yalıtım yaptırım.		

Oğuzcan, tutumlu bir öğrenci olduğuna göre, öğretmenin dağıttığı değerlendirme formunu nasıl doldurmalıdır?

A)

	EVET	HAYIR
1		X
2		X
3	X	
4		X

B)

	EVET	HAYIR
1	X	
2		X
3	X	
4		X

C)

	EVET	HAYIR
1		X
2	X	
3		X
4	X	

D)

	EVET	HAYIR
1	X	
2	X	
3		X
4		X

19. Ayşe, ısıtılan maddelerin uğradığı değişimleri gözlemlemek için aşağıdaki etkinliği yapıyor.



1.Önce bardağa buzları koyunuz.



2.Buzların erimesini gözleyin.




3.Çaydanlıktaki suyu kaynatarak sonucu açıklayınız.

Ayşe'nin yaptığı bu etkinlikte suyun hallerinin sıralanışı hangisinde doğru verilmiştir?

- | | <u>1'de</u> | <u>2'de</u> | <u>3'te</u> |
|----|-------------|-------------|-------------|
| A) | Katı | Gaz | Sıvı |
| B) | Katı | Sıvı | Gaz |
| C) | Sıvı | Katı | Gaz |
| D) | Gaz | Sıvı | Katı |

20. Süha, yapacağı etkinlik için topladığı ulaşım araçları resimlerini geçmişten günümüze doğru sıralamak istiyor.




Süha, resimleri soldan sağa doğru nasıl sıralamalıdır?


A)



B)



C)



D)



21. Ahmet :

— Eyvah! senden okumak için aldığım dergiyi evde unuttum.

Emel :

— Getirmene gerek yok, ben onu okudum.

Bu konuşmalara göre Ahmet ve Emel'in yüz ifadeleri hangisinde verilenler olabilir?

Ahmet

Emel

A)



B)



C)



D)



22. Yanda 10 yaşındaki sağlıklı bir öğrencinin öğle yemeğinde tükettiği besinler verilmiştir.

- Su
- Tavuk
- Yoğurt
- Makarna

Bu öğrencinin beslenmesiyle ilgili olarak aşağıdakilerden hangisi doğrudur?

- A) Hayvanlardan elde edilen besinleri de yemeliydi.
 B) Sebze ve meyve de yemeliydi.
 C) Su yerine gazoz içmeliydi.
 D) Bir bardak süt de içmeliydi.

23. Aşağıda günlük kişisel bakımını yapan bireyler verilmiştir. Bunlardan hangisi kaynakları boşa harcadığı için eleştirilebilir?

A)



B)



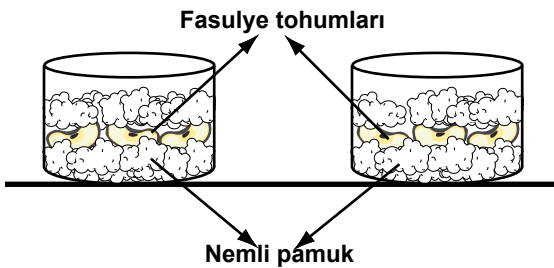
C)



D)



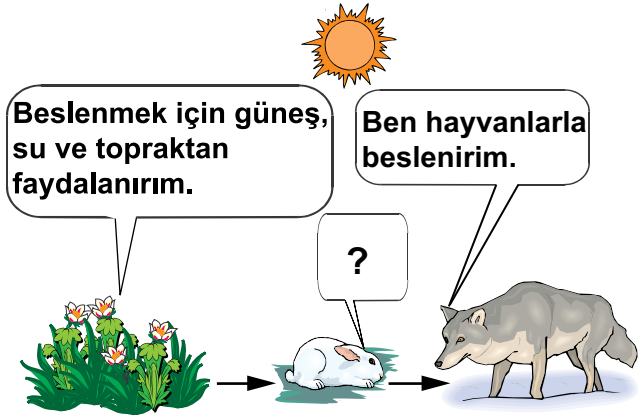
24. Bir öğrenci şekildeki gibi birbirinin aynı iki kap hazırlıyor.



Kaplardan birini karanlık bir odaya bırakıyor. Buna göre öğrenci, hangi durumu araştırıyor?

- A) Tohumlar toprakta çimlenir mi?
- B) Kuru ortamda çimlenme olur mu?
- C) Işık almayan tohumlar çimlenir mi?
- D) Çimlenen tohumlara ne kadar su verilmelidir?

25. Şekilde bir besin zincirindeki canlıların özellikleri verilmiştir.



Buna göre “?” yerine hangisi yazılmalıdır?

- A) Çeşitli bitkilerle beslenirim.
- B) Sadece hayvanlarla beslenirim.
- C) Hem bitki, hem de hayvanlarla beslenirim.
- D) Besinimi topraktan, güneşten yararlanarak elde ederim.

TEST BİTTİ.
CEVAPLARINIZI KONTROL EDİNİZ.

SINAV SÜRESİNCE UYULACAK KURALLAR

- 1. Adaylar, sınav kurallarına ve salon görevlilerinin tüm uyarılarına uymak zorundadırlar. Kurallara ve uyarılara uymayan adayların sınavları geçersiz sayılacaktır.**
- 2. Sınav başladıktan sonra adayların salon görevlileri ve birbirleri ile konuşmaları, kalem, silgi vb. şeyleri istemeleri yasaktır.**
- 3. Adaylar sınav süresince, sınav giriş belgesi ile birlikte kimlik belgelerinden birini (nüfus cüzdanı veya pasaport) masalarının üzerinde bulundurmamak zorundadırlar.**
- 4. Sınav evraklarını teslim etmeyen, soru kitapçıklarının sayfalarından bir kısmını eksik teslim edenlerin sınavları geçersiz sayılacaktır.**

SALON GÖREVLİLERİNCE SINAV BAŞLAMADAN ÖNCE ADAYLARA YAPILACAK SON UYARI

- Soracağınız bir şey var mı? Varsa, şimdi sorunuz.
- Sınav başladıktan sonra sorularınıza cevap verilmeyecektir.
- Başlama zilini bekleyiniz.
- Hepinize başarılar dileriz.

(Salon başkanı başlama ve bitiş saatini tahtaya yazacaktır.)

Bu kitapçığın her hakkı saklıdır. Hangi amaçla olursa olsun, kitapçığın tamamının veya bir kısmının Millî Eğitim Bakanlığı Yenilik ve Eğitim Teknolojileri Genel Müdürlüğünün yazılı izni olmadan kopya edilmesi, fotoğraflarının çekilmesi, bilgisayar ortamına alınması, herhangi bir yolla çoğaltılması, yayımlanması veya başka bir amaçla kullanılması yasaktır. Bu yasağa uymayanlar, doğabilecek cezai sorumluluğu ve kitapçığın hazırlanmasındaki mali külfeti peşinen kabullenmiş sayılır.

**16 HAZİRAN 2012 TARİHİNDE YAPILAN TED ANKARA KOLEJİ VAKFI ÖZEL
İLKÖĞRETİM OKULU SEÇME SINAVI
4. SINIFLAR CEVAP ANAHTARI**

TÜRKÇE	MATEMATİK	HAYAT BİLGİSİ
1. A	1. C	1. D
2. C	2. D	2. D
3. B	3. A	3. A
4. A	4. C	4. C
5. B	5. D	5. B
6. C	6. D	6. B
7. B	7. D	7. A
8. C	8. B	8. B
9. A	9. D	9. C
10. A	10. C	10. D
11. D	11. B	11. B
12. B	12. A	12. A
13. C	13. D	13. D
14. D	14. A	14. D
15. C	15. B	15. C
16. C	16. A	16. A
17. D	17. A	17. D
18. A	18. B	18. C
19. C	19. C	19. B
20. B	20. B	20. A
21. B	21. D	21. D
22. A	22. C	22. B
23. B	23. B	23. B
24. D	24. C	24. C
25. D	25. A	25. A