

3.
SINIF



T.C.
MİLLÎ EĞİTİM BAKANLIĞI

TED ANKARA KOLEJİ VAKFI ÖZEL İLKÖĞRETİM OKULU SEÇME SINAVI
(2'den 3'e Geçenler)
16 HAZİRAN 2012 Saat: 14.00

Adayın Adı ve Soyadı :
Aday Numarası (T.C. Kimlik No) :

DERS ADI	SORU SAYISI	TOPLAM SORU SAYISI	SINAV SÜRESİ (DAKİKA)
TÜRKÇE	20	60	60
MATEMATİK	20		
HAYAT BİLGİSİ	20		

ADAYLARIN DİKKATİNE!

1. Sınav başladıktan sonra ilk **30** dakika dolmadan dışarı çıkmayınız.
2. Sınav sırasında sözlük, hesap makinesi, saat fonksiyonu dışında özellikleri bulunan saat veya çağrı cihazı, cep telefonu, telsiz, radyo ve bilgisayar özelliği bulunan elektronik cihazları yanınızda bulundurmuyunuz. Bu araçları kullanmanız veya kopya çekmeye teşebbüs etmeniz hâlinde sınavınız geçersiz sayılacaktır.
3. Soruları ve sorulara verdiğiniz cevapları, yanınızda götürmek amacıyla kaydetmeyiniz; hiçbir şekilde dışarı çıkarmayınız.
4. Sınavın değerlendirilmesi aşamasında, bilgisayar ortamında yapılan kopya analizinde, herhangi bir testten ikili veya toplu kopya tespiti hâlinde ilgili testiniz geçersiz sayılacaktır.
5. Kopya çekmeniz, başka adayın sınav evrakını kullanmanız ve geçerli kimlik belgenizi ibraz edemediğiniz durumlarda sınavınız geçersiz sayılacaktır.

CEVAP KÂĞIDI VE SORU KİTAPÇIĞI İLE İLGİLİ AÇIKLAMALAR

1. Cevap kâğıdınızdaki bilgilerin doğruluğunu kontrol ediniz ve cevap kâğıdınızı imzalayınız.
2. Cevap kâğıdındaki bilgiler size ait değilse veya cevap kâğıdı kullanılmayacak durumdaysa salon görevlilerinin temin edeceği yedek cevap kâğıdına kimliğinizle ilgili bilgileri açıklamalar doğrultusunda yazınız ve kodlayınız.
3. Cevap kâğıdı üzerindeki kodlamaları kurşun kalemle yapınız.
4. Değiştirmek istediğiniz bir cevabı, yumuşak silgiyle cevap kâğıdını örselemeden temizce siliniz ve yeni cevabınızı kodlayınız.
5. Cevap kâğıdında **Türkçe, Matematik ve Hayat Bilgisi** testleri için üç ayrı sütun bulunmaktadır. Cevaplarınızı, cevap kâğıdındaki ilgili sütunlara yuvarlağın dışına taşırmadan kodlayınız.
6. **Soru kitapçığı üzerinde yapılan cevaplandırmalar dikkate alınmayacaktır.**
7. Soru kitapçığının sayfalarını kontrol ediniz, baskı hatası var ise değiştirilmesini sağlayınız.
8. Soruların çözümü için size ayrıca boş kâğıt verilmeyecektir. Soru kitapçığının içindeki boş alanları çözümlerinizi için kullanabilirsiniz.
9. Cevaplamaya istediğiniz testin sorusundan başlayabilirsiniz. Cevabını bilmediğiniz sorular üzerinde fazla zaman kaybetmeden diğer sorulara geçiniz. Zamanınız kalırsa bu sorulara daha sonra dönebilirsiniz.
10. Puanlama; her test için yanlış cevap sayısının **üçte biri, doğru cevap sayısından çıkarılarak** elde edilecek geçerli cevaplar üzerinden yapılacağı için cevap kâğıdı üzerinde rastgele cevaplama yapmayınız.
11. Sınav bitiminde, **soru kitapçığı ve cevap kâğıdını** salon görevlilerine teslim ediniz.

BAŞLAYINIZ DENİLMEYEN SORU KİTAPÇIĞINIZI AÇMAYINIZ.

1.

ırmak - gömlek - iplik - hediye

Yukarıdaki kutuda verilen kelimelerden hangisi sözlükte en başta yer alır?

- A) iplik B) ırmak
C) gömlek D) hediye

2. Bahar geldi. Sürüler yaylalarına döndü. Yamaçlardaki tüm ağaçlar çeşit çeşit renklere büründü. Bu, baharın tabiat üzerinde meydana getirdiği renk cüm-büşüydü.

Bu metindeki altı çizili ifadenin anlamı aşağıdakilerden hangisidir?

- A) Her yerin tek renge boyanmış olma durumu
B) Türlü renklerin oluşturduğu karışım
C) Renkleri inceleyen bilim dalı
D) Renk veren madde

3. Aşağıdaki altı çizili sözcüklerden hangisi, anlam bakımından diğerlerinden farklıdır?

- A) Ayağındaki çorabın biri hâlâ yaştı.
B) Onun yaşı hepimizden büyüktü.
C) İki yaşında konuşmaya başladı.
D) "Kaç yaşındasınız?" sorusu, onu şaşırttı.

4. "Sağlıklı yaşamayı herkes ister fakat ..." cümlesinde altı çizili sözcük dikkate alındığında, üç nokta (...) ile belirtilen yere aşağıdakilerden hangisi getirilmelidir?

- A) insanlar sevdikleriyle yaşamayı arzularlar.
B) insanlar bu düşüncelerini herkese anlatırlar.
C) kimse spor salonlarından çıkmak istemez.
D) kimse bunun için yeteri kadar çaba göstermez.

5. Sabahleyin, kelebek dolu bahçenin içinde kuş seslerini dinleyerek yürüdük.

Bu cümlede aşağıdaki sorulardan hangisinin cevabı yoktur?

- A) Nasıl B) Nerede
C) Niçin D) Ne zaman

6. Aşağıdaki cümlelerin hangisinde karşılaştırma vardır?

- A) Fikret, amcasından daha uzundu.
B) Betül, okula gitmek için hazırlandı.
C) Suat, pencereden dışarı bakıyordu.
D) Özlem, bir saat sonra uyudu.

7. Aşağıdaki cümlelerin hangisinde sebep-sonuç ilişkisi vardır?


- A) Yaz tatili çok eğlenceli geçiyordu.
- B) Genç kız, gülümseyerek herkesi selamladı.
- C) Bu güzel kuşları, daha önce de görmüştü.
- D) Karnı acıktığı için hemen mutfağa gitti.

8. 1. saygıyla
2. eğitim
3. başlar
4. öğrencilere

Numaralandırılmış sözcükler anlamlı ve kurallı bir cümle oluşturmak için nasıl sıralanmalıdır?

- A) 1, 4, 3, 2
- B) 2, 4, 1, 3
- C) 3, 1, 2, 4
- D) 4, 3, 1, 2

9. Aşağıdakilerden hangisi “düşünceli” bir yüz ifadesidir?



10.



Bu afişte verilen mesaj aşağıdakilerden hangisidir?

- A) Emniyet kemeri, arka koltukta da takılmalıdır.
- B) Emniyet kemeri, sizin en yakın arkadaşınızdır.
- C) Emniyet kemerinizi takın, hayatınızı koruyun.
- D) Emniyet kemeri takmadan yolculuk yapmak, trafik kurallarına aykırıdır.

11. Sabah artık gözünü erken açar,
Ta uzakta meleşirler kuzular,
Her kuşun, her kuzunun neşesi var;
Ey çocuklar! Sevinin geldi bahar.
(İbrahim Alaaddin Gövsa)

Bu şiirin ana duygusu aşağıdakilerden hangisidir?

- A) Bahar sevinci
- B) Hayvan sevgisi
- C) Doğaya özlem
- D) Çocuk hasreti

12. Oyuncular yerlerinde duramıyordu. Oyun alanının kenarında sabırsızlıkla bekliyorlardı. Bir taraftan da takım kaptanının kim olacağını tartışıyorlardı. Bu tartışmanın sonunda takım kaptanı olarak Kerim'i seçtiler. Kerim, bunu duyunca çok heyecanlandı.

Bu parçadaki altı çizili ifade hikâyenin hangi ögesidir?

- A) Ana karakter B) Yer
C) Olay D) Zaman

13. Güneş sistemindeki dokuz gezegen arasında, en çok merak edileni kuşkusuz Mars'tır. Kırmızı rengiyle eski çağlardan bu yana ilgi çeken bu gezegen, yirminci yüzyılda da sulama kanallarına benzeyen yüzey şekilleriyle dikkat çekmiş, bu yüzden de bilim kurgu romanlarında sıkça yer almıştır.

Bu metnin konusu aşağıdakilerden hangisidir?

- A) Güneş sistemi
B) Mars gezegeni
C) Bilim kurgu romanları
D) Sulama kanalları

14. Büyükler çoğu kez oyun konusunda pek de anlayışlı olamıyorlar. Üstünüz başınız kirlenir, düşersiniz, diye oynamayı yasaklamaya çalışıyorlar. Oysa oyun oynamak çocuk için bir ihtiyaçtır. Çünkü çocuk; arkadaşlığı, dayanışmayı, özveriyi ve karşılaştığı zorlukları aşmayı hep oyunda öğrenir.

Bu parçada, asıl anlatılmak istenen aşağıdakilerden hangisidir?

- A) Oyun oynarken dikkatli olmak gerekir.
B) Oyuncaklarımızı arkadaşlarımızla paylaşmalıyız.
C) Oyun, çocukları hayata hazırlayan bir araçtır.
D) Oyun oynamak için büyüklerden izin almalıyız.

15. 1. Sonra, biraz dinlenmek amacıyla sahile çıktı.
2. Mert arkadaşlarıyla denize girdi.
3. Kurulanmak için, havlusunu bıraktığı plaj şemsiyesine koşarak gitti.
4. Onlarla uzun süre yüzme yarışı yaptı.

Numaralandırılmış cümleler, olayların oluş sırasına göre nasıl sıralanmalıdır?

- A) 2, 3, 1, 4 B) 2, 4, 1, 3
C) 3, 1, 4, 2 D) 3, 4, 1, 2

16. Sarıkamış'ı duymuşsunuzdur. Burası, etrafı ormanlarla çevrili; havası, suyu sağlık kaynağı olan şirin bir ilçemizdir. İşte bu ilçemizde, geçen yıllara kadar sel nedir bilinmezdi. Ama son yıllarda şiddetli bir yağmur yağdı mı hemen şehrin bazı semtleri sel altında kalıyor. Bunun sebebini herkes biliyor; bu durum, çevredeki ormanları seneden seneye tüketmenin bir sonucudur.

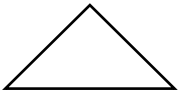
Aşağıdakilerden hangisi metinde belirtilen "sorun"un çözümlerinden biri değildir?

- A) Ağaçların bilinçsizce kesilmesini engelleyici tedbirler almak
- B) Ağaçlandırma çalışmaları için halkı teşvik etmek
- C) Ağaçların çokça bulunduğu alanlara yerleşmek
- D) Ağaçsız yerleri ağaçlandırmak

17.

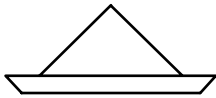
AŞAMALAR

1. Kâğıdı yandaki iki köşesi üst üste gelecek şekilde katlayıp açın.
2. Kâğıdın en uzun kenarını, yaklaşık 2 cm kalınlığında bir şerit oluşturacak şekilde katlayın.
3. Şeridi oluşturan iki köşenin kenarlarını, kâğıdın ortasındaki katlama iziyle üst üste getirip bükün.

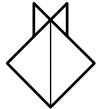


Bu şekildeki bir kâğıt, yukarıdaki aşamalar takip edilerek katlandığında, aşağıdakilerden hangisi ortaya çıkar?

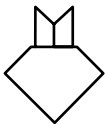
A)



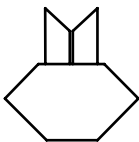
B)



C)



D)



18. Kitaplarla kurduğum ilişki sağlamdır. Ömür boyu yanı başımda, "her yerde" elimin altındadır onlar. Kitaplar beni hoşlanmadığım durumlardan **dilediğim zaman** ayırır. Beni hemen kendilerine çeker, içimdekilerden uzaklaştırırlar.

Aşağıdakilerden hangisi, metinde dikkat edilmesi gereken bir ifade olarak verilmemistir?

- A) Sağlamdır
- B) Her yerde
- C) Kitaplar
- D) Dilediğim zaman

19. Beyaz örtünün üstündeki siyah leke dikkat çekiyordu.

Bu cümledeki altı çizili sözcükler arasındaki anlam ilişkisi aşağıdakilerin hangisinde vardır?

- A) Sağlık - sıhhat
- B) İsim - ad
- C) Sıcak - soğuk
- D) Tamir - onarım

20. Ekrem()in mutsuz olması mümkün değildi. Çünkü sıradan bir şey bile onu mutlu ederdi() Her gün buraya gelip dalgaların() martıların ve vapurların sesini dinlerdi.

Bu parçada yay ayraçla belirtilen yerlere, sırasıyla aşağıdaki noktalama işaretlerinden hangileri getirilmelidir?

- A) (-) (.) (.)
- B) (') (.) (.)
- C) (/) (.) (.)
- D) (?) (.) (.)

TÜRKÇE TESTİ BİTTİ.
MATEMATİK TESTİNE GEÇİNİZ.

1. 13'ten başlanarak ileriye doğru ritmik sayma yapılacaktır. Aşağıdaki ritmik saymalardan hangisi yapılırsa 22 sayısı söylenir?






























A) İkişer ikişer B) Üçer üçer
C) Dörder dörder D) Beşer beşer

2. Yandaki toplama işleminde 39
verilmeyen toplanan kaçtır? $\begin{array}{r} + \\ \cdot \\ \hline \end{array}$

A) 52 B) 48 C) 38 D) 32

- 3. Aşağıdaki grafik, bir sınıfta yapılan anket sonuçlarına göre düzenlenmiştir.**

Sevilen Hayvanlar Grafiği

Köpek											
Balık											
Kedi											
Kuş											
	0				5						10

Resim kartlarıyla oluşturulan bu grafikte, hangi hayvanları sevenlerin sayıları farkı 6'dır?

A) Kedi ve köpek
B) Kedi ve kuş
C) Balık ve köpek
D) Balık ve kuş

4. Hatice'nin dayısı 45, halası 38, amcası 52 ve teyzesi 39 yaşındadır. Bu akrabalarının yaşlarına göre, büyükten küçüğe doğru sıralanışı aşağıdakilerden hangisidir?

A) teyze, hala, dayı, amca
B) dayı, teyze, hala, amca
C) amca, dayı, teyze, hala
D) amca, dayı, hala, teyze


5. Ayşe şekildeki saatin gösterdiği vakitte uyuyor. 6 saat sonra uyanıyor. Uyanıldığı vakti gösteren saatte, akrep hangi sayılar arasında olur?



A) 12 ile 1 B) 1 ile 2
C) 2 ile 3 D) 3 ile 4

6. Kerem, topladığı papatyalardan 17 tanesini arkadaşına verdi. Kalan 24 papatyayı annesine veren Kerem, kaç papatya toplamıştır?

A) 38 B) 41 C) 48 D) 51



Verilen örüntüyle aynı ilişkiye sahip olan örüntü aşağıdakilerden hangisidir?

A)



B)



C)



D)



8. “6 kedinin kaç ayağı vardır?” sorusu soruluyor.

Bu sorunun cevabı aşağıdaki hangi işlem yapılarak verilir?

A) $6 + 2$

B) $6 + 4$

C) 6×2

D) 6×4

9. $5 \times 7 = \square$

$7 \times \triangle = \square$

Yukarıdaki işlemlerde \triangle ve \square birer sayıyı belirtmektedir.

Buna göre, \triangle yerine hangi sayı gelir?

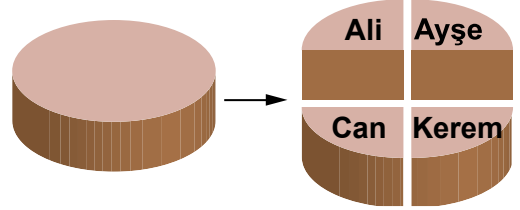
A) 5

B) 7

C) 12

D) 35

10.



Dört arkadaş bir pastayı yukarıdaki gibi eşit paylaşmışlardır. Hangilerinin payları toplamı yarım pasta eder?

A) Ayşe, Can

B) Ali, Ayşe, Kerem

C) Kerem, Can, Ali

D) Ali, Ayşe, Can, Kerem

11. Mehmet'in aldığı şekerin tanesi 7 kuruş, sakızın tanesi 10 kuruştur. 2 şeker ile 1 sakız alan Mehmet kaç kuruş ödemiştir?

A) 34

B) 27

C) 25

D) 24

12. Aşağıdaki harflerden hangisi, üzerindeki çizgiye göre simetrik değildir?

A) **M**

B) **H**

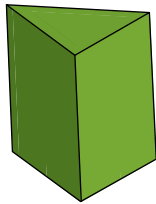
C) **S**

D) **O**

13. 2-A sınıfı öğrencileri Beden Eğitimi dersinde tek sıra oluyor. Ali sırada baştan ve sondan 11. dir. Bu sınıfta kaç öğrenci vardır?

A) 18 B) 19 C) 21 D) 22

14. Verilen prizmanın kaç tane yüzü vardır?



A) 5 B) 6 C) 7 D) 8

15. 35 yolcusu bulunan bir otobüsten durakta 7 yolcu indi. Yeni binenlerle birlikte 42 yolcusu bulunan otobüse, bu durakta kaç yolcu binmiştir?

A) 7 B) 12 C) 14 D) 28

16. Bir pastacı, aşağıdaki gibi her pastanın üstünü 3 tane çilekle süslüyor. Toplam 18 tane çilekle kaç pasta süsleyebilir?



A) 6 B) 15 C) 18 D) 21

17. Ahmet, aşağıda fiyatı verilen kuruyemişlerden satın alacaktır. 3 kg üzüm ile 2 kg leblebi aldığıında kaç lira öder?



1 Kg ÜZÜM
5TL



1 Kg LEBLEBİ
2 TL


- A) 35 B) 24 C) 21 D) 19

18. Bir okuldaki satranç kulübünün üye sayısı 38'dir. Bu kulübe 29 kişi daha üye oluyor.

Buna göre, kulübün yeni üye sayısı kaç olur?

- A) 49 B) 58 C) 57 D) 67

19. Yandaki ölçekli sürahi-
de 2 bardak su vardır.
Bu sürahiyi doldurmak
için kaç bardak daha
su konulmalıdır?



- A) 2 B) 4 C) 6 D) 8

20. Aşağıdakilerden hangisi standart olmayan bir ölçü birimidir?

- A) Karış B) Kilogram
C) Santimetre D) Metre

**MATEMATİK TESTİ BİTTİ.
HAYAT BİLGİSİ TESTİNE GEÇİNİZ.**

1. Her gün;

- 07.15'te evden çıkarım.
- 12.30'da öğle yemeği yerim.
- 15.00 ile 16.00 arası oyun oynarım.
- 21.30'da ise uyurum.

Gün içinde yaptıklarını böyle anlatan bir öğrenci için aşağıdakilerden hangisi söylenebilir?

- | | |
|-------------|---------------|
| A) Zeki | B) Planlı |
| C) Çalışkan | D) Ön yargılı |

2.

Adım Orhan Ergin, Isparta'nın Şarkikaraağaç ilçesinde doğmuşum. Ben beş yaşında iken Ankara'ya taşındık. Şu an sekiz yaşındayım ve mahallemizdeki Mehmet Akif İlköğretim Okulunun ikinci sınıfına gidiyorum.



Bu anlatım şekli aşağıdakilerin hangisine örnektir?

- | | |
|--------------|-----------|
| A) Anı | B) Hikâye |
| C) Öz geçmiş | D) Günlük |

3. Atatürk'e "Kemal" adının verildiği okul aşağıdakilerden hangisidir?

- A) Şemsi Efendi Okulu
B) İstanbul Harp Okulu
C) Manastır Askerî İdadisi
D) Selanik Askerî Rüştiyesi

4. Okuldaki kulüp ve grup çalışmalarına katılırken aşağıdakilerden hangisine öncelik vermeliyiz?

- A) Ailemizin fikirlerine
B) Yetenek ve ilgilerimize
C) Arkadaşlarımızın isteklerine
D) Okul müdürünün önerilerine

5. Çevremizdeki insanlarla iletişim kurarken aşağıdakilerden hangisini yapmamız uygun olmaz?

- A) Arkadaşımızı dikkatle dinlemek
B) Oyun bozan arkadaşımızı uyarmak
C) İnsanlara verdiğimiz sözleri tutmak
D) Hep kendi isteklerimizi kabul ettirmeye çalışmak

6.



Bu resimdeki kişilerin mesleği aşağıdakilerden hangisi olabilir?

- A) Mühendis B) Avukat
C) Gazeteci D) Ressam

7. İlköğretim 2. sınıfta okuyan bir öğrenci aşağıdaki işlerden hangisini yapabilir?

- A) Kapı kollarını tamir etmek
B) Babasının elbiselerini ütölemek
C) Sofra hazırlanırken yardım etmek
D) Haftalık market alışverişini yapmak

8. ☆ Koridorlarda koşmak
▲ Okula zamanında gelmek
■ Okulun eşyalarını özenli kullanmak
✱ Derste söz alarak konuşmak

Sembollerle eşleştirilen yukarıdaki davranışlardan hangisini yaparsak, kendimize ve başkalarına zarar verebiliriz?

- A) ☆ B) ▲ C) ■ D) ✱

9. Atatürk'ün önderliğinde gerçekleştirilen aşağıdaki yeniliklerden hangisi çağdaş bir görünüm kazanmamızı sağlamıştır?

- A) Soyadı Kanunu'nun kabul edilmesi
B) Ölçü ve tartıların değiştirilmesi
C) Kılık kıyafet değişikliğinin yapılması
D) Yeni Türk harflerinin kabul edilmesi

10. • Şiir ezberlenmesi
• Öğrencilerin halk oyunları hazırlamaları
• Okulun ve sınıfların bayraklarla süslenmesi

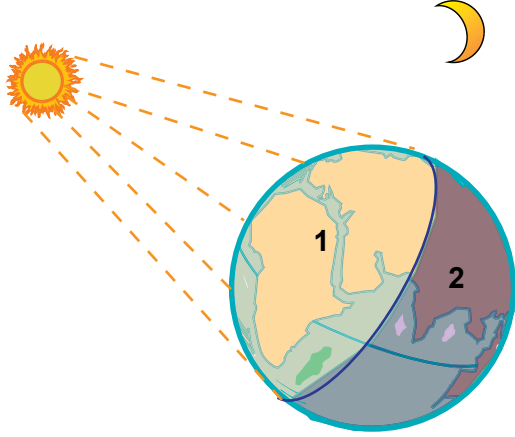
Bu hazırlıklar aşağıdakilerden hangisi için yapılmış olabilir?

- A) Anneler günü
B) Millî bayramlar
C) Dinî bayramlar
D) Öğretmenler günü

11. Kış mevsimi bitip, ilkbahar mevsimi başlarken çevremizde aşağıdakilerden hangisi gözlemlenir?

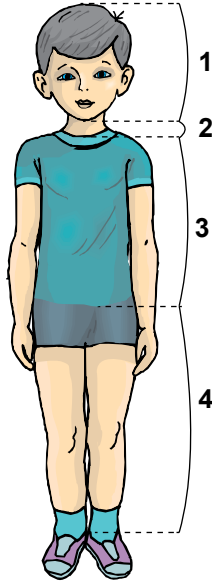
- A) Sıcaklıklar azalır.
B) Kalın kıyafetler giyilir.
C) Kırklar yeşerir ve çiçeklenir.
D) Ağaçlar yapraklarını döker.

12. Verilen görselde, Dünya'nın karanlıkta kalan 2 nolu bölgesinin aydınlanması için aşağıdakilerden hangisinin gerçekleşmesi gerekir?



- A) Ay'ın kendi etrafında dönmesi
B) Dünya'nın kendi etrafında dönmesi
C) Dünya'nın Güneş etrafında dönmesi
D) Ay'ın Dünya ile Güneş arasına girmesi

13. Şekilde vücudun bölümleri numaralanmıştır.



Kalp, kaç numaralı kısımda bulunur?

- A) 1 B) 2 C) 3 D) 4

14. Hülya, her zaman dengeli ve düzenli beslenmektedir. Buna göre kahvaltısında hangi listede verilen besinleri seçmelidir?

A)

Meyve suyu
Hamburger
Pasta
Şeker
Cips

B)

Süt
Peynir
Zeytin
Ekmek
Reçel

C)

Çay
Bisküvi
Hamburger
Ekmek
Reçel

D)

Kolalı içecek
Peynirli tost
Bisküvi
Pasta
Cips

15. • “ ? ” organı yediğimiz besinleri karıştırıp parçalar, bağırsağa gönderir.
• Bu organın sağlıklı olması için besinleri iyice çiğnemeliyiz.

Verilen bilgide “ ? ” yerine hangi organın adı yazılmalıdır?

- A) Mide
C) Kalp

- B) Akciğer
D) Dil

16. Bir öğrenci sınıfta konusunu anlatırken arkadaşlarına aşağıdaki kartları gösteriyor.

Mevsimlere göre giyinmeliyiz.

Zamanında aşı olmalıyız.


Meyveleri yıkayıp yemeliyiz.

Dengeli ve düzenli beslenmeliyiz.

Bu öğrencinin konusu aşağıdakilerden hangisidir?

- A) Hem bakımlı hem de tutumlu olmak
- B) Kendimizi doğru ifade etmek
- C) Okuldaki kurallara uymak
- D) Sağlığımızı korumak

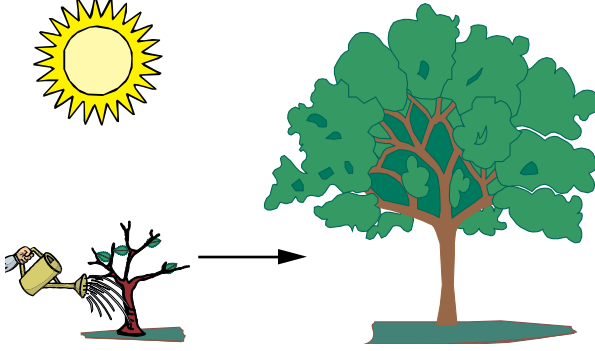
17. Ali, yaptığı resimde yuvalara bazı canlılar çizmiştir.











Ali'nin yaptığı bu resim için aşağıdakilerden hangisi doğrudur?

- A) Tavşan yerine serçe çizmeliydi.
- B) Sincap yerine koyun çizmeliydi.
- C) İki canlı da doğru yerdedir.
- D) İki canlı da yanlış yerdedir.

18. Şekilde bir durum anlatılmıştır.




Bu durumun benzeri aşağıdakilerin hangisinde de vardır?

- A)  → 
- B)  → 
- C)  → 
- D)  → 

19. Ayşe bilinçli bir tüketicidir. Buna göre, Ayşe aşağıdakilerden hangisini yapmaz?

- A) İhtiyacına göre alış veriş yapar.
 B) İndirimli satışlarda her şeyi alır.
 C) Alacağı malın sağlam olup olmadığına bakar.
 D) Kaynakları, araç ve gereçleri dikkatli kullanır.

20. Şekildeki canlıların hangi ortak özelliği görülmektedir?



- A) Yuvalarının olduğu
 B) Yer değiştirdikleri
 C) Beslenmeleri
 D) Büyümeleri

TEST BİTTİ.
CEVAPLARINIZI KONTROL EDİNİZ.

SINAV SÜRESİNCE UYULACAK KURALLAR

- 1. Adaylar, sınav kurallarına ve salon görevlilerinin tüm uyarılarına uymak zorundadırlar. Kurallara ve uyarılara uymayan adayların sınavları geçersiz sayılacaktır.**
- 2. Sınav başladıktan sonra adayların salon görevlileri ve birbirleri ile konuşmaları, kalem, silgi vb. şeyleri istemeleri yasaktır.**
- 3. Adaylar sınav süresince, sınav giriş belgesi ile birlikte kimlik belgelerinden birini (nüfus cüzdanı veya pasaport) masalarının üzerinde bulundurmamak zorundadırlar.**
- 4. Sınav evraklarını teslim etmeyen, soru kitapçıklarının sayfalarından bir kısmını eksik teslim edenlerin sınavları geçersiz sayılacaktır.**

SALON GÖREVLİLERİNCE SINAV BAŞLAMADAN ÖNCE ADAYLARA YAPILACAK SON UYARI

- Soracağınız bir şey var mı? Varsa, şimdi sorunuz.
- Sınav başladıktan sonra sorularınıza cevap verilmeyecektir.
- Başlama zilini bekleyiniz.
- Hepinize başarılar dileriz.

(Salon başkanı başlama ve bitiş saatini tahtaya yazacaktır.)

Bu kitapçığın her hakkı saklıdır. Hangi amaçla olursa olsun, kitapçığın tamamının veya bir kısmının Millî Eğitim Bakanlığı Yenilik ve Eğitim Teknolojileri Genel Müdürlüğünün yazılı izni olmadan kopya edilmesi, fotoğraflarının çekilmesi, bilgisayar ortamına alınması, herhangi bir yolla çoğaltılması, yayımlanması veya başka bir amaçla kullanılması yasaktır. Bu yasağa uymayanlar, doğabilecek cezai sorumluluğu ve kitapçığın hazırlanmasındaki mali külfeti peşinen kabullenmiş sayılır.

**16 HAZİRAN 2012 TARİHİNDE YAPILAN TED ANKARA KOLEJİ VAKFI ÖZEL
İLKÖĞRETİM OKULU SEÇME SINAVI
3. SINIFLAR CEVAP ANAHTARI**

TÜRKÇE	MATEMATİK	HAYAT BİLGİSİ
1. C	1. B	1. B
2. B	2. B	2. C
3. A	3. C	3. D
4. D	4. C	4. B
5. C	5. D	5. D
6. A	6. B	6. A
7. D	7. B	7. C
8. B	8. D	8. A
9. D	9. A	9. C
10. C	10. A	10. B
11. A	11. D	11. C
12. D	12. C	12. B
13. B	13. C	13. C
14. C	14. A	14. B
15. B	15. C	15. A
16. C	16. A	16. D
17. B	17. D	17. A
18. A	18. D	18. D
19. C	19. B	19. B
20. B	20. A	20. C