

2.
SINIF



T.C.
MİLLÎ EĞİTİM BAKANLIĞI

TED ANKARA KOLEJİ VAKFI ÖZEL İLKÖĞRETİM OKULU SEÇME SINAVI
(1'den 2'ye Geçenler)
16 HAZİRAN 2012 Saat: 14.00

Adayın Adı ve Soyadı :
Aday Numarası (T.C. Kimlik No) :

| DERS ADI | SORU SAYISI | TOPLAM SORU SAYISI | SINAV SÜRESİ (DAKİKA) |
|---------------|-------------|--------------------|-----------------------|
| TÜRKÇE | 20 | 60 | 60 |
| MATEMATİK | 20 | | |
| HAYAT BİLGİSİ | 20 | | |

ADAYLARIN DİKKATİNE!

1. Sınav başladıktan sonra ilk **30** dakika dolmadan dışarı çıkmayınız.
2. Sınav sırasında sözlük, hesap makinesi, saat fonksiyonu dışında özellikleri bulunan saat veya çağrı cihazı, cep telefonu, telsiz, radyo ve bilgisayar özelliği bulunan elektronik cihazları yanınızda bulundurmuyunuz. Bu araçları kullanmanız veya kopya çekmeye teşebbüs etmeniz hâlinde sınavınız geçersiz sayılacaktır.
3. Soruları ve sorulara verdiğiniz cevapları, yanınızda götürmek amacıyla kaydetmeyiniz; hiçbir şekilde dışarı çıkarmayınız.
4. Sınavın değerlendirilmesi aşamasında, bilgisayar ortamında yapılan kopya analizinde, herhangi bir testten ikili veya toplu kopya tespiti hâlinde ilgili testiniz geçersiz sayılacaktır.
5. Kopya çekmeniz, başka adayın sınav evrakını kullanmanız ve geçerli kimlik belgenizi ibraz edemediğiniz durumlarda sınavınız geçersiz sayılacaktır.

CEVAP KÂĞIDI VE SORU KİTAPÇIĞI İLE İLGİLİ AÇIKLAMALAR

1. Soru kitapçığının sayfalarını kontrol ediniz, baskı hatası var ise değiştirilmesini sağlayınız.
2. Soru kitapçığında; **Türkçe, Matematik ve Hayat Bilgisi** testlerine ait sorular bulunmaktadır. Cevaplarınızı kitapçık üzerinde kurşun kalemle örnekteki gibi işaretleyiniz.

ÖRNEK İŞARETLEME: A) B) (C)

3. Değiştirmek istediğiniz bir cevabı, yumuşak silgiyle soru kitapçığını yıpratmadan temizce siliniz ve yeni cevabınızı işaretleyiniz.
4. Soruların çözümü için size ayrıca boş kâğıt verilmeyecektir. Soru kitapçığının içindeki boş alanları çözümlerinizi için kullanabilirsiniz.
5. Cevaplamaya istediğiniz testin sorusundan başlayabilirsiniz. Cevabını bilmediğiniz sorular üzerinde fazla zaman kaybetmeden diğer sorulara geçiniz. Zamanınız kalırsa bu sorulara daha sonra dönebilirsiniz.
6. Puanlama; her test için yanlış cevap sayısının **yarısı, doğru cevap sayısından çıkarılarak** elde edilecek geçerli cevaplar üzerinden yapılacağı için kitapçık üzerinde rastgele cevaplama yapmayınız. (İki yanlış bir doğruyu götürecektir.)
7. Sınav bitiminde, soru kitapçığını salon görevlilerine teslim ediniz.

BAŞLAYINIZ DENİLMEDEN SORU KİTAPÇIĞINIZI AÇMAYINIZ.

2. SINIF

TÜRKÇE TESTİ

1. “a, e, ç, i, k, l, m, n, r, t” sesleriyle aşağıdaki kelimelerden hangisi oluşturulabilir?

A) Çikolata

B) Kalemıraş

C) Marketçi

2. Aşağıdaki kelimelerden hangisi hecelerine yanlış ayrılmıştır?

A) Kum-ba-ra

B) O-yun-cak

C) Kit-ap-lık

3. Ayşegül yatmadan önce dişlerini fırçalıyor.

Bu cümlede aşağıdaki sorulardan hangisinin cevabı yoktur?

A) Nerede

B) Ne zaman

C) Kim

4. Aşağıdaki cümlelerin hangisinde sebep-sonuç ilişkisi vardır?

A) Parka giderken arkadaşıyla karşılaştı.

B) Hava sıcak olduğu için terlemişti.

C) Elma ağacının tepesine çıktı.

5. 1. hediye

2. arkadaşına

3. aldı

4. kardeşim

Numaralandırılmış sözcükler, anlamlı ve kurallı bir cümle oluşturmak için nasıl sıralanmalıdır?

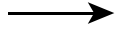
A) 2, 4, 3, 1

B) 3, 1, 2, 4

C) 4, 2, 1, 3


6. Aşağıdaki yüz ifadelerinden hangisi, eşleştirildiği duyguyu yansıtmaz?

A)




Şaşkınlık

B)




Mutluluk

C)



Kızgınlık

7.



Bu resimde aşağıdaki mesleklerden hangisi yoktur?

A) Doktor

B) Polis

C) Öğretmen

8.



Bu resimdeki adamla ilgili olarak aşağıdakilerden hangisi kesinlikle söylenebilir?

- A) Çiftlikteki misafirlerden biridir.
- B) Hayvansever bir kimsedir.
- C) Uzun süredir aynı yerde yaşamaktadır.

9.



Bu afişte verilmek istenen mesaj aşağıdakilerden hangisidir?

- A) Suyu tasarruflu kullanmalıyız.
- B) Suyu nerelerde boşa harcadığımızı belirlemeliyiz.
- C) Bir günde ne kadar su tükettiğimizi hesaplamalıyız.

10.



Mehmet, yukarıdaki her iki görseli de kullanarak bir ödev hazırlamıştır. Buna göre, Mehmet aşağıdakilerden hangisini ödevinde konu edinmiştir?


- A) Bilgisayarların günlük hayatımızdaki vazgeçilmezliğini
- B) Bilgisayarların arkadaşların yerini tutamayacağını
- C) Çevreyi korumaya özen gösterilmesi gerektiğini

11. Ben onu çok severim,
Koşup tutmak isterim.
Fakat kaçar yaramaz,
Uçmadan yaşayamaz.

(Hasan Ali Yücel)

Bu şiirde hangi varlık anlatılmaktadır?

A)



B)



C)



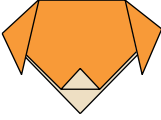
2. SINIF

TÜRKÇE TESTİ

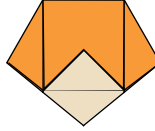
12. 1. Aşama: Kâğıdı çapraz iki köşesi üst üste gelecek şekilde katlayın.
2. Aşama: En uzun kenarın karşısındaki köşeyi yukarıya doğru biraz katlayın.
3. Aşama: Yanlardaki iki köşeyi kenarlardan biraz taşacak şekilde aşağıya doğru katlayın.

Kare şeklindeki bir kâğıt bu aşamalara göre katlandığında, aşağıdaki şekillerden hangisi ortaya çıkar?

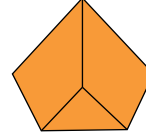
A)



B)



C)



13. Gamzenin gözleri kapandı. Tatlı bir uykuya daldı. Bir saat sonra arabanın durmasıyla uyandı, gözlerini açtı. Karşısında büyük bir ev vardı. Arabadan hemen inmek istedi fakat bütün vücudu uyuşmuştu.

Bu parçadaki altı çizili sözcük, hikâyenin hangi ögesidir?

A) Ana karakter

B) Yer

C) Olay

14. Ormanlar bir ülkenin akciğerleri ve en büyük zenginlik kaynağıdır. Kullandığımız kalem, okuduğumuz kitap, yazdığımız defter, oturduğumuz sandalye, yemek yediğimiz masa ve saymakla bitiremeyeceğimiz ihtiyaçlarımızı ormanlardan karşılarız. Bizim için orman; hava, su, ekmek gibi ihtiyaç duyduğumuz doğal kaynaklardır.

Bu metnin konusu aşağıdakilerden hangisidir?

A) Ormanların önemi

B) Ormanların oluşumu

C) Ormanlardan elde edilen ürünler

15. 1. Sonra kuyruğunu sallayarak beni selamladı.
2. Daha sonra da etrafımda koşmaya başladı.
3. Küçük kedi önce yanıma geldi.

Numaralandırılmış cümleler “olayların oluş sırasına göre” nasıl sıralanmalıdır?

A) 1, 2, 3

B) 2, 3, 1

C) 3, 1, 2

16. Elif’in temiz bir kalbi vardı. Gülünce gözlerinin içi de gülerdi. Fakat büyüklerin, şunu şöyle yapacaksın, bunu böyle yapacaksın demelerinden hoşlanmazdı. İsterdi ki arada bir kendi fikri de sorulsun.

Bu parçaya göre aşağıdaki sorulardan hangisi cevaplanamaz?

- A) Elif niçin güler?
B) Elif’in isteği nedir?
C) Elif neden hoşlanmaz?

17. Bir köpek çok acıkmış. Öyle ki, açlıktan karnı zil çalıyormuş. Bu hâliyle çok zayıf görünüyormuş. Bir ağaç kovuğu görmüş. İçeride et ve ekmek varmış. Kovuktan içeri girmiş. Ekmeği ve eti yiyince karnı çok şişmiş. Zayıf köpek, olmuş şişman köpek. Kovuktan dışarı çıkmak istemiş, fakat bir türlü çıkamamış.

Bu parçada anlatılan köpek ile ilgili olarak aşağıdakilerden hangisi söylenebilir?

- A) Sahibi olmadığı için bir ağaç kovuğunda yaşadığı
B) Düzenli beslendiği için görünüşünün hep aynı olduğu
C) Açgözlülüğü yüzünden zor durumda kaldığı

18. Kurbağa, çamurların arasından zıplayarak yola çıkmış. Trafik kurallarını unutup sağına soluna bakmamış. Yaramaz kurbağa **evinden uzakta tek başına** dolaşmak istiyormuş. Hoplaya zıplaya yolda ilerlemeye devam etmiş. Fakat yoldaki tehlikenin farkında değilmiş.

Aşağıdakilerden hangisi, bu metinde vurgulanan önemli noktalardan biri değildir?

- A) Trafik kurallarını
- B) Sağına soluna bakmamış
- C) Evinden uzakta tek başına

19. **Aşağıdaki altı çizili sözcüklerden hangisinin ilk harfi büyük yazılmalıdır?**

- A) Yemeği herkesten önce ahmet bitirdi.
- B) Doğum gününe tüm arkadaşlarım geldi.
- C) Akvaryumdaki kırmızı balık, rengiyle dikkat çekiyordu.

20. **Aşağıdaki cümlelerden hangisinin sonuna nokta getirilmelidir?**

- A) Hangi araba sizin
- B) Belki de bir şey söyleyecekti
- C) Hep birlikte bahçede oynayalım mı

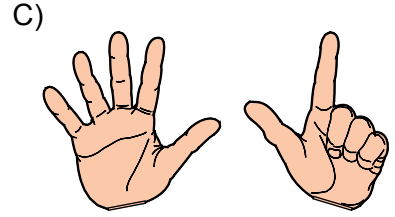
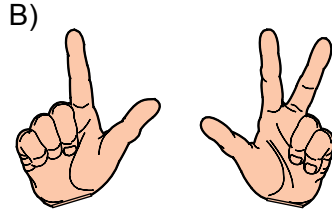
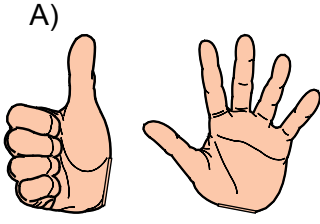
TÜRKÇE TESTİ BİTTİ.

MATEMATİK TESTİNE GEÇİNİZ.

2. SINIF

MATEMATİK TESTİ

1. Aşağıdakilerin hangisindeki ellerde toplam 5 parmak kapalıdır?



2. Şekilde çocuklar saklambaç oyunu oynamaktadır. Onar onar sayan ebe, hangi sayıların yerlerini değiştirmiştir?

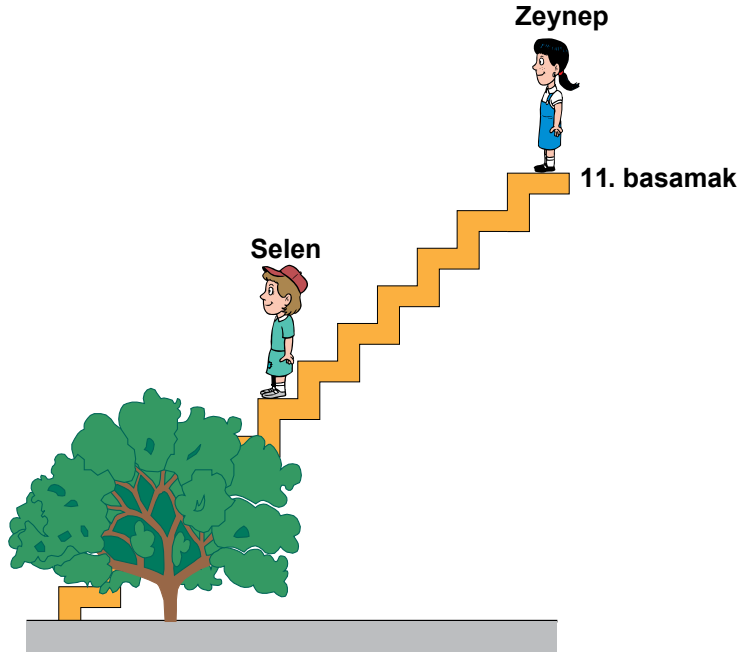


A) 60 ile 80

B) 40 ile 50

C) 70 ile 80

3. Şekilde Zeynep 11. basamakta bulunmaktadır. Selen kaçinci basamaktadır?

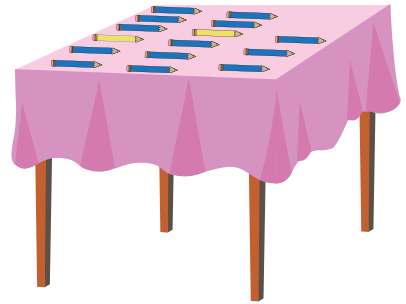


A) 3

B) 4

C) 5

4. Masadan kaç kalem alırsak, kalan kalemlerle 1 onluk 2 birlik oluşturulur?



A) 3

B) 4

C) 5

5.




En fazla su bulunan bardak hangi çocuğun elindedir?

A) Sinem

B) Figen

C) Gamze

6. Aşağıdaki otobüse binecek sondan 5. kişi kimdir?

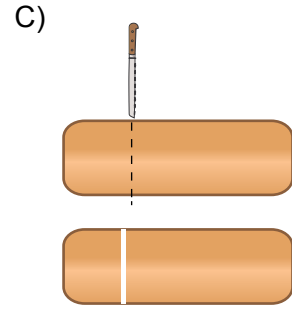
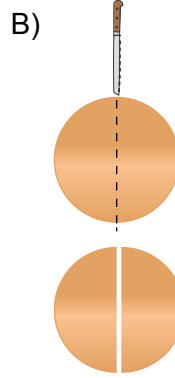
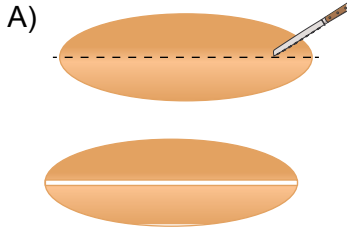


A) Mustafa

B) Yeliz

C) Fatih

7. Aşağıdaki hangi ekmekten ayrılan parçalardan biri yarımı göstermez?



8. Yandaki işlemde kare yerine hangi sayı gelmelidir?

$$\begin{array}{r} \square \\ + 7 \\ \hline 19 \end{array}$$

A) 11

B) 12

C) 13

9.




Yukarıdaki sayılardan hangi ikisinin toplamı 20 eder?

A) 7 ve 5

B) 14 ve 5

C) 11 ve 9

10. Şekildeki modelde sincaplar ellerindeki cevizleri yiyor. Aşağıdaki hangi işlemin sonucu, kalan cevizlerin sayısıdır?




A) $8 - 3$

B) $8 - 5$

C) $5 + 3$

11. Her çocuk 1 simit alırsa geriye kaç simit kalır?




A) 5

B) 6

C) 7

12. Tabaktaki yarım limonlardan kaç tane bütün limon oluşturulur?



A) 5

B) 7

C) 10

13. Aşağıdaki oyunda en üstte kimin eli vardır?



A) Nur

B) Ali

C) Aslı

14. Beril'in doğum günü hangi gündür?

| TEMMUZ | | | | | | | AĞUSTOS | | | | | | | EYLÜL | | | | | | |
|--------|----|-----|-----|----|-----|----|---------|----|-----|-----|----|-----|----|-------|----|-----|-----|----|-----|----|
| Pzt | Sa | Çar | Per | Cu | Cts | Pa | Pzt | Sa | Çar | Per | Cu | Cts | Pa | Pzt | Sa | Çar | Per | Cu | Cts | Pa |
| | | | | | | 1 | | 1 | 2 | 3 | 4 | 5 | | | | | | 1 | 2 | |
| 2 | 3 | 4 | 5 | 6 | 7 | 8 | 6 | 7 | 8 | 9 | 10 | 11 | 12 | 3 | 4 | 5 | 6 | 7 | 8 | 9 |
| 9 | 10 | 11 | 12 | 13 | 14 | 15 | 13 | 14 | 15 | 16 | 17 | 18 | 19 | 10 | 11 | 12 | 13 | 14 | 15 | 16 |
| 16 | 17 | 18 | 19 | 20 | 21 | 22 | 20 | 21 | 22 | 23 | 24 | 25 | 26 | 17 | 18 | 19 | 20 | 21 | 22 | 23 |
| 23 | 24 | 25 | 26 | 27 | 28 | 29 | 27 | 28 | 29 | 30 | 31 | | | 24 | 25 | 26 | 27 | 28 | 29 | 30 |
| 30 | 31 | | | | | | | | | | | | | | | | | | | |



A) Salı

B) Çarşamba

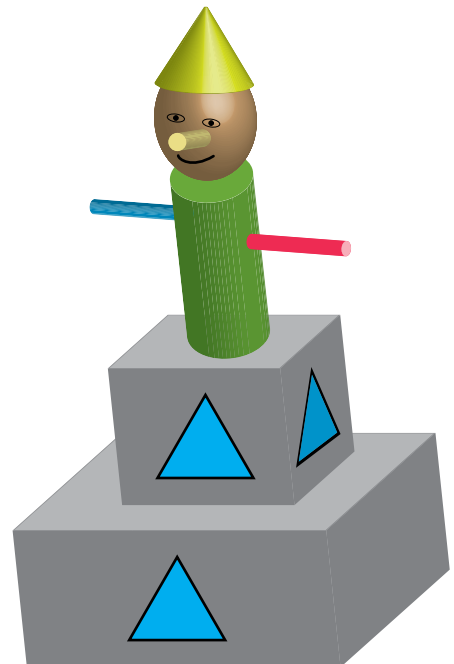
C) Cumartesi

15. Yandaki oyuncakta kaç tane silindir vardır?




A) 2

B) 3

C) 4




16. Yanda verilen çiçeklerden hangisinin eşi yoktur?



17. Aşağıdakilerin hangisindeki örüntü, ilk üç nesnenin dizilişi ile belirlenmiştir?



18. Mert çeşmeye kaç adım uzaktır?




A) 10

B) 12

C) 20

19. Kitaplarda bulunan kitaplarla kaç onluk, kaç birlik oluşturulabilir?




A) 1 onluk 6 birlik

B) 1 onluk 7 birlik

C) 1 onluk 8 birlik

20. Elma, karpuzdan hafiftir. Elma, cevizden ağırdır. Buna göre, nesneler hafiften ağıra doğru sıralandığında ikinci sırada hangisi yer alır?

A)



B)



C)



MATEMATİK TESTİ BİTTİ.

HAYAT BİLGİSİ TESTİNE GEÇİNİZ.

1.

Bayrağımızın rengi
kırmızı ve yeşildir.



Bayrak bir ulusun
özgürlük simgesidir.



İstiklal Marşı
bağımsızlığımızın
sembolüdür.



Yukarıdaki bilgilerden yanlış olanı hangi sembolle gösterilmiştir?

A)



B)



C)



2. Aşağıdakilerden hangisi okulda yapılmaması gereken bir davranıştır?

A) Kantinde sıra beklemek

B) Merdivenleri koşarak çıkmak

C) Okulun eşyalarını korumak

3.



Meryem

Ayasofya Müzesi'ni,
Sultan Ahmet Camisi'ni ve
Anıtkabir'i çok merak ediyorum.

Bu eserleri görmesi için sınıf öğretmeni, Meryem'i aşağıdaki kulüplerden hangisine yönlendirmelidir?

A) Kütüphanecilik Kulübüne

B) Çevre Koruma Kulübüne

C) Gezi, Tanıtma ve Turizm Kulübüne

4.

| | | |
|-----------------|--------------------|----------------|
| Ramazan Bayramı | Cumhuriyet Bayramı | Kurban Bayramı |
| ① | ② | ③ |

Yukarıdakilerden hangisi millî bayramlarımızdan biridir?

A) 1

B) 2

C) 3

5. Sınıfımızın “şeref köşesi”nde aşağıdakilerden hangisi yer almalıdır?

A) Türk bayrağı

B) Sınıf planı

C) Öğrenci çalışmaları


6. Aşağıdakilerden hangisi sınıfta demokratik bir ortamın oluşmasına katkı sağlayan bir davranıştır?

A) Derse zamanında gelmek

B) Teneffüste sınıfı havalandırmak

C) Sınıfta söz alarak konuşmak

7.



Yukardaki resimlerin hangisi ailedeki iş birliğine örnektir?

A) 1

B) 2

C) 3

8.



Bu soruya Ömer, aşağıdaki cevaplardan hangisini vermelidir?

A) 23 Nisan 1920'de

B) 19 Mayıs 1919'da

C) 30 Ağustos 1922'de

9.



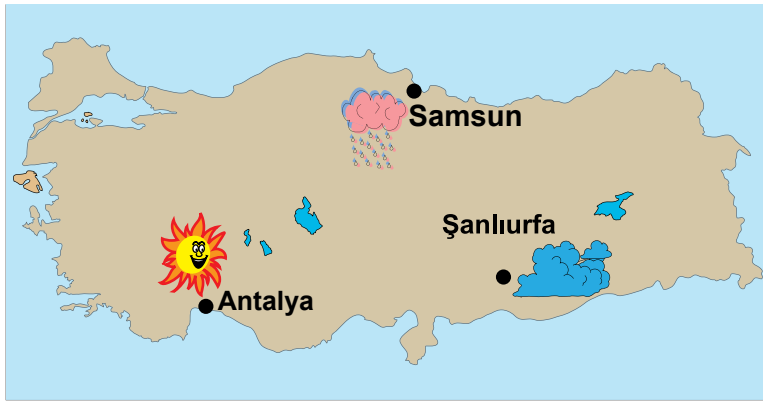
Bu çocuklardan hangilerinin dediğini yaparsak; ülkemizin kaynaklarını korumuş ve bilinçli kullanmış oluruz?

A) Emre ve Selim

B) Selim ve Aysu

C) Emre ve Aysu

10. Verilen haritaya göre, aşağıdakilerden hangisi doğrudur?



Güneşli

Yağmurlu

Bulutlu

A) Samsun yağmurludur.

B) Antalya bulutludur.

C) Şanlıurfa güneşlidir.

11. Evde ders çalışırken depreme yakalanan Ahmet; başını, kolları ve ellerinin arasına alarak nereye çömelmelidir?

A) Balkona

B) Pencere kenarına

C) Çalışma masasının yanına

12. Aşağıdaki resimlerden hangisi deprem sonrası çekilmiştir?

A)



B)



C)



13. Sinan ve Elif, annelerine tiyatroya gitmek istediklerini söylediler. Anneleri de izin verdi. Buna göre, Sinan ve Elif'in duyguları hangisinde doğru verilmiştir?

A)



B)



C)



14. Ayla, okula gitmeden önce kahvaltı yapar. Sonra kişisel bakımını yapar. Ayla kişisel bakımı için aşağıdakilerden hangisini her gün kullanmaz?

A) Diş fırçası

B) Tırnak makası

C) Tarak

15.



Mert, şekildeki konuşmasında altı çizili ifadeleri hangi duyu organlarıyla hissetmiştir?

A) Göz ve dil


B) Kulak ve burun

C) Dil ve kulak


16. • Ezgi, uzun boylu ve uzun saçlıdır.
• Tülay, Ezgi'den daha kısa ve zayıftır.

Bu bilgilere göre Ezgi ve Tülay hangisinde verilenler olabilir?


A)




B)



C)



17. Şekilde odasında ders çalışan bir öğrenci verilmiştir. Bu öğrencinin hangi davranışı yanlıştır?




- A) Tek başına ders çalışması
- B) Gündüz lamba yakması
- C) Çeşitli meyveler yemesi


18. Aşağıdakilerden hangisi sağlıklı iken yapılır?

- A) Zamanında aşı yaptırmak
- B) Sürekli kalın giysiler giymek
- C) Her zaman ağrı kesici ilaç kullanmak

19. Aşağıda canlılar ve yuvalar eşleştirilmiştir. Bu eşleştirmelerden hangisi yanlıştır?



20. Sevim, çiftliklerinde hayvanları beslemek istiyor. Buna göre, Sevim hangi hayvanlara verdiği besinleri birbiriyle değiştirse, doğru yapmış olur?



A) Tavuk - İnek

B) İnek - Köpek

C) Köpek - Tavuk

TEST BİTTİ.

CEVAPLARINIZI KONTROL EDİNİZ.

SINAV SÜRESİNCE UYULACAK KURALLAR

- 1. Adaylar, sınav kurallarına ve salon görevlilerinin tüm uyarılarına uymak zorundadırlar. Kurallara ve uyarılara uymayan adayların sınavları geçersiz sayılacaktır.**
- 2. Sınav başladıktan sonra adayların salon görevlileri ve birbirleri ile konuşmaları, kalem, silgi vb. şeyleri istemeleri yasaktır.**
- 3. Adaylar sınav süresince, sınav giriş belgesi ile birlikte kimlik belgelerinden birini (nüfus cüzdanı veya pasaport) masalarının üzerinde bulundurmamak zorundadırlar.**
- 4. Sınav evraklarını teslim etmeyen, soru kitapçıklarının sayfalarından bir kısmını eksik teslim edenlerin sınavları geçersiz sayılacaktır.**

SALON GÖREVLİLERİNCE SINAV BAŞLAMADAN ÖNCE ADAYLARA YAPILACAK SON UYARI

- Soracağınız bir şey var mı? Varsa, şimdi sorunuz.
- Sınav başladıktan sonra sorularınıza cevap verilmeyecektir.
- Başlama zilini bekleyiniz.
- Hepinize başarılar dileriz.

(Salon başkanı başlama ve bitiş saatini tahtaya yazacaktır.)

Bu kitapçığın her hakkı saklıdır. Hangi amaçla olursa olsun, kitapçığın tamamının veya bir kısmının Millî Eğitim Bakanlığı Yenilik ve Eğitim Teknolojileri Genel Müdürlüğünün yazılı izni olmadan kopya edilmesi, fotoğraflarının çekilmesi, bilgisayar ortamına alınması, herhangi bir yolla çoğaltılması, yayımlanması veya başka bir amaçla kullanılması yasaktır. Bu yasağa uymayanlar, doğabilecek cezai sorumluluğu ve kitapçığın hazırlanmasındaki mali külfeti peşinen kabullenmiş sayılır.

**16 HAZİRAN 2012 TARİHİNDE YAPILAN TED ANKARA KOLEJİ VAKFI ÖZEL
İLKÖĞRETİM OKULU SEÇME SINAVI
2. SINIFLAR CEVAP ANAHTARI**

| TÜRKÇE | MATEMATİK | HAYAT BİLGİSİ |
|---------------|------------------|----------------------|
| 1. C | 1. B | 1. C |
| 2. C | 2. C | 2. B |
| 3. A | 3. C | 3. C |
| 4. B | 4. A | 4. B |
| 5. C | 5. B | 5. A |
| 6. A | 6. A | 6. C |
| 7. B | 7. C | 7. A |
| 8. B | 8. B | 8. B |
| 9. A | 9. C | 9. C |
| 10. B | 10. A | 10. A |
| 11. C | 11. C | 11. C |
| 12. A | 12. A | 12. B |
| 13. B | 13. A | 13. C |
| 14. A | 14. B | 14. B |
| 15. C | 15. C | 15. A |
| 16. A | 16. B | 16. C |
| 17. C | 17. B | 17. B |
| 18. B | 18. A | 18. A |
| 19. A | 19. B | 19. C |
| 20. B | 20. B | 20. B |