



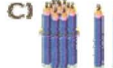
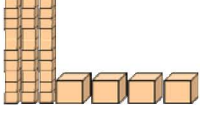



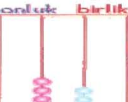
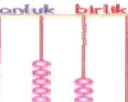
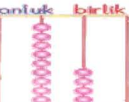

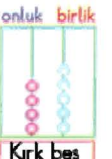
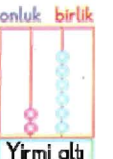






# İTERAKTİF EĞİTİM

## DOĞAL SAYILAR

1.  yandaki çokluk kaç birlikten oluşmaktadır?  
A) 9 B) 10 C) 12
2.  yandaki çokluk kaç onluktan oluşmaktadır?  
A) 20 B) 10 C) 2
3. 2 onluk ve 1 birlikten oluşan çokluk hangisidir?  
A)  B)  C) 
4.  yanda bloklarla ifade edilen doğal sayı aşağıdakilerden hangisidir?  
A) 24 B) 34 C) 43
5.  yandaki kalem bir deste olabilmesi için kaç tane daha kalem eklenmelidir?  
A) 4 B) 5 C) 6
6.  yanda kalemle modellenen sayı aşağıdakilerden hangisidir?  
A) 43 B) 53 C) 35
7.  yandaki abaküste gösterilen sayı aşağıdakilerden hangisidir?  
A) 23 B) 32 C) 35
8. Aşağıdaki abaküste gösterilen sayılardan hangisi 53'ü gösterir?  
A)  B)  C) 





9. Aşağıdakilerden hangisi yanlış ifade edilmiştir?  
A)  Otuz altı B)  Kırk beş C)  Yirmi altı
10. Aşağıdakilerden hangisinde yanlışlık yapılmıştır?  
A)  B)  C) 
11.  Yandaki tablodaki nesneler aşağıdakilerin hangisinde doğru olarak ifade edilmiştir?  
A) 

Onluk	Birlik
2	1

 B) 

Onluk	Birlik
1	2

 C) 

Onluk	Birlik
2	2
12. Aşağıdaki abaküslerden hangisi 42 sayısını göstermektedir?  
A)  B)  C) 
13. .... onluk + .... birlik yandaki resimde boş bırakılan yerlere sırasıyla aşağıdakilerden hangisi yazılmalıdır?  
A) 1-2 B) 2-1 C) 3-1
14.  tabloda boş bırakılan yere aşağıdakilerden hangisi yazılmalıdır?  
A) 2 B) 3 C) 23
15. 8 birlik ve 5 onluktan oluşan sayı aşağıdakilerden hangisidir?  
A) 58 B) 85 C) 13