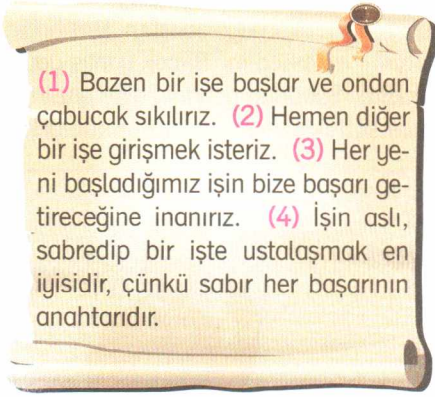


TÜRKÇE TESTİ

1.



Numaralandırılmış cümlelerden hangisi bu metnin ana fikridir?

- A) 1 B) 2 C) 3 D) 4

2.

E	D
Birinci Dünya Savaşı bitmiş, düşmanlar yurdumuzu yer yer işgal etmişti.	Ancak, kölelik nedir bilmeyen Türk milleti, vatani kurtarmak için harekete geçmişti.

İ	K
Efeler, dağa çıkmış, köyden kentten halk, Mustafa Kemal'in etrafında toplanmıştı.	Babam da bunların arasındaydı.

"E, D, İ, K" harfleriyle ifade edilen kutular, düşüncenin akışına göre sıralandığında aşağıdaki kelimelerden hangisi oluşur?

- A) EDİK B) KEDİ
C) DEKİ D) DİKE

3.



Yukarıdaki resme bakarak hangi sonucu çıkaramayız?

- A) Çocuklar gölge oyunu seyretmektedirler.
B) Karagöz ve Hacivat, her oyunuyla güldürür.
C) Çocukların hepsi neşe içindedir.
D) Çocuklar, ilgiyle oyunu izlemektedirler.

4. Aşağıdaki cümlelerin hangisinde deyim anlamına uygun kullanılmamıştır?

- A) Adamları defterden sildim, bundan sonra daha sık görüşeceğiz.
B) Bütün gün evde oturuyor, can sıkıntısından ne yapacağımı bilemiyordum.
C) Yarın onunla görüşmeyi kafama koydum.
D) Kadıncağыз iki gözü iki çeşme ağlayıp duruyormuş.

5. (✿) Meltem, her sabah erkenden kalkar. (❖) Meltem'in sürekli yaptığı güzel davranışlardan birisi de sabah sporudur. (◆) Meltem, annesinin gönlünü arada yapar. (★) Bazı zamanlar annesiyle birlikte spor yaparlar.

Paragrafta hangi şekilde başlayan cümleden sonra genel yapılan bir davranış son bulmuş, ara sıra yapılan davranış başlamıştır?

- A) ✿ B) ❖
C) ◆ D) ★
6. "Büyümek" kelimesi, aşağıdaki cümlelerin hangisinde "yetişmek" anlamında kullanılmıştır?
- A) Firmanın adı oldukça büyüdü.
B) Vitrini diğer odaya alınca sanki oda büyüdü.
C) İkinci satışmadan sonra kavga büyüdü.
D) O, ablasının ellerinde büyüdü.

7. "Sağ elinin verdiği sol elin görmesin." atasözünün konusu nedir?

- A) İyiliğin gizli olması gerektiği
B) Sağlıklı yaşamının kıymeti
C) Adaletli olmanın önemi
D) Başkasının malının daha değerli olduğu

Yabancı dilde yazılmış romanları özgün biçimleriyle okumak istiyordum. Ama yabancı dil bilmiyordum ve öğrenmek için de gerekli olanaklardan yoksundum. Bu nedente romanları sözlüklere baka baka okumaya çalıştım. Başlangıçta okuduklarımı anlamadım. Birçok yanlış yaptım ama yılmadım. Sonunda yabancı dille yazılmış bir romanı sözlüksüz okuyabilir duruma geldim.



8. Bu paragrafın yazarı için aşağıdakilerden hangisi söylenemez?

- A) Azimli B) Çalışkan
C) Gayretli D) Yılgın

9. Paragraftaki renkli yazılan "özgün" sözcüğünün yerine hangi sözcük yazılabilir?

- A) serbest B) kısa
C) orijinal D) özenme

10. Bu parçada aşağıdakilerden hangisine değilmemiştir?

- A) Yazarın yabancı dilde yazılmış roman okumaya karşı olduğuna
- B) Yazarın yabancı dil öğrenmek için imkânı olmadığına
- C) Sözlüğe bakarak yabancı roman okunabileceğine
- D) Yılmadan çalışılınca yabancı dille yazılmış bir romanın anlaşılabilmesine

11. “Şeker konulan kap.” anlamında bir kelime yapmak için “şeker” kelimesine aşağıdakilerden hangisi eklenmelidir?



- A) -lik
- B) -ci
- C) -li
- D) -siz

12.

Ersin, yakın arkadaşımıdır
.... zor bir insandır.



Bu konuşmadaki boşluğa ikinci ifadenin farklılaştığını belirtmek için aşağıdakilerden hangisi getirilmelidir?

- A) çünkü
- B) ama
- C) ve
- D) bunun üzerine

13.

Her yıl, 10 Kasım saat dokuz suları
Eğilmişken bütün başlar üzgün
Birden kalkar yukarı dinç
Madem ruhu Türklüğün
Atatürk ölür mü hiç?

(Behçet Necatigil)

Bu şiirin ana duygusu aşağıdakilerden hangisidir?

- A) Yaşama sevinci
- B) Çocukluğa özlem
- C) Yalnızlık korkusu
- D) Atatürk sevgisi

14.

Dost, düşman içinde
belli olur.



Bu atasözümüzdeki hâl eki hangi seçenekte doğru olarak verilmiştir?

A) Ayrılma hâli
(-den)

B) Bulunma hâli
(-de)

C) Yönelme hâli
(-e)

D) Yükleme hâli
(-i)

15.

Develerin boynu
neden eğridir?




Timsahlar, ça-
murlu suda ya-
şar.



Aslanı, kaplanla
karıştırmayınız.




Kaplumbağalar,
yeşillik yemeye
bayılır.



Hayvanlardan hangisi cümlesinde çok-
luk eki kullanmamıştır?

- A) Deve B) Timsah
C) Aslan D) Kaplumbağa

17.



Emanet aldığı kazanı sahibine geri verirken Hoca'mız bir de tencere uzattı.

Adam, şaşırdı, sordu:

– Bu tencere de ne? Hoca:

– Ne olacak, kazanın yavrusu, bizde doğur-
du da... Kazan sahibi buna pek sevindi.

Aradan iki hafta geçti. Hoca'ya yine kazan
lazım oldu. Gitti, komşusundan tekrar iste-
di. Adam da hemen verdi.

Sonra aylar geçti, kazan geri gelmedi. Kom-
şusu merak edip gitti. Hoca'dan kazanı is-
tedi. Hoca:

– Ağam, başın sağolsun. Kazan sizlere
ömür!. Adam:

– Ne demek, dedi. Kazan ölür mü hiç?

Hoca:

– ...

Bu parçaya göre üç nokta (...) ile belirti-
len yerde Nasrettin Hoca ne demiştir?

- A) Parayı veren, düdüğü çalar komşu.
B) Ya tutarsa?
C) Doğduğuna inandın da öldüğüne ne-
den inanmazsın?
D) Kazan sahibi sen misin, yoksa ben
miyim?

16. Kitaba, içindeki bilgiye göre her şeyi so-
rabiliriz. Hem istediğimiz zaman hem
de istediğimiz kadar. O kızmaz, bize su-
rat asmaz, bilgisizliğimizi yüzümüze vur-
maz, bizimle dalga geçmez.

Paragraftan aşağıdakilerin hangisi çıka-
rılmaz?

- A) Kitaplara her zaman başvurulabilir.
B) Bir kitapta, her sorumuzun cevabını
bulabiliriz.
C) Kitaplar bilgisizliğimizle alay etmez.
D) Kitaba, anlamadığımız yer defalarca
sorulabilir.

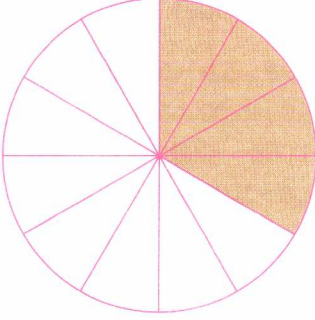
TÜRKÇE TESTİ BİTTİ.

CEVAPLARINIZI KONTROL EDİNİZ.

MATEMATİK TESTİ

(MEB Yayınına Göre)

1. Öğretmeni Tarık'tan tahtaya çizdiği eşit dilimlere ayrılmış dairenin "altıda beşini" boyamasını istemiştir. Tarık daireyi aşağıdaki gibi boyamıştır.



Buna göre, Tarık kaç dilim daha boyarsa öğretmenin söylediği kesir kadarını boyamış olur?

3. Aşağıdaki kesirlerden hangisi 2'den büyük 3'ten küçüktür?

A) $\frac{7}{4}$

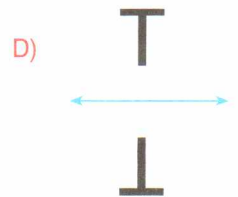
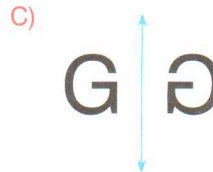
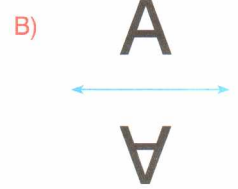
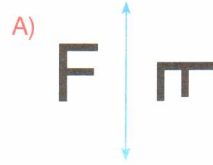
B) $\frac{9}{5}$

C) $\frac{15}{6}$

D) $\frac{22}{7}$

- A) 6
B) 5
C) 4
D) 3

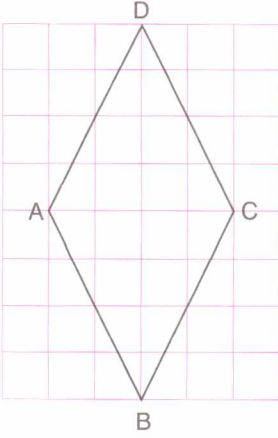
4. Aşağıdaki harflerden hangisi verilen doğruya göre simetrik değildir?



2. Aşağıda yazılanlardan hangisi bütün çokgenler için eşit değildir?

- A) Kenar sayısı ile simetri doğrusu sayısı
B) Kenar sayısı ile iç açılarının sayısı
C) Köşe sayısı ile iç açılarının sayısı
D) Kenar sayısı ile köşe sayısı

5.



Yukarıdaki kareli kağıt üzerine çizilmiş olan ABCD eşkenar dörtgeninin köşegenlerinin uzunlukları toplamı 72 cm'dir.

Buna göre, A köşesinden C köşesine çizilen köşegenin uzunluğu kaç cm'dir?

- A) 36 B) 30
C) 28 D) 24

7.

Tam Kısım		Kesir Kısımı		
5	,	8		
5	,	0	8	
5	,	0	0	8

Yukarıda verilen ondalık kesirlerin büyüktен küçüğe doğru sıralanışı aşağıdakilerden hangisidir?

- A) $5,08 > 5,8 > 5,008$
B) $5,8 > 5,08 > 5,008$
C) $5,008 > 5,08 > 5,8$
D) $5,8 > 5,008 > 5,08$

8. Örnek:

$$\frac{3}{5} = \frac{3 \times 2}{5 \times 2} = \frac{6}{10} = 0,6$$

$$\frac{14}{25} = \frac{14 \times 4}{25 \times 4} = \frac{56}{100} = 0,56$$

$\frac{3}{5}$ ve $\frac{14}{25}$ kesirlerinin paydası 10, 100

olacak şekilde genişletilebildiği için ondalık kesir olarak gösterilebilir.

Yukarıdaki örneğe göre aşağıdaki kesirlerden hangisi ondalık kesir olarak gösterilemez?

- A) $\frac{11}{25}$ B) $\frac{1}{2}$
C) $\frac{27}{50}$ D) $\frac{7}{9}$

6.



Japonya'da bulunan Hida Tüneli'nin uzunluğu 11,75 km ve Bolu Dağı Tüneli'nin sol tüpünün uzunluğu 2954 m'dir.

Buna göre Hida Tüneli, Bolu Dağı Tüneli'nin sol tüpünden kaç metre daha uzundur?

- A) 8776 B) 8788
C) 8796 D) 8086

9.

İkizkenar üçgenlerin iki kenarının uzunluğu birbirine eşittir.

Bir ikizkenar üçgenin kenarlarından ikisinin uzunlukları 10 cm ve 13 cm'dir.

Buna göre, bu ikizkenar üçgenin kenarlarının uzunlukları toplamı en fazla kaç cm olabilir?

- A) 33 B) 34
C) 36 D) 38

10. Bir alışveriş merkezinde bulunan müşterilere "Hangi amaçla alışveriş merkezine geldiniz?" sorusu sorularak bir anket hazırlandı ve verilen cevaplara göre aşağıdaki tablo hazırlandı.


Tablo: Anket Sonuçları

Verilen Cevap	Bu cevabı verenler
Gezmek için	0,25'i
Giyecek almak için	% 33'ü
Sinemaya gitmek için	0,05'i
Yemek için	% 18'i
Elektronik ürün almak için	0,19'u

Buna göre, alışveriş merkezine gelenlerin en az verdikleri cevap aşağıdakilerden hangisidir?

- A) Gezmek için
B) Elektronik ürün almak için
C) Yemek için
D) Sinemaya gitmek için

11.



Yukarıda 100 eş kareden oluşan şeklin bazı bölümleri boyanmıştır.

Buna göre, boyalı kısım tüm şeklin yüzde kaçıdır?

- A) 46 B) 48
C) 50 D) 52

12. Bir mobilya mağazasında tüm ürünlerde etiket fiyatı üzerinden % 30 indirim uygulanmaktadır.

Bu mağazadan etiket fiyatı 3000 TL olan bir koltuk takımı alan Esra Hanım kaç TL ödeyecektir?

- A) 1800 B) 2000
C) 2100 D) 2200

13.

$$\frac{1}{7} < \frac{5}{21} < \frac{4}{7} < \frac{1}{3}$$

Yukarıda verilen sıralamanın doğru olması için hangi iki kesrin yerleri değiştirilmelidir?

A) $\frac{5}{21}$ ile $\frac{1}{3}$

B) $\frac{4}{7}$ ile $\frac{1}{3}$

C) $\frac{5}{21}$ ile $\frac{4}{7}$

D) $\frac{1}{7}$ ile $\frac{5}{21}$

14. Aşağıdaki kesir çiftlerinden hangisindeki

kesirlerden biri, $\frac{6}{15}$ kesrinin sadeleştirilmiş, diğeri ise genişletilmiş hâlidir?

A) $\frac{2}{5}$, $\frac{18}{45}$

B) $\frac{3}{5}$, $\frac{18}{45}$

C) $\frac{2}{5}$, $\frac{24}{45}$

D) $\frac{3}{5}$, $\frac{30}{60}$

15. "Yüz elli altı tam binde yetmiş sekiz"

Yukarıda okunuşu verilen ondalık kesrin kesir kısmındaki rakamların toplamı tam kısmındaki rakamların toplamından kaç fazladır?

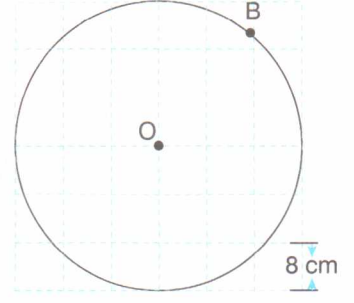
A) 0

B) 1

C) 2

D) 3

16.



Yukarıda kareli kâğıt üzerinde O merkezli bir çember çizilmiştir.

Karelerden birinin kenar uzunluğu 8 cm olduğuna göre, O noktasının B noktasına olan uzaklığı kaç cm'dir?


A) 16

B) 24

C) 32

D) 48

17.



Ahmetlerin yeni aldıkları dairenin giriş kapısının yüksekliği 2,15 m'dir. Ahmetlerin bu eve taşıyacakları eşyaların yükseklikleri aşağıdaki gibidir.

Buzdolabı : 180 cm

Portmanto : 1,96 m

Elbise dolabı: 220 cm

Kitaplık: 200 cm

Buna göre, Ahmetler hangi eşyayı kapıda eğmeden geçiremezler?

A) Buzdolabı

B) Portmanto

C) Kitaplık

D) Elbise Dolabı


MATEMATİK TESTİ

(Diğer Yayınlara Göre - 1)

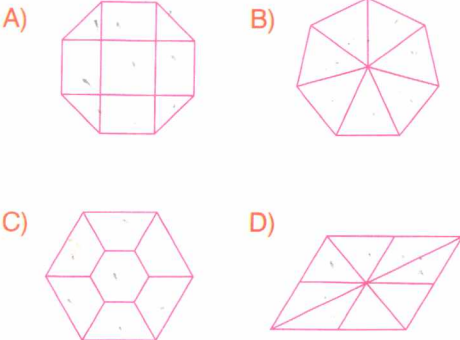
1. Aşağıdaki sayılardan hangisi okunuşu "Seksen bin elli." olan sayıdan daha büyüktür?

A) 80 005 B) 80 038
C) 80 048 D) 80 201

2. Aşağıdaki şekiller belirli bir kurala göre çizilerek bir örüntü oluşturmuştur.



Buna göre, aşağıdaki şekillerden hangisi bu örüntünün bir terimi olabilir?



3. $24\ 000 \div 400 = 60$
 $5400 \div 180 = 300$
 $42\ 000 \div 700 = 60$
 $555\ 000 \div 500 = 1110$

Yukarıda verilen bölme işlemlerinden kaç tanesinin sonucu doğrudur?

A) 4 B) 3
C) 2 D) 1

4.

1, 7, 2, 8 ve 0 rakamlarını birer kez kullanarak beş basamaklı en büyük ve en küçük sayıları yazdım. Sonra da bu sayılar arasındaki farkı buldum.



Açıklamasına göre Kâmil, aşağıdaki sayılardan hangisini bulmuştur?

A) 76 902 B) 76 922
C) 76 932 D) 76 946

5.



5 kg kabuklu ceviz kırılınca 3 kg ceviz içi elde edilmektedir.

Buna göre, 90 kg ceviz içi elde etmek için kaç kg kabuklu ceviz kırılmalıdır?

- A) 150 B) 130
C) 120 D) 100

6. Emre 10'u çeyrek geçe ders çalışmaya başladı ve 12.35'e kadar hiç ara vermeden çalışmaya devam etti.

Buna göre, Emre kaç saat kaç dakika ders çalışmıştır?

- A) 2 saat 45 dakika
B) 2 saat 35 dakika
C) 2 saat 20 dakika
D) 1 saat 50 dakika

7.

$$1254 > 986 + A \text{ 'dır.}$$

Buna göre, A yerine aşağıdaki sayılardan hangisi yazılamaz?

- A) 272 B) 260
C) 258 D) 252

8. Bir çıkarma işleminde aşağıdaki işlemlerden hangisi yapılırsa fark değişmez?

- A) Eksilen sayıyı 10 artırıp çıkan sayıyı 10 azaltırsak
B) Eksilen sayıyı 15, çıkan sayıyı 20 artırırsak
C) Eksilen sayıyı 20 azaltıp çıkan sayıyı 20 artırırsak
D) Eksilen ve çıkan sayıya 30 eklersek

9. Ayşe, 78 tane daha soru çözerse çözdüğü soruların sayısı Kerem'in çözdüğü soruların sayısının üç katı olacak.

Ayşe 612 tane soru çözdüğüne göre, Kerem kaç tane soru çözmüştür?

- A) 300 B) 260
C) 240 D) 230

10.



Bir lokantada 2 kişilik, 4 kişilik ve 6 kişilik masalardan eşit sayıda vardır. Bu lokantada başka masa yoktur. Lokanta tam dolu iken 120 kişi almaktadır.

Buna göre, lokantadaki toplam masa sayısı kaçtır?

- A) 20 B) 25
C) 30 D) 35

11.

$$\begin{array}{r} 534 \\ \times 202 \\ \hline \end{array}$$

Yukarıdaki çarpma işleminin sonucunun binler basamağındaki rakam kaçtır?

- A) 7 B) 6
C) 0 D) 8

12.

- ❖ $52 \times 100 = 5200$
❖ $187 \times 10 = 18700$
❖ $70 \times 1000 = 7000$
❖ $33 \times 200 = 6600$

Yukarıdaki çarpma işlemlerinden kaç tanesinin sonucu doğrudur?

- A) 1 B) 2
C) 3 D) 4

13. Dört kişilik bir arkadaş grubunun yaşlarının toplamının kaç olduğu merak edilmektedir.

Aşağıdakilerden hangisi yalnız başına bilinirse bu arkadaş grubunun yaşlarının toplamının kaç olduğu bulunabilir?

- A) Gruptakilerin yaşlarının aritmetik ortalamasının kaç olduğu
B) Gruptakilerden en küçüğünün kaç yaşında olduğu
C) En büyük ve en küçüğünün yaşları arasındaki farkın kaç olduğu
D) Gruptakilerden en büyüğünün kaç yaşında olduğu

14.

$$\begin{array}{r} \dots \mid 34 \\ - \mid 102 \\ \hline 21 \end{array}$$

Yukarıda verilen bölme işlemine göre, bölünen sayı kaçtır?

- A) 3440 B) 3447
C) 3468 D) 3489

16.

$$10^2 - 8^2 = A$$

$$4^3 + 3^3 = B$$

Yukarıda verilen eşitliklere göre $A + B$ kaçtır?

- A) 61 B) 117
C) 127 D) 130

15.

$$\begin{array}{r} 2506 \mid 12 \\ - \mid \\ \hline \end{array}$$

Yukarıda verilen bölme işleminde bölüm ile kalanın toplamı kaçtır?

- A) 2018 B) 218
C) 208 D) 29

17.

$$\begin{array}{r} 7168 \mid 14 \\ - \mid \\ \hline \end{array}$$

Yukarıdaki bölme işleminde bölüm kaç basamaklıdır?

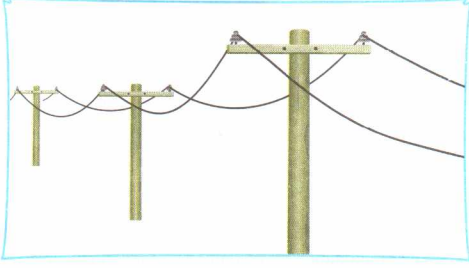
- A) 4 B) 3
C) 2 D) 1

MATEMATİK TESTİ BİTTİ.

CEVAPLARINIZI KONTROL EDİNİZ.

FEN ve TEKNOLOJİ TESTİ





1.



Yazın elektrik tellerinin şekildeki gibi sarkmasını aşağıdakilerin hangisiyle açıklayabiliriz?

- A) Donma
- B) Genleşme
- C) Büzülme
- D) Erime

2. Aşağıdaki öğrencilerden hangisinin sağlığı zararlı maddelerle ilgili olarak verdiği bilgi yanlıştır?

- A)  Sigara dumanından sadece içenler etkilenir, içenlerin etrafında bulunanlar zarar görmez.
- B)  Uzun süreli alkol kullanımında karaciğer kanseri ve siroz gibi hastalıklar ortaya çıkabilir.
- C)  Sigara kullanımı hem tüketirken hem de sebep olduğu hastalıkların tedavisi sırasında ekonomik kayıplara sebep olur.
- D)  Alkol alan kişiler hem kendisine hem de çevresine zarar verebilir.

3.



Yukarıda verilenlerden hangileri, güneş enerjisini başka bir enerji çeşidine dönüştürmek için kullanılan araçlardır?

- A) I ve II
- B) I ve III
- C) II ve III
- D) I, II ve III

4. Aşağıdaki olaylardan hangisi hâl değişimine örnek oluşturmaz?

- A) Buharın su zerreciklerine dönüşmesi
- B) Isıtılan telin uzaması
- C) Suyun donması
- D) Karın erimesi

5. Aşağıdaki öğrencilerden hangisinin söylediği olay ısı etkisiyle genleşmenin zararlarına örnek oluşturur?

A) İki ucundan çekilen bir lastiğin kopması



B) Balonun şişirilmesi



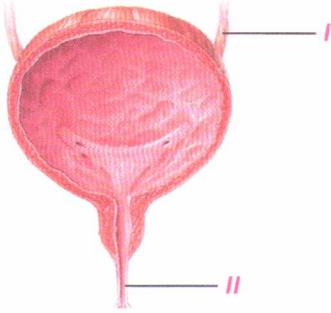
C) Yaz mevsiminde gözlük camlarının düşmesi



D) Sütün pişmesi



6.



Yukarıdaki resimde idrar kesesi ve buna bağlı kanallar gösterilmiştir.

İdrar kesesine idrarı getiren (I) ve idrarı idrar kesesinden uzaklaştıran (II) kanallar aşağıdakilerden hangisinde doğru verilmiştir?

I

- A) Üretra
B) Üreter
C) Anüs
D) Anüs

II

- Anüs
Üretra
Üreter
Üretra

7.



Petrol

Yukarıda resmi görülen yakıtla ilgili olarak verilen,

- I. Hayvan ve bitkilerin deniz ve göllerde fosilleşmesiyle oluşur.
- II. Ayrıştırılarak mazot, benzin ve LPG gibi yakıtlar üretilir.
- III. Yeraltından çıkarılır rafinerilerde işlenir.

bilgilerinden hangileri doğrudur?

A) I ve II

B) I ve III

C) II ve III

D) I, II ve III

8. Ülkemizde ,

- I. Buharlaştırmanın fazla olduğu mevsim
 - II. Yağışın fazla olduğu mevsim
- aşağıdakilerden hangisinde doğru verilmiştir?

I

- A) Kış
B) Sonbahar
C) İlkbahar
D) Yaz

II

- İlkbahar
Yaz
Sonbahar
Kış

9. Kas ve kemiklerin yapısına girerek yapım görevini, yaraların iyileşmesini sağlayıp onarım görevini yerine getiren besin grubu, aşağıda verilenlerden hangisidir?

A) Protein B) Yağ
C) Karbonhidrat D) Mineral

10.



I
Ütü



II
Fırın




III
Buzdolabı

Yukarıda verilen araçlardan hangilerinde maddelerin genleşme özelliğinden yararlanılarak yapılan termostatlar kullanılır?

A) I ve II B) I ve III
C) II ve III D) I, II ve III

11.



Yakından incelendiğinde, resimdeki gibi altıgen şekilde olduğu görülen yağış çeşidi aşağıdakilerden hangisidir?

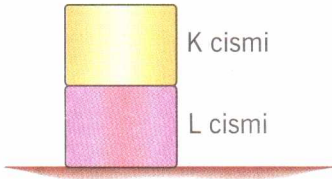
A) Yağmur B) Dolu
C) Sis D) Kar

12. Aşağıda verilen ısı birimi eşitliklerinden hangisi doğrudur?

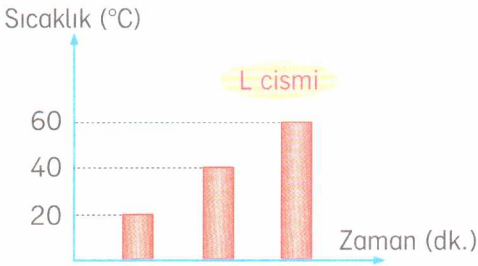
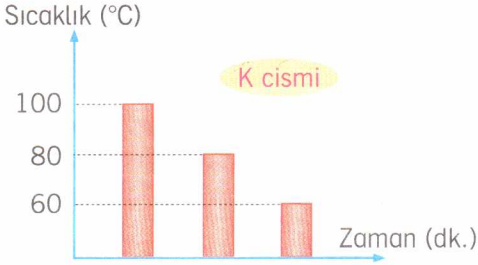
(1 cal = 4 J)

A) 1000 cal = 10 kcal
B) 800 joule = 200 cal
C) 4 kJ = 2 kcal
D) 30 kJ = 3000 joule

13.



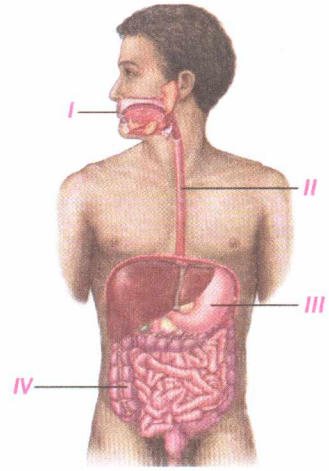
K ve L metal cisimleri şekildeki gibi üst üste konuyor. Metal cisimlerin sıcaklıklarındaki değişim aşağıdaki grafiklerde gösterilmiştir.



Buna göre cisimlerle ilgili olarak aşağıda verilenlerden hangisi yanlıştır?

- A) Cisimler arasında ısı geçişi olmuştur.
- B) K cisiminden, L cisimine ısı geçişi olmuştur.
- C) L cisiminden, K cisimine ısı geçişi olmuştur.
- D) Cisimlerin son sıcaklıkları eşittir.

14.



Yukarıda, insan vücudunda bulunan yapılardan bazıları gösterilmiştir.

I'de, besinler ufalanıp tükürük sıvısıyla karıştırılır.

II'de, sindirilmiş besinler kana geçer.

III'te, besinler çalkalanıp bulamaç kıvamına getirilir.

IV'de, posa içinde kalan su ve vitaminlerin bir kısmı emilir.

Öğrencinin, resimdeki yapılarla ilgili olarak verdiği bilgilerden kaç tanesi doğrudur?

- A) 1
- B) 2
- C) 3
- D) 4

FEN ve TEKNOLOJİ TESTİ BİTTİ.
CEVAPLARINIZI KONTROL EDİNİZ.

SOSYAL BİLGİLER TESTİ

1.

SON DAKİKA HABERİ



NÜFUS DURMUYOR
İstanbul 118 ülkeyi geride bıraktı

İstanbul'un nüfusu bugün 15 milyon. On beş sene sonra bu rakamın 23 milyon olacağı tahmin ediliyor. Yani ülkemizdeki her beş kişiden biri İstanbul'da yaşıyor.

Aşağıdakilerden hangisi İstanbul'daki nüfus artışının nedenlerinden değildir?

- A) Karasal iklime sahip olması
- B) Ulaşımının kolay olması
- C) İş imkânlarının fazla olması
- D) Sanayisinin gelişmiş olması

2.



Bir bireyin Çocuk Hakları Sözleşmesi'nden yararlanabilmesi için aşağıda verilen şartlardan hangisine sahip olması gereklidir?

- A) Evin en küçük erkek çocuğu olması
- B) On sekiz yaşını geçmemiş olması
- C) Bir okulda eğitim görmesi
- D) Ailesi tarafından terkedilmiş olması

3.



Ülkemizin en uzun nehri ve döküldüğü deniz hangi seçenekte doğru verilmiştir?

- A) Sakarya ➡ Marmara Denizi
- B) Büyük Menderes ➡ Ege Denizi
- C) Asi Nehri ➡ Akdeniz
- D) Kızılırmak ➡ Karadeniz

4.



Kadınlarımızın her konuda yükselmesini sağlayacağız. Kadınlar, geleceğe doğru erkeklerle birlikte yürüyecekler ve birbirinin yardımcısı olacaklardır.

Aşağıdakilerden hangisi Atatürk'ün bu sözü doğrultusunda kadınlara tanınan haklardan biri değildir?

- A) Milletvekili seçme ve seçilme
- B) Miras konusunda erkeklerle aynı haklara sahip olma
- C) İsteddiği meslekte çalışabilme
- D) Aile reisi olup evi geçindirme

5.



Sizin de bildiğiniz gibi geçtiğimiz günlerde Van ilimizde büyük bir deprem felaketi yaşandı. 5-A sınıfı öğrencileri olarak bu konuda ne yapabileceğimizi konuşmak üzere toplandık. Bir grup arkadaşımız para yardımlarını toplama işini, bir başka grup arkadaşımız da giysi ve ilaç toplama işini üstlendi.

Buna göre 5-A sınıfı öğrencileri için aşağıdakilerden hangisi söylenemez?

- A) Bir grup çalışması için toplandıkları
- B) Sorumluluk duygusuyla hareket ettikleri
- C) Çevrelerinde gelişen olaylara duyarlı kaldıkları
- D) Sınıfta yardım toplama konusunda iş bölümü yaptıkları

6.



Kıyı bölgelerimiz, denizin ılımanlaştırıcı etkisiyle iç bölgelere göre daha sıcak bir iklime sahiptir.

Buna göre, aşağıdaki bölgelerden hangisinde kışın ısınma giderleri daha fazladır?

- A) Marmara Bölgesi
- B) Doğu Anadolu Bölgesi
- C) Akdeniz Bölgesi
- D) Ege Bölgesi

7.

Gruplar içerisindeki rolleri yerine getirirken bazı kararlar almamız gerekir. Bu kararları almak ve sonuçlarını kabul etmek bizim sorumluluğumuzdur. Sorumluluk, bir gruba üye olan bireylerin üstlendiği rolün gereklerini yerine getirmesidir. Ailede, okulda, arkadaş grubunda sorumluluklarımız vardır.



İçinde bulunduğumuz aşağıdaki gruplardan hangisinde daha fazla kişiye karşı sorumluluğumuz vardır?

- A) Aile
- B) Oyun grubu
- C) Sınıf
- D) Toplum

8.



Yazın gittiğimiz yer pamuk tarlası gibi bembeyaz taşlardan oluşuyordu.



Bizim de gittiğimiz yerde ülkemizin en büyük gölü vardı.

Ömer ve Pınar gezdikleri doğal güzelliklerden bahsetmişlerdir.

Buna göre, Ömer ve Pınar'ın gezdikleri doğal güzelliklerimiz aşağıdakilerden hangisinde doğru verilmiştir?

Ömer	Pınar
A) Peri bacaları	Manyas Kuş Cenneti
B) Pamukkale Travertenleri	Sapanca Gölü
C) Pamukkale Travertenleri	Van Gölü
D) Tuz Gölü	Abant Gölü

9.



Murat: Salih, biliyor musun, cumhuriyetten önce elmalar pazarda "okka" ile satılıyordu.

Salih: Okka mı? O da ne.

Murat:

Yukarıdaki konuşmalarda, boş bırakılan yere aşağıdaki ifadelerden hangisi yazılabilir?

- A) Eskiden kilogram yerine kullanılan bir ağırlık birimidir.
- B) Eskiden metre yerine kullanılan bir uzunluk birimidir.
- C) Eskiden litre yerine kullanılan bir sıvı ölçüsü birimidir.
- D) Eskiden takvim yerine kullanılan bir zaman ölçüsü birimidir.

10. İnsanlar yerleşip şehir kurmak için aşağıdaki yerlerden hangisini tercih etmezler?

A)



Deniz kıyılarını

B)



Dağların zirvelerini

C)



Düz ve verimli toprakları

D)



İklimi elverişli yerleri

11. Bölgelerimizin yüzey şekilleriyle ilgili aşağıdaki eşleştirmelerden hangisi yanlıştır?

A)



Doğu Anadolu Bölgesi

Yükseltisi en fazla olan bölgemizdir.

B)



Karadeniz Bölgesi

Dağlar kıyıya paralel uzanır.

C)



Ege Bölgesi

Denize kıyısı yoktur.

D)



İç Anadolu Bölgesi

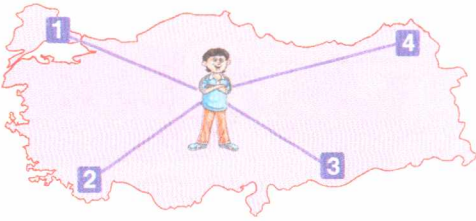
Düzlükler fazla yer kaplar.

12. Cumhuriyet kurulduktan sonra ülkede bir çok alanda yeni fabrikalar açılmıştır.

Bu durum aşağıdaki ilkelerden hangisiyle ilgilidir?

- A) Cumhuriyetçilik B) Devletçilik
C) Milliyetçilik D) Laiklik

13.



Mert kaç numaralı ok yönünde giderse nüfusu en fazla olan bölgemize ulaşır?

- A) 1 B) 2
C) 3 D) 4

14. Ünlü bir fotoğraf sanatçısı ülkemizin çeşitli şehirlerindeki birçok tarihî eser ve doğal güzelliğin fotoğrafını çekmiştir.

Aşağıdaki fotoğraflardan hangisi İstanbul'da çekilmiş olamaz?

A)



Rumeli Hisarı

B)



Kız Kulesi

C)



Çifte Minareli Camii

D)




Süleymaniye Camii

SOSYAL BİLGİLER TESTİ BİTTİ.
CEVAPLARINIZI KONTROL EDİNİZ.

İNGİLİZCE TESTİ


1. – 6. sorularda verilen resimlerden yararlanarak boş bırakılan yerlere uygun düşün sözcük veya ifadeyi bulunuz.

1.



- A) Go to your desk
- B) Don't cheat in the exam
- C) Clean the board
- D) Don't run in the classroom

2.




- | | |
|-----------|----------|
| A) lake | B) sea |
| C) forest | D) river |

3.




- A) Do your homework
- B) Point to the board
- C) Put on your sports shoes
- D) Don't sleep in the classroom

4.




- | | |
|----------|------------|
| A) under | B) next to |
| C) on | D) behind |

5.



- A) Write your name
B) Don't shout loudly
C) Don't drop litter
D) Close the window

6.




- A) sunny
B) raining
C) foggy
D) cold

7.

"I'm at post office and I'm about to send a letter to my brother."

Which picture am I in?

A)



B)






C)



D)



8.



"Hello! I'm Japanese. In my country, there are many small islands. And, the weather is quite hot in the summer in Japan."

Which picture is about my country?

- A) I
B) II
C) III
D) IV

İNGİLİZCE TESTİ BİTTİ.

CEVAPLARINIZI KONTROL EDİNİZ.