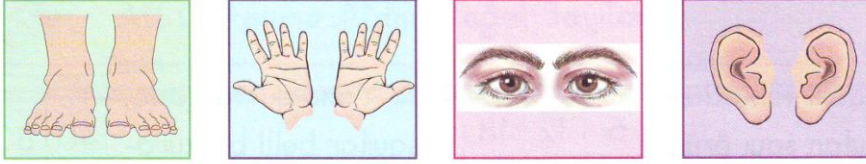
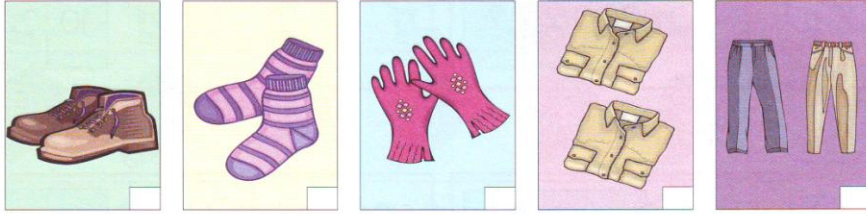


TEK VE ÇİFT DOĞAL SAYILAR

Aşağıdaki resimleri inceleyelim.

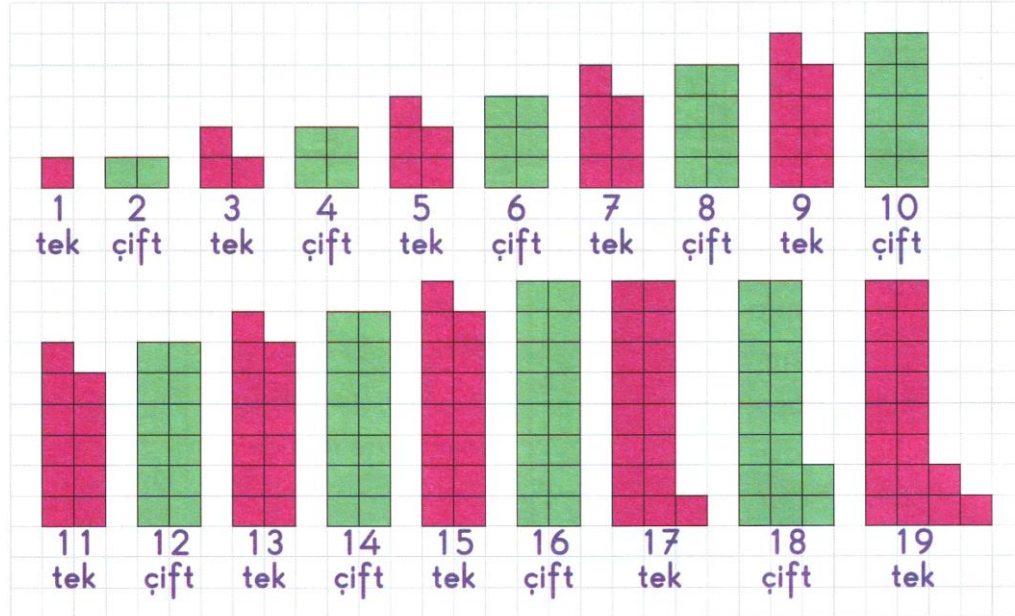


- ❁ Resimlerde gördüğünüz gibi; sağlıklı bir insan vücudunda ayak, el, göz ve kulak ikiye tane bulunur.
- ❁ Aşağıdaki resimlerde gördüğünüz eşyalardan hangilerini tek olarak satın alabiliriz? İşaretleyiniz.



Yukarıda resmini gördüğünüz gömlek ve pantolon tek olarak satın alınabilir. Ayakkabı, çorap ve eldiven çift olarak satılır. Çünkü ayaklarımız ve ellerimiz ikiye tanedir.

Aşağıda modellenerek gösterilen sayıları inceleyiniz.



TEK DOĞAL SAYILAR

Aşağıdaki doğal sayıları inceleyiniz.

birler basamağı

3
2 1
40 5
68 7
24 5

birler basamağı

5
4 7
10 3
46 1
68 9

birler basamağı

7
8 1
24 3
68 5
80 9

❁ Tek doğal sayıların birler basamağında hangi rakamlar bulunur?

❁ Bir doğal sayının tek doğal sayı olup olmadığını nasıl anlarsınız?

ÇİFT DOĞAL SAYILAR

Aşağıdaki doğal sayıları inceleyiniz.

birler basamağı

2
3 0
51 4
79 6
57 0

birler basamağı

4
5 0
13 2
79 0
57 8

birler basamağı

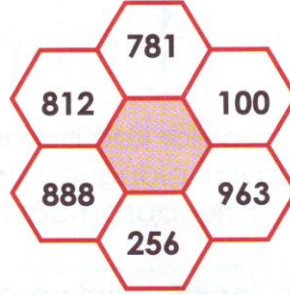
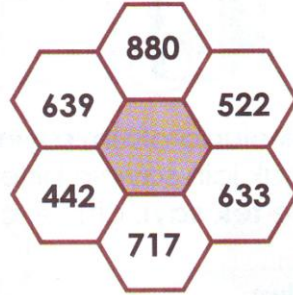
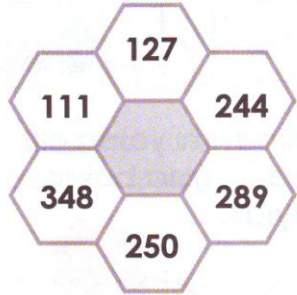
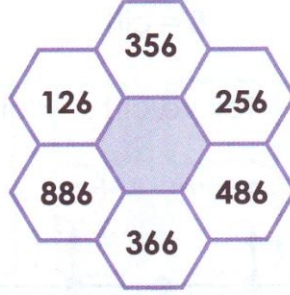
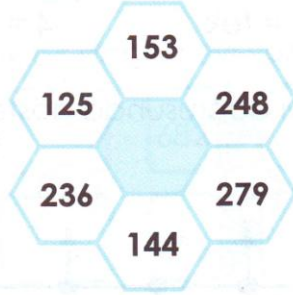
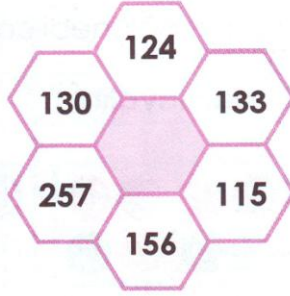
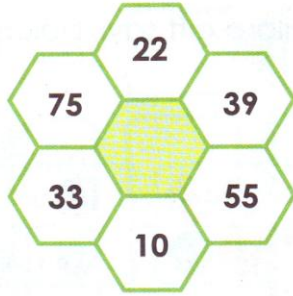
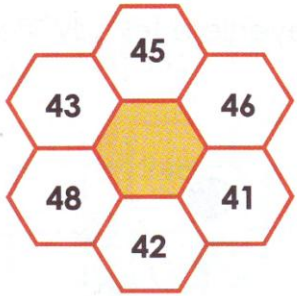
6
7 8
31 2
19 8
93 4

❁ Çift doğal sayıların birler basamağında hangi rakamlar bulunur?

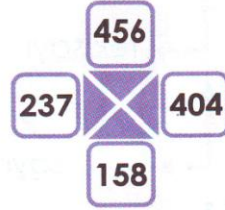
❁ Bir doğal sayının çift doğal sayı olup olmadığını nasıl anlarsınız?

Alıştırımlar

1. Aşağıdaki altıgenin içindeki sayılardan çift olanları pembeye, tek olanları açık yeşile boyayalım.



2. Aşağıda verilen dört sayıdan farklı olanı boyayalım. Neden o sayıyı boyadığımızı altına yazalım.



.....
.....
.....

.....
.....
.....

.....
.....
.....

.....
.....
.....

İstenen sayıları tümcelerin sonuna yazalım. Sayıların okunuşlarını yazarak bulmacayı çözelim.

- 1- İki basamaklı en büyük tek doğal sayı:
- 2- Üç basamaklı en küçük çift doğal sayı:
- 3- 17 den büyük 23 ten küçük tek sayıların toplamı:
- 4- Yüzler basamağı 5 olan üç basamaklı en küçük tek sayı:
- 5- Dört basamaklı en küçük çift doğal sayı:
- 6- Onlar basamağı 8 olan üç basamaklı en büyük tek sayı:
- 7- 451 den küçük 447 den büyük tek doğal sayı:
- 8- 18 den büyük 30 dan küçük çift doğal sayıların toplamı:
- 9- İki basamaklı en büyük tek sayının 81 fazlası:
- 10- 810 dan büyük 813 ten küçük çift doğal sayı:
- 11- 6 ile 16 arasındaki tek doğal sayıların toplamı:
- 12- 979 dan küçük 975 ten büyük tek doğal sayı:
- 13- Bir basamaklı en büyük çift doğal sayı:
- 14- Üç basamaklı en küçük çift sayının 125 fazlası:
- 15- Farklı rakamlarla yazılan üç basamaklı en küçük çift sayı:
- 16- 324 ten küçük en büyük tek sayı ile 300 ün toplamı:
- 17- İki basamaklı en büyük çift doğal sayının 10 fazlası:
- 18- Üç basamaklı en büyük tek doğal sayının 109 eksiği:
- 19- Onlar basamağı 9 olan üç basamaklı en küçük çift sayı:

