

ADI-SOYADI:.....

TARİH:...../...../2011

21	22	23	24	25	26	27	28	29	30
31	32	33	34	35	36	37	38	39	40
41	42	43	44	45	46	47	48	49	50
51	52	53	54	55	56	57	58	59	60
61	62	63	64	65	66	67	68	69	70

1,2, ve 3.soruları tabloya göre cevaplayınız.

1)Arda tabloda 30'dan başlayıp altışar ritmik sayarken söylediği sayıları boyuyor. Arda 48'den sonra hangi sayıları boyar?

A)56-62-69 B)54-60-66 C)54-62-68

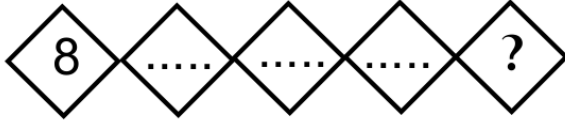
2)Arda tabloda 50'den başlayıp dokuzar dokuzar sayarken söylediği sayıları boyasaydı kaç sayı boyamış olurdu?

A)3 B)4 C)5

3)Arda tabloda 38'den başlayıp sekizer sekizer sayıyor. Aşağıdaki sayılardan hangisini söylemez?

A)70 B)62 C)58

4)



Mert 8'den başlayıp sekizer ritmik sayarak kutuları dolduruyor.

? olan kutuya hangi sayıyı yazar?

A)32 B)36 C)40

5)Aslı her gün bir önceki günden belli bir sayıda fazla okuyarak kitabını 5 günde bitirmiştir. Altaki tabloya göre Aslı salı günü kaç sayfa kitap okumuştur?

Günler	Cuma	Cumartesi	Pazar	Pazartesi	Salı
Sayfa sayısı	21	27	33	39	?

A)46 B)45 C)44

6)VII<.....<IX karşılaştırmasında noktalı yere aşağıdakilerden hangisi yazılmalıdır?

A)IV B)XI C)VIII

7)4 onluk 2 yüzlükten oluşan sayı kaç basamaklıdır?

A)3 B)2 C)1

8)404 doğal sayısındaki 4 rakamlarının basamak değerleri toplamı kaçtır?

A)44 B)404 C)444

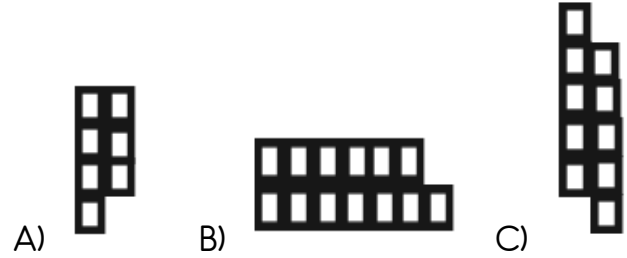
9)203 sayısındaki 2 rakamı bu sayının hangi basamağındadır?

A)birler B)onlar C)yüzler

10) 69● sayısının birler basamağına aşağıdaki rakamlardan hangisi yazılırsa sayı çift olur?

A)0 B)7 C)9

11)Aşağıdaki şekillerden hangisinde çift sayıda kare boyanmıştır?



12) ▲=1 onluk ■=1 birlik

olduğuna göre aşağıdakilerden hangisinin gösterdiği sayı tektir?

A)▲▲▲■ B)▲▲▲▲■ C)▲▲▲▲▲■

13) 7,8,0 rakamları birer kez kullanılarak oluşturulan üç basamaklı en büyük çift sayı hangisidir?

A)780 B)870 C)807

14)Aşağıdaki sayılardan hangisinin 5 fazlası çift sayıdır?

A)191 B)180 C)172

15)"On altı" sayısının Romen rakamlarıyla gösterilişi aşağıdakilerden hangisidir?

A)XIV B)VIX C>XVI

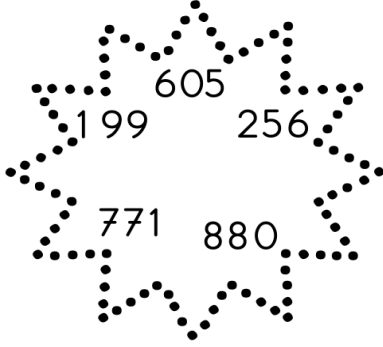
16) Emel'in tuttuğu sayı aşağıdakilerden hangisi olamaz?

- A) 292
B) 287
C) 299



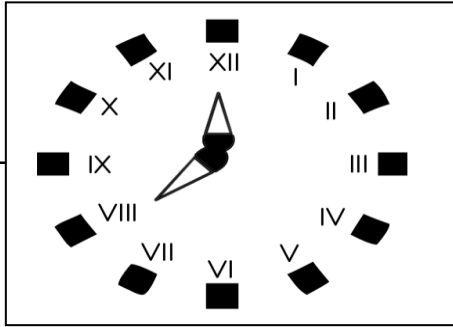
17) Yandaki sayılardan kaç tanesi tek sayıdır?

- A) 2
B) 3
C) 4



18) Yandaki saatte yelkovanın gösterdiği sayı hangisidir?

- A) 8
B) 7
C) 6



19) Aşağıdaki Romen rakamlarından en büyük olanı hangisidir?

- A) IX B) XI C) VIII

20) XI > * karşılaştırmasında * yerine aşağıdakilerden hangisi yazılamaz?

- A) XV B) VIII C) IX

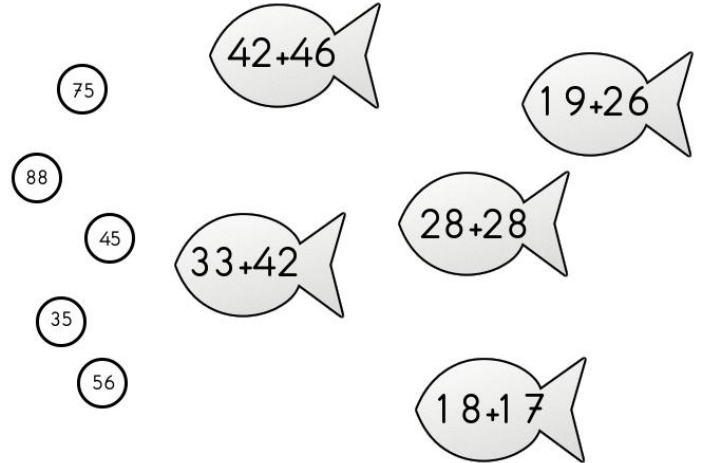
21) Aşağıda verilen toplama işlemlerini yapınız.

346	394	456
<u>+129</u>	<u>+818</u>	<u>+305</u>

22) Aşağıdaki işlemlerdeki verilmeyeni bulunuz.

$\begin{array}{r} 34\Box \\ +386 \\ \hline 730 \end{array}$	$\begin{array}{r} 5\Box0 \\ +236 \\ \hline 816 \end{array}$	$\begin{array}{r} 4\Box2 \\ +36\Box \\ \hline 810 \end{array}$
$\begin{array}{r} 353 \\ +\Box54 \\ \hline 830 \end{array}$	$\begin{array}{r} 256 \\ \Box\Box5 \\ +284 \\ \hline 815 \end{array}$	$\begin{array}{r} 412 \\ 1\Box0 \\ +36\Box \\ \hline 961 \end{array}$

23) Aşağıdaki sayıların hangi toplama işleminin sonucu olduğunu bulunuz.



24) 3 yüzlük 8 birlik ile 2 yüzlük 9 onluğun toplamı kaçtır?

- A) 598 B) 589 C) 578

25) Ahmet, Veli'den 4 yaş büyük Orhan'dan 2 yaş küçüktür. Orhan 25 yaşında olduğuna göre Veli kaç yaşındadır?

- A) 31 B) 19 C) 27

26) Eren 15, Halil 18 yaşındadır. 6 yıl sonra ikisinin yaşları toplamı kaç olur?

- A) 39 B) 24 C) 45