

MATEMATİK(DOĞAL SAYILAR)

ADI-SOYADI:.....

TARİH:...../...../2011

1)Aşağıdaki doğal sayılardan hangisi üç basamaklıdır?

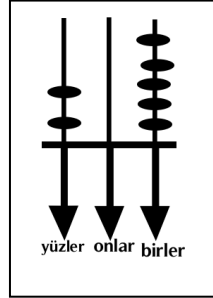
- A)1 00 B)096 C)01 0

2)Okunuşu "beş yüz dokuz" olan sayı aşağıdakilerden hangisidir?

- A)590 B)509 C)059

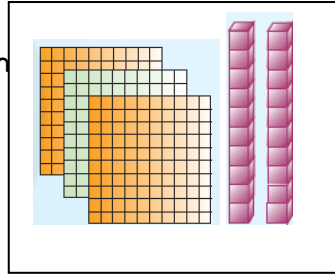
3)Yandaki abaküste gösterilen sayı kaçtır?

- A)21 5  
B)205  
C)25



4)Yandaki şekilde gösterilen sayı kaçtır?

- A)230  
B)302  
C)320



5)8 yüzlük, 6 onluk, 2 birlikten oluşan sayı aşağıdakilerden hangisidir?

- A)826 B)682 C)862

| yüzlük   | onluk  | birlik                                    |
|--|--|---|
| <input type="text"/> <input type="text"/> <input type="text"/> | <input type="text"/> <input type="text"/> <input type="text"/> | <input type="text"/> <input type="text"/> |
| <input type="text"/> <input type="text"/> <input type="text"/> | <input type="text"/> <input type="text"/> <input type="text"/> | <input type="text"/> <input type="text"/> |

6)Yukarıdaki tabloda belirtilen sayının okunuşu aşağıdakilerden hangisidir?

- A)Altı yüz kırk üç B) Altı yüz dört  
C) Altı yüz otuz dört

7)Aşağıdaki sayılardan hangisinin yüzler basamağındaki rakam 7'dir?

- A)1 07 B)701 C)377

8)Aylin Hanım arkadaşına, resimdeki telefonun fiyatını en yakın onluğa yuvarlayarak söyledi. Aylin Hanım ürünün fiyatının kaç TL olduğunu söylemiştir?

- A)300 B)280 C)270



9)Armağan bilgisayar oyunundan 382, Tunay 386 puan almıştır. İkisi de puanlarını en yakın onluğa yuvarlayarak söylediklerine göre aşağıdakilerden hangisi doğrudur?

|    | Armağan | Tunay |
|----|---------|-------|
| A) | 390     | 390   |
| B) | 385     | 390   |
| C) | 380     | 390   |

10)7 yüzlüğe en yakın sayı aşağıdakilerden hangisidir?

- A)696 B)688 C)719

11) "866 doğal sayısı büyüktür.....doğal sayısından." cümlesindeki noktalı yere aşağıdaki sayılardan hangisi getirildiğinde ifade doğru olur?

- A)870 B)868 C)859

12)620 <  karşılaştırmasında  yerine aşağıdaki sayılardan hangisi yazılabilir?

- A)609 B)619 C)629

13) "7 yüzlük 3 birlik >....." karşılaştırmasında noktalı yere aşağıdakilerden hangisi yazılabilir?

- A)7 yüzlük 2 onluk B)7 yüzlük 2 birlik  
C)7 yüzlük 1 onluk

14)Aşağıdaki sayılarda harfler bir rakam yerine kullanılmıştır. a>b>c ise bu sayılardan en küçüğü hangisidir?

- A) 29a B) 29b C) 29c

15)0,4,8 rakamları birer kez kullanılarak oluşturulan üç basamaklı en küçük sayı hangisidir?

- A)408 B)048 C)480

1 6) Al'nin okulunda kütüphane görevlisi yıl sonunda en çok okunan 4 kitabı ve kaç kişi tarafından okunduğunu götse- ren bir tablo hazırla- mıştır. Tabloya göre en çok okunandan en az okunana doğru sıra- lanışı hangisidir?  
(OÖS:Okuyan Öğrenci sayısı)

Kitaplar

OÖS



221




192



219



188



1 7)



Örneklerdeki sayıların küçükten büyüğe doğru sıralanışı aşağıdakilerden hangisidir?

A) 695 < 750 < 895 < 728 < 898

B) 695 < 728 < 750 < 895 < 898

C) 695 < 728 < 750 < 898 < 895

1 8) 1 25, 1 21, 1 1 9, 1 09, 1 31 sayılarını küçükten büyüğe doğru sıraladığımızda 1 21 hangi iki sayının ortasında yer alır?

A) 1 25 - 1 1 9

B) 1 25 - 1 31

C) 1 09 - 1 1 9

1 9) 325 < 329 < \* < 387 sıralamasında \* yerine aşağıdaki sayılardan hangisi yazılabilir?

A) 327

B) 352

C) 391

2 0) 230 > 228 > 209 > 21 6 > 200 sıralamasının doğru olabilmesi için hangi iki sayının yer değiştirmesi gerekir?

A) 209 - 200

B) 228 - 21 6

C) 209 - 21 6


2 1) 89'dan başlayıp geriye doğru yedişer ritmik saydığımızda beşinci sırada saydığımız sayı hangisidir?

A) 61

B) 68

C) 82

2 2)



Geriye doğru onar ritmik saydığımızda A ve B yerine hangi sayılar yazılmalıdır?

A) 1 25 ve 90

B) 1 25 ve 85

C) 1 20 ve 85

2 3) XII sayısından IV fazla olan sayı aşağıdakilerden hangisidir?

A) XVII

B) XVI

C) XV

2 4) 974 sayısının yüzler basamağındaki rakamın sayı değerinin Romen rakamları ile yazılışı aşağıdakilerden hangisidir?

A) V

B) X

C) IX