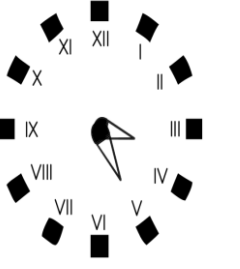
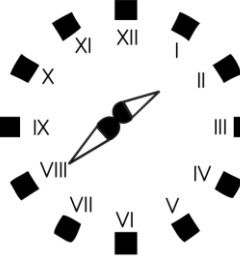
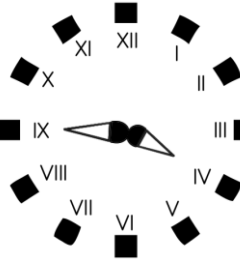
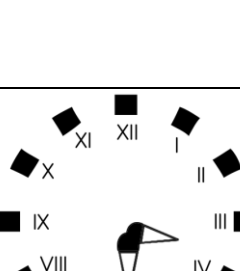
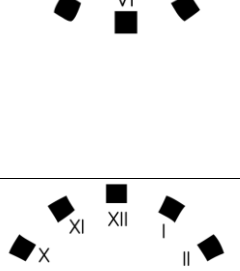


MATEMATİK(ZAMANI ÖLÇME)

ADI-SOYADI:

TARİH:...../...../20..

•Aşağıdaki saatlerin okunuşlarını noktalı yerlere yazınız.

Saatler	Değişik okunuş biçimleri	Sayısal saatte okunuşu
	Akrep 3 ile 4 arasında yelkovan 5'i gösteriyor. Saat 3'ü 25 geçiyor.	Öğleden sonra 15:25
	Akrep ilearasında yelkovan.....'i gösteriyor. Saat'ye..... var.	Öğleden sonra :
	Akrep ilearasında yelkovan.....'u gösteriyor. Saatü..... geçiyor. Saat'e..... var.	Öğleden sonra :
	Akrep ilearasında yelkovan.....'u gösteriyor. Saatü..... geçiyor. Saat'e..... var.	Öğleden önce :
	Akrep ilearasında yelkovan.....'u gösteriyor. Saatü..... geçiyor. Saat'e..... var.	Öğleden sonra :

•Aşağıdaki çevirmeleri örneklerden yararlanarak yapınız.

1 saat = 60 dakika	60 dakika = 1 saat
2 saat = dakika	120 dakika=.....saat
4 saat = dakika	240 dakika=.....saat
5 saat = dakika	300 dakika=.....saat
15 dakika = 1 çeyrek saat	
30 dakika = çeyrek saat	
45 dakika = çeyrek saat	
60 dakika = çeyrek saat	
75 dakika = çeyrek saat	
70 dakika = 1 saat 10 dakika	
75 dakika = saat dakika	
80 dakika = saat dakika	
95 dakika = saat dakika	
115 dakika = saat dakika	
30 dakika = 1 yarım saat	
60 dakika = yarım saat	
90 dakika = yarım saat	
120 dakika = yarım saat	
150 dakika = yarım saat	
1 saat 20 dakika = 80 dakika	
2 saat 30 dakika = dakika	
1 saat 15 dakika = dakika	
4 saat 20 dakika = dakika	
1 yarım saat = 30 dakika	
2 yarım saat = dakika	
5 yarım saat = dakika	
6 yarım saat = dakika	
7 yarım saat = dakika	
60 dakika = 4 çeyrek saat	
15 dakika = çeyrek saat	
120 dakika = çeyrek saat	

Zamanı Ölçme Testi,

1) Aşağıdakilerden hangisi yanlıştır?

A) çeyrek saat = 15 dakika

B) bir saat = 60 dakika

C) üç çeyrek saat = 35 dakika

2) Aşağıdakilerden kaç tanesi doğrudur?

$$\frac{1}{5}\text{saat}=12\text{ dakika}$$

$$\frac{1}{4}\text{gün}=6\text{ saat}$$

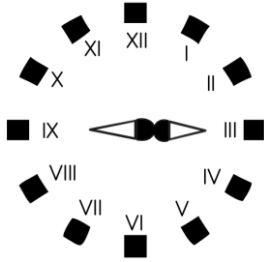
$$\frac{1}{2}\text{saat}=20\text{ dakika}$$

A) 1

B) 2

C) 3

3)



Yukarıdaki saat aşağıdakilerden hangisinde doğru okunmuştur?

A) Saat 03:45

B) Saat 03:00

C) Saat 03:15

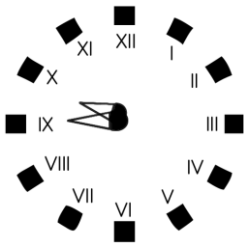
4) Aşağıdakilerden hangisi yanlıştır?

A) 3 saat, 2 yarım saat = 4 saat

B) 4 saat, 4 çeyrek saat = 5 saat

C) $\frac{1}{6}$ saat = 12 dakika

5)



Yukarıdaki saat aşağıdakilerden hangisinde doğru okunmuştur?

A) Saat 1 0:45

B) Saat 1 0'a çeyrek var.

C) Saat 1 0'u çeyrek geçiyor.

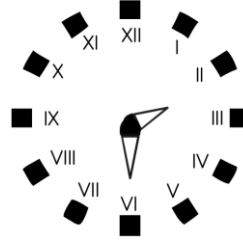
6) Aşağıdakilerden hangisi yanlıştır?

A) Saatin yelkovanı bir günde 24 tam dönüş yapar.

B) Saatin akrebi bir günde 2 tam dönüş yapar.

C) 290 dakika 5 saattir.

7)



Yukarıdaki saat aşağıdakilerden hangisinde yanlış okunmuştur?

A) Saat 1 4:30

B) Saat 2'yi 30 geçiyor.

C) Saat 3'e 20 var.

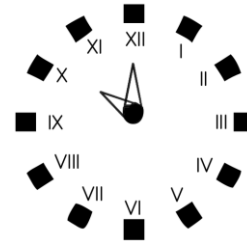
8) Aşağıdakilerden hangisi yanlıştır?

A) 125 dakika = 2 saat 5 dakika

B) 180 dakika = 3 saat 10 dakika

C) 120 dakika = 2 saat

9)



Yukarıdaki saatin okunuşu aşağıdakilerden hangisidir?

A) Saat 1 0:00

B) Saat 1 0'a 5 var.

C) Saat 24:00

10) Aşağıdakilerden kaç tanesi doğrudur?

I. 1 hafta = 7 gün

II. 1 ay = 30 gün

III. 1 yıl = 12 ay

IV. 3 hafta = 27 gün

A) 2

B) 3

C) 4