


1. Uyanınca kapısı açık odaya girdim. Oyun oynamak istiyordum. Sıçrayıp yatağın üzerine çıktım. Çıkışım-la inişim bir oldu. Babaanne beni gördüğüne hiç sevinmedi.

Nursel ERDOĞAN

**Paragraftaki altı çizili cümle ile anlatılmak istenen hangisidir?**

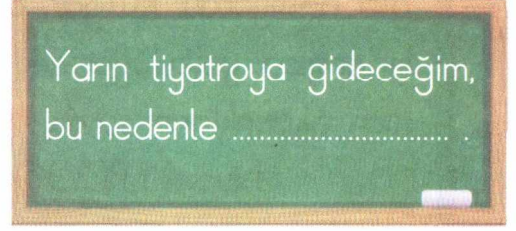
- A) yavaş yavaş yataktan indiği  
B) yatağın üzerinde oynadığı  
C) çok çabuk yataktan indiği
2. Aşağıdaki sözcüklerle anlamlı ve kurallı bir cümle oluşturulacaktır.



**Buna göre dördüncü sırada hangi sözcük yer alır?**

- A) izlediğim B) çok  
C) film

3.



**Tahtadaki cümlenin bir **duygu** belirtmesi için hangi ifade ile tamamlanması uygun olur?**

- A) sevinçliyim B) hazırlanmalıyım  
C) seninle gelemem

4.

- ★ Türkiyeden sporcular da yarışmaya katıldı.  
■ Kırlangıç sokakta şenlik varmış.  
▲ Karabaş'ın karnı acıkmış.



**Tabloda sembollerle gösterilen cümlelerde altı çizili sözcüklerin hangilerinde yazım yanlış yapılmıştır?**

- A) ★ ve ■ B) ■ ve ▲  
C) ★ ve ▲

5.

Anne kırlangıç, küçük kırlangıcı besliyordu. Rüzgâr, anne kırlangıca yolculuğa ne zaman çıkacaklarını sordu.

Nursel ERDOĞAN

**Paragrafa göre yolculuğa ne zaman çıkılacağını kim soruyor?**

- A) Anne Kırlangıç
- B) Rüzgâr
- C) Küçük Kırlangıç

6.

1	2	3	4
herkez	makine	çenber	yanlış

**Tablodaki kaç numaralı sözcüklerin yazılışları doğrudur?**

- A) 2 ve 4
- B) 3 ve 4
- C) 1 ve 2

7.

Sevinç, biriktirdiği para ile kitapçıya gitti.


**Yukarıdaki cümlede geçen sözcüklerle ilgili hangi eşleştirme yanlıştır?**

- A) Sevinç — Özel ad
- B) Para — Tür adı
- C) Kitapçı — Çoğul ad

8.

Kırlar yemyeşil halı,  
Her çiçekte bir arı,  
Dallarda öten kuşlar,  
Müjdeliyor baharı.

Meral DALAMAN



**Yukarıdaki şiirde hangi duyguya yer verilmiştir?**

- A) Sevinç
- B) Öfke
- C) Özlem

9. Aşağıdaki cümleler olayların oluş sırasına göre sıralanacaktır.

G

Kuzucuk onu ne zaman görse sevinir, zıplamaya başlardı.

L

Cico, bir gün okuldan erken döndü eve.

S

Hemen çantasını bırakıp Kuzucuk'un yanına koştu.

M

Bu kez hiç kıpırdamadı.

Müjdat GEZEN  
(Kuzucuk)

Açıklama ve verilenlere göre harflerin sıralanışı nasıl olmalıdır?

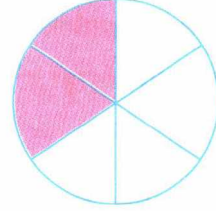
- A) S L M G  
B) G M L S  
C) L S G M

10. Yandaki çarkta birbiri ile zıt (karşıt) anlamlı olan sözcüklerin olduğu bölümler boyanacaktır.

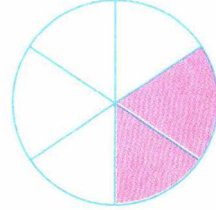


Buna göre çarkın boyalı görünümü aşağıdakilerin hangisi gibi olur?

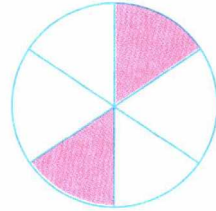
A)



B)




C)



11.

★ Nisan ayında doğmuşum.  
 ■ Bu nedenle "Nisan" adını vermişler bana. ▲ Sınıfta Nisan adında tek çocuk benim. Ne mutlu bana...



"Nisan" sözcüğü hangi sembollerle gösterilen cümlelerde özel ad olarak kullanılmıştır?

- A) ★ ve ■ B) ■ ve ▲  
 C) ▲ ve ★

12.


Sağlıklı yaşamak için spor yapmak gerekir. Spor yapan kişi, kendini mutlu hisseder. Hastalıklardan da daha kolay kurtulur.



Paragrafta aşağıdakilerin hangisinden söz edilmektedir?

- A) Spor yapmanın önemi  
 B) Sağlıklı beslenme  
 C) Çevre kirliliği

13. Aşağıdaki görselde çocukların yüz ifadelerine göre konuşma cümleleri yazılacaktır.



Buna göre aşağıdakilerden hangisi noktalı yerlere yazılamaz?

- A) Aaa! Uçurtmaya bak.  
 B) Benim de böyle bir uçurtmam olmasını isterdim.  
 C) Uçurtma uçurmak çok tehlikelidir.

14.

•Beyaz  
 •Ak

1

•Yoksul  
 •Fakir

2

•Ay  
 •Yıl


3

Anlam yönünden diğerlerinden **farklı** olan sözcükler kaç numaralı kartta verilmiştir?

- A) 3 B) 2 C) 1

TÜRKÇE TESTİ BİTTİ.  
 MATEMATİK TESTİNE GEÇİNİZ.

1. 15'ten başlayıp üçer üçer 5 kez sayıyorum.



12'den başlayıp dörder dörder 5 kez sayıyorum.

Volkan ile Pinar yaptıkları sayımlarda hangi sayıyı ortak söylemişlerdir?

- A) 24 B) 27 C) 30

2.



16, 48'den büyüktür.



65, 78'den küçüktür.



50, 49'dan küçüktür.

Yukarıdaki ifadelerin hangi sembolle gösterileni doğrudur?

- A) ★ B) ▲ C) ■

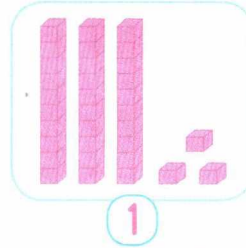
3.



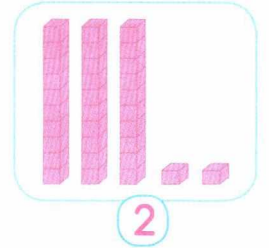
Yukarıdaki ritmik saymada eksik bırakılan sayılar sırasıyla hangisinde doğru verilmiştir?

- A) 24 - 20 - 14  
B) 24 - 18 - 16  
C) 24 - 20 - 16


4. Aşağıda bazı sayılar onluk taban bloklarıyla modellenmiştir.



1



2



3

Onluk taban bloklarıyla modellenen sayılar hangisinde **büyükten küçüğe** doğru sıralanmıştır?

- A) 3-1-2 B) 1-2-3  
C) 3-2-1

5. 4 kişilik bir koşu yarışını Erman kazanmıştır. Yarışı en sonda Melih tamamlamıştır. Kerem, Erman'dan sonra, Tunç ise Melih'ten önce yarışı tamamlamıştır.

**Buna göre 4 öğrencinin yarışta aldıkları dereceler hangisinde doğru verilmiştir?**

A)

Erman	Kerem	Tunç	Melih
1.	2.	3.	4.

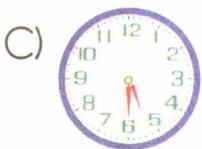
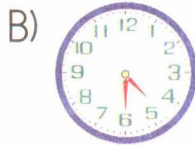

B)

Erman	Melih	Kerem	Tunç
1.	2.	3.	4.

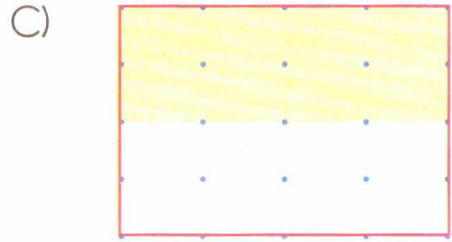
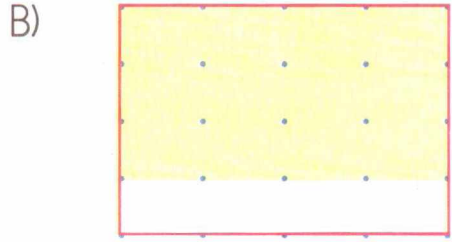
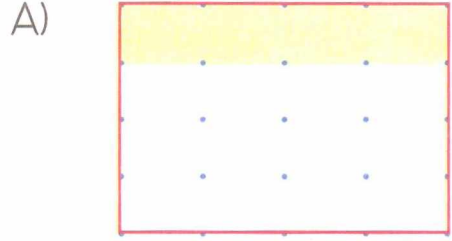
C)

Erman	Melih	Kerem	Tunç
1.	2.	3.	4.

6. Aşağıdaki saatlerden hangisi dört buçuğu göstermektedir?



7. Noktalı kâğıtta verilen şekillerden hangisinin çeyreği boyanmıştır?



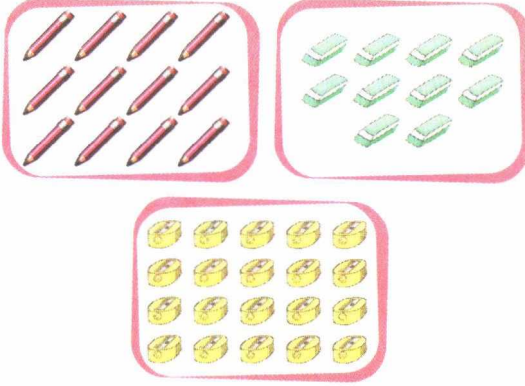
8. Her gün düzenli olarak yarım saat spor yapıyorum.



**Sevgi, altı günde toplam kaç saat koşmuş olur?**

- A) 4      B) 3      C) 2

9.



Görsellerdeki gruplarda bulunan varlıkların sayısı hangi tabloda doğru verilmiştir?

- A) 

	1 düzine
	1 deste
	2 deste

 B) 

	1 düzine
	1 düzine
	2 deste
- C) 

	1 deste
	1 deste
	2 deste

10.

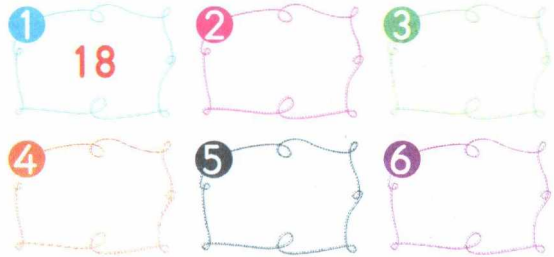


Ersin, 7.30'da uyanıyor.

Bir saat sonra okula gittiğinde saat kaç gösterir?

- A) B) C)

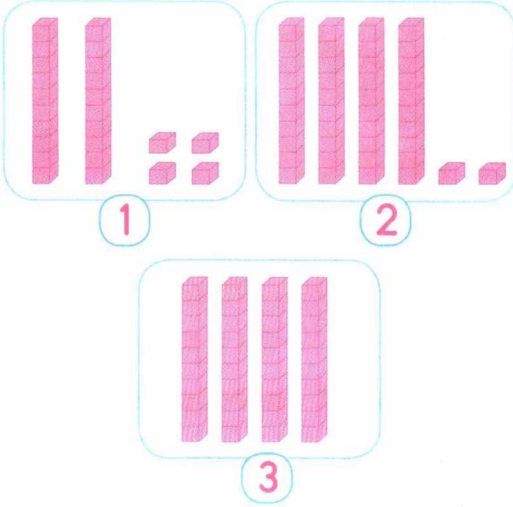
11. Ceren, 18'den başlayıp ileriye doğru ikişer ikişer sayıyor. Söylediği sayıları da aşağıdaki kartlara yazmayı düşünüyor.



Buna göre Ceren, 26 sayısını kaç numaralı karta yazmalıdır?

- A) 4 B) 5 C) 6

12.



Yukarıda modellenen sayıların onlar basamaklarında bulunan rakamların basamak değerleri hangisinde doğru verilmiştir?

123

A) 20

20

40

B) 20

40

4

C) 20

40

40

13.



Yukarıdaki sayı çiftlerinden büyük olanlar hangileridir?

A) 63 - 47 - 92

B) 63 - 58 - 92

C) 63 - 58 - 89

14. Aşağıdaki görselde koşucuların yarıştaki durumları verilmiştir.



Koşucuların durumlarına göre 2 ve 4. yarışmacıların forma renkleri hangi renklerde dir?

3.4.

A) Beyaz

Kırmızı

B) Mavi

Kırmızı

C) Mavi


Sarı

MATEMATİK TESTİ BİTTİ.  
HAYAT BİLGİSİ TESTİNE GEÇİNİZ.

## MATEMATİK TESTİ

MEB DERS KİTAPLARI KONULARINI İŞLEYENLER CEVAPLAYACAKTIR.

1. 15'ten başlayıp üçer  
üçer 5 kez sayıyorum.



12'den başlayıp dörder dörder  
5 kez sayıyorum.

Volkan ile Pınar yaptıkları say-  
malarda hangi sayıyı ortak söy-  
lemişlerdir?

- A) 24      B) 27      C) 30

2. Umut, aşağıdaki şekillerle bir örün-  
tü oluşturmuştur.



Yukarıdaki örüntüye benzer iliş-  
ki hangisinde vardır?

- A) B B B B B B B B  
B) B B B B B B B B  
C) B B B B B B B B

3.






Yukarıdaki ritmik saymada eksik  
bırakılan sayılar sırasıyla hangi-  
sinde doğru verilmiştir?

- A) 24 - 20 - 14  
B) 24 - 18 - 16  
C) 24 - 20 - 16

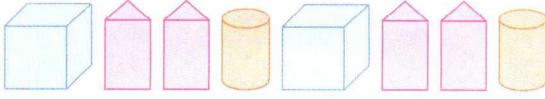
4.



Yukarıda verilen geometrik  
cismin yüzlerinden biri aşağı-  
dakilerin hangisi olabilir?




- A)  B)   
C) 

5. İrem, geometrik cisimlerle aşağıdaki örüntüyü oluşturuyor.






İrem'in oluşturduğu örüntüde kullanılan geometrik cisimlerin sayıları hangi tabloda doğru verilmiştir?




A)

	2
	4
	2

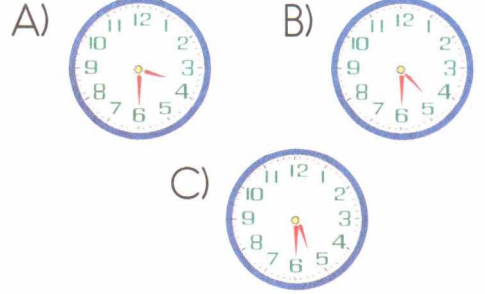
B)

	2
	2
	4

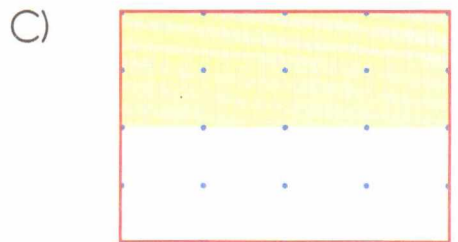
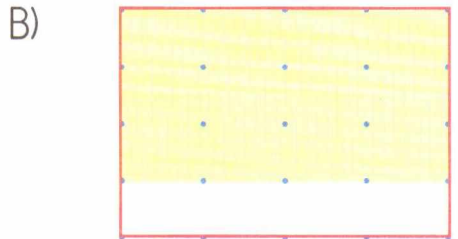
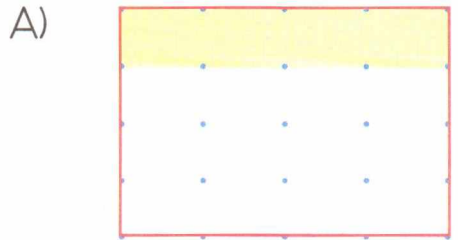
C)

	2
	4
	4

6. Aşağıdaki saatlerden hangisi dört buçuğu göstermektedir?



7. Noktalı kâğıtta verilen şekillerden hangisinin çeyreği boyanmıştır?

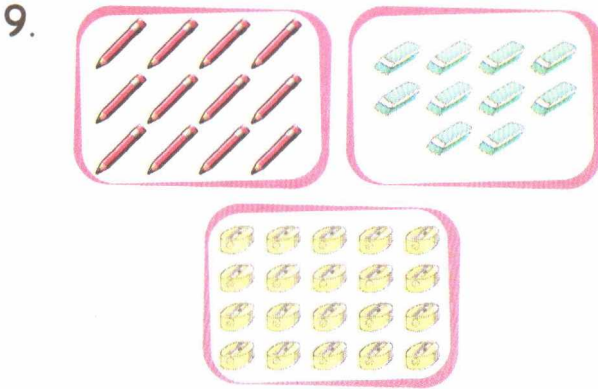


8. Her gün düzenli olarak yarım saat spor yapıyorum.



Sevgi, altı günde toplam kaç saat koşmuş olur?

- A) 4 B) 3 C) 2



Görsellerdeki gruplarda bulunan varlıkların sayısı hangi tabloda doğru verilmiştir?

- A) 


	1 düzine
	1 deste
	2 deste

 B) 

	1 düzine
	1 düzine
	2 deste
- C) 

	1 deste
	1 deste
	2 deste

- 10.

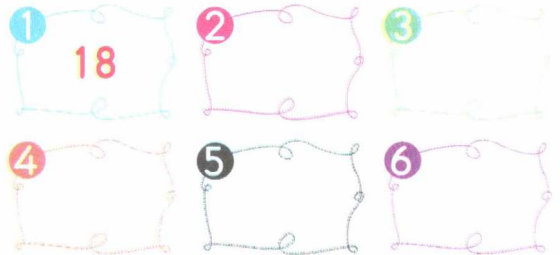


Ersin, 7.30'da uyanıyor.

Bir saat sonra okula gittiğinde saat kaç gösterir?

- A) B) C)

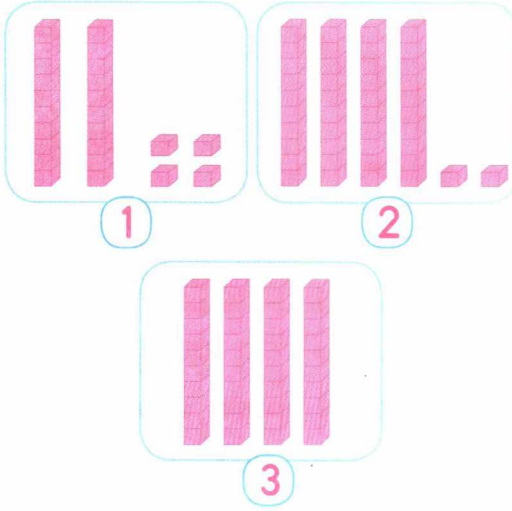
11. Ceren, 18'den başlayıp ileriye doğru ikişer ikişer sayıyor. Söylediği sayıları da aşağıdaki kartlara yazmayı düşünüyor.



Buna göre Ceren, 26 sayısını kaç numaralı karta yazmalıdır?

- A) 4 B) 5 C) 6

12.



Yukarıda modellenen sayıların onlar basamaklarında bulunan rakamların basamak değerleri hangisinde doğru verilmiştir?

<u>1</u>	<u>2</u>	<u>3</u>
A) 20	20	40
B) 20	40	4
C) 20	40	40

13. 

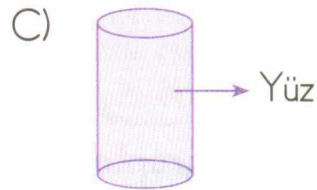
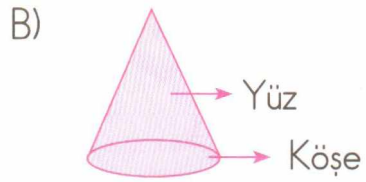
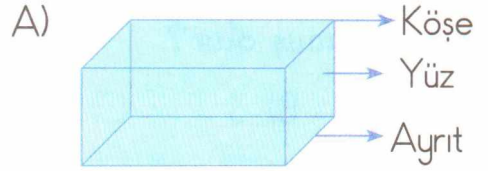
Yukarıdaki şekil örüntüsü hangisiyle sürdürülmelidir?

- A)  B)  C) 

14. 1. Küp ve prizmalarda yüz, köşe ve ayrıt vardır.

2. Koni, küre ve silindirde ise sadece yüz vardır.

Verilen bilgilere göre şekillerin hangisindeki adlandırmalarda yanlışlık yapılmıştır?



MATEMATİK TESTİ BİTTİ.  
HAYAT BİLGİSİ TESTİNE GEÇİNİZ.

BU BÖLÜMDE CEVAPLAYACAĞINIZ SORU SAYISI "12" DİR.

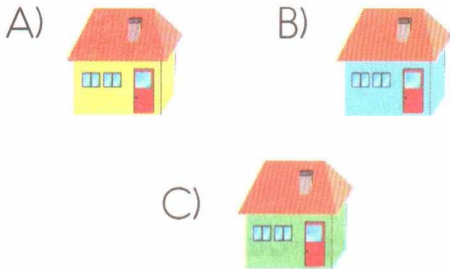
Cevaplarınızı, cevap kâğıdındaki "hayat bilgisi" bölümüne işaretleyiniz.



1 ve 2. soruları şemaya göre yanıtlayınız

1. Mehmet'in evinin arkasında park, karşısında market, solunda ise okul vardır.

Görsel ve verilen bilgilere göre Mehmet'in evi aşağıdakilerin hangisidir?



2. Size göre parkın sağında aşağıdakilerden hangisi vardır?

- A) Eczane  
B) Sarı ev  
C) Yeşil ev

3. Aşağıdakilerden hangisi solunum yapmamızı sağlayan organlarımızdandır?

A)



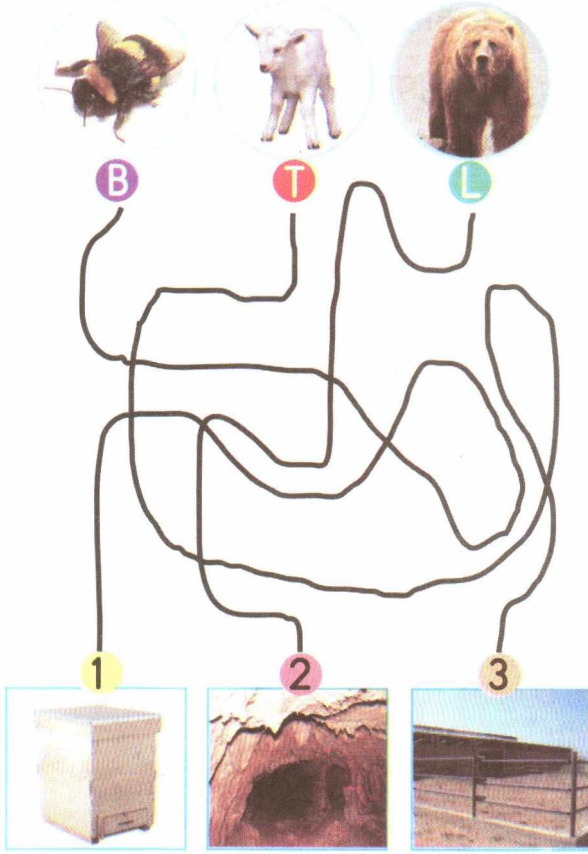
B)



C)



4. Aşağıda görselleri verilen canlılar yuvalarıyla eşleştirilecektir.



Eşleştirme sonucunda harflerin sıralanışı aşağıdakilerin hangisindeki gibi olur?

- A) 1 B 2 L 3 T  
B) 1 L 2 B 3 T  
C) 1 T 2 L 3 B

Aşağıda Can'ın evinin bölümleri gösterilmiştir.

Can, Güneş'in doğduğu yönü eliyle işaret ediyor.



5 ve 6. soruları açıklama ve görsele göre yanıtlayınız.

5. Aşağıda belirtilen bölümlerin hangisi için "Evin **doğu** kısmındadır." diyebiliriz?

- A) Banyo  
B) Salon  
C) Mutfak

6. Can, aşağıda verilen evin bölümlerinin hangisinden Güneş'in batışını en iyi izleyebilir?

- A) Çalışma odasından  
B) Mutfaktan  
C) Oturma odasından

7.



Ela, hasta olduğu için okula gide-memişti. Ödevini öğrenmek için arkadaşını ev telefonundan aradı. Telefonu arkadaşının annesi açtı.

**Ela'nın, öncelikli olarak aşağı-da verilenlerin hangisini yap-ması beklenir?**

- A) Niçin hasta olduğunu anlatmalıdır.
- B) Kendini tanıtmalıdır.
- C) Telefonu kapatıp daha sonra tekrar aramalıdır.

8.

Sıla, teneffüste oynarken yere düştü. Burnu kanamaya başladı.

**Bu durumda Sıla'nın yanında olan Çağla, öncelikli olarak hangisini yapmalıdır?**

- A) Nöbetçi öğretmenden yardım is-temelidir.
- B) Okul müdüründen yardım iste-melidir.
- C) Ezca dolabından ilaç alarak Sıla'ya vermelidir.

9.

Elif, araştırma yapmak için kütüphaneye gitti. Aradığı kitabı görevliden aldı.

**Elif'in, konuyu araştırmak için ilk olarak hangisini yapması beklenir?**

- A) Kitabın içindekiler bölümüne bak-ması
- B) Kitabın tamamını defterine yaz-ması
- C) Kitabın sadece resimlerini ince-lemesi

10.

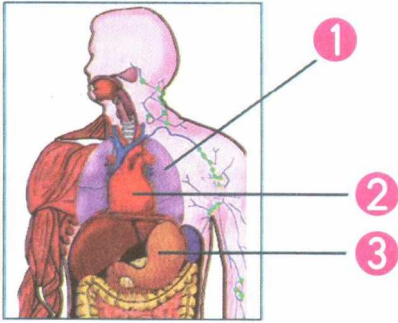
Evimiz üç katlı. Mahallemiz-deki diğer evler bahçeli, ama bizim bahçemiz yok. Bahçemiz olsaydı arkadaşlarımla oyunlar oynardım. Yine de evimi çok seviyorum.



**Ali'nin evinin ayırt edici özel-liği hangisidir?**

- A) Bahçeli oluşu
- B) Bahçesinin olmayışı
- C) Evin üç katlı oluşu

11.



Yukarıdaki modelde 2 ile gösterilen organımızın görevi hangisidir?

- A) Ağızdan alınan besinlerin sindirilmesini sağlamak
- B) Akciğerlerden gelen temiz kanı vücuda pompalamak
- C) Soluk alıp vermeyi sağlamak

12. Ahmet, gerektiğinde aile büyüklerine ulaşılabilmesi için bir kart hazırlayacaktır.

- 1 Telefon bilgileri
- 2 Ev adresi
- 3 Evin oda sayısı
- 4 Evinin hangi yönde olduğu

Ahmet'in, hazırlayacağı karta hangi bilgileri yazmasına gerek yoktur?

- A) 1 ve 2
- B) 2 ve 3
- C) 3 ve 4

TEST BİTTİ.

CEVAPLARINIZI KONTROL EDİNİZ.