

8.
SINIF



T.C.
MİLLÎ EĞİTİM BAKANLIĞI

B
KİTAPÇIK TÜRÜ

SEVİYE BELİRLEME SINAVI
9 HAZİRAN 2012 Saat: 10.00

Adı ve Soyadı:

| TEST ADI | SORU SAYISI | TOPLAM SORU SAYISI | SINAV SÜRESİ (DAKİKA) |
|--|-------------|--------------------|-----------------------|
| TÜRKÇE | 23 | 100 | 120 |
| MATEMATİK | 20 | | |
| FEN ve TEKNOLOJİ | 20 | | |
| SOSYAL BİLGİLER | 20 | | |
| İNGİLİZCE, ALMANCA, FRANSIZCA, İTALYANCA | 17 | | |

ADAYLARIN DİKKATİNE!

1. Sınav başladıktan sonra ilk **30** dakika dolmadan dışarı çıkmayınız.
2. Sınav sırasında sözlük, hesap makinesi, saat fonksiyonu dışında özellikleri bulunan saat veya çağrı cihazı, cep telefonu, telsiz, radyo ve bilgisayar özelliği bulunan elektronik cihazları yanınızda bulundurmayınız. Bu araçları kullanmanız veya kopya çekmeye teşebbüs etmeniz hâlinde sınavınız geçersiz sayılacaktır.
3. Soruları ve sorulara verdiğiniz cevapları, yanınızda götürmek amacıyla kaydetmeyiniz; hiçbir şekilde dışarı çıkarmayınız.
4. Sınavın değerlendirilmesi aşamasında, bilgisayar ortamında yapılan kopya analizinde, herhangi bir testten ikili veya toplu kopya tespiti hâlinde ilgili testiniz geçersiz sayılacaktır.
5. Kopya çekmeniz, başka adayın sınav evrakını kullanmanız ve geçerli kimlik belgenizi ibraz edemediğiniz durumlarda sınavınız geçersiz sayılacaktır.

CEVAP KÂĞIDI VE SORU KİTAPÇIĞI İLE İLGİLİ AÇIKLAMALAR

1. Cevap kâğıdınızdaki bilgilerin doğruluğunu kontrol ediniz ve cevap kâğıdınızı imzalayınız.
2. Cevap kâğıdındaki bilgiler size ait değilse veya cevap kâğıdı kullanılmayacak durumdaysa salon görevlilerinin temin edeceği yedek cevap kâğıdına kimliğinizle ilgili bilgileri açıklamalar doğrultusunda yazınız ve kodlayınız.
3. Cevap kâğıdı üzerindeki kodlamaları kurşun kalemle yapınız.
4. Değiştirmek istediğiniz bir cevabı, yumuşak silgiyle cevap kâğıdını örselemeden temizce siliniz ve yeni cevabınızı kodlayınız.
5. Kitapçık türünü cevap kâğıdınızdaki ilgili alana kodlayınız. Bu kodlamayı yapmadığınız veya yanlış yaptığınız takdirde sınavınızın değerlendirilmesi doğru yapılamayacaktır.
6. Cevap kâğıdında **Türkçe, Matematik, Fen ve Teknoloji, Sosyal Bilgiler ve Yabancı Dil** testleri için beş ayrı sütun bulunmaktadır. Cevaplarınızı, cevap kâğıdındaki ilgili sütunlara yuvarlağın dışına taşırmadan kodlayınız.
7. **Soru kitapçığı üzerinde yapılan cevaplandırmalar dikkate alınmayacaktır.**
8. Yabancı dillere ait testlerin cevap anahtarları birbirinden farklıdır. Sorumlu olduğunuz yabancı dil testine ait soruları cevaplayınız.
9. Soru kitapçığının sayfalarını kontrol ediniz, baskı hatası var ise değiştirilmesini sağlayınız.
10. Soruların çözümü için size ayrıca boş kâğıt verilmeyecektir. Soru kitapçığının içindeki boş alanları çözümlerinizi için kullanabilirsiniz.
11. Cevaplamaya istediğiniz testin sorusundan başlayabilirsiniz. Cevabını bilmediğiniz sorular üzerinde fazla zaman kaybetmeden diğer sorulara geçiniz. Zamanınız kalırsa bu sorulara daha sonra dönebilirsiniz.
12. Puanlama; her test için yanlış cevap sayısının **üçte biri, doğru cevap sayısından çıkarılarak** elde edilecek geçerli cevaplar üzerinden yapılacağı için cevap kâğıdı üzerinde rastgele cevaplama yapmayınız.
13. **Sınav bitiminde, soru kitapçığı ve cevap kâğıdını salon görevlilerine teslim ediniz. Sınavın bitiminden bir saat sonra kitapçığınızı okul yetkililerinden alabilirsiniz.**

BAŞLAYINIZ DENİLMEDEN SORU KİTAPÇIĞINIZI AÇMAYINIZ.

1. Karagöz : Geçenlerde bir beslenme uzmanına gittim.
 Hacivat : Eee, ne dedi?
 Karagöz : Ekmeği kesmen lazım, dedi.
 Hacivat : Sen ne yaptın peki?
 Karagöz : Ekmeği keserek yemeye başladım tabii ki. Fakat tam üç ay oldu bir gram bile zayıflayamadım. Bir tuhaflık var ama, dur bakalım!
 Hacivat : İlahi Karagöz'üm, gel sana şuradan bir ekmek daha alalım!

Bu diyalogda “kesmek” sözcükleri hangi anlamlarda kullanılmıştır?

- A) Kararlaştırmak – Bölerek ayırmak
 B) Yoksun bırakmak – Parçalara ayırmak
 C) Geçiş önmek – Makaslamak
 D) Son vermek – Dibinden ayırmak

2. Evet, böyle çiniler çok güzeldir. (1)Bu narçiçeği kırmızıları, bu kar beyazları, bu çimen yeşilleri gerçekten bulunmaz şeylerdir. (2)Ne olurdu ayrı ayrı panolar hâlinde yapılmasalardı da bir duvar, bir tek desenin devamı olsaydı. (3)Çünkü bir panodan öbürüne geçerken bırakılan boşluklar gözü yoruyor. (4)Sonra birinin kırdığı ritmi öbürü ele alamıyor, onun için başka başka kumaşlardan dikilmiş bir elbise izlenimi uyandırıyor.

Bu parçada yazarın çiniler hakkındaki düşüncesi, numaralandırılmış cümlelerin hangisinde değişmeye başlamıştır?

- A) 1 B) 2 C) 3 D) 4

3. “Biraz yün satmak istiyorum.” demişti çoban, tüccara. Tüccar, ikindiye kadar beklemesini söyledi. O da mağazanın önündeki kaldırıma oturup heybesinden bir kitap çıkardı.
 – Çobanlar kitap okumaz ki, dedi tüccar.
 – Kitaplar, koyunlardan daha öğreticidir, diye yanıtladı genç çoban.

Bu metindeki altı çizili cümlede, aşağıdaki anlam özelliklerinden hangisi vardır?

- A) Önsezi B) Öz eleştiri
 C) Ön yargı D) Öngörü

4. İnsanın kendisini dünyanın henüz ilk gününde hissetmesine neden olabilecek ürpertici bir sessizlik vardı ve kar bir ağacın yarı aydınlık gölgesinde ince ince yağıyordu.

Bu parçada bir söz sanatı kullanılmıştır. Bu sanatın göstergesi aşağıdakilerden hangisidir?

- A) “Kar”a insan özellikleri yüklenmesi
 B) “Sessizlik”in anlatımında aşırılığa gidilmesi
 C) “Ağacın gölgesi”nin “kar”a benzetilmesi
 D) Yazarın “sessizlik” ve “kar” üzerine konuşması

5. Oyun ve oyuncaklarla başım o kadar hoş değildi. Oynamam için babamın beni zorladığını hâlâ hatırlarım. Fakat kitaplarla vakit geçirmek için teşvik edilmeye ihtiyacım yoktu. Babam da kitaplarına zarar vermediğimi anlayınca onları bana emanet edebilmişti.

Bu parçanın türü aşağıdakilerden hangisidir?

- A) Makale B) Tiyatro
 C) Biyografi D) Anı

6. İnsan tarafından fark edilmediği sürece, doğanın bütün unsurları anlamdan yoksundur. Gül, ancak bir bakış onu izleyerek içine çektiğinde gerçek bir gül olabilir. Akşam kıızıllığı, ancak bir insan gözünün retinasında yansıdığı zaman harikadır.

Bu metnin ana düşüncesine en yakın dize-ler, aşağıdakilerden hangisidir?

- A) Güzelliğin on par'etmez (para etmez)
Bu bendeki aşk olmasa.
Âşık Veysel
- B) Yedi iklim dört köşeyi dolandım
Meğer dünya her tarafta bir imiş.
Dadaloğlu
- C) Taştın yine deli gönül
Sular gibi çağlar mısın?
Yunus Emre
- D) Sev seni seveni zay'etme (kaybetme) emek
Sevenin sözünden geçici olma.
Karacaoğlu

7. K: Aile hayatının bendeki en eski hatıralarından biri de gece okumalarıdır.
L: Sonra ablam, babamın işareti üzerine eline bir kitap alır, gaz lambasının yanına oturur, dün gece bıraktığı yerden okumaya başlardı.
M: Her akşam yemek bitince babam kahvesini içer, bizimle sohbet ederdi.
N: Geceleri aile arasında okunan romanlardan ve kahramanlık hikâyelerinden çok etkilendiğimi hatırlıyorum.
- "K, L, M, N" harfleriyle gösterilen cümleler, olayların oluş sırasına göre nasıl sıralanmalıdır?

- A) N, L, M, K
C) K, L, N, M
- B) K, N, M, L
D) N, K, L, M

8. Orası öyle, ama anılarım kâğıt üzerinde daha bir görkemli duruyor. Böylece etkisi daha da artacak, kişiliğim hakkında daha doğru bir yargıya varabileceğim; buna bir de üslup güzelliği eklenecek. Ayrıca, içimi dökmekle belki rahatlayacağım. Aklımdan çıkmayan anılardan, yazmakla kurtulacağım.

Yazar, bu metinle aşağıdaki soruların hangisine cevap vermiştir?

- A) Neden anılarınızı ille de yazmak istiyorsunuz; anılarınızı kâğıda dökmekten, zihninizden geçirmekle yetinemez miydiniz?
- B) Peki ama bütün bunları yazarak büyük bir okuyucu kitlesine hitap edebilecek kadar iddialı mısınız?
- C) Okurlarınızın olmayacağını öngördüğünüze göre niçin yazıyorsunuz?
- D) İnsan hiç değilse kendisiyle içli dışlı olabilir mi, gerçekleri kendisiyle çelişmeden yazabilir mi?

9. Orhan Veli'nin şiirleri, herkesin kullandığı deyimlerin -o kapalı kutuların- içinden kim-selerin ummadığı anlamlar çıkarma ustalığıdır. O, kuru söze öyle bir takla attırır ki, dizelerinin içinden ılgıt ılgıt bahar rüzgârı esiyor; deniz kokusu, martı sesleri geliyor sanırsınız.

Bu parçadaki altı çizili sözle Orhan Veli şiirlerinin hangi özelliği daha çok vurgulanmıştır?

- A) Sadeliği
C) Özgünlüğü
- B) Tutarlılığı
D) Akıcılığı

10. Ben bundan sonra yalnız müzikten bir şeyler ümit edebilirim. Hayatımı onun etrafında oluşturmaktan başka hiçbir çarem yoktur. Bunu on yıldır düşünüyorum. Gecikmesi hiçbir şey ifade etmez. Ben ancak müzik ile şiir dünyamı kurabilir, yani kendime bir iç dünya hazırlayabilirim!

Bu paragrafa göre, yazarın altı çizili düşünceye varmasının asıl sebebi aşağıdakilerden hangisidir?

- A) Müzik üzerine eğitim almış olması
- B) Sanatın çeşitli dallarıyla ilgilenmesi
- C) Artık zaman kaybetmekten kaçınması
- D) Şiirini müzik aracılığıyla oluşturabileceğine inanması

11. Kerime onu görünce çok mutlu oldu, iyi arkadaş olacaklarını düşünerek elini uzun uzun sıktı. Vildan bu el sıkışa karşılık vermemekle birlikte elini de çekmedi. Evet, eli bu sıkışa cevap vermemişti ama, biraz mahzun olmakla beraber sessiz gülümsemesiyle de sevinçli görünmeye çalışmıştı.

Bu parçadaki olayla ilgili olarak aşağıdakilerden hangisi söylenemez?

- A) Vildan, Kerime'yi kırmaktan kaçınmıştır.
- B) Kerime, bu tanışmaya oldukça sevinmiştir.
- C) Kerime'yle tanışmayı Vildan istemiştir.
- D) İkisi de beden dilini kullanmıştır.

12. Şiir okuma, bir tür besteleme ve besteyi yorumlama işidir. Bir şarkı nasıl farklı tarzlarda söylenebilirse şiirin seslendirilmesi de yorumcudan yorumcuya değişir. Şiir okumak, eğitime dayalı bir beceri işidir. Bu yüzden her şair, şiiri güzel okuyamaz. Şiir yorumcusu vurgu, telaffuz, duraklama gibi ses eğitimi gerektiren temel bilgi ve becerilere sahip olmalıdır.

Bu parçada aşağıdakilerin hangisine değinilmemiştir?

- A) Şiir okumanın bir eğitim gerektirdiğine
- B) Bir şiirin farklı şekillerde yorumlanabileceğine
- C) Bazı şairlerin şiirleri kötü okuyabileceğine
- D) Şiiri, başarılı bir şekilde yorumlayabilmek için hissetmek gerektiğine

13. Bir gün anlaşılır şiir;
Çoğu gitti, azı kaldı.
Ekmek gibi azizleşir;
Çoğu gitti, azı kaldı.

Necip Fazıl Kısakürek, bu dizelerinde “şiir”le ilgili olarak aşağıdakilerden hangisini vurgulamıştır?

- A) Çoğu insan tarafından önemli görüldüğünü
- B) İleride, gerçek değerini kazanacağını
- C) Kişiyi yüce duygulara ulaştırdığını
- D) Büyük bir çabayla yazıldığını

14. Nicedir bulutlar bu şehre uğramıyordu. Oysa işte, deniz önce açıklardan itibaren kabarıyor. Rüzgâr geliyor sonra. Fırtına çok geçmeden patlayacak. Bulutlar ufka yaklaşıyor. Ufuk görünmez oluyor. Muazzam bir sis kütlesi, denizin üstünden gelmeye başlıyor, göz göre göre...

Bu paragraf, konusu dikkate alındığında aşağıdakilerin hangisiyle tamamlanmalıdır?

- A) Güneş batmak için dağların arkasına koşuyor; kırmızısı, ufukları "gül"e boyuyor.
B) Dalgalar yorgunluktan artık kumsala gidip gelmiyor, denizi sülman bir hava bürüyor.
C) Şehrin yaşlıları havayı koklayarak "Nihayet geliyor." diyor. Hatta en tecrübesizler bile bunu anlıyor. Yağmur başlıyor.
D) Gemiler yalpalasalar da yolcu taşımaya devam ediyorlar. Fakat ne demiş yazar: "Hiçbir gemi, bizi bir kitap kadar uzaklara götürmez."

15. Bir araştırmaya göre 7-18 yaş arasındaki her 30 çocuktan sadece biri sol beynini yeterince kullanabiliyor. Diğer çocuklarsa sol beyinleri yeterince gelişmediği için derslerinde başarısızlık, dikkat eksikliği, kendini ifade edememe gibi olumsuzluklarla karşılaşabiliyor. Bunun başlıca nedeni genetik faktörün dışında sağlıksız beslenme. Fakat dikkat edilmesi gereken başka noktalar da var: çocukların kendilerini ifade etmelerine izin vermek, söz dağarcıklarını zenginleştirmek; onları gazete okumaya ve belgesel izlemeye özendirmek.

Bu metinde belirtilen "sorun"un en etkili çözümü aşağıdakilerden hangisidir?

- A) Çocukları, belgeseller gibi bilgilendirici programları izlemeye özendirmek
B) Çocukların günün belirli saatlerinde beslenmelerini sağlamak
C) Sağlıklı beslenmenin yanında çocukların çeşitli etkinlikler yapmalarını sağlamak
D) Söz dağarcıklarını zenginleştirmek amacıyla çocuklar için okuma saatleri düzenlemek

16. Farklı yazarlara ait olan A ve B metinleri, İstanbul'un fethedilmesini anlatmaktadır:

A [Büyük toplar hazır olunca Sultan Mehmet o topları çektiler İstanbul'a getirtti. Kurulan toplar her bir taraftan Hisar'ın burçlarını, bedenlerini dövmeye başladı.

B [O yılan vücutlu, ejder ağızlı toplar ki, her biri kaleleri yıkan, burçları deviren dev gibi toplarmış... Zaferleri elinde tutan askerler, kabarmış uçsuz bucaksız bir deniz gibi kalenin kara yönünü çevirmiş. Bu ejder başlı toplar, İstanbul'un duvar ve kapılarını, âşıkların inleyen gönülleri gibi parça parça etmiş.

Bu iki metne göre aşağıdaki sorulardan hangisi cevaplanabilir?

- A) Aynı olay değişik şekillerde anlatılabilir mi?
B) İnsanlar yaşadıkları olaylardan niçin etkilenir?
C) Tarihî olayları anlatmanın zorlukları nelerdir?
D) Güncel ile geçmiş olaylar arasında ilişki kurulabilir mi?

17. İskandinavya'ya geçmek üzere yine o temiz trenlerle Abo Limanı'na gittik. Kıyıda küçük bir vapur bizi bekliyordu, bindik; bütün yolcular da bindi. Küpeşteye dayanarak, ayrıldığımız toprağın acısıyla, etrafımızı seyredip duruyoruz. Vapur kalkacak, halat çekilecek. Üstü başı düzgün, temiz bir genç, cebinden bir çift eldiven çıkardı. Çabucak ellerine geçirdi, eğildi, vapurun halatını çözdü.

Bu metnin dil ve anlatımıyla ilgili olarak aşağıdakilerden hangisi söylenebilir?

- A) Ana fikir "tanık gösterme"yle desteklenmiştir.
B) Devrik cümlelerden yararlanılmıştır.
C) Deyimlerle zenginleştirilmiştir.
D) Olmuş veya olabilecek olaylar anlatılmıştır.

Aşağıda bir metnin giriş, gelişme ve sonuç bölümleri A, B ve C harfleriyle belirtilerek karışık olarak verilmiştir. 18, 19 ve 20. soruları bu paragraflara göre yanıtlayınız.

A Okayev'in filmlerinden sadece birini, "Kar Leoparının Soyu"nu seyredebildim. Sinema Televizyon Merkezi'nin o güzel salonunda, bir avuç sinema meraklısıyla birlikte yaşadığımız o görsel şöleni keşke anlatabilsem. Okayev, büyüklüğünü filmin her karesinde hissettiriyordu.

B Filmin etkisinden biraz olsun sıyrılma-ya başladığımda Okayev'in "Cemile"nin yazarı Cengiz Aytmatov kadar neden bilinmediğini düşündüm. Ünlü bir edebiyatçı, "Cemile" için "Dünyanın en güzel aşk hikâyesi." demeseydi yine de tanır mıydık Aytmatov'u? O zaman Okayev'den ve onun "Kar Leoparının Soyu" filminden neden hâlâ habersiziz?

C Halit Refiğ Bey, beni bir film gösterimine davet ediyordu. Heyecanlıydı. Adı pek duyulmamış olsa da bence, rahatlıkla Tarkovsky ve Akira Kurosawa gibi yönetmenlerle kıyaslanabilecek bir seviye gösteren Kırgız yönetmen Tölömüş Okayev'i, bütün dostlarına tanıtmak niyetindeydi.

18. Yazara göre, Kırgız yönetmen Tölömüş Okayev'den çoğu insanın habersiz olmasının nedeni aşağıdakilerden hangisidir?

- A) Ünlü bir edebiyatçı tarafından dikkat çekilmemiş olması
- B) Filmlerinde, kendi kültürel değerlerini işlemekle yetinmesi
- C) Cengiz Aytmatov'dan sonra sanata başlaması
- D) Birçok ülkede filmlerinin gösterilmiyor olması

19. Metnin "giriş, gelişme ve sonuç" sırası aşağıdakilerin hangisinde verilmiştir?

- A) B, C, A
- B) B, A, C
- C) C, A, B
- D) C, B, A

20. Bu metinde yazarın, Okayev hakkındaki görüşü aşağıdakilerden hangisidir?

- A) Çağın sorunlarına filmleriyle çözüm getirdiği
- B) Film yaparken eleştirilerden yararlandığı
- C) Filmlerinde insan ilişkilerini öne çıkardığı
- D) Başarılı bir sinema yönetmeni olduğu

21. Eserini tamamlamak için ne kadar çabaladığını şimdi herkes biliyordu.

Bu cümlede aşağıdaki öğelerden hangisi yoktur?

- A) Özne
- B) Zarf tamlayıcısı
- C) Belirtili nesne
- D) Yer tamlayıcısı


22. Aşağıdaki cümlelerin hangisinde, yüklem eksikliğinden kaynaklanan bir anlatım bozukluğu vardır?

- A) Elmanın yarısını ben, yarısını da Çiğdem yedi.
- B) Mobilyalarınız, ücretsiz evinize teslim edilir.
- C) Önümde oturan çocuk, annesine sessizce fısıldıyordu.
- D) Yiyemediği yemekler güç kaybetmesini sağladı.

23. Van Gogh'un, ünlü tablolarından biri olan "Moonrise"ı tam olarak ne zaman yaptığı ¹ bilinmiyordu. Bunu çözmek için iki gök bilimci, sanatçının resmi yaparken durduğu yeri saptayıp ayın konumuna dikkat ettiler. ² 1889 yılında hangi günlerde o noktada ³ görülmüş olduğunu hesapladılar. Bunun sonucunda tablonun 13 Temmuz 1889'da ⁴ saat 21.08'de yapılmış olduğunu belirlediler.
- Bu metindeki numaralandırılmış sözcüklerin hangisinde, büyük harflerin yazımıyla ilgili bir yanlışlık yapılmıştır?
- A) 1 B) 2 C) 3 D) 4

TÜRKÇE TESTİ BİTTİ.
MATEMATİK TESTİNE GEÇİNİZ.

1. Şekildeki beş katlı düğün pastasında her kattaki pastanın yarıçap uzunluğu, bir üstündekinin yarıçap uzunluğunun 2 katıdır.



En üstteki pastanın yarıçap uzunluğu 2^3 cm olduğuna göre, en alttaki pastanın yarıçap uzunluğu kaç santimetredir?

- A) 2^{10} B) 2^8 C) 2^7 D) 2^5

2. Aşağıdakilerden hangisi, $0,\overline{45}$ ile $0,\overline{452}$ devirli ondalık kesirleri arasında yer alır?

- A) 0,451 B) 0,453
C) 0,455 D) 0,457

3. $2\sqrt{10}$, $\sqrt{17}$, $3\sqrt{3}$ sayılarının küçükten büyüğe doğru sıralanışı, aşağıdakilerden hangisidir?

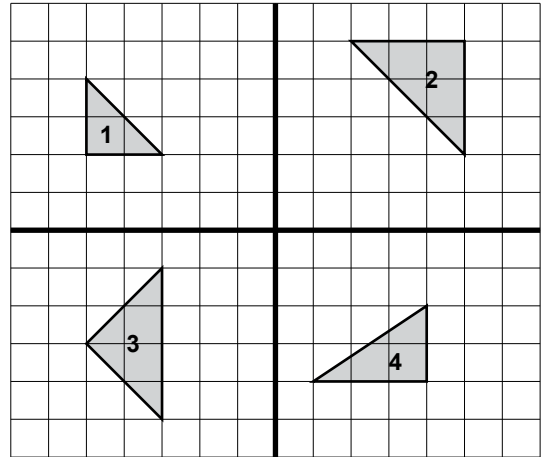
- A) $\sqrt{17} < 3\sqrt{3} < 2\sqrt{10}$
B) $3\sqrt{3} < \sqrt{17} < 2\sqrt{10}$
C) $\sqrt{17} < 2\sqrt{10} < 3\sqrt{3}$
D) $3\sqrt{3} < 2\sqrt{10} < \sqrt{17}$

4. Seda'nın matematik dersi dönem sonu puanı, ilk sınavda aldığı puanın iki katından 4 eksiktir. Dönem sonu puanı 50 ve üzeri olan öğrenci, o dersten başarılı olmaktadır.

Matematikten dönem sonunda başarılı olan Seda'nın ilk sınavdaki puanı en az kaçtır?

- A) 28 B) 27 C) 26 D) 25

5. Aşağıdaki şekilde dört farklı bahçede yer alan havuzların kuşbakışı çizimleri verilmiştir.



Bu havuzlardan hangisi diğer üç havuzla benzer değildir?

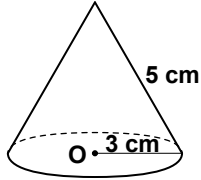
- A) 1 B) 2 C) 3 D) 4

6. Ahmet, kenarlarından ikisinin uzunluğu 17 m ve 10 m olan üçgen biçimindeki bahçesinin çevresini çit ile çevirmiştir.

Ahmet'in kullandığı çitin uzunluğu, metre olarak aşağıdakilerden hangisi olabilir?

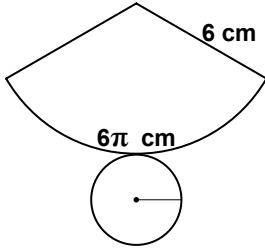
- A) 30 B) 34 C) 40 D) 54

7. Şekildeki O noktası, verilen dik dairesel koninin taban merkezidir.

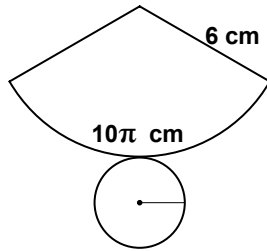


Şekil üzerindeki verilere göre bu koninin açınımı aşağıdakilerden hangisi olabilir?

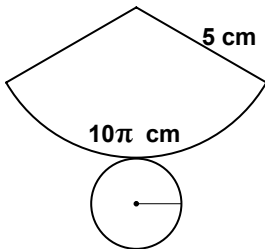
A)



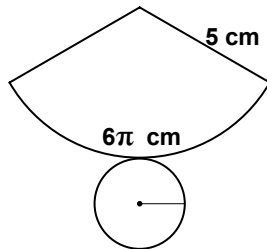
B)



C)



D)



8. Bir mimar bir kenarı 3a metre olan kare şeklindeki arsada, her birinin kenar uzunluğu 2b metre olan belli sayıda karesel bölge belirlemiştir. Arsada geri kalan bölgenin alanı $(3a - 4b)(3a + 4b)$ metrekare olduğuna göre, belirlenen karesel bölgelerin sayısı kaçtır?

- A) 8 B) 4 C) 3 D) 2

9. Türkiye genelinde bir yılda $8,1 \times 10^5$ adet çam ağacının kurtarılması hedeflenmektedir.



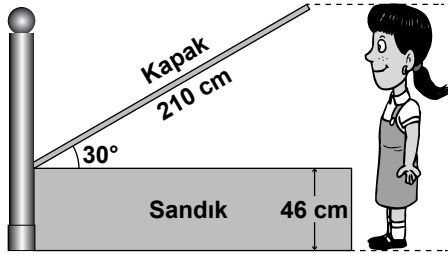
Yukarıdaki afişe göre, bu hedefe ulaşmak için bir yılda kaç ton kullanılmış kâğıt geri dönüşüme kazandırılmalıdır?

- A) $4,5 \times 10$ B) $4,5 \times 10^2$
C) $4,5 \times 10^3$ D) $4,5 \times 10^4$

10. Aşağıdakilerden hangisi yapıldığında, taban ayrıtının uzunluğu 8 cm, yüksekliği 12 cm olan kare dik prizma şeklindeki kutunun hacmi yarıya iner?

A) Bütün ayrıt uzunlukları ikiye santimetre azaltıldığında
 B) Taban ayrıt uzunlukları dörder santimetre azaltıldığında
 C) Bütün ayrıt uzunlukları yarıya indirildiğinde
 D) Yüksekliği 6 cm azaltıldığında

11. Ceren, açılıp kapanabilir bir sandıklı yatağın 210 cm uzunluğundaki kapağını aşağıdaki gibi açtığında, kapağın yerden yüksekliği Ceren'in boyuna eşit olmaktadır.



Sandığın yüksekliği 46 cm olduğuna göre, Ceren'in boyu kaç santimetredir? ($\sin 30 = 0,5$)

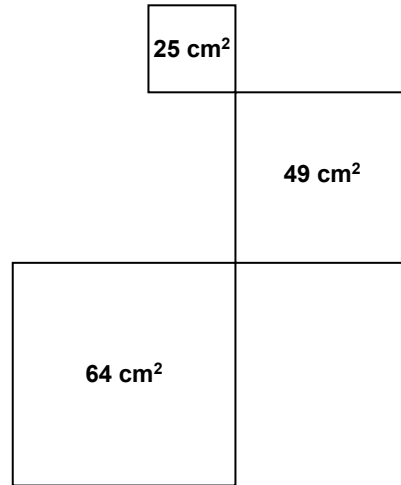
A) 156 B) 151 C) 128 D) 105

12. Bir yarışma programında, verilen her doğru cevaba + 3 puan, her yanlış cevaba - 2 puan verilmektedir.

Bu yarışmaya katılan Aysun, sorulan 5 sorunun tümünü cevaplamıştır. Yarışma sonunda 10 puan aldığına göre, Aysun kaç soruyu doğru cevaplamıştır?

A) 2 B) 3 C) 4 D) 5

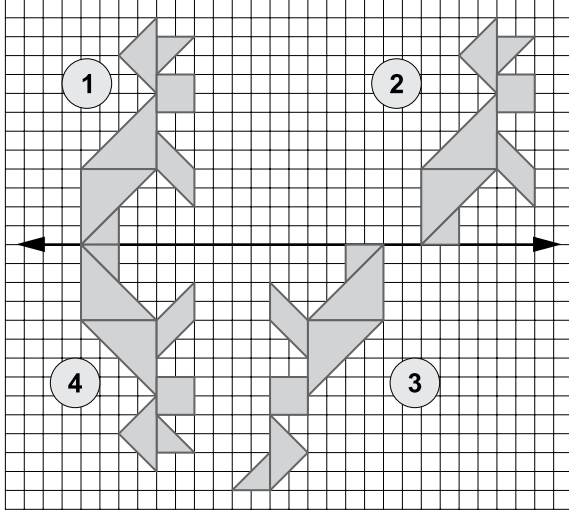
13. Bir tel, şekildeki gibi kıvrılarak üç tane kare oluşturuluyor.



Karelerin sınırladıkları bölgelerin alanları 25 cm^2 , 49 cm^2 ve 64 cm^2 olduğuna göre, bu tel ile oluşturulabilecek en büyük karenin sınırladığı bölgenin alanı kaç santimetreka-re olur?

A) 100 B) 138 C) 225 D) 400

14. Aşağıdaki numaralandırılmış tangram şekillerinden hangi ikisi, birbirinin ötelemeli yansımasıdır?



- A) 2 ve 4 B) 1 ve 4
C) 1 ve 2 D) 2 ve 3

15. Bir torbadaki özdeş topların 11'i kırmızı, 8'i beyaz, 9'u mavi ve 12'si siyahtır.

En az kaç top çıkarılırsa, torbada kalan topların renklerine göre çekilme olasılıkları eşit olur?

- A) 7 B) 8 C) 9 D) 10

16. Bir sınıftaki öğrencilerin günlük kitap okuma süreleri aşağıdaki tabloda verilmiştir.

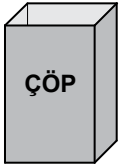
Tablo: Öğrencilerin Kitap Okuma Süreleri

| Kitap okuma süresi (dakika) | Öğrenci sayısı |
|-----------------------------|----------------|
| 20 - 24 | 2 |
| 25 - 29 | 6 |
| 30 - 34 | 5 |
| 35 - 39 | 3 |
| 40 - 44 | 8 |
| 45 - 49 | 1 |
| 50 - 54 | 3 |
| 55 - 59 | 12 |
| 60 - 64 | 6 |
| 65 - 69 | 2 |

Tabloya göre kaç kişi günde 1 saatten daha az süre kitap okumaktadır?

- A) 8 B) 12 C) 40 D) 46

17. Eser, kare dik prizma biçiminde ve ayrıtlarından birinin uzunluğu 30 cm olan yandaki teneke kutunun yan yüzlerini boyadıktan sonra bir yüzüne "çöp" yazısını yazıyor.



Boyanan yüzeyin alanı 1680 cm^2 olduğuna göre, bu çöp kutusunun diğer farklı ayrıtının uzunluğu kaç santimetredir?

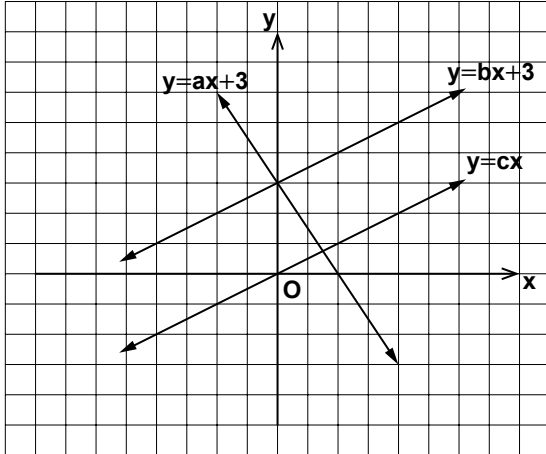
- A) 14 B) 21 C) 25 D) 28

18. Üç yol ağzında bulunan bir tavşan, bu yollardan rastgele birine yöneliyor. Bu üç yolun her biri, devamında iki dar yola ayrılıyor. Tavşan yol ayrımına geldiğinde iki dar yoldan birini rastgele seçerek yoluna devam ediyor.

Tavşanın, dar yollardan birinde bekleyen kaplumbağa ile karşılaşma olasılığı nedir?

- A) $\frac{1}{2}$ B) $\frac{1}{3}$ C) $\frac{1}{6}$ D) $\frac{1}{9}$

19.



Yukarıda denklemleri ile verilen doğruların grafiklerine göre, aşağıdakilerden hangisi doğrudur?

- A) $a < b$ ve $b = c$
 B) $b = c$ ve $c < a$
 C) $c < b < a$
 D) $a < b < c$

20. Biri silindir, diğeri küp şeklinde olan iki kap, tamamen su ile doludur. Silindir şeklindeki kabın taban çapının ve yüksekliğinin uzunlukları, küpün bir ayrıt uzunluğuna eşittir.

Buna göre, silindir şeklindeki kaptaki, küpte bulunan suyun kaçta kaç kadar su bulunmaktadır? (π yerine 3 alınız.)

- A) $\frac{3}{4}$ B) $\frac{2}{3}$ C) $\frac{1}{2}$ D) $\frac{1}{6}$

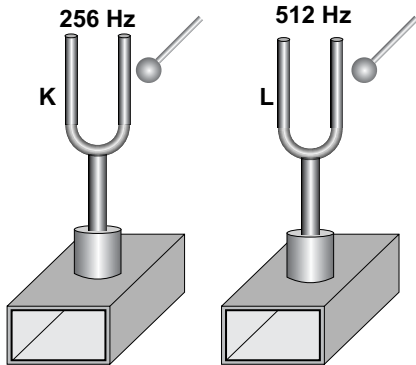
MATEMATİK TESTİ BİTTİ.
FEN VE TEKNOLOJİ TESTİNE GEÇİNİZ.

1. Seda'nın sorduğu bir soru üzerine öğretmeni, "Örneğin aynı anda meydana gelmelerine rağmen gök gürültüsü, şimşegin görülmesinden belli bir süre sonra duyulur." cevabını vermiştir.

Buna göre, Seda'nın öğretmenine sorduğu soru aşağıdakilerden hangisidir?

- A) Işığın ve sesin havadaki yayılma hızlarını karşılaştırabileceğimiz bir örnek verir misiniz?
 B) Sesin veya ışığın farklı ortamlardaki hızlarını karşılaştırabileceğimiz bir örnek verir misiniz?
 C) Sesin ve ışığın yayıldığı ortamın yoğunluğuna bağlı olarak hızlarının değiştiğini gösteren bir örnek verir misiniz?
 D) Işığın ve sesin yansıması ile ilgili bir örnek verir misiniz?

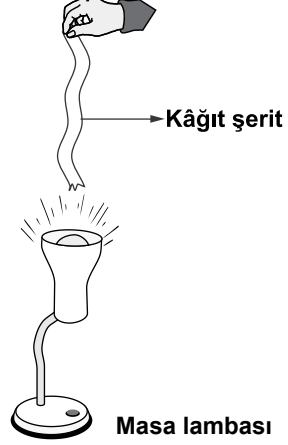
2. Frekansları üzerlerinde yazılı olan şekildeki K ve L diyapazonlarından K'ye hafifçe, L'ye ise daha şiddetli bir şekilde tokmakla vuruluyor.



Buna göre, K ve L diyapazonlarından çıkan seslerin ince-kalın ve şiddetli-zayıf olarak sınıflandırılması aşağıdakilerin hangisinde doğru olarak verilmiştir?

| | <u>İnce</u> | <u>Kalın</u> | <u>Şiddetli</u> | <u>Zayıf</u> |
|----|-------------|--------------|-----------------|--------------|
| A) | K | L | K | L |
| B) | L | K | L | K |
| C) | L | K | K | L |
| D) | K | L | L | K |

3. Hava olayları ile ilgili hipotezini test etmek isteyen Ali, bir masa lambasını şekildeki gibi zemine yerleştirdi. Daha sonra ince bir kâğıt şeridi, ışık veren lambanın tam üzerine getirip sabit olarak tuttu. Bu durumda şeridin hareket ederek dalgalandığını gördü.



Ali'nin yaptığı bu etkinlik ile doğruluğunu test ettiği hipotez, aşağıdakilerden hangisidir?

- A) Havanın sıcaklığı arttıkça daha fazla nem kaldırır.
 B) Hava olayları yeryüzü şekillerinin değişimine sebep olur.
 C) Hava, dört temel bileşeni yanında su buharı da içerir.
 D) Havadaki sıcaklık değişimi rüzgâr oluşumuna sebep olur.

4. Doğal süreçlere ait bazı kavramlar ve bu kavramların tanımları aşağıdaki gibidir:

- Artçı deprem
- Öncü deprem
- Şiddet
- Büyüklük

KAVRAMLAR

- Deprem binalar ve insanlar üzerinde meydana getirdiği hasarın derecesidir.

- Ana depremden önce meydana gelen ufak sarsıntılardır.

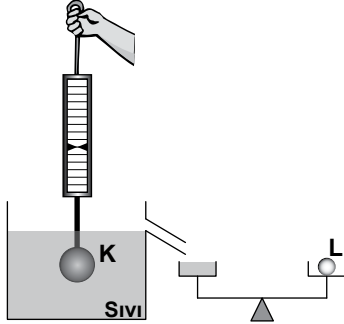
- Yer sarsıntısının sismograf adı verilen aletlerle ölçülmesiyle belirlenen değeridir.

TANIMLAR

Her bir kavram kendi tanımı ile eşleştirildiğinde hangi kavram dışarıda kalır?

- A) Artçı deprem B) Öncü deprem
C) Şiddet D) Büyüklük

5. Selin, şekildeki K cismini kaptaki sıvıya batırdığında dinamometrenin gösterdiği değer havadakine göre 10 N azaldığını fark etti. Bu sırada kaptan taşan sıvının da terazinin kefesini doldurarak 10 N ağırlığının da L cismini dengelediğini gördü.



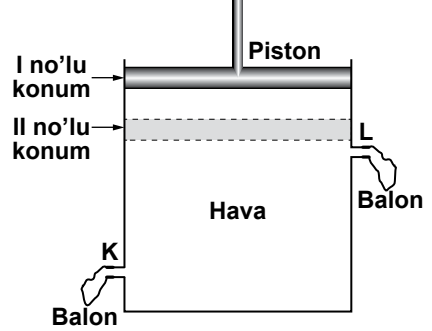
Buna göre Selin, kaldırma kuvveti ile ilgili;

- I- Cisimlerin daldırıldığı sıvının yoğunluğuna göre değişir.
II- Yönü yukarı doğrudur.
III- Cismin yer değiştirdiği sıvının ağırlığına eşittir.

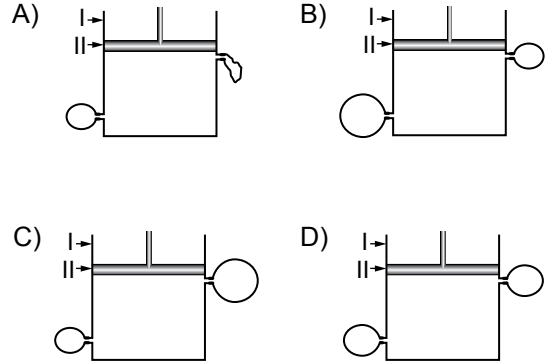
Çıkarımlarından hangilerine yalnızca yukarıda yaptığı deneyden yola çıkarak ulaşabilir?

- A) Yalnız I'e B) I ve II'ye
C) II ve III'e D) I, II ve III'e

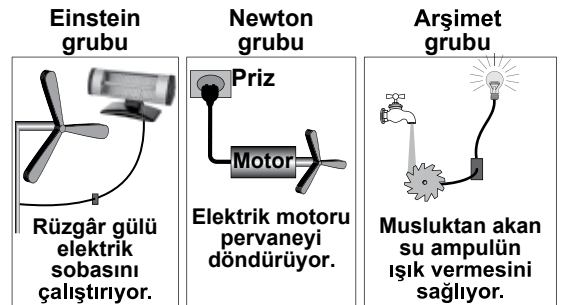
6. İçi hava dolu pistonlu küçük bir kabın K ve L çıkışlarına şekildeki gibi özdeş balonlar takılıyor. Daha sonra piston, aşağı bastırılarak, I no'lu konumdan II no'lu konuma getiriliyor.



Buna göre, balonların şişme durumları aşağıdakilerden hangisindeki gibi olabilir?



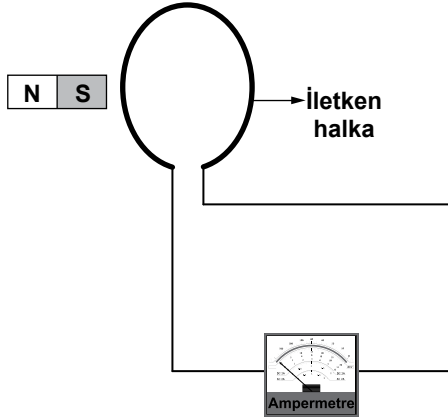
7. Bir grup öğrenci performans görevleri için aşağıdaki düzenekleri kurup çalıştırıyorlar.



Buna göre, hangi grupların kurduğu düzeneklerde elektrik enerjisi hareket enerjisine dönüşmüştür?

- A) Yalnız Einstein grubunun
B) Yalnız Newton grubunun
C) Einstein ve Arşimet grubunun
D) Newton ve Arşimet grubunun

8. Ayşe, elektrik akımı oluşturmak için şekildedeki iletken halkayı, iletken telle hassas ampermetreye bağlıyor.



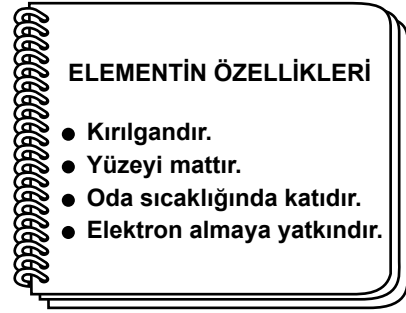
Sonra aşağıdaki durumları uygulayıp ampermetrenin ibresini gözlemliyor.

- I. durum : mıknatıs, halka içinde sabit tutuluyor.
 II. durum : mıknatıs, halka içinde ileri geri hareket ettiriliyor.
 III. durum : mıknatıs, halka içinde dururken, halka N ve S kutupları arasında ileri geri hareket ettiriliyor.

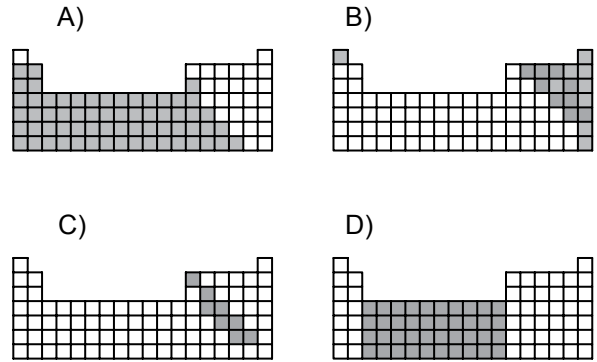
Buna göre, yukarıdaki durumların hangisinde ampermetreden akım geçer?

- A) Yalnız I'de
 B) I ve II'de
 C) II ve III'te
 D) I, II ve III'te

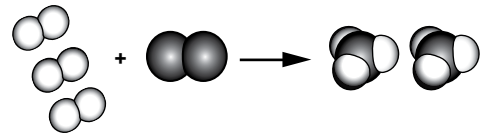
9.



Özellikleri verilen element, aşağıdaki hangi periyodik tabloda koyu renkle belirtilen bölgede yer alır?



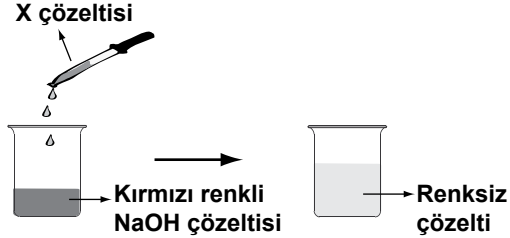
10. Bir değişime ait tanecik modeli şekildeki gibidir:



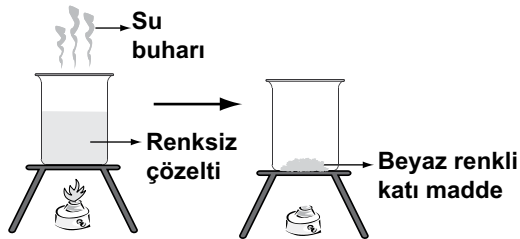
Modeli inceleyen bir öğrenci, bu değişim ile ilgili aşağıdakilerden hangisine ulaşamaz?

- A) Kütle korunmuştur.
 B) Yeni madde oluşmuştur.
 C) Yeni atomlar oluşmuştur.
 D) Atom sayısı korunmuştur.

11. Eren, bir miktar NaOH çözeltisine fenolftalein belirteci ekliyor ve çözeltinin rengi kırmızı oluyor. Daha sonra bu çözeltinin üzerine rengi kayboluncaya kadar damlalıklarla yavaş yavaş şekildeki gibi X çözeltisi ilave ediyor.



Eren, oluşan renksiz çözeltiyi ısıtarak buharlaştırdığında beyaz renkli katı madde elde ediyor.



Eren, bu deneydeki gözlemlerine göre aşağıdakilerden hangisini söyleyemez?

- A) X çözeltisi asidik özelliktedir.
- B) Elde edilen beyaz katı madde tuzdur.
- C) Nötralleşme tepkimesi gerçekleşmiştir.
- D) Oluşan renksiz çözelti asidik özelliktedir.

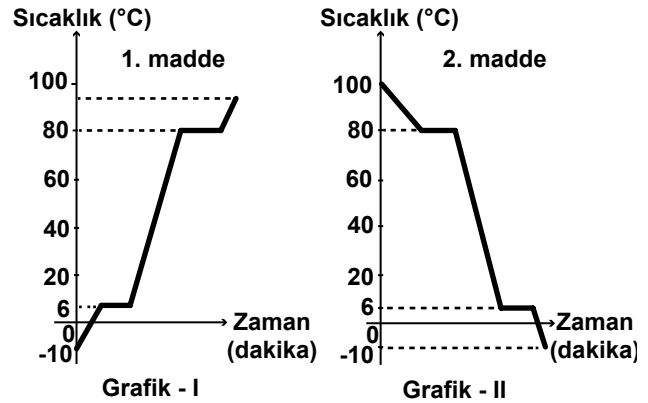
12. Çizelgede metal, ametal atomlar ve bu atomların yaptığı bazı bileşikler verilmiştir.

| Metal | Ametal | Bileşik |
|-------|--------|-------------------|
| K | H | KCl |
| Ca | O | CaO |
| | Cl | H ₂ O |
| | | CaCl ₂ |

Çizelgede verilen bilgilere göre hangi bileşikteki atomlar, elektronlarını ortaklaşa kullanarak kimyasal bağ oluşturmuştur?

- A) H₂O
- B) CaO
- C) KCl
- D) CaCl₂

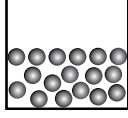
13. Aynı olup olmadıkları bilinmeyen iki saf maddeye ait sıcaklık - zaman grafikleri aşağıda verilmiştir:



Buna göre, grafiklerdeki maddelerle ilgili aşağıdakilerden hangisi söylenebilir?

- A) 1. ve 2. madde farklı maddelerdir.
- B) 0 °C'ta iki madde de aynı hâldedir.
- C) Başlangıç sıcaklıklarında maddeler aynı hâldedir.
- D) I. ve II. grafik, maddelerin ısınma eğrilerini gösterir.

14. Yanda bir maddenin fiziksel hâlini temsil eden tanecik modeli verilmiştir.



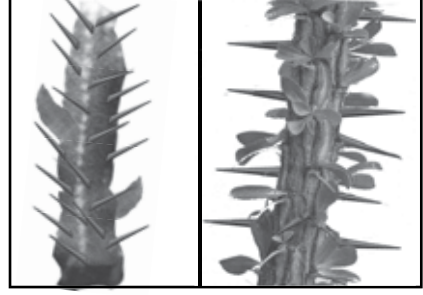
Bu maddeye yapılan işlem sonunda,

- Taneciklerinin kinetik enerjisinin azaldığı,
- Tanecikler arasındaki çekim kuvvetinin arttığı biliniyor.

Buna göre, maddeye yapılan işlem ve bu işlem sonunda maddenin fiziksel hâlini temsil eden tanecik modeli aşağıdakilerden hangisidir?

| <u>İşlem</u> | <u>Tanecik modeli</u> |
|--------------|-----------------------|
| A) Isıtma | |
| B) Isıtma | |
| C) Soğutma | |
| D) Soğutma | |

15. Mehmet, araştırdığı konuyla ilgili olarak kurak ortamda yaşayan şekildeki iki farklı bitki türünü örnek olarak göstermiştir.



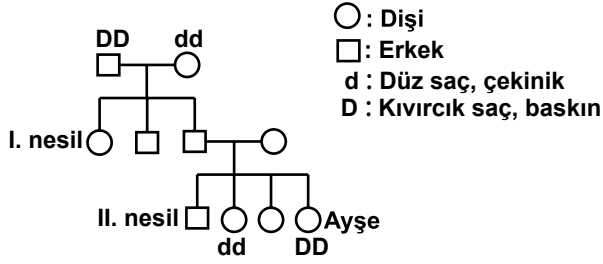
Kaktüs bitkisi

Sütleşen bitkisi

Mehmet'in araştırma konusu aşağıdakilerden hangisi olabilir?

- A) Benzer ortamlarda yaşayan farklı bitki türlerindeki benzer adaptasyonlar
- B) Benzer ortamlarda yaşayan aynı bitki türlerindeki benzer adaptasyonlar
- C) Farklı bitki türlerinin çaprazlama sonucu birbirine aktarılan genotip özellikleri
- D) Farklı ortamlarda yaşayan aynı bitki türlerinde birbirinin aynı olan genotip özellikler

16. Aşağıda verilen soy ağacı, Ayşe'nin ailesindeki bireylerin saç şeklinin kalıtımını göstermektedir.



Bu soy ağacına göre, aşağıdakilerden hangisinin doğru olduğu söylenebilir?

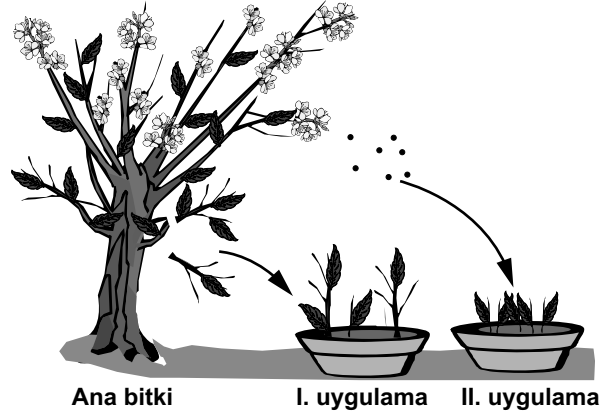
- A) I. nesildeki bireylerden biri, saç şekli bakımından saf döl (homozigot) olup düz saçlıdır.
B) Ayşe'nin annesi ve babası, saç şekli bakımından melez döl (heterozigot) olup kıvrıkcık saçlıdır.
C) Ayşe'nin babası kıvrıkcık saçlı, annesi düz saçlıdır.
D) II. nesilde düz saç sadece erkeklerde görülür.

17. Mitoz bölünme, canlılarda büyüme ve onarımı sağlar.

Buna göre, aşağıdakilerden hangisi mitoz bölünme sonucu gerçekleşen bir olay değildir?

- A) Bitki yapraklarının oluşup büyümesi
B) Döllenmiş yumurtadan embriyonun oluşması
C) Kertenkelenin kopan kuyruğunun yenilenmesi
D) İnsanda n kromozomlu yumurta hücresinin oluşması

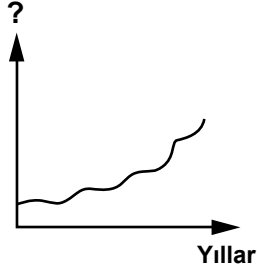
18. Bir bitkinin şekildeki gibi dalları toprağa dikilerek (I. uygulama), tohumları da toprağa ekilerek (II. uygulama) yeni bitkiler elde ediliyor.



Bu bitkilerin genetik yapısıyla ilgili olarak aşağıdakilerden hangisi söylenebilir?

- A) Her iki uygulamadan elde edilen yeni bitkilerin hepsinin genetik yapısı aynıdır.
B) Her iki uygulamadan elde edilen yeni bitkilerin ve ana bitkinin genetik yapısı birbirinden farklıdır.
C) I. uygulamadan elde edilen bitkilerin genetik yapısı, ana bitkininkiyle aynıdır.
D) II. uygulamadan elde edilen bitkilerin genetik yapısı, ana bitkininkiyle aynıdır.

19. Bir araştırmacı grubu, çevre ile ilgili araştırmaları sonucu aşağıdaki grafiği çiziyor.



Grafikte gösterilen durumla ilgili olarak;

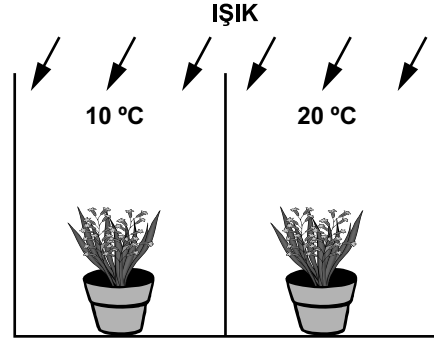
- Geniş alanların, hızlı gelişen ağaç türleri ile ağaçlandırılmasını,
- Yenilenebilir enerji kaynakları kullanımının yaygınlaşmasını

öneriyorlar.

Buna göre grafikte “?” işareti ile gösterilen faktör, aşağıdakilerden hangisi olabilir?

- A) Dünyada su döngüsüne katılan su miktarı
- B) Atmosferdeki karbondioksit yoğunluğu
- C) Dünyadaki fosil yakıt miktarı
- D) Bazı hayvan türlerinin sayısı

20. Bir öğrenci, farklı sıcaklıkların fotosentez olayına etkisini gözlemek için özdeş bitkilerle şekildeki düzeneği hazırlıyor.



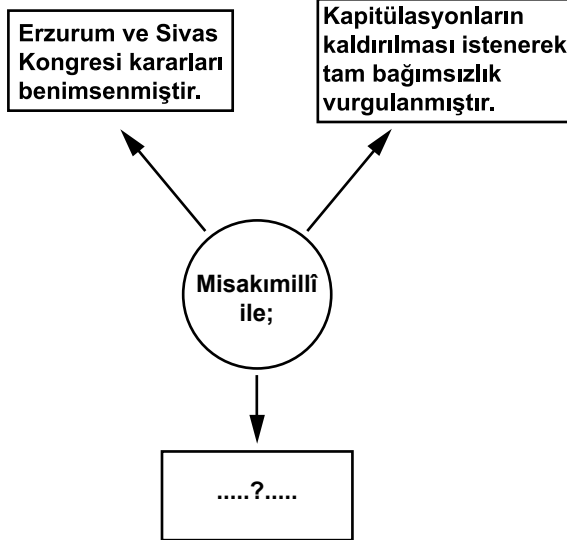
Bitkilere eşit miktarda düzenli olarak su veriliyor. Saksılar ve içindeki topraklar özdeşdir.

Eğer bu öğrenci “Karanlıktaki bitki, ışık alan bitki gibi fotosentez yapar mı?” sorusuna cevap ararsa, bu düzenekte hangi değişikliği yapmalıdır?

- A) Bitkileri birbiriyle yer değiştirmelidir.
- B) 10 °C’deki ortamın sıcaklığını azaltıp buradaki bitkinin ışık ve hava almasını engellemelidir.
- C) Her iki ortamın sıcaklığını 10 °C’ye ayarlayıp her iki bitkiyi de ışıktaki bırakmalıdır.
- D) Her iki ortamın sıcaklığını 20 °C’ye ayarlayıp bitkilerden birinin ışık almasını engellemelidir.

**FEN VE TEKNOLOJİ TESTİ BİTTİ.
SOSYAL BİLGİLER TESTİNE GEÇİNİZ.**

1.



Misakımillî'nin önemi düşünüldüğünde şemada “?” ile gösterilen yere aşağıdakilerden hangisi getirilebilir?

- A) Türk vatanının sınırları çizilmiştir.
- B) Güçler birliği esası benimsenmiştir.
- C) Millî ekonominin ilkeleri saptanmıştır.
- D) İlk kez millî egemenlikten söz edilmiştir.

2. Mondros Ateşkes Anlaşması'ndan sonra yurdumuzun işgal edilmesi karşısında İstanbul Hükûmeti sessiz ve kayıtsız kaldı. Yüzyıllarca Türklerle beraber huzurlu ve güvenli bir yaşam sürdüren bazı Rum ve Ermeniler de işgalcilerle iş birliği yaptılar. Bu durum karşısında Türk milleti nasıl bir tepki göstermiştir?

- A) Amerikan mandasını istemiştir.
- B) Halifenin etrafında toplanmıştır.
- C) Millî direniş cemiyetleri kurmuştur.
- D) İşgallerin geçici olduğuna inanarak tepki göstermemiştir.

3. Birinci İnönü Savaşı'ndan sonra görülen;

- I- İstiklal Marşı'nın kabul edilmesi
- II- TBMM Hükûmeti'nin Londra Konferansı'na çağırılması
- III- Sovyetler Birliği ile Moskova Antlaşması'nın imzalanması
- IV- Teşkilat-ı Esasiye'nin kabulü

gelişmelerinden hangileri bu zaferin ulusal alanda olumlu etkileri olduğunu kanıtlar?

- A) I ve IV
- B) I ve II
- C) III ve IV
- D) II ve III

4. Mustafa Kemal'in Anafartalar Savaşı'nda;

Size ben taarruz emretmiyorum. Ölmeyi emrediyorum. Biz ölünceye kadar geçecek zaman içinde yerimize başka kuvvetler ve komutanlar geçebilir.

emrini vermesi onun;

- I- Cesaret
- II- Akılcılık
- III- Yenilikçilik
- IV- Vatanseverlik

gibi kişisel özelliklerinden hangileri ile ilgili olabilir?

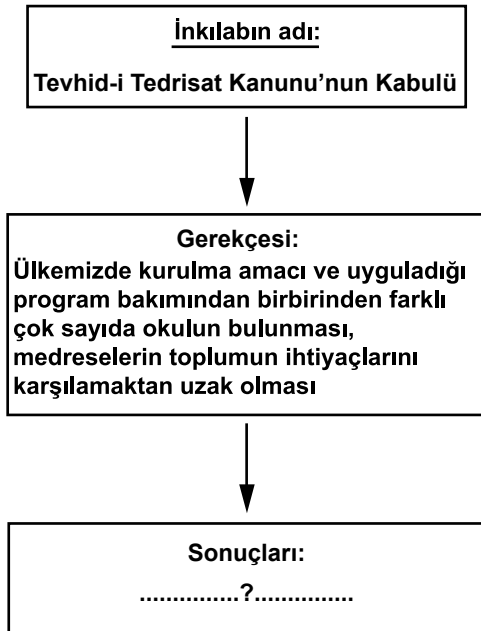
- A) I ve II
- B) II ve III
- C) III ve IV
- D) I ve IV

5. Türk ordusu Kütahya-Eskişehir Savaşlarında başarılı olamamış ve Sakarya Irmağı'nın doğusuna kadar çekilmek zorunda kalmıştı. Bu süreçte TBMM, Mustafa Kemal'i üç aylık bir süre için başkomutan tayin etti. Mustafa Kemal ordunun ihtiyaçlarının karşılanması için halkı, maddi ve manevi bütün kaynaklarıyla Millî Mücadeleye çağıran Tekâlif-i Milliye Emirleri'ni yayımladı (7-8 Ağustos 1921). Türk milleti bu emirlere tam bir kararlılık ve fedakârlıkla uydu.

Bu bilgiye göre aşağıdakilerden hangisi söylenemez?

- A) Kurtuluş Savaşı halkın dayanışması ile kazanılmıştır.
- B) Ordunun ihtiyaçları giderilerek savaşa hazır hâle getirilmiştir.
- C) Düzenli ordudan vazgeçilip yeniden Kuvayı-millîye'ye dönülmüştür.
- D) Türk milleti Mustafa Kemal'e tam bir güven ve bağlılık göstermiştir.

6.



Şemaya göre “?” ile belirtilen yere aşağıdakilerden hangisi getirilemez?

- A) Eğitim ve öğretimde birlik sağlandı.
- B) Medreselerin yanında modern okullar açıldı.
- C) Tüm okullar Millî Eğitim Bakanlığına bağlandı.
- D) Millî ve çağdaş bir eğitim sisteminin temelleri atıldı.

7.

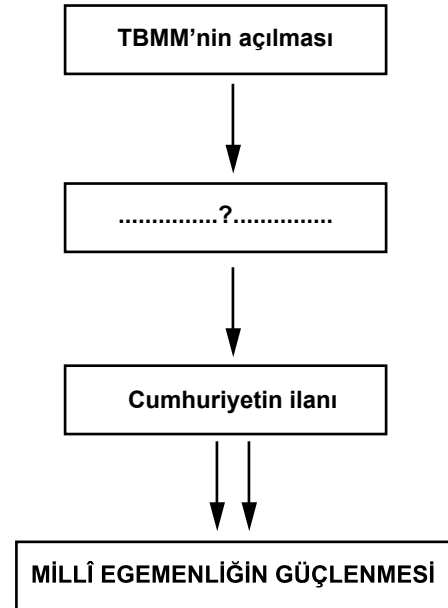
Türk milletinin tarihî bir niteliği de güzel sanatları sevmek ve onda yükselmektir.



Aşağıdakilerden hangisi Atatürk'ün bu sözünü destekleyen bir uygulamadır?

- A) Ankara Hukuk Fakültesinin açılması
- B) Türkiye İdman Cemiyetinin kurulması
- C) Dil ve Tarih-Coğrafya Fakültesinin açılması
- D) İstanbul'da Resim ve Heykel Müzesinin açılması

8.



Diyagramda millî egemenliğin güçlenmesinin aşamaları gösterilmiştir. Bu süreç izlenirse “?” ile gösterilen yere aşağıdakilerden hangisi yazılabilir?

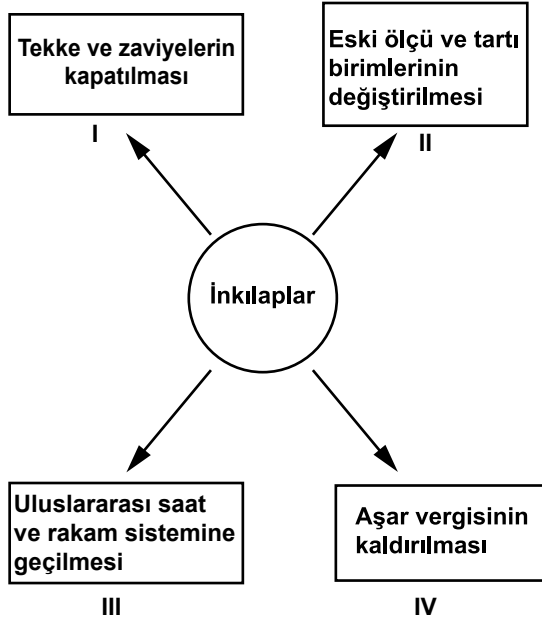
- A) Medeni Kanun
- B) Saltanatın kaldırılması
- C) Türk Tarih Kurumunun açılması
- D) Teşvik-i Sanayi Kanunu'nun çıkarılması

9. Halkçılık ilkesi bütün vatandaşların kanun önünde eşit olmasını ve kimseye ayrıcalık tanınmamasını öngörür.

Buna göre, aşağıdaki yeniliklerden hangisi halkçılık ilkesiyle doğrudan ilgili olabilir?

- A) Harf İnkılabı
B) Soyadı Kanunu
C) Halk Evlerinin açılması
D) Demiryollarının millîleştirilmesi

10.



Yukarıdaki inkıaplardan hangileri çağdaş devletlerle ilişkilerde uyum sağlamaya yöneliktir?

- A) I ve II
B) III ve IV
C) II ve III
D) I ve IV

11. Atatürk'ün ölümünün yankılarına ilişkin bazı örnekler:

| | | |
|--------------------------|---|---|
| General Mc Arthur | Atatürk, Türklere kendine güvenme ve dayanma duygusunu vermiştir. | 1 |
| Winston Churchill | Atatürk'ün ölümü yalnız yurdu için değil, Avrupa için de büyük kayıptır. | 2 |
| Daily Telegraph Gazetesi | Atatürk, Türk milletinin ruhunda Türk bayrağı gibi dalgalanan bir baştı. | 3 |
| Muhammed Ali Cinnah | Atatürk, çağdaş İslam dünyasındaki en büyük Müslümandı ve kuşkusuz tüm İslam dünyası onun ölümüne derin yas tutacaktır. | 4 |

Bunlardan hangilerinde Atatürk'ün kişilik ve fikirlerinin uluslararası alandaki etkisi vurgulanmıştır?

- A) 2 ve 4
B) 1 ve 2
C) 1 ve 3
D) 1, 3 ve 4

12.

Türkiye'nin bugünkü mücadelesi sadece kendisi için olsaydı belki daha kısa, daha az kanlı olur ve daha çabuk bitebilirdi. Türkiye büyük bir gayret sarf ediyor. Çünkü müdafaa ettiği, bütün mazlum milletlerin, bütün Şark'ın davasıdır.



Mustafa Kemal Paşa'nın 7 Temmuz 1922'de yaptığı bu konuşmaya göre, Türk Kurtuluş Savaşı mazlum milletlere öncelikle hangi alanda örnek olmuştur?

- A) Bağımsızlık
B) Çağdaşlık
C) Laiklik
D) Devletçilik

13.



Ders: T.C. İnk. Tarihi ve Atatürkçülük
Konu: Atatürk İlkeleri
Soru: Cumhuriyetin ilk yıllarında ekonomide devletçilik ilkesinin benimsenmesinin sebepleri nelerdir?

Öğretmenin sorusuna hangi öğrencinin verdiği cevap doğru değildir?

A)

Ülkemizde özel sektörün sermaye gücünün olmaması



Ayşe

B)

1929 dünya ekonomik bunalımının Türk ekonomisini daha da kötüleştirilmesi



Mehmet

C)

Devlet eliyle sosyal adaletin sağlanmak istenmesi



Zeynep

D)

Yabancı sermayenin ülkemize çekilmek istenmesi



Orçun

14.



Özge

İnsan hak ve özgürlüklerinin hepsi önemlidir. Ancak bunlardan biri var ki bu hakka sahip olmadan diğer hak ve özgürlüklerimizi kullanmamız ve talep etmemiz de mümkün değildir.

Özge'nin önemini vurguladığı hak, aşağıdakilerden hangisi olabilir?

A) Eğitim hakkı

B) Sağlık hakkı

C) Dilekçe hakkı

D) Yaşama hakkı

15.



.....?

Sözlü iletişimin önemini yansıtan bu görsele, aşağıdaki atasözlerinden hangisi alt yazı olarak verilebilir?

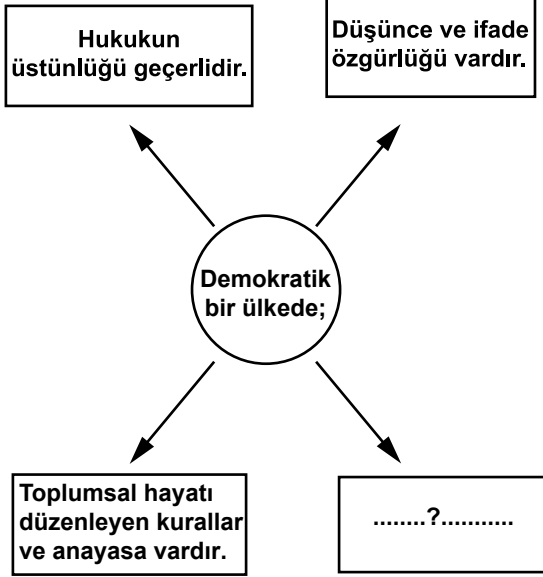
A) Söz gümüşse sükût altındır.

B) İnsanlar konuşa konuşa anlaşır.

C) Söz söyle alana, kulağında kalana.

D) İsteddiğini söyleyen, istemediğini işitir.

16.



Demokratik bir ülkenin özellikleri ile ilgili olarak şemada “?” ile boş bırakılan kutuya aşağıdakilerden hangisi yazılabilir?

- A) Vatandaşlar iktidarı eleştiremezler.
- B) Toplantı ve gösteri yürüyüşü hakkı yoktur.
- C) İnsanlar farklı hayat tarzlarına saygı duyarlar.
- D) Birey ile devlet arasında güven duygusu zayıftır.

DİN KÜLTÜRÜ VE AHLAK BİLGİSİ DERSİNİ OKUYANLAR AŞAĞIDAKİ SORULARI CEVAPLAYACAKLARDIR.

17.

Hz. Muhammed pazarda bir buğday yığınının elini daldırması ve alttaki buğdayın ıslak olduğunu görmüştür. Satıcıya alttaki buğdayın neden ıslak olduğunu sormuş, satıcı da; “Onu yağmur ıslattı.” cevabını vermiştir. Bunun üzerine Peygamberimiz; “O ıslak kısmı insanların görmesi için buğday yığınının üstüne koysaydın ya! Bizi aldatan bizden değildir.” demiştir.

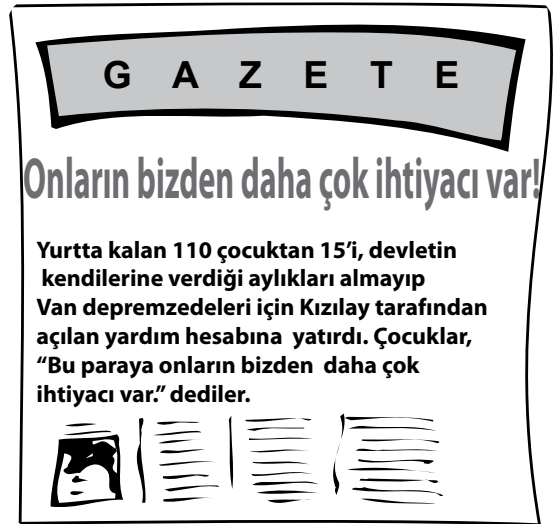
Proje ödevi kapsamında afiş hazırlayan bir öğrenci, bu hadise aşağıdaki başlıklardan hangisini yazmalıdır?

- A) Hz. Muhammed insanlara değer verirdi.
- B) Hz. Muhammed ticaretle uğraşırdı.
- C) Hz. Muhammed hakkı gözetirdi.
- D) Hz. Muhammed merhametliydi.

18. Hac ve umre ibadetinde ortaklaşa yapılması gereken eylemler hangi seçenekte birarada verilmiştir?

- A) Sa'y ve vakfe
- B) Tavaif ve sa'y
- C) Tavaif ve şeytan taşlama
- D) Vakfe ve şeytan taşlama

19.



Buna göre haberdeki çocuklar aşağıdaki hadislerden hangisine uygun davranış sergilemiştir?

- A) “Fakirleri araştırıp bulunuz, görüp gözetiniz.”
- B) “Kardeşini güler yüzle karşılayan, onun için bir sadakadır.”
- C) “Müminler birbirlerini sevmekte, birbirlerine acımakta bir vücut gibidirler...”
- D) “Her kim eli darda olan borçluya kolaylık gösterirse, Allah da ona dünya ve ahirette kolaylık gösterir.”

20. Aşağıdaki ayetlerden hangisi insanın söz ve davranışlarından sorumlu tutulması ile ilgili değildir?

- A) "Allah'ın izni olmadan hiçbir kişi ölmez. (Ölüm) Belirli bir süreye göre yazılmıştır..." (Âl-i İmrân suresi, 145.)
 B) "Şüphesiz biz ona (doğru) yolu gösterdik. İster şükredici olsun, ister nankör." (İnsan suresi, 3.)
 C) "Kim zerre miktarı hayır yapmışsa onu görür. Kim de zerre miktarı şer işlemişse onu görür." (Zilzal suresi, 7-8.)
 D) "... Hiçbir kimse başkasının günah yükünü taşımaz..." (Zümer suresi, 7.)

DİN KÜLTÜRÜ VE AHLAK BİLGİSİ DERSİNİ OKUMAYANLAR AŞAĞIDAKİ SORULARI CEVAPLAYACAKLARDIR.

17. I- Vergi vermek

II- Askerlik yapmak

III- Üniversite sınavına girmek

Bunlardan hangileri vatandaşlık görevlerimizdendir?

- A) Yalnız I
 B) Yalnız II
 C) I ve II
 D) I, II ve III

18.

Tek eksikimiz hükûmet partisinin karşısında başka parti bulunmamasıdır.



İsmet İnönü 2 Kasım 1945'te söylediği bu sözle demokrasilerde aşağıdakilerden hangisinin mutlaka gerekli olduğunu vurgulamıştır?

- A) Tek parti hükûmetlerinin
 B) Muhalefet partilerinin
 C) Yargı bağımsızlığının
 D) Basın özgürlüğünün

19.

Harf İnkılabı'nın yapılması

+

Millet Mekteplerinin açılması

=

....?....

Verilen inkılapların ortak amacı olarak "?" ile boş bırakılan kutuya aşağıdakilerden hangisi getirilebilir?

- A) Türk tarihinin araştırılması
 B) Tam bağımsızlığın sağlanması
 C) Eğitim ve öğretimin yaygınlaştırılması
 D) Türkçenin yabancı sözcüklerden arındırılması

20.

Milletin bağımsızlığını, yine milletin
azim ve kararı kurtaracaktır.
Amasya Genelgesi

Kuvayimillîye'yi etkin ve millî iradeyi
hâkim kılmak esastır.
Erzurum Kongresi

Millî Mücadele sürecinde alınan yukarıdaki
kararlar aşağıdaki ilkelerden hangisinin
benimsendiğini kanıtlar?

- A) Millî egemenlik B) Vatanın bütünlüğü
C) Millî ekonomi D) Tam bağımsızlık

SOSYAL BİLGİLER TESTİ BİTTİ.
YABANCI DİL TESTİNE GEÇİNİZ.

İNGİLİZCE

1 - 8. sorularda boş bırakılan yerlere uygun gelen kelime ya da ifadenin bulunduğu seçeneği işaretleyiniz.

1. Ceren : You should study harder. You can do it.

Kaan : Do you mean I'm not a good student?

Ceren : No, of course not. I mean you're

- A) lazy and not intelligent.
- B) studying a lot in the class.
- C) clever but not hardworking.
- D) describing your teacher badly.

2. Utku : I'm very tired.

Can : Me, too. Let's go somewhere and have a rest.

Utku : There is a nice cafe over there.

- A) That's a good idea.
- B) I'm afraid I can't.
- C) I don't think so.
- D) That's wrong.

3. Nesli : You must improve your reading, writing, speaking and listening skills. All of them!

Cem : Yes, sure. In my opinion, I'm bad at it.

- A) I can't understand tourists.
- B) I won't try to do homework.
- C) speaking is the most difficult of all.
- D) learning a foreign language is easy for me.

4. Murat : Where were you last week, Berk?
Berk : I have just returned.

- A) I could see Paris.
- B) I would like to visit Paris.
- C) I was in Paris on business.
- D) I have already been to Paris.

5. Burak : because I don't know the meaning of the word "obstacle".

Mother : Can it be in your school bag?

- A) I have left my dictionary in the library.
- B) I put my dictionary on the desk.
- C) I can bring my dictionary later.
- D) I need my dictionary now.

6. Mert : Have you decided what to do in the future?

Hasan : Yes, I have.

- A) I am going to study English.
- B) I don't know anything about jobs.
- C) Flying a plane can be dangerous.
- D) Working in a bank is usually boring.

7. Aylin : My uncle will be the first Turkish space tourist next month.

Köksal :

- A) Great! Thanks a lot.
B) Really! What a shame!
C) Wow! I am sorry to hear that.
D) That's incredible! You're joking!

8. She is very She does everything just for herself. She doesn't care about others.

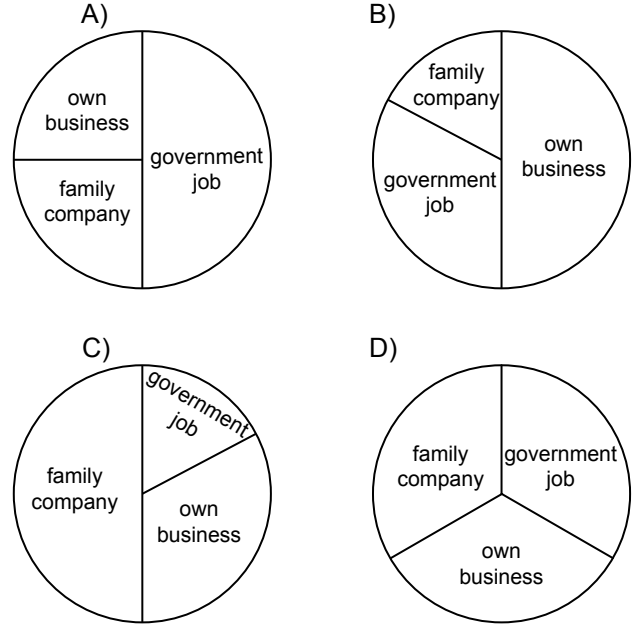
- A) shy
C) friendly
B) selfish
D) responsible

9.

Study Results about Personal Goals

- 1-) 50 % of the students want to have their own businesses.
2-) 35 % of the students want to find a government job.
3-) 15 % of the students want to work in their family companies.

Yukarıda verilen araştırma sonuçlarını doğru olarak gösteren seçeneği işaretleyiniz.



10. Left brain learners are logical people. They prefer learning the details first. They like working with numbers.

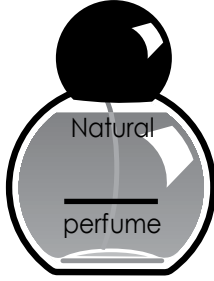
Yukarıda verilen açıklamadaki bilgilere göre, "left brain learner" olabilecek kişinin bulunduğu seçeneği işaretleyiniz.

- A) I'm a dreamer.
- B) I'm a perfect artist.
- C) I'm too emotional.
- D) I'm good at maths.

11. Is your skin too oily? No problem. Relax. Here is the best solution. Apply this on your skin daily. You will get the best result. You will feel it soon.

Yukarıda tanıtımı yapılan ürünün bulunduğu seçeneği işaretleyiniz.

A)



B)



C)



D)



12 – 13. sorularda doğru seçeneği aşağıda verilen hikayeye göre işaretleyiniz.

Do good, have good

One day, a lion was sleeping under a tree in a forest. The wind was blowing. A mouse was walking over his body. The lion woke up and caught the mouse. The lion wanted to kill it. The mouse said : “ Dear King, I am a small animal, don’t kill me. One day I can help you.” The lion said : “OK, you are free.” The mouse thanked the lion and went home.

After some time, hunters caught the lion with ropes. He worked hard to cut the ropes but he couldn’t. He shouted: “Help! Help!” The mouse heard the noise. It ran to the lion and cut the ropes with its teeth. Soon the lion was free. He thanked the mouse for its help.

12. Why did the lion wake up?

Because

- A) the mouse moved under the tree.
- B) the lion heard the strong wind.
- C) the lion wanted to catch the mouse.
- D) the mouse was walking over his body.

13. What is “the main idea” of the story?

- A) Help others, one day they will also help you.
- B) It is bad to catch and kill small animals.
- C) A mouse is good at hearing noises.
- D) A forest is a very dangerous place to live.

14. Aşağıdaki tabloda verilen bilgilere göre doğru olan seçeneği işaretleyiniz.

Ayşe's to do list!

| | |
|---|-----------------------------|
| ✓ | Put the books on the shelf. |
| ✓ | Make the beds. |
| × | Empty the dustbin. |
| ✓ | Clean the carpets. |

✓ = Yes × = No

- A) She hasn't made the beds.
 B) She hasn't cleaned the carpets.
 C) She has just emptied the dustbin.
 D) She has already put the books on the shelf.

15.

| | Son | Mother | Father |
|-------------------------|-----|--------|--------|
| take the dog for a walk | ✓ | × | × |
| make breakfast | × | ✓ | × |
| pay the bills | × | × | ✓ |
| put the rubbish out | ✓ | × | × |

✓ = Yes × = No

Yukarıdaki tabloda verilen bilgilere göre doğru olan seçeneği işaretleyiniz.

- A) The son pays the bills.
 B) The son puts the rubbish out.
 C) The father takes the dog for a walk.
 D) The mother and the father make the breakfast.

16 - 17. sorularda aşağıda verilen tablodaki bilgileri kullanarak doğru seçeneği işaretleyiniz.

ATATÜRK'S LIFE

| Date | Event |
|-----------|--|
| 1905 | Atatürk graduated from the General Staff College and became a staff captain. |
| 1911-1912 | He led successfully the Tobruk Offensive in the Trablusgarp Battle. This was his first military success. |
| 1919 | He was the chairman of the congresses in Erzurum and Sivas. His political life started. |
| 1921 | The Turkish Grand National Assembly gave him the title "Gazi". |
| 1922 | He won the battle of the Commander-in-chief at Dumlupınar. |

16. When did Atatürk become a staff captain?

- A) After the Trablusgarp Battle.
 B) During the Erzurum and Sivas Congresses.
 C) After graduation from the General Staff College.
 D) In the battle of the Commander-in-chief at Dumlupınar.

17. The Trablusgarp Battle has a special place in his life because

- A) his success as a soldier started there.
 B) it was the beginning of his political life.
 C) he took the title "Gazi" before this war.
 D) he became the chairman in two congresses there.

TEST BİTTİ.

CEVAPLARINIZI KONTROL EDİNİZ.

ALMANCA

1 - 7. sorularda boş bırakılan yere uygun düşün kelime ya da ifadeyi işaretleyiniz.

1. sich die junge Dame für Mode?

- A) Behält B) Kauft
C) Interessiert D) Berichtet

2. Deine Tochter weiß nicht, mein Sohn zu Hause ist.

- A) ob B) damit
C) sondern D) denn

3. Herr Braun wohnt direkt an einem kleinen Bach. Im Frühling dort viele Blumen und Pflanzen.

- A) wachsen B) wuchs
C) waschen D) wächst

4. Orhan schreibt seinem einen Brief.

- A) Tante B) Mutter
C) Frau D) Freund

5. Er kommt bestimmt, er hat es mir versprochen.

- A) denn B) weil
C) oder D) als

6. Österreich ist mein geworden. Ich liebe die Landschaft mit Bergen und Seen. Alles ist wunderschön in diesem Land.

- A) Heimat B) Wünsche
C) Länder D) Traumland

7. Ich freue mich schon den nächsten Urlaub.

- A) mit B) auf C) in D) durch

8 - 12. sorulardaki karşılıklı konuşmada boş bırakılan yerlere uygun düşün ifadeyi bulunuz.

8. Hans: Komm doch mit uns ins Kino!
Paul : Leider sind meine Hausaufgaben nicht fertig.
Hans:
Paul: Nein, es geht nicht, weil ich sie bis morgen beenden muss.

- A) Wo sind deine Hausaufgaben?
B) Deine Hausaufgaben sind nicht so leicht.
C) Kannst du sie nicht später machen?
D) Ich schreibe die Hausaufgaben nicht gern.

9. Erika : Ich wohnte früher bei Angelika.
 Monika : Wie bitte?
 Erika : Ich wohnte früher bei Angelika,

A) das bei ihrer Familie lebte.
 B) die ihr Zimmer mit mir teilte.
 C) der bei ihr arbeitete.
 D) die neben uns wohnten.

10. Özgür : Was machst du denn hier? Ich
 dachte, du hast jetzt Unterricht.
 Efe :
 Özgür : Du bist doch immer so pünktlich.
 Efe : Du hast recht. Aber der Bus war
 heute kaputt.

A) Stimmt. Ich habe mich heute verspätet.
 B) Wirklich? Es ist nicht so langweilig.
 C) Natürlich finde ich das großartig.
 D) Nein, ich bin nicht krank.

11. Sevim: Wie viele Gäste kommen denn heute?
 Dilek : Zehn. Zusammen sind wir dann zwölf.
 Sevim:
 Dilek : Ja, wir haben mehr als zwölf Stühle.

A) Das ist ja wunderschön.
 B) Wieviel kostet ein Stuhl?
 C) Die Stühle sind nicht so teuer.
 D) Haben wir so viele Stühle?

12. Cem : Ich habe gehört, deine Mutter liegt
 im Krankenhaus.
 Mert :
 Cem : Hoffentlich wird deine Mutter so
 schnell wie möglich wieder gesund.

A) Er kam gestern nach Hause
 B) Meine Mutter ist sehr gesund.
 C) Ja, er steht jetzt vor dem Krankenhaus.
 D) Ja, leider, sie hatte gestern eine Operation.

13. Es ist ein öffentliches Verkehrsmittel, mit
 dem man fährt.
 Yukarıda tarifi yapılan nesne aşağıdakilerin
 hangisinde doğru olarak verilmiştir?

A)



B)



C)



D)




14 - 15. sorularda verilen resimlere uyan doğru seçenekleri işaretleyiniz.

14.



- A) Selma versteckte sich hinter einem großen Baum, weil sie in Ruhe lesen wollte.
- B) Selma sitzt hinter einem Baum und trinkt Cola.
- C) Selma steht vor dem Baum und wartet auf ihren Freund.
- D) Selma ruft hinter dem Baum ihren Bruder an.

15.



- A) Der Bus fährt in die Garage.
- B) Das Auto hält vor der Tankstelle.
- C) Vor der Fabrik steht ein Fahrrad.
- D) Ein Taxi steht vor dem Museum.

16 - 17. soruları aşağıda verilen metne göre cevaplayınız.

Um Wärme durch Sonnenenergie zu erzeugen, braucht man Kollektoren. Diese Sammler nehmen die Strahlen auf und erwärmen Wasser. Wenn Sonnenstrahlen auf Solarzellen treffen, entsteht Strom.

16. Was nimmt die Strahlen auf und erwärmt das Wasser?

- A) Die Kollektoren nehmen keine Strahlen auf und erwärmen das Wasser nicht.
- B) Sonnenstrahlen treffen nicht auf Solarzellen.
- C) Man braucht keine Kollektoren, um das Wasser zu erwärmen.
- D) Die Kollektoren nehmen die Strahlen auf und erwärmen das Wasser.

17. Wodurch wird die Wärme erzeugt?

- A) Sonnenstrahlen treffen nicht auf Solarzellen.
- B) Die Wärme wird durch Sonnenenergie erzeugt.
- C) Für die Wärme braucht man keine Kollektoren.
- D) Die Sonnenenergie kann man durch Kollektoren nicht erzeugen.

TEST BİTTİ.

CEVAPLARINIZI KONTROL EDİNİZ.

FRANSIZCA

1 - 7. sorularda boş bırakılan yere uygun düşün kelime ya da ifadeyi işaretleyiniz.

1. Mes problèmes de santé ont disparu parce que

- A) j'ai arrêté de fumer il y a huit mois.
- B) je ne fais plus attention à ce que je mange.
- C) je ne me lave pas les mains avant de manger.
- D) je prends du café très fort après chaque repas.

2. Paul amuse les enfants des avions en papier.

- A) faisaient
- B) en sachant
- C) chantaient
- D) en faisant

3. Atatürk, en 1934, les femmes ont obtenu le droit de vote et le droit d'être élues.

- A) A cause de
- B) Grâce à
- C) Jusqu'à
- D) D'ici à

4. Filiz adore les gâteaux prépare sa tante.


- A) qui
- B) où
- C) que
- D) dont

5. A: Je veux être journaliste parce que j'aime beaucoup faire des reportages. Mon père et ma mère préfèrent l'informatique, mais je ne veux pas être ingénieur. Je ne sais pas quoi faire.

B:

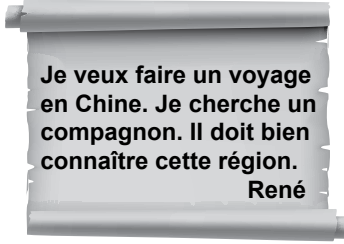
- A) L'opinion de tes parents est très importante, mais ils ne doivent pas décider à ta place.
- B) Si tu trouves une bonne agence de tourisme, tu pourras travailler comme guide.
- C) J'ai découpé une petite annonce dans un journal. Tu peux écrire à ces adresses pour avoir des renseignements sur ton voyage.
- D) Pas de panique! Parle de ce sujet avec tes parents. Dis-leur qu'il veut être journaliste.

6.



- A) d'inviter tous nos copains pour son anniversaire.
- B) s'ils invitent tous leurs copains pour son anniversaire.
- C) qu'ils invitent tous leurs copains pour son anniversaire.
- D) que nous invitons tous nos copains pour son anniversaire.

7.



C'est une (un)

- A) article B) émission
C) publicité D) annonce

8. Si un animal ou une plante disparaît, tout son milieu naturel se trouve déséquilibré. Les renards qui se nourrissent de rongeurs disparaissent à cause des chasseurs. C'est pourquoi les rongeurs se multiplient et abîment les cultures. Les agriculteurs utilisent alors des produits chimiques pour les tuer. C'est dangereux pour la santé des gens.

Yukarıdaki parçaya göre boş bırakılan yere uygun düşen sözcüğü işaretleyiniz.

Les agriculteurs utilisent des produits chimiques pour tuer les


- A) chasseurs B) rongeurs
C) renards D) gens

9. La fille d'Alex, Sabine vient d'avoir 13 ans. Elle a 4 ans de plus que Gisèle mais 2 ans de moins que Jacques.

Aşağıdaki sorulardan hangisinin cevabı metinde verilmemiştir?

- A) Quel âge a Alex?
B) Quel âge a Gisèle?
C) Quel âge a Jacques?
D) Quel âge a Sabine?

10.




Resimleri dikkate alarak cümledeki boşluğa uygun gelen ifadeyi işaretleyiniz.

Marie a regardé la télé après être rentrée de l'école maintenant il est dix-sept heures, elle fait ses devoirs dans sa chambre et à dix huit heures elle le dîner.

- A) a préparé B) prépare
C) va préparer D) préparait

11.



Resimde verilen aletleri hangi meslek grubu kullanır?

- A) Epicier B) Infirmier
C) Poissonnier D) Fermier

12 - 14. soruları aşağıdaki parçaya göre cevaplayınız.

Dans mon pays en Turquie, l'eau que je bois est de bonne qualité parce qu'elle est nettoyée dans des centres de nettoyage. Mais dans certains pays d'Afrique, les eaux utilisées pour boire, pour se laver sont de mauvaises qualités. Elles sont dangereuses pour la santé, car elles causent des maladies graves comme le choléra. La plupart de la population africaine est victime de l'eau sale qui tue des centaines de personnes chaque année.

12. En Turquie, l'eau est

- A) pleine de microbes B) sale
C) propre D) dangereuse

13. Dans notre pays, on peut boire de l'eau sans

- A) danger B) ordonnance
C) information D) publicité

14. D'après le texte, l'eau sale en Afrique peut causer

- A) la santé B) la mort
C) la pollution D) l'environnement

15. Tableau des médailles des Jeux Olympiques de Pékin.

| Nation | Or | Argent | Bronze |
|---------|----|--------|--------|
| Japon | 9 | 6 | 10 |
| France | 7 | 16 | 18 |
| Ukraine | 7 | 5 | 15 |





Tabloda verilen bilgilere göre aşağıdaki ifadelerden hangisi doğrudur?

- A) Le Japon a obtenu moins de médailles d'argent que l'Ukraine.
B) La France a obtenu autant de médailles d'or que l'Ukraine.
C) Le Japon a obtenu plus de médailles de bronze que la France.
D) L'Ukraine a obtenu autant de médailles d'argent que le Japon.

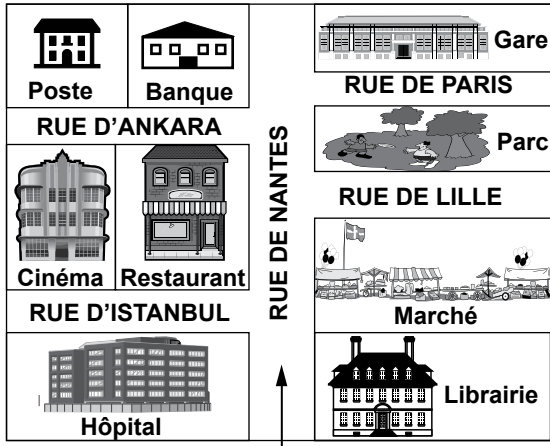
16.



Yukarıda tarifi yapılan nesne resimlerin hangisinde doğru olarak verilmiştir?

- A)  B) 
C)  D) 

17.



A: Comment je peux aller à la poste?

B:

Verilen şekle göre karşılıklı konuşmada boş bırakılan yere uygun düşen ifadeyi işaretleyiniz.

- A) Prenez la rue de Nantes. Marchez environ 100 mètres, elle est entre le restaurant et le cinéma.
- B) Marchez jusqu'à la rue de Paris. Tournez à droite, elle est en face du parc.
- C) Tournez à la deuxième rue à gauche puis marchez jusqu'au feu, elle est en face de la gare.
- D) Prenez la rue de Nantes. Tournez à la deuxième rue à gauche, elle est à côté de la banque.

TEST BİTTİ.

CEVAPLARINIZI KONTROL EDİNİZ.

İTALYANCA

1 - 4. sorularda boş bırakılan yere uygun düşen kelime ya da ifadeyi işaretleyiniz.

1. Quale è il libro più bello che tu mai letto?

- A) abbia B) avresti C) hai D) avevi

2. Mi scusi,.....dirmi dov'è la stazione?

- A) potrei B) potessi
C) potrebbe D) potesse

3. studia bene dà l'esame facilmente.

- A) che B) il quale
C) chi D) con cui

4. Mentre Franco un ladro è entrato dalla finestra ieri notte.

- A) aveva dormito B) dormirebbe
C) ha dormito D) dormiva

5.



Yukarıdaki resme göre karşılaştırma aşağıdaki cümlelerin hangisinde yanlış yapılmıştır?

- A) Il treno è meno veloce dell'aereo.
- B) L'aereo è più comodo del treno.
- C) L'aereo è più veloce del treno.
- D) Il treno è più veloce dell'aereo.

6.



Yukarıdaki resimlere göre aşağıdakilerden hangisi yanlıştır?

- A) Silvia può cantare bene.
- B) Silvia può cavalcare bene.
- C) Silvia sa suonare la chitarra.
- D) Silvia è in grado di giocare a tennis.

7.



Dopo l'università Cinzia

Yukarıdaki resme göre boşluğu uygun seçenекle tamamlayınız.

- A) Andrà a vivere a Parigi.
- B) Sposerà il suo fidanzato.
- C) Frequenterà il corso di computer.
- D) Comincerà il corso di dipingere.

8. Aşağıdaki resimlere göre Koray'ın yaptığı eylemler hangi seçenekte doğru verilmiştir?



- A) Koray studia, pulisce la camera, aspetta i suoi genitori.
- B) Koray fa colazione , nuota, cena con i genitori.
- C) Koray legge il libro, pulisce la camera, va a dormire.
- D) Koray fa una passeggiata, va al mare, cena con i genitori.

9. Luisa dice a suo padre: “ho un esame importante.” cümlesini dolaylı anlatıma çeviriniz.

A) Luisa dice che ha un esame importante.
 B) Luisa dice che aveva un esame importante.
 C) Luisa dice che avevo un esame importante.
 D) Luisa dice che ho avuto un esame importante.

10. I- Va bene, Le piace questo modello?
 II- Buonasera Signora, desidera?
 III- 85 euro.
 IV- Cerco una camicia bianca per me.
 V- Si, perfetto. Quanto costa?

Yukarıda verilen cümleler hangi seçenekte anlamlı bir diyalog olacak şekilde sıralanmıştır?

A) IV - II - III - V - I B) II - IV - I - V - III
 C) II - IV - III - I - V D) IV - II - V - I - III

11. “Insegnante: Ragazze, non..... durante la lezione” cümlesi emir kipiyle aşağıdaki cümlelerden hangisiyle tamamlanabilir?

A) parlate B) parlate
 C) parlerebbero D) parlarono

12. l'anno / ho / una / comprato / nuova /
 1 2 3 4 5

scorso / macchina

6 7

Yukarıdaki kelimeleri kurallı cümle yapınız.

A) 1 / 6 / 2 / 4 / 3 / 5 / 7
 B) 6 / 1 / 3 / 7 / 5 / 4 / 2
 C) 1 / 6 / 3 / 5 / 7 / 4 / 2
 D) 2 / 4 / 3 / 6 / 7 / 1 / 5

13. Aşağıdaki soruyu verilen resimlere göre cevaplayınız.



Mustafa



Burak



Mehmet




Ali

Chi ha mal di pancia?

A) Ali ha mal di pancia
 B) Burak ha mal di pancia
 C) Mustafa ha mal di pancia
 D) Mehmet ha mal di pancia

14.



Roberto 1.70

Piero 1.65

Sandro 1.55

Yukarıdaki resme göre aşağıdaki cümlelerden hangisi doğrudur?

- A) Roberto non è più alto di Sandro e Piero.
- B) Roberto è il più basso dei suoi amici.
- C) Sandro è il più basso dei suoi amici.
- D) Piero è più basso di Sandro.

15.



Yukarıdaki şekle göre aşağıdaki cümlelerden hangisi yanlıştır?

- A) Sul tavolo ci sono le penne, un libro, una sveglia.
- B) A destra del libro ci sono le penne.
- C) Sotto il tavolo c'è un gatto.
- D) Sul libro c'è una penna.

16. Aşağıdaki resme göre boş bırakılan yere konacak uygun ifadeyi bulunuz.



- A) Gamze prende il tram.
- B) Gamze va in piscina.
- C) Gamze fa la spesa.
- D) Gamze fa la doccia.

17.

| | |
|-------|--------------------|
| Zuhal | cucina |
| | dorme |
| | naviga su internet |

Yukarıdaki tabloya göre Zuhal'in yaptığı aktivitelerden hangisi aşağıdaki seçeneklerde yoktur?

A)



B)



C)



D)



TEST BİTTİ.

CEVAPLARINIZI KONTROL EDİNİZ.

SINAV SÜRESİNCE UYULACAK KURALLAR

- 1. Adaylar, sınav kurallarına ve salon görevlilerinin tüm uyarılarına uymak zorundadırlar. Kurallara ve uyarılara uymayan adayların sınavları geçersiz sayılacaktır.**
- 2. Sınav başladıktan sonra adayların salon görevlileri ve birbirleri ile konuşmaları, kalem, silgi vb. şeyleri istemeleri yasaktır.**
- 3. Adaylar sınav süresince, sınav giriş belgesi ile birlikte kimlik belgelerinden birini (nüfus cüzdanı veya pasaport) masalarının üzerinde bulundurmamak zorundadırlar.**
- 4. Sınav evraklarını teslim etmeyen, soru kitapçıklarının sayfalarından bir kısmını eksik teslim edenlerin sınavları geçersiz sayılacaktır.**

SALON GÖREVLİLERİNCE SINAV BAŞLAMADAN ÖNCE ADAYLARA YAPILACAK SON UYARI

- Soracağınız bir şey var mı? Varsa, şimdi sorunuz.
- Sınav başladıktan sonra sorularınıza cevap verilmeyecektir.
- Başlama zilini bekleyiniz.
- Hepinize başarılar dileriz.

(Salon başkanı başlama ve bitiş saatini tahtaya yazacaktır.)

Bu kitapçığın her hakkı saklıdır. Hangi amaçla olursa olsun, kitapçığın tamamının veya bir kısmının Millî Eğitim Bakanlığı Yenilik ve Eğitim Teknolojileri Genel Müdürlüğünün yazılı izni olmadan kopya edilmesi, fotoğraflarının çekilmesi, bilgisayar ortamına alınması, herhangi bir yolla çoğaltılması, yayımlanması veya başka bir amaçla kullanılması yasaktır. Bu yasağa uymayanlar, doğabilecek cezai sorumluluğu ve kitapçığın hazırlanmasındaki mali külfeti peşinen kabullenmiş sayılır.

9 HAZİRAN 2012 TARİHİNDE YAPILAN SEVİYE BELİRLEME SINAVI
8. SINIFLAR “B” KİTAPÇIĞI CEVAP ANAHTARI

| TÜRKÇE | MATEMATİK | FEN ve TEKNOLOJİ | SOSYAL BİLGİLER |
|--------|-----------|------------------|-----------------|
| 1. B | 1. C | 1. A | 1. A |
| 2. B | 2. B | 2. B | 2. C |
| 3. C | 3. A | 3. D | 3. A |
| 4. B | 4. B | 4. A | 4. D |
| 5. D | 5. D | 5. C | 5. C |
| 6. A | 6. C | 6. D | 6. B |
| 7. B | 7. D | 7. B | 7. D |
| 8. A | 8. B | 8. C | 8. B |
| 9. C | 9. D | 9. B | 9. B |
| 10. D | 10. D | 10. C | 10. C |
| 11. C | 11. B | 11. D | 11. A |
| 12. D | 12. C | 12. A | 12. A |
| 13. B | 13. D | 13. B | 13. D |
| 14. C | 14. A | 14. C | 14. D |
| 15. C | 15. B | 15. A | 15. B |
| 16. A | 16. C | 16. B | 16. C |
| 17. D | 17. A | 17. D | 17. C |
| 18. A | 18. C | 18. C | 18. B |
| 19. C | 19. A | 19. B | 19. C |
| 20. D | 20. A | 20. D | 20. A |
| 21. D | | | |
| 22. A | | | |
| 23. B | | | |

| İNGİLİZCE | ALMANCA | FRANSIZCA | İTALYANCA |
|-----------|---------|-----------|-----------|
| 1. C | 1. C | 1. A | 1. A |
| 2. A | 2. A | 2. D | 2. C |
| 3. C | 3. A | 3. B | 3. C |
| 4. C | 4. D | 4. C | 4. D |
| 5. D | 5. A | 5. A | 5. D |
| 6. A | 6. D | 6. B | 6. B |
| 7. D | 7. B | 7. D | 7. D |
| 8. B | 8. C | 8. B | 8. B |
| 9. B | 9. B | 9. A | 9. A |
| 10. D | 10. A | 10. C | 10. B |
| 11. B | 11. D | 11. D | 11. B |
| 12. D | 12. D | 12. C | 12. A |
| 13. A | 13. C | 13. A | 13. C |
| 14. D | 14. A | 14. B | 14. C |
| 15. B | 15. B | 15. B | 15. D |
| 16. C | 16. D | 16. C | 16. C |
| 17. A | 17. B | 17. D | 17. A |