



**KAMU PERSONEL SEÇME SINAVI
LİSANS
(CS)**

GENEL YETENEK TESTİ-GENEL KÜLTÜR TESTİ

7 TEMMUZ 2012 CUMARTESİ

T.C. KİMLİK NUMARASI :

ADI :

SOYADI :

SALON NO. :

SIRA NO.:

Soru kitapçık numarasının cevap kâğıdına kodlanmamasının veya yanlış kodlanmasının sorumluluğu adaya aittir.

**SORU KİTAPÇIK
NUMARASI :**

**TEMEL SORU
KİTAPÇIĞI**

Bu numarayı cevap kâğıdınızdaki ilgili alana kodlamayı unutmayınız.

DİKKAT! SINAV BAŞLAMADAN ÖNCE AŞAĞIDAKİ UYARILARI MUTLAKA OKUYUNUZ.

1. T.C. Kimlik Numaranızı, Adınızı, Soyadınızı, Salon Numaranızı ve Sıra Numaranızı, Soru Kitapçığı üzerindeki ilgili alanlara yazınız.
2. Soru Kitapçık Numaranız yukarıda verilmiştir. Bu numarayı cevap kâğıdınızdaki ilgili alana kodlayınız ve aşağıdaki ilgili alanı imzalayınız. Salon görevlisinin de hem soru kitapçığınızdaki hem de cevap kâğıdınızdaki ilgili alanı imzalamasını sağlayınız. Bu kodlamayı cevap kâğıdınıza yapmadığınız veya yanlış yaptığınız takdirde, sınavınızın değerlendirilmesi mümkün değildir.
3. Bu sayfanın arkasında yer alan açıklamayı dikkatle okuyunuz.

Adayın imzası:

Soru kitapçık numarasını doğru kodladım.

Salon görevlisinin imzası:

Adayın soru kitapçık numarasını cevap kâğıdına doğru kodladığını onaylıyorum.

AÇIKLAMA

1. Bu kitapçıkta Kamu Personel Seçme Sınavı Genel Yetenek Testi ve Genel Kültür Testi bulunmaktadır.
2. Bu testler için verilen toplam cevaplama süresi **120 dakikadır (2 saat)**.
3. Genel Yetenek Testi ve Genel Kültür Testinin her birinde **60 soru** vardır.
4. Bu kitapçıkta testlerde yer alan her sorunun sadece bir doğru cevabı vardır. Bir soru için birden çok cevap yeri işaretlenmişse o soru yanlış cevaplanmış sayılacaktır.
5. İşaretlediğiniz bir cevabı değiştirmek istediğinizde, silme işlemini çok iyi yapmanız gerektiğini unutmayınız.
6. Bu testler puanlanırken her testteki doğru cevaplarınızın sayısından yanlış cevaplarınızın sayısının dörtte biri düşülecek ve kalan sayı o testle ilgili ham puanınız olacaktır. Bu nedenle, hakkında hiçbir fikriniz olmayan soruları boş bırakınız. Ancak, soruda verilen seçeneklerden birkaçını eleyebiliyorsanız kalanlar arasında doğru cevabı kestirmeye çalışmanız yararınıza olabilir.
7. Sınavda uyulacak diğer kurallar bu kitapçığın arka kapağında belirtilmiştir.

1. Bu testte 60 soru vardır.

2. Cevaplarınızı, cevap kâğıdının Genel Yetenek Testi için ayrılan kısmına işaretleyiniz.

1. Hem bir yolculuğa çıkacaksın hem de elinde bir harita, pusula olmayacak! Yolun sonu nereye varıyor bilmeyeceksin, olacak iş mi bu? İşte böylesi durumlarda sorarsın bir yazar olarak senden öncekilere: "Niçin çıktın yola? Niçin kaldın yarı yolda?" ya da "Nasıl vardın, varmayı düşlediğin noktaya?"

Bu parçada geçen "elinde bir harita, pusula olmama" sözüyle yazarlarla ilgili olarak anlatılmak istenen aşağıdakilerden hangisidir?

- A) Gerçekçi ve gözlemci bir anlatımı yeğlememe
B) Okurların yaşamını zenginleştirecek bir amaca yönelmeme
C) Deneyimli yazarların birikiminden yararlanmama
D) Yapıtlarını oluştururken değişik alanların verilerini kullanma
E) Yapıtlarını, okurların ilgi ve beklentileri doğrultusunda oluşturma

2. (I) Her sabah sokağa çıktığımda "İstanbul'da yaşadığım için ne kadar şanslıyım!" diyorum. (II) Belki her gün pek çok sorunla yüz yüze geldiğiniz için bana karşı çıkacaksınız. (III) Ama beni, okumak kadar besleyen, benim için başlı başına bir kitaplık değeri taşıyan kenttir İstanbul. (IV) Ancak bir yandan da içim acıyor İstanbul için. (V) Çözülmeyen ve çözülemeyecek gibi görünen sorunları yüzünden değil bu. (VI) Eşine az rastlanır güzelliğe, ruha sahip yüzlerce yıllık bu kentin yakın tarihini ortaya koyan "özellikli" sokakları birer birer yok olduğu için...

Bu parçada, I. cümlede öne sürülen düşüncenin gerekçesi, numaralanmış cümlelerin hangisinde belirtilmiştir?

- A) II. B) III. C) IV. D) V. E) VI.

3. (I) Ankara'da köpek balıklarıyla yüzmek ister misiniz? (II) "Ankara", "köpek balığı" ve "yüzmek" sözcükleri ancak bir şakada yan yana gelebilir, deyip ciddiye almamazlık etmeyin bu soruyu. (III) Ankara'da yeni açılan devasa akvaryumdan söz ediyorum. (IV) Türkiye'nin bu en büyük akvaryumunda 12 bin balık yaşıyor. (V) Bugüne kadar balıkla ilişkisi tava ve ızgarayla sınırlı olan Ankaralıları için alışılmadık bir yer...

Bu parçadaki numaralanmış cümlelerle ilgili olarak aşağıda verilenlerden hangisi yanlıştır?

- A) I'ncide, merak uyandırılmaya çalışılmıştır.
B) II'ncide, uyarıda bulunulmuştur.
C) III'üncüde, açıklama yapılmıştır.
D) IV'üncüde, kanıtlanabilir veri kullanılmıştır.
E) V'incide, kesinlik belirtilmiştir.

4. (I) Romanlarımda karakterleri oluştururken çok sıkıntı çekerim. (II) Okuyucunun kabulleneceği ve onun belleğinde iz bırakacak kişiler oluşturmak benim için çok önemli. (III) Bu, tarihî bir roman olduğu için karakterlerinin çoğu, bilinen kişiler. (IV) Dolayısıyla benim fazla katkı olmadan sayfalarındaki yerlerini aldılar. (V) Tanınmamış olanlarla yeni oluşturduğlarımız ise bilinen karakterlerle boy ölçüşecek kadar canlıdır.

Roman karakterlerini konu alan bu parçadaki numaralanmış cümlelerle ilgili olarak aşağıda verilenlerden hangisi yanlıştır?

- A) I'ncide, oluştururken güçlükle karşılaşıldığından söz edilmiştir.
B) II'ncide, hangi nitelikleri taşımasının amaçlandığı belirtilmiştir.
C) III'üncüde, söz konusu yapının türü ve kimi özellikleriyle ilgili bilgi verilmiştir.
D) IV'üncüde, önceki cümlede belirtilen nitelikleri taşıyanların oluşturuluşuyla ilgili açıklama yapılmıştır.
E) V'incide, sözü edilen yapıttakilerin başka yapıtlardankinden üstün nitelikli olduğuna değinilmiştir.

5. (I) Derin bir uykunun ardından gözlerimi açtığımda beliren o ilk görüntüleri hayal meyal hatırlıyorum şimdi. (II) Başımın üstünde asılı duran cibinlik, yatak odasının tahta tavanında dolaşan küçük, sevimli, pembe kertenkeleler, günün ilk ışıkları ile parıldaayan Seyhan Irmağı hızla geçip gidiyor gözümün önünden. (III) Yastığımın altına koyduğum, giymeye kıyamadığım yeni iskarpinlerimi şefkatle okşadıktan sonra çoraplarımı ayağıma aceleyle geçirip aşağıya iniyorum. (IV) Kahvaltı masasında reçeller, peynirler ve annemin kızarttığı ekmekler duruyor. (V) Bahçeye açılan kapıdan dışarı çıkıyorum, limon ve mandalina ağaçlarının yeşil serinliğini hissediyorum.

Bu parçadaki numaralanmış cümlelerin hangisinde öznel söz konusu değildir?

- A) I. B) II. C) III. D) IV. E) V.

6. Antoninler Çeşmesi; MS 161-180 yılları arasında, Roma İmparatorluğu'nun görkemli kenti I Sagalassos'ta yapıldı. Sonra şiddetli bir depremle II yıkıldı ve efsaneler arasındaki yerini III aldı. Neredeyse 1800 yıl sonra, 1994 yılında Sagalassos Antik Kenti'nde yapılan IV heyecan verici kazılarda V bu olağanüstü çeşmenin parçaları yeniden gün ışığına kavuştu.

Bu parçadaki numaralanmış sözcüklerden hangisini niteleyen bir söz kullanılmamıştır?

- A) I. B) II. C) III. D) IV. E) V.

7. "Gerçek nedir?" diye sormuşlar bir bilgeye. "Hiçbir yalanı kaldırmayan şey." karşılığını vermiş. Tıpkı sanat gibi...

Bu parçadaki numaralanmış sözcüklerle ilgili olarak aşağıda verilenlerden hangisi yanlıştır?

- A) I'inci, zamir olarak kullanılmıştır.
B) II'nci, sayı sıfatı olarak kullanılmıştır.
C) III'üncü, ad olarak kullanılmıştır.
D) IV'üncü, zarftır.
E) V'inci, edattır.

8. (I) Aile apartmanıydı bizimki, anneannem de üst katımızda otururdu. (II) Salondaki üç televizyonu hiç kapatmadan izleyen tam bir dizi tutkunuydu. (III) İki diziyi aynı anda izler, hiçbir ayrıntıyı kaçırmaz, bir de her birine yorum yapardı hepimizin şaşkın bakışları arasında. (IV) Bir diğer tutkusu ise yemek pişirmektir. (V) Ben de sık sık yanına gider, getir götür işlerinde ona yardım ederdim. (VI) Sanırım sofra sanatına ve yemeklere duyduğum ilgi o zamanlar başladı.

Bu parçadaki numaralanmış cümlelerden hangisinin yüklemi, yardımcı eylemle kurulmuş birleşik eylemdir?

- A) II. B) III. C) IV. D) V. E) VI.

9. Aşağıdakilerin hangisinde altı çizili sözcükler tür bakımından birbirinden farklıdır?

- A) Çocuğun kapıyı açması ile kapatması bir oldu. Buraya, "danışma"dan alınan elektronik kart ile girilebiliyor.
- B) Toplantıdan önce o raporu okudunuz mu? Bu havada dışarıya paltosuz mu çıkıyorsunuz?
- C) O, her zaman günün modasına göre giyinir. Geçerken bizi fark etmediğine göre kafası meşgul olmalı.
- D) Senin bu iyiliklerini ölsem de unutmam. Ona böyle sözler söylemen hiç de yakışık almadı.
- E) Aradığın bilgiyi ancak bu kitapta bulabilirsin. Bu tür yiyecekleri ancak sağlıklı insanlar yiyebilir.

10. (I) Her sanatçının bir dünyası vardır. (II) Bu dünya kendine özgüdür; çeşitli olaylarla, görüntülerle, gözlemlerle ve yaşantılarla örülmüştür. (III) Bunlar, onun duygu ve düş dünyasında işlenerek çeşitli ürünlere dönüşür. (IV) Yani, sanatçının dünyasından süzülenler, sanat yapıtı biçiminde insanlığın karşısına çıkar. (V) Söz gelimi edebiyatta şiir, öykü, roman gibi biçimlerde okurla buluşur.

Bu parçadaki numaralanmış cümlelerle ilgili olarak aşağıda verilenlerden hangisi yanlıştır?

- A) I'inci, ad cümlesidir.
- B) II'nci, sıralı cümledir.
- C) III'üncü, biçimce ve anlamca olumludur.
- D) IV'üncü, bileşik yapıdır.
- E) V'inci, ara söz içermektedir.

11. Aşağıdaki cümlelerden hangisinin yüklemde çatı özellikleri aranmaz?

- A) Dün eve iki kez uğradığını söyledi.
- B) Senin, bu işi de yarım bırakacağın belliydi.
- C) Uçağa binerken telefonunu kapatmıştı.
- D) Bence onun ne demek istediği anlaşılmadı.
- E) Diktiğim elbiseyi denemek için bugün yine gelecekti.

12. İskenderiye I Mısır'da var olmuş tüm uygarlıkların

izlerini taşıyan bir kenttir. Mısır kadar yaşlı II onun

kadar derin ve onun kadar gizemlidir burası III

Kentin havası, tüm kural tanımaz Akdenizli kibrine

karşın bir o kadar içten IV bir o kadar sıcak.

Ortasındaysa masmavi gökyüzünden dökülen

güneşle ışıldayan bir meydan V Ramle Meydanı.

Bu parçadaki numaralanmış noktalama işaretlerinden hangisi yanlış kullanılmıştır?

- A) I. B) II. C) III. D) IV. E) V.

13. İnsan her gün hoş bir şarkı dinlemeli, iyi bir şiir

okumalı, güzel bir resme bakmalı ve aklıbaşında

birkaç güzel söz söylemelidir ki günlük yaşamın

koşturmacası çinde estetik duyarlılığını kaybetmesin.

Bu parçadaki numaralanmış sözlerden hangisinin yazımı yanlıştır?

- A) I. B) II. C) III. D) IV. E) V.

14. Aşağıdaki cümlelerin hangisinde bir anlatım bozukluğu vardır?

- A) Bu akşam sinemaya değil, tiyatroya gideceklermiş.
B) Hem işinin çok olduğunu söylüyor hem de bomboş oturuyor.
C) Açılış törenine kimlerin katılacağı belli olmuş.
D) Sabah yürüyüşünüzü, kahvaltıdan önce yapın.
E) Artan yemeklerinizi çöpe değil, sokak hayvanlarına verin.

15. (I) Bu tarihî yerleşimde bulunan anıt figürlerinin diğer Mezopotomya dinlerinde kullanılan sembollerle benzerlik taşıması beni çok etkilemiştir. (II) Örneğin Babil, Sümer ve Asur dinlerinin en çok bilinen sembolü öküz başıdır. (III) Bu dinlere özgü figürler arasında hilal şeklindeki "Ay Tanrısı" da çok yaygındır. (IV) Burada, en büyük iki taşa bakınca birinde öküz başı, diğerinde hilal vardı. (V) Bunun, Mezopotomya'daki dinî gelenekle buradaki arasında bir bağ oluşturduğunu düşünüyorum.

Bu parçadaki numaralanmış cümlelerin hangisinde bir anlatım bozukluğu vardır?

- A) I. B) II. C) III. D) IV. E) V.

16. (I) Tire'de, anlatılacak o kadar çok şey var ki bunları önce bir sıraya koymak gerekir. (II) Örneğin işe Tire'nin eski hâliyle başlamak iyi olur, eski sokaklar gerçekten görülmeye değer. (III) Çınarlar, kavaklar, zeytinler, çamlar; Güre Dağları'na yaslanmış dar sokakları dallarının altına saklamış. (IV) Sokaklar ve evler kadar yaşlı bu ağaçlar, asırlar boyu gölgelerini buradan esirgememiş. (V) Tire'ye bu yıl baharda gittiğim için oranın güzelliklerini daha iyi görebildim. (VI) Papatyalar tepeleri kaplamıştı; uzaktan, ağaçların altına kar yağmış gibi görünüyordu. (VII) Meyve ağaçları da dallarını renk renk çiçeklerle süslemişti yani doğa, varını yoğunu ortaya dökmüştü. (VIII) Boyları neredeyse belime gelen papatyaların arasına uzanıp 10-15 dakikalığına da olsa dünyanın kargaşasından uzaklaştım.

Bu parça iki paragrafa ayrılmak istense ikinci paragraf hangi cümleyle başlar?

- A) III. B) IV. C) V. D) VI. E) VII.

17. Her şeyi göze alanlar, aysız bir gece vakti yalnız kabı kacağı, taşı tarağı, yatağı yorganı değil; ellerindeki nasırı, soludukları dağ kokusunu, içlerindeki sesleri, dedelerinin anlattıkları göç hikâyelerini, yaşayıp biriktirdikleri ne varsa güçleri yettiğince yüklediler kamyonu. Ama kamyonu yüklediklerinden daha çoktu geride bıraktıkları. İnsan ne kadarını sırtlanıp nereye kadar sürükleyebilirdi ki çocukluk vatanını?

Bu parçanın anlatımıyla ilgili olarak aşağıdakilerden hangisi söylenemez?

- A) Değişik duylara seslenen ayrıntılardan yararlanılmıştır.
B) Sayıp dökmelere yer verilmiştir.
C) Karşılaştırmaya başvurulmuştur.
D) Öyküleyici anlatım yeğlenmiştir.
E) Kişileştirme yapılmıştır.

18. Deneme türündeki yazılarda amaçlanan şu olmalıdır bence: Kesinlemelere girmeden okuru kendisiyle tartışmaya çağırmak. Okur bizimle aynı görüşte olmayabilir ama yazımızı okurken bir kuşku büyümeli içinde; o mu doğru yazıyor, yoksa ben mi en doğruyu biliyorum diye... Yazarlık yaşantımın en güzel övgülerinden biri sayarım genç bir okurumun bana söylediği şu sözü: "Her düşüncenize katılmıyorum ama yazınızı okurken sizinle tartışıyorum içimde." Ben bunu Melih Cevdet Anday'ın birbirinden seçkin altmış denemesini ardı ardına okurken yaşadım, bir okur olarak. O zaman anladım en başarılı yazarlar ----.

Bu parçanın sonuna düşüncenin akışına göre aşağıdakilerden hangisi getirilmelidir?

- A) okurları, kendisiyle karşılıklı olarak görüşlerini savunmaya davet edenlerdir
- B) düşüncelerini, kişisellikten çıkarıp topluma mal etme bilinci taşıyanlardır
- C) kişilere, kolay kolay değişmeyecek bir bakış açısı kazandırmayı ilke edinenlerdir
- D) en soyut gerçekleri bile somutlaştırarak vermeye çalışırlardır
- E) hemen her sözcüğünde dilin sıcaklığını hissettirenlerdir

19. **Gazeteci:**

(I) ----

Oyuncu:

– Bazı insanlar mükemmeliyetçidir. Bunun için başarılı olur, iyi işler çıkarırlar. Evet, oyunculuğa yönelişimin nedeni kimi zorunluluklardı. Ama mademki bu işi yapıyorum, en iyisini yapmalıyım dedim kendi kendime. Yıllar boyunca da bunun için çaba gösterdim. Böyle olmasam bu konuma gelemezdim. Ustalığı, şunu bunu kimse önemsemez. İşini iyi yaparsan bir sonraki filmde de rolü sen alırsın.

Gazeteci:

(II) ----

Oyuncu:

– Oyuncu olmak gibi bir düşüncem yoktu. Öyle gidip iş falan da istemedim. Yönetmen, bir oyuncu arıyormuş. Bir arkadaşım da onunla birlikte çalışıyordu. Kendisine benden bahsetmiş, ben de gittim. Böylelikle o ekipte yer aldım.

Gazetecinin bir oyuncuya yönelttiği aşağıdaki sözlerden hangisi yukarıda boş bırakılan yerlere sırasıyla getirilmelidir?

- A) (I) Bu işin eğitimi almadınız, buna karşın usta oyuncular arasında gösteriliyorsunuz.
(II) Planlı hareket etmemek hep tercih ettiğiniz bir yol mudur peki?
- B) (I) Titizlikten ödün vermeyen tutumunuzun sanatınıza yansımaları nasıl özetlersiniz?
(II) Bu rol için biçilmiş kaftan olarak düşünüldüğünüz doğru mu?
- C) (I) Rol aldığınız filmlerin bu kadar ilgi görmesinin nedeni nedir sizce?
(II) Yalnızca bu yönetmenle çalışmanızın bir nedeni var mı?
- D) (I) Oyunculuğa isteyerek başlamasanız da kısa zamanda büyük yol katettiniz.
(II) Yolunuz bu yönetmenle nasıl kesişti?
- E) (I) Hayatınızdaki kimi değişiklikler sonunda büyük bir heyecanla çalışma hayatına atıldınız.
(II) Roller size mi teklif edilir yoksa siz mi gidip yönetmenlerden rol istersiniz?

20. (I) "Critical Mass" sözünü hiç duydunuz mu? (II) Türkçe'de "kayda değer çoğunluk" anlamına geliyor ama aslında, katılımcıları bisikletliler olan küresel bir etkinliğin adı. (III) İstanbul da gerçekleştirildiği kentlerden biri ancak bizde katılımcılar her ayın son cumartesi günü bir araya geliyorlar. (IV) Mevsime göre onlarca bisikletli öğleden sonra Göztepe Parkı'nda buluşuyor, sonra Bağdat Caddesi'nde trafiğe çıkıyor. (V) Motorlu taşıtlar için sadece bir şerit bırakılıyor, geri kalanını ise bisikletliler işgal ediyor. (VI) Grup, zillerini çalarak şenlikli bir hava içinde Kadıköy'e ilerliyor ve güzel bir cumartesi geçiriyor.

Bu parçadaki numaralanmış cümlelerin hangisinden sonra düşüncenin akışına göre, "Dünyanın üç yüzden fazla kentinde, genellikle her ayın son cuması düzenleniyor." cümlesi getirilebilir?

- A) I. B) II. C) III. D) IV. E) V.

21. İnsanoğlu uzun yıllar avcılık ve toplayıcılıkla hayatta kaldıktan sonra nasıl oldu da yerleşik hayata geçti ve çiftliğe başladı? Bu sorunun cevabının, iklim ve nüfus değişikliğiyle ilişkili olduğu düşünülüyordu. Bugüne kadarki tezler, on bin yıl önce başlayan tarımsal etkinliklerin, Neolitik devrimi tetiklediğini ve insanların avcılık ve toplayıcılıktan yerleşik düzene geçtiğini ileri sürüyordu. Bu anlayışa göre din de yerleşik hayatın ve çok sayıda insanın bir arada yaşamasının bir sonucu olarak ortaya çıkmıştı. Ancak Şanlıurfa yakınlarındaki Göbeklitepe kazıları bu teoriyi geçersiz kılıyor. Kazı sonuçları gösteriyor ki insanlar; yerleşmeden, tarıma başlamadan ve hayvanları evcilleştirmeden önce kapsamlı ve organize bir dine inanıyorlarmış.

Bu parçadan, aşağıdakilerin hangisi çıkarılabilir?

- A) Bilimsel bilginin yeni veriler ışığında değişebileceği
B) Sosyal bilimlerde varılan sonuçların göreceli olduğu
C) Bir dayanağı olmayan araştırma sonuçlarının inandırıcı olmadığı
D) Kimi konuların, bilimsel tartışmaların dışında kaldığı
E) İnsanlık tarihinde, bilinmeyenlerin bilinenlerden çok olduğu

22. Size içtenliğimizden söz edebilirim. Ticari kaygımız olmadığı için, istediğimiz gibi besteler yapma konusunda ısrarcı olduk. Bir başka niteliğimiz ise insana dair şarkılar yapmamız ve bir makama göre yapılmış müziği kendi tarzımızla yeniden üretmemizdir. Başlangıçta insanlar Doğu ve Batı enstrümanlarını bir araya getirmemizi yadırgadı. "Udla gitarın aynı şarkıda ne işi var?" dediler bize. Ne var ki başlattığımız bu sentez, 1990'lı yıllardan bugüne çoğalarak yaygınlaştı.

Bu sözler aşağıdaki sorulardan hangisine karşılık söylenmiş olabilir?

- A) Şarkılarınızın kabul görmesi için özel bir çaba harcadınız mı?
B) Varlığını hâlâ koruyan grubunuzu özel kılan sizce nedir?
C) Tarzınızı oluştururken neden klasik Türk müziğinden ilham almayı yeğlediniz?
D) İlk şarkılarınızla, müzik piyasasında bir devrim yaptığınıza inanıyor musunuz?
E) 1990'lı yıllarda genç müzisyenler tarzınızdan çok yararlandı, bunun size katkısı ne oldu?

23. Belki de "güzel sanatlar" sözünden, bu sanatların yalnızca dünyayı güzelmiş gibi göstermeye çalıştığı anlaşılabilir. Aslında sanatçının görevi, iletişimiyle dünyanın güzelleşmesine katkıda bulunmaktır. Bu yönde hareket eden sanatçı, bu işi ancak sanatın diliyle yaratacağı eleştirel bir bakışla yapabileceğinin de bilincinde olmalıdır. Tıpkı, ömrü boyunca barışı istemiş olan Picasso'nun; üslup denemelerine, yenilik arayışlarına kapılmayıp savaş karşıtı mesajlar veren Guernica'yı da yapmış olması gibi...

Bu parçada aşağıdaki sorulardan hangisinin cevabı vardır?

- A) Güzellik algısı niçin kişiden kişiye değişir?
B) Kullandığı dil; sanatçının, takipçisiyle ilişkisini nasıl etkiler?
C) Yeni anlatım yöntemleri kullanmak yapıta ne kazandırır?
D) Sanatçı, yapıtını oluştururken neye önem vermiştir?
E) Sanat yapıtının, gerçeği olduğu gibi yansıtmamasının sakıncası nedir?

24. Bence tarihî yapıtlar bulundukları ülkede kalmalı. İnsanlar da bu türden yapıtları görmek için oralara gitmeli, onları yerinde görmelidir. Yapıtların sahibi olan ülke; onların korunması, sergilenmesi ve gelecek kuşaklara aktarılabilmesi için gerekli önlemleri almalıdır. Yoksa ülkeler, tarihlerini koruma kültürlerini nasıl geliştirebilirler ki? Bundan yüz yıl önce değerli tarihî yapıtların, başka ülkelerdeki daha gelişmiş müzelerde tutulması gerektiği fikri belki geçerliydi ama artık kesinlikle değil.

Bu parçaya göre her tarihî yapıtın, bulunduğu topraklarda kalması niçin gereklidir?

- A) Ait olduğu uygarlığın özelliklerini yansıttığından
B) Ülke turizminin gelişimine katkısı olduğundan
C) Toplumlarda, kendi geçmişini yaşatma bilincinin oluşmasını sağladığından
D) Yapılış öykülerinin bilinmesini ve öğrenilmesini kolaylaştıracağından
E) Zaman içerisinde insanların konuya bakışı değiştiğinden
25. Yazma ve okuma konusunda maymun iştahlıyım. Hem sanat değeri taşıyan hem de kuramsal birden çok kitabı ayırım gözetmeksizin aynı anda okuyor ve farklı konulara kafa yoruyorum. Bu, yazdıklarıma da yansıyor. Hatta üzerinde çalıştığım öykülere ara verip bir süre sonra geri döndüğümde ilgim, farklı alanlara kaymış olabiliyor. Bu yüzden o öyküyü yazmaya devam edemiyorum; çoğu zaman bir başkasına geçiyorum. Bana göre, gerektiği biçimde bir roman yazmak ise o romanı besleyen konular üzerinde uzun uzadıya ve sistemli bir biçimde düşünmeyi gerektiriyor. Bunun için, farklı konu ya da düşünceleri işleme olanağı veren öykü türünde yazmak sanırım benim “düşünce oburu yapım” daha uygun.

Bu parçada yazar, aşağıdakilerin hangisine değinmemiştir?

- A) Okuduklarının etkisini öykülerine taşıdığına
B) Yazmada belirli bir tür üzerinde yoğunlaştığına
C) Okuma konusunda türsel bir seçim yapmadığına
D) Her zaman, aynı yapıt üzerinde onu bitirene kadar çalışmadığına
E) Yazdıklarıyla okurlarına yol göstermek istediğine

26. Arnavut kaldırımlı daracık sokakları, avlulu ve eyvanlı evleriyle geçmiş günümüze taşıyan bir ilçe Kula. Ahşap Kula evleri ise kapı tokmaklarından cumbalarına kadar görsel bir şölen sunuyor ziyaretçilerine. Kula'nın eski mahallelerinde geleneksel Türk ve Rum evleri yan yana görülüyor. Rum evlerini Türk evlerinden ayıran en önemli özellik, giriş kapısının sokağa açılması. Türk evlerine ise duvarlarla çevrili bir avludan geçilerek giriliyor. Tescilli 595 tarihî evin bulunduğu Kula'da; Zabunlar Konağı, Palanduz, Beyler, Gödeliler ve Tamburacılar Evi başta olmak üzere insanı hayran bırakan birçok yapı bulunuyor. Beyazoğlu Evi, kapı kemerindeki 1860 tarihli Bizans kartalı ve kalem işi süslemeleriyle dikkat çekici. Eski Zafer İlkokulu da aslında Damyon Efendi'nin konağıymış.

Bu parçada Kula evleriyle ilgili olarak aşağıdakilerden hangisine değinilmemiştir?

- A) Görenleri hangi yönüyle etkilediğine
B) Zamanın yıkıcı etkilerine
C) Yapımında kullanılan malzemeye
D) Üzerinde ne tür desenler bulunduğu
E) Değişik topluluklara ait olanların farkına
27. Yıllardır dergilerde öykü ve yazılarıyla yer almasına karşın yazdıklarının kitaplaşmasını uzun süre bekleyen bir yazar. İyi bir yazar olmanın öncelikle iyi bir “bekleyici” olmaktan geçtiğini bilen biri. Bu ilk kitabının kapak tasarımını kusursuz. Yetkin bir dille ve özenle insanın dünyasına eğilen, başkalarının görmezlikten geldiği kalp yaralarını şefkatli bir elin dokunuşu gibi işleyen; dostluğu, sevgiyi, insanı bir anda mutlu eden küçük ayrıntıları kendine has üslubuyla anlatan bir yapıt. Bu yönüyle okuyucuyu, kitabı uzun süre elinden bırakamayacağı bir zaman dilimine sürüklüyor. Sıradan insanların hayatlarındaki sıradan sorunları, yaşamsal kaygılarını öykülerine taşıırken sanatlı, süslü söyleyişlerden uzak duruyor.

Bu parçada, sözü edilen yazarla ilgili olarak aşağıdakilerden hangisine değinilmemiştir?

- A) İşini yaparken titizlik gösterdiğine
B) Okurunu derinlemesine etkilediğine
C) Duygusalığa önem verdiğine
D) Anlatımda yoğunluğu yeğlediğine
E) Günlük yaşamla ilgili incelikler üzerinde durduğuna

28. İnsan; yaşadıkça neyin gerçek, neyin yanılgı, neyin değerli, neyin değersiz olduğunu daha net görüyor. Yaşadıklarının, edindiğin deneyimlerin seni değiştirmesine izin verdiğin; empati kurabildiğin zaman daha mutlu ve huzurlu oluyorsun. Yaşama bakışımızın kalıcı mutluluk-taki payı, çok istediğimiz bir şeyi elde etmenin kısa süreli hazzından çok daha büyük. Kendimi en mutsuz hissettiğim zamanlar, içinde bulunduğum koşullara tek bir yönden baktığım zamanlardı örneğin. Şimdi ise bazı şeylerin istediğim gibi gerçekleşmeyeceğini anladığımda o konudaki beklentilerimi değiştirmeyi öğrendim. Amaçların peşinde koşmak hayata renk veriyor ama bir amaca "bağımlı" olmamayı öğrendiğinizde de mutluluk sizi bir yerlerde yakalıyor.

Aşağıdakilerden hangisi, bu parçanın yazarının vereceği öğütlerden biri olamaz?

- A) Bir alışkanlığından vazgeçmek istiyorsan işe, ondan bir süre uzak durarak başlayabilirsin.
- B) Karşındaki gibi düşünüp bu yolla onu anlamaya çalıştığında kendini daha iyi hissedebilirsin.
- C) Seni olumsuz yönde etkileyeceği düşüncesine vardığın isteklerinden vazgeçebilmeyi öğrenmelisin.
- D) Olayları, kendine özgü bir biçimde değerlendirebilmelisin.
- E) Tek bir noktaya odaklanarak onun, senin için olmazsa olmaz duruma gelmesine izin vermemelisin.

29. - 30. soruları aşağıdaki parçaya göre cevaplayınız.

(I) Sağladığı psikolojik etkiden yola çıkılarak, kendine güvenmenin bir yolu olduğu düşünülen dik oturuş, biyolojik olarak da oluşturduğu değişimle kişiyi hedefe yaklaştırıyor. (II) Yapılan araştırmalar; oturuşu değiştirmenin, liderlik konumuna yükselmeye etkili olduğunu ortaya koydu. (III) Öğrenciler üzerinde yapılan incelemelerde, gerçekten de oturuş dikleştikçe bazı hormonlarda değişim görüldü. (IV) Omuzların ve çenenin dikleştirilmesi, kolların rahat bırakılması, sırtın esnetilmesi; vücuttaki hormonal değerleri, liderlerde görülen hormon dengesiyle aynı düzeye taşıdı. (V) Bu da oturuşun ve vücut dili kullanımının, psikolojik bir taktik olmanın yanında biyokimyasal bir etki de oluşturduğunu gösterdi. ----.

29. Bu parçadaki numaralanmış cümlelerin hangisinde bir çıkarım yapılmıştır?

- A) I. B) II. C) III. D) IV. E) V.

30. Bu parçanın sonuna, düşüncenin akışına göre aşağıdakilerden hangisi getirilemez?

- A) Araştırmayı yapan uzmanlar, bir görüşme ya da sunum öncesinde güçlü bir duruş sergilemenin, görüşme boyunca performansı yüksek tutacağını belirtiyor
- B) Hâlbuki insanın, yalnızca kendine inanarak bile çok şey başarabileceği düşüncesi, kısa bir zaman öncesine kadar dikkate alınmıyordu
- C) Araştırmacılara göre, elde edilen verilerin güvenilirliği konusunda şüphe duymak mümkün ama sonuçlar gerçekten incelenmeye değer
- D) Bütün bunlar gösteriyor ki bireyin kendine güvenmesi yalnızca dış etkenlere bağlı değil; kendisini nasıl yönettiğinin de bunda büyük payı var
- E) Sosyal yaşamda sağlayacağı yararları henüz bilmediğimiz daha nice yol var ve keşfedilmeyi bekliyor belki de

31.

$$2^{-6}(2^3 + 2^4 + 2^5)$$

işleminin sonucu kaçtır?

A) $\frac{3}{4}$

B) $\frac{5}{4}$

C) $\frac{5}{8}$

D) $\frac{7}{8}$

E) $\frac{9}{16}$

32.

$$\left(1 + \frac{1}{15}\right)\left(\frac{5}{8} - \frac{3}{4} + \frac{1}{2}\right)$$

işleminin sonucu kaçtır?

A) $\frac{4}{3}$

B) $\frac{2}{5}$

C) $\frac{3}{5}$

D) $\frac{7}{6}$

E) $\frac{11}{6}$

33.

$$\frac{\sqrt{0,4 - 0,04}}{\sqrt{0,9 - 0,09}}$$

işleminin sonucu kaçtır?

A) $\frac{1}{2}$

B) $\frac{1}{3}$

C) $\frac{2}{3}$

D) $\frac{2}{9}$

E) $\frac{4}{9}$

34.

$$\frac{7 \cdot 7! - 6!}{5 \cdot 5! - 4!}$$

işleminin sonucu kaçtır?

A) 84

B) 80

C) 72

D) 64

E) 60

35.

$$\frac{6(\sqrt{3}-1)}{3-\sqrt{3}}$$

işleminin sonucu kaçtır?

- A) $2\sqrt{3}$ B) $4\sqrt{3}$ C) $6\sqrt{3}$
D) $\sqrt{6}$ E) $3\sqrt{6}$

36. Sayı doğrusu üzerinde, 2 noktasına eşit uzaklıkta olan iki farklı sayının çarpımı $\frac{32}{9}$ olduğuna göre, büyük sayı küçük sayıdan kaç fazladır?

- A) $\frac{1}{3}$ B) $\frac{4}{3}$ C) $\frac{4}{5}$
D) $\frac{6}{5}$ E) $\frac{6}{7}$

37. x ve y gerçel sayıları

$$0 < y < 1$$

$$|x| < y$$

eşitsizliklerini sağladığına göre,

- I. $x > 0$
II. $x \cdot y < 1$
III. $x^2 < y^2$

ifadelerinden hangileri her zaman doğrudur?

- A) Yalnız I B) Yalnız II C) Yalnız III
D) I ve II E) II ve III

38. Z tam sayılar kümesi olmak üzere,

$$A = \{x \in Z : x^2 < 2\}$$

$$B = \{x \in Z : x^2 < 18\}$$

kümeleri veriliyor.

Buna göre, $B \setminus A$ fark kümesinin eleman sayısı kaçtır?

- A) 4 B) 5 C) 6 D) 7 E) 8

39.

$$(x + y + 2)(x + y - 2) = 2xy$$

olduğuna göre, $x^2 + y^2$ ifadesinin değeri kaçtır?

- A) 2 B) 4 C) 5 D) 6 E) 8

40. x , y ve z ardışık çift doğal sayıları

$$x < y < z$$

$$2 \cdot y = 5(z - x)$$

koşullarını sağlamaktadır.

Buna göre, $x + y + z$ toplamı kaçtır?

- A) 30 B) 36 C) 48 D) 54 E) 60

41.

$$2^{x-1} = a$$

$$3^{x+1} = b$$

$$6^x = 18$$

olduğuna göre, $a \cdot b$ çarpımı kaçtır?

- A) 15 B) 18 C) 20 D) 24 E) 27

42. Gerçek sayılar kümesi üzerinde bir f fonksiyonu

$$f\left(\frac{x}{2}\right) = \frac{x^2}{4} + x + 1$$

biçiminde tanımlanıyor.

Buna göre, $f(a) = 0$ eşitliğini sağlayan a değeri kaçtır?

- A) $\frac{1}{2}$ B) $\frac{3}{2}$ C) $\frac{-1}{4}$
D) -1 E) -3

43. Ahmet x yılında, Mehmet ise y yılında doğmuştur.

Ahmet'in yaşı Mehmet'in yaşının 2 katı olduğuna göre, bu iki kişinin yaşları toplamının x ve y türünden ifadesi aşağıdakilerden hangisidir?

- A) $x - y$ B) $y - x$ C) $2(y - x)$
D) $3(y - x)$ E) $4(x - y)$

44. Bir iş yerinde, beşer kişinin çalıştığı A ve B odaları vardır. Her bir odanın yaş ortalaması 36'dır. A odasında çalışan Tolga, B odasına taşındığında; A odasının yaş ortalaması, B odasının yaş ortalamasından 5 fazla oluyor.

Buna göre, Tolga'nın yaşı kaçtır?

- A) 24 B) 25 C) 26 D) 28 E) 30

45. Meşrubat satan bir büfeci; elinde bulunan bir miktar portakal suyunun yarısını 0,5 litrelik, kalan yarısını ise 1 litrelik şişelere doldurmuştur.

Büfeci toplam 48 şişeyi tam doldurduğuna göre, başlangıçta büfecinin elinde kaç litre portakal suyu vardı?

- A) 24 B) 28 C) 30 D) 32 E) 36

46. 6 sporcunun katıldığı ve her sporcunun farklı dereceler aldığı bir tenis turnuvasında ilk 3 derece kaç farklı şekilde oluşabilir?

- A) 60 B) 120 C) 240 D) 360 E) 720

47. Emre, maaşının % 70'ini harcadığında kalan maaşı aylık ev kirasının % 80'ini karşılamaktadır.

Evin aylık kirası 1600 olduğuna göre, Emre'nin maaşı kaç TL'dir?

A) 1600 B) 1800 C) 2000 D) 2100 E) 2400

48. Bir sinyalizasyon sisteminde; A lambası $\frac{1}{2}$,

B lambası $\frac{2}{3}$ ve C lambası $\frac{3}{5}$ dakikalık aralıklarla yanmaktadır.

Bu üç lamba, birlikte yandıktan kaç dakika sonra ilk kez tekrar birlikte yanar?

A) 2 B) 3 C) 4 D) 5 E) 6

49. A kentinden yola çıkan bir kurye, saatte 60 km hızla giderek 9 saatte B kentine ulaşmayı hedeflemektedir. Bu hızla 4 saat yol alan kurye, yol çalışması nedeniyle 2 saat boyunca yolda beklemek zorunda kalmıştır.

Buna göre kurye, hedeflediği zamanda B kentine ulaşmak için yolun kalan kısmında saatte kaç km hızla gitmelidir?

A) 75 B) 90 C) 100 D) 105 E) 120

50. Bir sinema salonunda bulunan 50 koltuğun bir kısmı mavi, kalan kısmı ise kırmızı renktedir. Boş salona gelen 10 kişilik bir seyirci grubunun yarısı mavi, yarısı kırmızı koltuklara oturduğunda boş olan mavi koltuk sayısı, boş olan kırmızı koltuk sayısının 4 katı oluyor.

Buna göre, bu salonda kaç tane mavi koltuk vardır?

A) 33 B) 34 C) 37 D) 38 E) 40

51. Bir çiçekçi, içerisinde güllerin ve lalelerin bulunduğu 2 tane buket düzenlemiştir. Bu buketlerdeki çiçek sayıları ile ilgili aşağıdakiler bilinmektedir:

- 1. buketteki güllerin sayısı, lalelerin sayısının 2 katıdır.
- 2. buketteki güllerin sayısı, lalelerin sayısının 3 katıdır.
- 1. buketteki lalelerin sayısı, 2. buketteki lalelerin sayısının 2 katıdır.

Bu iki bukette toplam 30 çiçek bulunduğuna göre, 2. buketteki çiçek sayısı kaçtır?

- A) 9 B) 12 C) 15 D) 18 E) 21

52. Aşağıdaki tabloda, A ve B sürücü kurslarının teorik ve direksiyon dersleri için belirlediği ücret tarifesi verilmiştir.

Dersler	A sürücü kursu	B sürücü kursu
Teorik	Toplam ₺420	Toplam ₺250
Direksiyon	İlk 10 saat ücretsiz Sonraki her saat için ₺10	Saati ₺15

Teorik dersleri almanın zorunlu olduğu bu iki sürücü kursundan A kursuna giden Ayhan ile B kursuna giden Burcu eşit süre direksiyon dersi almış ve kurslara teorik ve direksiyon dersleri için toplamda aynı miktar ücret ödemişlerdir.

Buna göre, bu iki kursiyer kaç saat direksiyon dersi almıştır?

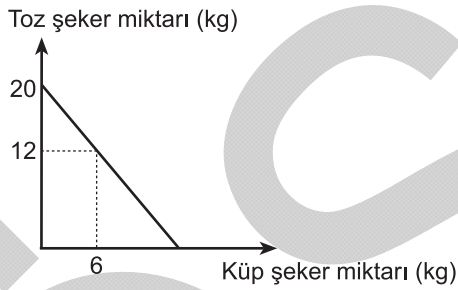
- A) 11 B) 13 C) 14 D) 16 E) 17

53. Bir oto galerisinde çalışanlar, sattıkları her bir otomobil için sabit bir prim almaktadır. Ocak ayında; bu galeri çalışanlarından Cenk, Barış'ın 3 katı kadar otomobil satmış ve bu iki çalışan toplam ₺2400 prim almıştır. Barış aynı ay içerisinde 6 otomobil daha satmış olsaydı Cenk ile aynı miktarda prim alacaktı.

Bu galeride çalışanlar, sattıkları her bir otomobil için kaç TL prim almaktadır?

- A) 300 B) 270 C) 240 D) 200 E) 150

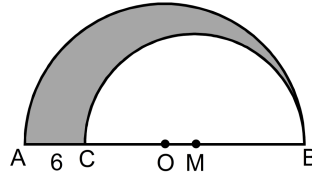
54. Aşağıdaki doğrusal grafikte, bir bakkalın elinde bulunan 45TL'nin tamamıyla alabileceği toz ve küp şeker miktarları arasındaki ilişki verilmiştir.



Buna göre bu bakkal, küp şekerin kilogramını kaç TL'den almaktadır?

- A) 2,5 B) 3 C) 3,5 D) 4 E) 4,5

55.



O merkezli $[AB]$ çaplı
yarım çember

M merkezli $[CB]$ çaplı
yarım çember

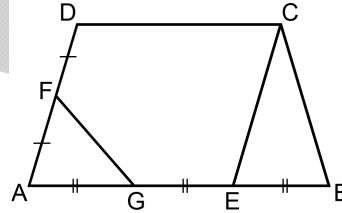
$|AC| = 6$ birim

Şekildeki O ve M merkezli yarım çemberler arasında kalan boyalı bölgenin alanı 33π birim karedir.

Buna göre, bu iki yarım çemberin yarıçapları toplamı kaç birimdir?

- A) 15 B) 17 C) 18 D) 21 E) 22

56.



$DC \parallel AB$

$DA \parallel CE$

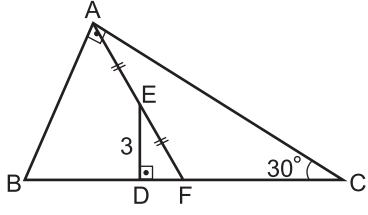
$|DF| = |FA|$

$|AG| = |GE| = |EB|$

Yukarıdaki verilere göre, $\frac{A(AGF)}{A(ABCD)}$ oranı kaçtır?

- A) $\frac{1}{6}$ B) $\frac{1}{8}$ C) $\frac{1}{9}$
D) $\frac{1}{10}$ E) $\frac{1}{12}$

57.



ABC bir dik üçgen

$$m(\widehat{BCA}) = 30^\circ$$

$$BA \perp AC$$

$$ED \perp BC$$

$$|AE| = |EF|$$

$$|ED| = 3 \text{ cm}$$

Şekildeki ABC dik üçgeninde $[AF]$ kenarortaydır.

Buna göre, $|BD|$ uzunluğu kaç cm'dir?

A) 3

B) 5

C) 6

D) $2\sqrt{3}$ E) $3\sqrt{3}$

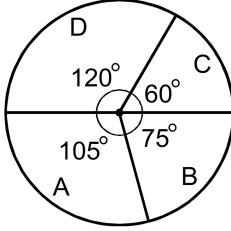
58. - 60. soruları aşağıdaki bilgilere göre cevaplayınız.

A, B, C ve D sınıfları bulunan bir anaokulunda, 2010 ve 2011 yıllarındaki öğrenci sayıları ile ilgili bazı bilgiler verilmiştir.

- Bu anaokulunda 2010 ve 2011 yıllarındaki toplam öğrenci sayısı değişmemiştir.
- 2010 yılında B sınıfındaki öğrenci sayısı, toplam öğrenci sayısının altıda biridir.
- 2011 yılında sınıflardaki öğrenci sayılarının 2010 yılındakine göre değişim tablosu aşağıda verilmiştir.

	A	B	C	D
Öğrenci sayısı değişimi	-10	+5	-5	+10

- 2011 yılındaki öğrencilerin sınıflara göre dağılımının daire grafiği ise aşağıda verilmiştir.



58. 2011 yılında A ve B sınıflarındaki toplam öğrenci sayısının 2010 yılına göre değişimiyle ilgili olarak aşağıdakilerden hangisi doğrudur?

- A) 5 artmıştır. B) 10 artmıştır.
C) 5 azalmıştır. D) 10 azalmıştır.
E) Değişim olmamıştır.

59. 2010 yılında C sınıfındaki öğrenci sayısı kaçtır?

- A) 25 B) 30 C) 35 D) 40 E) 45

60. 2010 yılındaki öğrencilerin sınıflara göre dağılımı bir daire grafiği ile gösterildiğinde D sınıfına karşılık gelen merkez açısının ölçüsü kaç derece olur?

- A) 75 B) 80 C) 90 D) 105 E) 110

1. Bu testte 60 soru vardır.

2. Cevaplarınızı, cevap kâğıdının Genel Kültür Testi için ayrılan kısmına işaretleyiniz.

1. Eski Türk devletlerinde hükümdara, yönetme yetkisinin Tanrı tarafından verildiğine inanılmıştır.

Aşağıdakilerden hangisi, İslamiyet'ten önce kurulan Türk devletlerinde bu yetkiye verilen addır?

- A) Şad B) Kut C) Tekin
D) Toy E) Balbal

2. Satuk Buğra Han, amcası Oğulcak Kadir Han devletin başındayken İslamiyet'i benimsemiş, amcasından sonra hükümdar olunca da İslamiyet'i resmî din olarak kabul etmiştir.

Bu bilgiyle Karahanlılarda,

- I. devleti yönetme yetkisinin hanedana ait olduğu,
II. İslamiyet'in Türkler arasında yayılmasının hızlandığı,
III. Arapçanın resmî dil olarak kabul edildiği

yargılarından hangilerine ulaşılabilir?

- A) Yalnız I B) Yalnız II C) Yalnız III
D) I ve II E) I, II ve III

3. **Batman'daki Malabadi Köprüsü ve Mardin'deki Hatuniye Medresesi, aşağıdaki Türk devletlerinden hangisinin egemenliği dönemine aittir?**

- A) Artuklular B) Mengücekliler
C) Danişmentliler D) Saltuklular
E) Anadolu Selçukluları

4. **Aşağıdakilerden hangisinin, Osmanlı Devleti'nde ticareti geliştirmek ve ticaret yollarında güvenliği sağlamak amacıyla yapıldığı savunulamaz?**

- A) Menziller B) Derbentler
C) Dârülkuralar D) Bedestenler
E) Kervansaraylar

- 5.

- I. Şer'i hukuk kuralları
II. Eski Türk gelenekleri
III. Fethedilen bölgelerde daha önceki uygulamalar

Osmanlı Devleti'nin hukuk sisteminde yukarıdakilerden hangileri etkin olmuştur?

- A) Yalnız I B) Yalnız II C) Yalnız III
D) I ve II E) I, II ve III

6. **Aşağıdakilerden hangisi, Osmanlı timar sistemine göre dirlik sahibinin görevlerinden biri değildir?**

- A) Kapıkulu askerlerine ulufe dağıtmak
B) Dirlüğindeki vergileri toplamak
C) Bulunduğu bölgenin güvenliğini sağlamak
D) Bölgesinde üretimi artıracak tedbirler almak
E) Savaş zamanı cebelü denilen askerleriyle orduya katılmak

7. Osmanlı Devleti'nde,

- I. askerî eğitim sisteminde yenileşmeler,
- II. bürokraside düzenlemeler,
- III. Enderun mektebinin kurulması çalışmaları

uygulamalarından hangilerinin, modernleşmeye yönelik olduğu savunulabilir?

- A) Yalnız I B) Yalnız II C) Yalnız III
D) I ve II E) I, II ve III

8. Osmanlı Devleti'nde 23 Aralık 1876 tarihinde Kanunuesasi'nin ilan edilmesiyle başlayan dönemle ilgili olarak aşağıdakilerden hangisi söylenemez?

- A) Padişaha karşı sorumlu bir hükûmetin kurulduğu
B) Anayasal düzene geçildiği
C) Parlamentolu siyasi hayatın başladığı
D) Halkın, yönetime kısıtlı olarak katıldığı
E) Devletin teokratik yapısının sona erdiği

9. Aşağıdakilerden hangisi, İttihat ve Terakki Partisinin millî ekonomi oluşturma çabaları arasında gösterilemez?

- A) Kapitülasyonları 1914'te tek taraflı kaldırma girişiminde bulunulması
B) Tarıma destek amacıyla Ziraat Bankasının kurulması
C) Yabancı şirketlere belirli sayıda Türk çalıştırma zorunluluğu getirilmesi
D) Halkın yerli malı kullanmaya teşvik edilmesi
E) Gümrük tarifelerinin yükseltilmesi

10. Mustafa Kemal Paşa'nın Mondros Ateşkes Anlaşması'ndan sonra İstanbul'a gelerek düşüncelerini yaymak için Fethi Bey'le birlikte çıkardığı gazete aşağıdakilerden hangisidir?

- A) Tasvir-i Efkar B) Yenigün
C) Minber D) İkdâm
E) Hakimiyet-i Milliye

11. Kuvayimillîye birlikleriyle ilgili olarak aşağıdakilerden hangisi söylenemez?

- A) Bazı yerel isyanların bastırılmasında etkili olduğu
B) İşgallere karşı halkın tepkisi sonucu oluştuğu
C) Düşman ilerleyişini yavaşlattığı
D) Doğu cephesinde etkin rol oynadığı
E) Bölgesel mahiyette olduğu

12. Aşağıdakilerden hangisi, Erzurum Kongresi'nin toplanmasının nedenlerinden biri değildir?

- A) İstanbul'un, Anlaşma Devletleri tarafından resmen işgal edilmesi
B) Doğu Anadolu'nun Ermenilere verilmesi olasılığı
C) Pontus Rum Devleti kurulması amacıyla girişilen faaliyetler
D) Anlaşma Devletlerinin Osmanlı Devleti'nin kimi bölgelerini işgal etmesi
E) Erzurum ve Trabzon'da kurulan cemiyetlerin birleştirilmek istenmesi

13. Mustafa Kemal Paşa ve Temsilciler Kurulunun, Sivas Kongresi'nden sonra İstanbul Hükûmetine karşı kazandığı ilk siyasi başarı aşağıdakilerden hangisidir?

- A) Amasya Genelgesi'nin yayımlanması
- B) Amasya Görüşmelerinin yapılması
- C) Mebusan Meclisinin açılması
- D) Misakımillî'nin ilan edilmesi
- E) Saltanat Şûrasının toplanması

14. 8-9 Temmuz 1919 gecesi askerlik görevinden istifa eden Mustafa Kemal Paşa, aşağıdaki savaşlardan hangisinden sonra millî iradenin isteğiyle yeniden askerî görev üstlenmiştir?

- A) Birinci İnönü
- B) İkinci İnönü
- C) Kütahya – Eskişehir
- D) Sakarya
- E) Büyük Taarruz

15. Sovyet Rusya, Türkiye'ye 1920 yılında her türlü silah ve malzeme yardımıyla bulunmuş, bu yardım 1921 yılında büyük oranda artarak devam etmiştir.

Sovyet Rusya'nın yardımının artmasında aşağıdakilerden hangisinin etkili olduğu savunulabilir?

- A) TBMM'nin açılmasının
- B) Kuvayımilliye birliklerinin oluşturulmasının
- C) TBMM ordusunun askerî başarılarının
- D) Ulusal cemiyetlerin birleştirilmesinin
- E) Misakımillî'nin kabul edilmesinin

16. TBMM'nin Saltanatı kaldırması, aşağıdakilerden hangisine kanıt olarak gösterilemez?

- A) Millî egemenliğin güçlendirildiğine
- B) Demokrasiye geçiş için adım atıldığına
- C) Kişisel egemenliğin sona erdiğine
- D) Tüm yetkilerin TBMM'de toplandığına
- E) Devlet rejiminin adının konulduğuna

17. 1921 tarihli Teşkilat-ı Esasiye Kanunu'nda ilk değişiklikle aşağıdakilerden hangisi gerçekleştirilmiştir?

- A) Saltanatın kaldırılması
- B) Cumhuriyetin ilanı
- C) İstiklal Marşı'nın kabulü
- D) Halifeliğin kaldırılması
- E) Lozan Antlaşması'nın onaylanması

18. Aşağıdakilerden hangisi, 3 Mart 1924 günü TBMM' de kabul edilen kanunlar kapsamında değildir?

- A) Şeyhülislamlık makamının lağvedilmesi
- B) Osmanlı hanedanı üyelerinin Türkiye sınırları dışına çıkarılması
- C) Şer'iye ve Evkâf Bakanlığının kaldırılması
- D) Halifeliğin kaldırılması
- E) Tekke, zaviye ve türbelerin kapatılması

19. Aşağıdakilerden hangisi, yeni Türk alfabesinin kabul edilmesinden sonra okuryazar oranını artırmaya yöneliktir?

- A) Millet Mekteplerinin açılması
- B) Ankara Hukuk Mektebinin açılması
- C) Öğretimin Birleştirilmesi Yasası'nın kabul edilmesi
- D) Türk Ocaklarının kurulması
- E) Azınlık ve yabancı okullarının denetim altına alınması

20. Atatürk, "Bir toplum aynı amaca, bütün kadınlar ve erkekleriyle beraber yürümezse ilerlemesi ve medenileşmesine bilimsel olarak imkân yoktur." demiştir.

Aşağıdakilerden hangisinin, Atatürk'ün bu sözü doğrultusunda gerçekleştirildiği savunulabilir?

- A) Saltanatın kaldırılması
- B) Şapka giyilmesi hakkında kanun çıkarılması
- C) Soyadı Kanunu'nun yürürlüğe girmesi
- D) Medeni Kanun'un kabul edilmesi
- E) Halifeliğin kaldırılması

21. Aşağıdakilerden hangisinin, ekonomik ilişkilerdeki karışıklıkları önlemek amacıyla yapıldığı savunulamaz?

- A) Miladi takvimin kabul edilmesi
- B) Soyadı Kanunu'nun çıkarılması
- C) Kılık ve kıyafet alanındaki düzenlemelerin yapılması
- D) Hafta tatilinin cuma gününden pazar gününe alınması
- E) Ölçü sisteminin değiştirilmesi

22. Türkiye Cumhuriyeti, Birinci Beş Yıllık Sanayi Planı'nın hazırlanmasında teknik ve ekonomik desteği aşağıdaki devletlerin hangisinden almıştır?

- A) Sovyetler Birliği
- B) Amerika Birleşik Devletleri
- C) İngiltere
- D) Fransa
- E) İtalya

23. 1924 Anayasası'nın 88. maddesi "Türkiye'de din ve ırk ayırt edilmeksizin vatandaşlık bakımından herkese Türk denir." şeklindedir.

Bu madde Atatürk'ün,

- I. milliyetçilik,
- II. laiklik,
- III. halkçılık

ilkelerinden hangileriyle ilişkilendirilebilir?

- A) Yalnız I
- B) I ve II
- C) I ve III
- D) II ve III
- E) I, II ve III

24. Aşağıdakilerden hangisinin dilde sadeleştirmeye etkisi olduğu savunulamaz?

- A) İktisadi Müesseselerde Mecburi Türkçe Kullanılması Hakkında Kanun'un çıkarılması
- B) Türk Ceza Kanunu'nun çıkarılması
- C) Türkçe bilim terimlerinin hazırlanması
- D) Türk Dil Kurumunun kurulması
- E) Harf inkılabının yapılması

25. Mustafa Kemal Paşa'nın *Nutuk*'unda,

- I. TBMM'nin açılması,
- II. Halifeliğin kaldırılması,
- III. Serbest Cumhuriyet Partisinin kurulması

olaylarından hangileri yer almaktadır?

- A) Yalnız I
- B) Yalnız II
- C) Yalnız III
- D) I ve II
- E) I, II ve III

26. Aşağıdakilerden hangisinin, Atatürk Dönemi'nde Türkiye ile İngiltere arasındaki ilişkilerin gelişmesine katkısı olduğu savunulamaz?

- A) Türkiye'nin Briand-Kellogg Pakti'na katılması
- B) Musul'un Ankara Antlaşması ile Irak'a bırakılması
- C) Almanya'nın yayılmacı politika izlemesi
- D) Türkiye'nin Milletler Cemiyetine üye olması
- E) Türkiye'nin Sadabat Pakti'na üye olması

27. 1923-1930 yılları arasında Türk dış politikasının başlıca faaliyet alanını aşağıdakilerden hangisi oluşturmuştur?

- A) Bölgesel paktlar oluşturmak
- B) Boğazları denetim altına almak
- C) Milletler Cemiyetine üye olmak
- D) Hatay sorununu çözmek
- E) Lozan Antlaşması'ndan kalan sorunları gidermek

28. Atatürk Dönemi'nin son başbakanı aşağıdakilerden hangisidir?

- A) İsmet İnönü
- B) Fethi Okyar
- C) Şükrü Saraçoğlu
- D) Celâl Bayar
- E) Rauf Orbay

29. İkinci Dünya Savaşı öncesinde,

- I. İtalya,
- II. Fransa,
- III. Avusturya

devletlerinden hangilerinin yayılmacı politikası, Türkiye'nin boğazlar sorununu gündeme getirmesine neden olmuştur?

- A) Yalnız I
- B) Yalnız II
- C) Yalnız III
- D) I ve II
- E) I, II ve III

30. Aşağıdaki sorunlardan hangisinin çözümünde, Milletler Cemiyeti devreye girmemiştir?

- A) Musul
- B) Bozkurt-Lotus
- C) Yabancı okullar
- D) Hatay
- E) Etabli

31. Türkiye'nin jeopolitik önemi üzerinde aşağıdakilerden hangisinin etkisi daha azdır?

- A) Eski dünya karaları arasında merkezî bir konuma sahip olmasının
- B) Ekonomik ve siyasal bir güç merkezi olan Avrupa Birliği ülkelerine komşu olmasının
- C) Dört mevsimin belirgin olarak yaşanmasının ve aynı anda farklı iklim özelliklerinin görülmesinin
- D) Önemli petrol ve doğal gaz yataklarına sahip ülkelere komşu olmasının
- E) Uluslararası deniz ulaşımı açısından önemli bir bölgede bulunmasının

32. Türkiye'nin dağlarıyla ilgili aşağıda verilen bilgilerden hangisi doğrudur?

- A) Karadeniz ve Akdeniz kıyıları boyunca uzanan sıradağlar, kırılmayla oluşmuştur.
- B) Güncel buzullar çoğunlukla ülkenin doğusundaki dağlar üzerindedir.
- C) Ülkenin batısında çok sayıda volkanik dağ vardır.
- D) Dağların yükseltisi doğudan batıya doğru gidildikçe artmaktadır.
- E) En yüksek zirve kıvrımlı dağlar üzerindedir.

33.

- I. Gece ve gündüz süresine
- II. Yarımada özelliğine
- III. Yer şekillerinin çeşitliliğine
- IV. Orta kuşakta bulunmasına

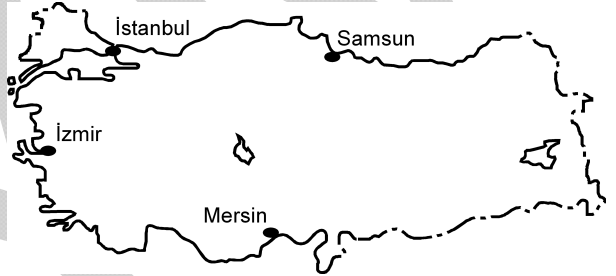
Türkiye'nin farklı yörelerinde değişik yönlerden esen meltem rüzgârlarının görülmesi, yukarıdakilerden hangilerine bağlanabilir?

- A) I ve II
- B) I ve III
- C) II ve III
- D) II ve IV
- E) III ve IV

34. Türkiye'de nüfusun tarihsel gelişimi ve sayım dönemlerine göre nüfus hareketleri göz önüne alındığında aşağıdakilerden hangisi yanlıştır?

- A) Yıllık nüfus artış hızının en fazla olduğu dönem 1955 – 1960 yılları arasındadır.
- B) En düşük nüfus artış hızı 1940 – 1945 yılları arasındadır.
- C) Cumhuriyet Dönemi'nde ilk nüfus sayımı 1927 yılında yapılmıştır.
- D) Özellikle 1950'den sonra tarım sektöründe çalışanların oranı sürekli azalmıştır.
- E) Sayım dönemlerine göre kentsel nüfus, kırsal nüfustan daima fazla olmuştur.

35.



Yukarıdaki haritada, Türkiye'de ticaret hacmi geniş olan bazı liman kentleri gösterilmiştir.

Aşağıdakilerden hangisi, bu kentler için ortak bir özellik değildir?

- A) Nüfus yoğunlukları fazladır.
- B) Turistik yolcu taşımacılığı gelişmiştir.
- C) Üçüncül ekonomik etkinlikler gelişmiştir.
- D) Nitelikli iş gücü fazladır.
- E) Kara yolu ağı gelişmiştir.

36. Bursa'nın komşu olduğu illere göre, nüfusunun fazla olmasında aşağıdakilerden hangisinin etkisi daha azdır?

- A) Önemli yer altı kaynaklarına sahip olmasının
- B) İklim koşullarının elverişli olmasının
- C) Tarıma elverişli geniş topraklara sahip olmasının
- D) Endüstrinin gelişmiş olmasının
- E) Turizm olanaklarının ve çeşitliliğinin fazla olmasının

37. Türkiye'de tarım sektörünün en önemli sorunlarından biri işletmelerin parsel büyüklüğünün giderek küçülmesidir. Bu sorunun çözümü için küçük arazilerin toplulaştırma yoluyla birleştirilmesi konusunda çalışmalar yapılmaktadır.

Buna göre, arazi toplulaştırmasıyla birlikte aşağıdakilerden hangisinin ortaya çıkması beklenmez?

- A) Tarımsal üretimde artış sağlanması
- B) Tarımsal işlerde zaman kaybının azalması
- C) Teknolojiden yararlanmanın artması
- D) Mülkiyet yapısının değişmesi
- E) İşletme sayısının artması

38. Türkiye'nin kıyı kesimlerindeki ovalarda tarımsal ürün çeşidinin, iç kesimlerdeki ovalara göre daha fazla olmasının temel nedeni aşağıdakilerden hangisidir?

- A) Toprak çeşitliliğinin fazla olması
- B) İklim koşullarının elverişli olması
- C) Modern tarım yöntemlerinin kullanılması
- D) Ulaşım olanaklarının çeşitli olması
- E) Pazarlama olanaklarının gelişmiş olması

39.

- I. Maki
- II. Bozkır
- III. Çayır
- IV. Çiçekli bitkiler ve orman

Yukarıda Türkiye'deki bazı bitki tür ve toplulukları verilmiştir.

Buna göre, bu bitkilerin egemen olduğu yerlerde doğal koşullara uygunluk ve üretimdeki verimlilik bakımından sırasıyla hangi hayvan türlerinin yetiştirilmesi ve hayvancılık faaliyetlerinin yapılması beklenir?

	<u>I</u>	<u>II</u>	<u>III</u>	<u>IV</u>
A) Koyun	Sığır	Arıcılık	Kıl keçisi	
B) Kıl keçisi	Koyun	Sığır	Arıcılık	
C) Kıl keçisi	Sığır	Arıcılık	Koyun	
D) Koyun	Kıl keçisi	Arıcılık	Sığır	
E) Arıcılık	Koyun	Kıl keçisi	Sığır	

40. Aşağıdaki mesleklere sahip kişilerden hangisi, farklı bir ekonomik faaliyet grubu içinde yer alır?

- A) Çubuk Ovası'nda buğday tarımı yapan çiftçi
- B) İzmir – Ankara arasında bir otobüs firmasında çalışan şoför
- C) Mardin'de bir ilköğretim okulunda görev yapan öğretmen
- D) Konya'da bir hastanede görev yapan doktor
- E) Ilgaz Dağı'ndaki bir otelde çalışan aşçı

41. Aşağıdakilerin hangisinde, yer altı kaynağının rezerv bakımından zengin olduğu yer yanlış verilmiştir?

- A) Demir – Sivas (Divriği)
- B) Krom – Elâzığ (Guleman)
- C) Manganez – Konya (Seydişehir)
- D) Bakır – Artvin (Murgul)
- E) Barit – Antalya (Alanya)

42. Aşağıda verilen termik santrallerde kullanılan enerji kaynakları göz önüne alındığında hangisinin, hava kirliliği üzerindeki etkisinin daha az olması beklenir?

- A) Soma
- B) Yatağan
- C) Çatalağzı
- D) Ambarlı
- E) Seyitömer

43. Endüstri kuruluşlarının yer seçimini belirleyen etmenler göz önüne alındığında Karadeniz'in kıyı kesiminde çay, fındık ve kâğıt endüstrisinin gelişmesinde aşağıdakilerden hangisinin etkisi daha fazladır?

- A) Sermaye
- B) Nitelikli iş gücü
- C) Ham madde
- D) Ulaşım
- E) Enerji

44. Türkiye'nin gündeminde olan aşağıdaki ulaşım projeleri tamamlandığında hangisinin, yolcu trafiğindeki payının daha fazla olması beklenir?

- A) İstanbul Boğazı geçişini de kapsayan Marmaray Projesi
- B) Ankara – Sivas Yüksek Hızlı Tren Hattı Projesi
- C) Bakü – Tiflis – Kars Demir Yolu Hattı Projesi
- D) Ankara – Eskişehir – Bursa Yüksek Hızlı Tren Hattı Projesi
- E) Rize – Erzurum arasında Ovit Dağı tünel geçişi

45. Türkiye'de turizm etkinlikleri çeşitlenmekte, bu da turizm gelirlerinin ekonomideki payını giderek artırmaktadır.

Buna göre aşağıdaki turizm etkinliklerinden hangisinin, ülke ekonomisine yıl boyunca katkı sağlaması beklenir?

- A) Kış turizmi
- B) Deniz turizmi
- C) Yayla turizmi
- D) Akarsu turizmi
- E) Kaplıca turizmi

46. Türkiye'de bölgeler arasındaki gelişmişlik farklarını azaltmak için yapılan çalışmalardan biri de bölgesel kalkınma projeleridir.

Buna göre aşağıdakilerden hangisi, bu projelerden biri olan Yeşilırmak Havzası Gelişim Projesi kapsamındaki illerden değildir?

- A) Samsun
- B) Çorum
- C) Tokat
- D) Yozgat
- E) Amasya

47. Türkiye'nin dış ticaret hacminin giderek büyümesine karşın, dış satımın dış alımı karşılama oranı istenilen düzeye ulaşamamıştır.

Bu durumun oluşmasında aşağıdakilerden hangisinin etkili olduğu söylenemez?

- A) Üretilen ürünlerin çoğunun iç pazarlarda tüketilmesinin
- B) İmalat sanayisinde dışa bağımlılığın yüksek olmasının
- C) Enerji kaynakları bakımından dışa bağımlılığın fazla olmasının
- D) Dış pazarlarda rekabet gücünün yaşanmasının
- E) Dış satımdaki turizm gelirleri payının artmasının

48. Aşağıdakilerin hangisinde insanların doğal çevre üzerindeki etkisi daha azdır?

- A) Elmalı ilçesindeki Avlan Gölü ile Karagöl'ün tarım alanı oluşturmak amacıyla kurutulması
- B) İnebolu – Abana arasındaki kıyı şeridinde denizin doldurularak kara yolu yapılması
- C) Yatağan Termik Santrali'nde elektrik üretilmesi
- D) Doğu Karadeniz yaylalarında arıcılık faaliyetlerinin yaygın olması
- E) İstanbul Boğazı'nın her iki yakasını birbirine bağlayan köprülerin yapılması

49. Türk hukukunda olağan hâllerde evlenme yaşı aşağıdakilerden hangisidir?

- A) Kadınlar bakımından 15, erkekler bakımından 17 yaşın tamamlanması
- B) Kadınlar ve erkekler bakımından 16 yaşın tamamlanması
- C) Kadınlar ve erkekler bakımından 17 yaşın tamamlanması
- D) Kadınlar bakımından 17, erkekler bakımından 21 yaşın tamamlanması
- E) Kadınlar bakımından 13, erkekler bakımından 14 yaşın tamamlanması

50. Hukuk kuralları arasında aksine bir hukuksal işlem yapılması mümkün olmayan kurallara ne ad verilir?

- A) Emredici kurallar
- B) Yedek kurallar
- C) Yorumlayıcı kurallar
- D) Tamamlayıcı kurallar
- E) Tanımlayıcı kurallar

51. Borçlunun sorumluluğu ile ilgili aşağıdaki ifadelerden hangisi yanlıştır?

- A) Borçlunun borca aykırı davranışı nedeniyle sorumluluğu ortaya çıkar.
- B) Borçlunun sorumluluğu mal varlığı sorumluluğudur.
- C) Borçlunun borca aykırı davranışı hâlinde özgürlüğünün kısıtlanması mümkün değildir.
- D) Borçlunun mal varlığı sorumluluğu sınırsız olabileceği gibi, durumun niteliğine göre sınırlı da olabilir.
- E) Borçlu, şahıs varlığı ile de koşulları varsa sorumlu tutulabilir.

52. 1982 Anayasası'na göre, Bakanlar Kurulu ile ilgili aşağıdaki ifadelerden hangisi yanlıştır?

- A) Başbakan, Türkiye Büyük Millet Meclisi üyeleri arasından atanır.
- B) Bakanların, Türkiye Büyük Millet Meclisi üyeleri arasından atanması zorunlu değildir.
- C) Bakanlıkların kurulması ve kaldırılması kanunla düzenlenir.
- D) Bakanlar Kurulu tüzük çıkarabilir.
- E) Bakanların görevine doğrudan doğruya Başbakanca son verilebilir.

53. 1982 Anayasası'na göre, Cumhurbaşkanlığına Türkiye Büyük Millet Meclisi üyeleri içinden veya dışından aday gösterilebilmesi için en az kaç milletvekilinin yazılı teklifi gerekir?

- A) 10 B) 20 C) 25 D) 30 E) 55

54. 1982 Anayasası'na göre, ara verme ve tatil sırasında Türkiye Büyük Millet Meclisinin toplantıya çağırılması ile ilgili aşağıdaki ifadelerden hangisi yanlıştır?

- A) Meclis üyelerinin beşte birinin yazılı istemi üzerine Meclis Başkanı, Meclisi toplantıya çağırır.
- B) Meclis Başkanı, doğrudan doğruya kendisi Meclisi toplantıya çağırabilir.
- C) Cumhurbaşkanı, doğrudan doğruya kendisi Meclisi toplantıya çağırabilir.
- D) Başbakan, doğrudan doğruya kendisi Meclisi toplantıya çağırabilir.
- E) Cumhurbaşkanı, Bakanlar Kurulunun istemi üzerine Meclisi toplantıya çağırır.

55. Aşağıdakilerden hangisinin bozulması, kamu düzeninin ihlali anlamına gelmez?

- A) Genel inanç B) Esenlik
- C) Genel sağlık D) Genel ahlak
- E) Güvenlik

56.

- I. Kanun hükmünde kararname
- II. Tüzük
- III. Yönetmelik
- IV. Genelge

Yukarıdakilerden hangileri, sadece Bakanlar Kurulu tarafından çıkarılabilir?

- A) Yalnız I B) Yalnız II C) I ve II
- D) I, II ve III E) I, II ve IV

57.

- I. Kamu iktisadi teşebbüsleri
- II. Ticaret odası
- III. Hukuk fakültesi
- IV. İl özel idaresi

Yukarıdakilerden hangileri, yönetmelik yapma yetkisine sahip değildir?

- A) Yalnız II B) Yalnız III C) I ve II
- D) III ve IV E) I, II ve IV

58. Yunanistan'ın kredi notunu artırmasına rağmen, Türkiye'nin kredi notu görünümünü pozitiften duruşa çeviren ve bunun sonucunda tepkilere neden olan uluslararası kredi derecelendirme kuruluşu aşağıdakilerden hangisidir?

- A) Moody's B) Fitch Ratings
C) Experian D) Standard and Poor's
E) Callcredit

59. 25. NATO Devlet ve Hükümet Başkanları Zirvesi Mayıs 2012 tarihinde aşağıdaki ülkelerin hangisinde düzenlenmiştir?

- A) Japonya
B) Amerika Birleşik Devletleri
C) Güney Kore
D) İsveç
E) Türkiye

60. Haziran 2012 tarihinde düzenlenen Dünya Ekonomik Forumu Ortadoğu, Kuzey Afrika ve Avrasya Zirvesi'ne ev sahipliği yapan şehir aşağıdakilerden hangisidir?

- A) Bağdat B) Bakü C) İstanbul
D) Davos E) Kahire

SINAVDA UYULACAK KURALLAR

- Cep telefonu ile sınava girmek kesinlikle yasaktır.** Çağrı cihazı, telsiz, fotoğraf makinesi vb. araçlarla; cep bilgisayarı, kol ya da cep saati gibi her türlü bilgisayar özelliği bulunan cihazlarla; silah ve benzeri teçhizatla; müsvedde kâğıdı, defter, kitap, sözlük, sözlük işlevi olan elektronik aygıt, hesap cetveli, hesap makinesi, pergel, açılöçer, cetvel vb. araçlarla sınava girmek kesinlikle yasaktır. Bu araçlarla sınava girmiş adayların adı mutlaka Salon Sınav Tutanağına yazılacak, bu adayların sınavı geçersiz sayılacaktır. **Sınava kalem, silgi, kalemıraş, saat vb. araçla ve kulaklık, küpe, broş vb. takı, herhangi bir metal eşya ile girmek de kesinlikle yasaktır. Yiyecek, içecek vb. tüketim malzemeleri de sınava getirilemez. Adaylar sınava şeffaf şişe içerisinde su getirebilecektir.**
- Bu test için verilen toplam cevaplama süresi **120 dakikadır.** Sadece bu testi alan adayların bulunduğu salonlarda sınav başladıktan sonra **ilk 90 ve son 15 dakika** içinde adayın sınavdan çıkmasına kesinlikle izin verilmeyecektir.
Bu test ile **Yabancı Dil Testini** birlikte alan adayların bulunduğu salonlarda **Yabancı Dil Testi** başladıktan sonra **ilk 15 ve son 15 dakika** içinde adayın sınavdan çıkmasına kesinlikle izin verilmeyecektir. **Bu süreler dışında, cevaplamaı sınav bitmeden tamamlarsanız cevap kâğıdınızı ve soru kitapçığınızı salon görevlilerine teslim ederek salonu terk edebilirsiniz.**
- Sınav salonundan ayrılan aday, her ne sebeple olursa olsun, tekrar sınava alınmayacaktır.**
- Sınav süresince görevlilerle konuşmak, görevlilere soru sormak yasaktır. Aynı şekilde görevlilerin de adaylarla yakından ve alçak sesle konuşmaları ayrıca, adayların birbirinden kalem, silgi vb. şeyleri istemeleri kesinlikle yasaktır.
- Sınav sırasında, görevlilerin her türlü uyarılarına uymak zorundasınız. Sınavınızın geçerli sayılması, her şeyden önce, sınav kurallarına uymanıza bağlıdır. Kurallara aykırı davranışta bulunanların ve yapılacak uyarılara uymayanların kimlik bilgileri Salon Sınav Tutanağına yazılacak ve sınavları geçersiz sayılacaktır.
- Sınav sırasında kopya çeken, çekmeye kalkışan, kopya veren, kopya çekilmesine yardım edenlerin kimlik bilgileri Salon Sınav Tutanağına yazılacak ve bu adayların sınavları geçersiz sayılacaktır. Görevliler kopya çekmeye ya da vermeye kalkışanları uyarmak zorunda değildir; sorumluluk size aittir.
Adayların test sorularına verdikleri cevapların dağılımları bilgi işlem yöntemleriyle incelenecek, bu incelemelerden elde edilen bulgular bireysel ya da toplu olarak kopya çekildiğini gösterirse kopya eylemine katılan adayın/adayların sınavı geçersiz sayılacaktır.
Sınav görevlileri bir salondaki sınavın, kurallara uygun biçimde yapılmadığını, toplu kopya girişiminde bulunulduğunu raporlarında bildirdiği takdirde, ÖSYM takdir hakkını kullanarak bu salonda sınava giren tüm adayların sınavını geçersiz sayabilir.
- Cevap kâğıdında doldurmanız gereken alanlar bulunmaktadır. Bu alanları doldurunuz. Cevap kâğıdınızı başkaları tarafından görülmeyecek şekilde tutmanız gerekmektedir. Cevap kâğıdına yazılacak her türlü yazıda ve yapılacak bütün işaretlemelerde salon görevlisinin atacağı imzalar hariç, kurşun kalem kullanılacaktır. Sınav süresi bittiğinde cevapların cevap kâğıdına işaretlenmiş olması gerekir. Soru kitapçığına işaretlenen cevaplar geçerli değildir.
- Soru kitapçığınızı alır almaz kapağında bulunan ilgili alanlara kimlik bilgilerinizi yazınız. Sayfaların eksik olup olmadığını, kitapçıkta basım hatalarının bulunup bulunmadığını ve soru kitapçığının her sayfasında basılı bulunan soru kitapçık numarasının, kitapçığın ön kapağında basılı soru kitapçık numarasıyla aynı olup olmadığını kontrol ediniz. Soru kitapçığının sayfası eksik ya da basımı hatalıysa değiştirilmesi için salon başkanına başvurunuz.
Size verilen soru kitapçığının numarasını cevap kâğıdınızdaki “Soru Kitapçık Numarası” alanına yazınız ve kodlayınız. Cevap kâğıdınızdaki “Soru kitapçık numaramı doğru kodladım.” kutucuğunu işaretleyiniz.
Soru kitapçığı ve cevap kâğıdı üzerinde yer alan Soru Kitapçık Numarasını doğru kodladığınızı beyan eden alanı imzalayınız ve salon görevlisinin, kodlamanın doğru yapıldığını beyan eden hem soru kitapçığınızıdaki hem de cevap kâğıdınızdaki ilgili alanı imzaladığından emin olunuz. Salon görevlisi imzasını tükenmez kalemle ve siz kodlamayı yaptıktan sonra atmalıdır.
- Sınav sonunda soru kitapçıkları toplanacak ve ÖSYM’de tek tek incelenecektir. Soru kitapçığının bir sayfası bile eksik çıkarsa sınavınız geçersiz sayılacaktır.
- Cevap kâğıdına ve soru kitapçığına yazılması ve işaretlenmesi gereken bilgilerde bir eksiklik ve/veya yanlışlık olması hâlinde sınavınızın değerlendirilmesi mümkün olamamaktadır, sorumluluk size aittir.
- Soru kitapçığının sayfalarındaki boş yerleri müsvedde için kullanabilirsiniz.
- Soruları ve/veya bu sorulara verdiğiniz cevapları ayrı bir kâğıda yazıp bu kâğıdı dışarı çıkarmanız kesinlikle yasaktır.
- Her testin cevaplarını cevap kâğıdındaki ilgili alana işaretleyiniz.**
- Sınav salonundan ayrılmadan önce, soru kitapçığınızı ve cevap kâğıdınızı salon görevlilerine teslim etmeyi unutmayınız.

Bu testlerin her hakkı saklıdır. Hangi amaçla olursa olsun, testlerin tamamının veya bir kısmının Merkezimizin yazılı izni olmadan kopya edilmesi, fotoğrafının çekilmesi, herhangi bir yolla çoğaltılması, yayımlanması ya da kullanılması yasaktır. Bu yasağa uymayanlar gerekli cezai sorumluluğu ve testlerin hazırlanmasındaki mali külfeti peşinen kabullenmiş sayılır.

KAMU PERSONEL SEÇME SINAVI
LİSANS (CS)
GENEL YETENEK TESTİ-GENEL KÜLTÜR TESTİ
CEVAP ANAHTARI
7 TEMMUZ 2012 CUMARTESİ

GENEL YETENEK TESTİ

- | | |
|-------|-------|
| 1. C | 31. D |
| 2. B | 32. B |
| 3. E | 33. C |
| 4. E | 34. E |
| 5. D | 35. A |
| 6. D | 36. B |
| 7. B | 37. E |
| 8. D | 38. C |
| 9. A | 39. B |
| 10. E | 40. A |
| 11. B | 41. E |
| 12. C | 42. D |
| 13. A | 43. D |
| 14. E | 44. A |
| 15. D | 45. D |
| 16. C | 46. B |
| 17. E | 47. A |
| 18. A | 48. E |
| 19. D | 49. C |
| 20. B | 50. C |
| 21. A | 51. B |
| 22. B | 52. C |
| 23. D | 53. D |
| 24. C | 54. B |
| 25. E | 55. E |
| 26. B | 56. D |
| 27. D | 57. E |
| 28. A | 58. C |
| 29. E | 59. A |
| 30. C | 60. C |

GENEL KÜLTÜR TESTİ

- | | |
|-------|-------|
| 1. B | 31. C |
| 2. D | 32. B |
| 3. A | 33. C |
| 4. C | 34. E |
| 5. E | 35. B |
| 6. A | 36. A |
| 7. D | 37. E |
| 8. E | 38. B |
| 9. B | 39. B |
| 10. C | 40. A |
| 11. D | 41. C |
| 12. A | 42. D |
| 13. B | 43. C |
| 14. C | 44. A |
| 15. C | 45. E |
| 16. E | 46. D |
| 17. B | 47. E |
| 18. E | 48. D |
| 19. A | 49. C |
| 20. D | 50. A |
| 21. C | 51. E |
| 22. A | 52. E |
| 23. E | 53. B |
| 24. B | 54. D |
| 25. D | 55. A |
| 26. B | 56. C |
| 27. E | 57. B |
| 28. D | 58. D |
| 29. A | 59. B |
| 30. C | 60. C |