

TÜRKÇE
DENEME SINAVI SORULARI

1. Aşağıdaki tümcelerin hangisinde soyut anlamlı bir sözcük kullanılmıştır?

- A) Binlerce kitaptan oluşan bir kitaplık kurdu. B) Ahlaklı insan, herkese örnek olur.
C) Pencerede beyaz güneşlik var. D) Tarladaki korkuluk kuşları ürkütüyordu.

2. Aşağıdaki tümcelerin hangisinde karşılaştırma yapılmıştır?

- A) Bu kitap senin okuduğundan daha güzel. B) Olay küçük ve şirin bir köyde geçiyor.
C) Sınava iyi hazırlandım ama kazanamadım. D) Aykut, oylama sonucu sınıf başkanı seçildi.

3. Aşağıdaki tümcelerin hangisinde zıt iki durum birden anlatılmaktadır?

- A) Öğrenciler büyük bir uyum içinde çalışıyorlar.
B) Büyük bir taşın üzerine çıkarak iri iri elma topladı.
C) Eskiden olsa bu durumda ağlardı ama şimdi sadece üzülüyor.
D) Adamın yüzündeki yumuşak ifade birden bire sertleşti.

4. Aşağıdaki tümcelerin hangisinde uyarı söz konusu değildir?

- A) Arkadaşlarınla kavga etmeni istemiyorum. B) Sağlığına dikkat etmelisin.
C) Bu gün durmadan ders çalışacağım. D) Gez ama eve erken gel.

5. Aşağıdaki tümcelerde altı çizili sözcüklerin hangisinde yazım yanlışı yapılmamıştır?

- A) Türkiyenin futbol maçını televizyondan izledim.
B) Ürgüp'lü olan arkadaşım beni evlerine davet etti.
C) Alilerin evleri okula çok uzak.
D) Ayşe'ciğim, seni gördüğüme çok sevindim.

6. “ Berke, oylama sonucu sınıf başkanı olarak seçildi.” tümcesinde hangi sözcüğü çıkarırsak tümcenin anlamında bozulma olmaz?

- A) oylama B) sonucu C) sınıf D) olarak

7. Aşağıdaki tümcelerin hangisinde “ kör “ sözcüğü deyim içinde yer almıştır?

- A) Komşumuz Ayşe hanım kör talihini bir türlü yenemedi.
B) Kör gözleri güzellikleri hissetmesine engel değildi.
C) Körler okuluna giderek okuma yazma öğrendi.
D) Körlükle çocuk yaşta geçirdiği bir hastalık sonucunda tanıştı.

8. Aşağıdaki tümcelerin hangisinde -de, -da'nın yazımında yanlışlık yapılmamıştır?

- A) Artık okulumuzunda bir internet sitesi var.
B) Bu kalemde her zaman yere düşüyor.
C) Ev de bulunan eşyaları değiştirmeyi düşünüyorum.
D) Berke yandaki kanepede uyuyor.

9. Aşağıdaki tümcelerin hangisinde soru anlamı vardır?

- A) Konuşmalarında ne söylediğini pek anlayamadım
B) Kardeşimin doğum gününe ne alayım
C) Ne olursa olsun, söylediğimi yapacağım
D) Tatilde neler yapacağım, neler

10. Aşağıdaki tümcelerin hangisinde neden – sonuç ilişkisi yoktur?

- A) Şiddetli yağmurdan köprüler yıkıldı. B) Sıcaklıklar artınca su sıkıntısı başladı.
C) Terbiyeli davranışları onun sevilmesini sağladı. D) Oturur oturmaz konuşmaya başladı.

11. Göçmen kuşlar **Yandaki şiir hangi mevsimde yazılmıştır?**
Gelmedi daha komşuluğa A) kış B) ilkbahar C) yaz D) sonbahar
Soğuk olunca havalar
Çıkmadılar daha yolculuğa
12. Aşağıdaki altı çizili sözcüklerden hangisi yapım eki almıştır?
A) Babası oğlunu törende izleyince gözleri doldu.
B) Doktor yakını göremediği için gözlük almasını önerdi.
C) Bu sözler onu çok derinden etkiledi.
D) Pastaya iki ölçü şeker koydu.
13. Aşağıdaki sözcüklerden hangisi çoğul eki (–ler, -lar) almıştır?
A) kiler B) diler C) siler D) eller
14. Aşağıdaki tümcelerin hangisinde topluluk ismi yoktur?
A) Ailemle birlikte tatile gideceğim.
B) Ordumuz dün büyük bir zafer kazandı.
C) Bu sınıf başarılarıyla adından söz ettiriyor.
D) Kardeşim yaramazlık yapmadan duramaz.
15. Aşağıdaki tümcelerin hangisinde öznel bir yargı vardır?
A) Dünya döndükçe yaptıkların anlatılacak.
B) Trafik ışıklarından kırmızı dur demektir.
C) Cumhuriyet, 1923 yılında ilan edilmiştir.
D) Resim dersinde suluboya çalışması yaptık.
16. “dolu” sözcüğü aşağıdaki tümcelerin hangisinde farklı bir anlamda kullanılmıştır?
A) Bu şişe süt dolu. B) Bu yağın dolu.
C) Sınıf öğrencilerle dolu. D) Cebim para dolu.
17. “diş bilemek” deyiminin anlamı aşağıdakilerden hangisidir?
A) Kötülük yapmak için fırsat beklemek B) Birinin durumuna belli etmeden gülmek
C) Gücü yetmemek, söz geçirememek D) Önem vermemek, dinlememek
18. Aşağıdakilerden hangisi “Güneş balçıkla sıvanmaz.” atasözünün anlamına uygundur?
A) Yarının neler getireceği bilinmez.
B) Herkesin bildiği gerçekler kimseden saklanmaz.
C) Her söz, her yerde söylenmez.
D) Yapılan iyilik, hiçbir zaman unutulmaz.
19. Aşağıdaki tümcelerin hangisinde “koşul” ileri sürülmüştür?
A) Erken kalkmadığı için otobüsü kaçırdı. B) Hareketlerinde biraz daha ölçülü olmalısın.
C) Yardım edersen bu işe başlayacağım. D) Kitap okuyarak kendimizi geliştirebiliriz.
20. Aşağıdaki tümcelerin hangisinde mecaz anlamlı bir sözcük kullanılmıştır?
A) Bu kahvenin şekeri fazla olmuş. B) Marketten şeker almayı unutma!
C) Şekerli yiyecekler dişlerimizi çürütür. D) Öğretmenimiz çok şeker biridir.

MATEMATİK
DENEME SINAVI SORULARI

1. Aşağıdaki doğal sayılardan hangisinin okunuşu doğrudur?

- A) 524 060 → beş yüz yirmi dört bin altı yüz
C) 902 403 → dokuz yüz iki bin dört yüz üç

- B) 180 005 → yüz seksen bin sıfır sıfır beş
D) 107 002 → on yedi bin iki

2. 589 483 doğal sayısında 8 rakamlarının basamak değerleri hangi seçenekte doğru olarak verilmiştir?

- A) 80 000 – 800 B) 8000 – 8 C) 800 – 80 D) 80 000 - 80

3. Yüz binler basamağı 4, binler basamağı 7, yüzler basamağı 2 ve birler basamağı 9 olan sayı aşağıdakilerden hangisidir?

- A) 47 209 B) 407 209 C) 4729 D) 400 709

4. 3, 7, 0 ve 8 rakamlarını birer kez kullanarak oluşturulan en küçük doğal sayıdaki “7” rakamının basamak değeri ile sayı değerinin toplamı kaçtır?

- A) 77 B) 707 C) 3007 D) 770

5. $7\square46 < 7\ 846$ eşitsizliğinde \square yerine yazılabilecek rakamların toplamı kaçtır?

- A) 18 B) 22 C) 28 D) 45

6. 5, 8, 6, 0, 2 rakamlarını birer kez kullanarak yazılabilecek beş basamaklı en büyük tek doğal sayı kaçtır?

- A) 86 205 B) 82 605 C) 86 520 D) 68 205

7. 644028, 654792, 654520, 653604 doğal sayılarını büyükten küçüğe doğru sıraladığımızda üçüncü sırada hangi olur?

- A) 654520 B) 653604 C) 654792 D) 644028

8. 5, 3, 6, 7 rakamlarını birer defa kullanarak yazılabilecek dört basamaklı en küçük sayı en yakın yüzlüğe yuvarlandığında elde edilecek sayı ile kendisi arasındaki fark kaçtır?

- A) 7 B) 17 C) 33 D) 67

9. 58 950 sayısının en yakın yüzlüğe yuvarlanmış hali kaçtır?

- A) 58 900 B) 59 100 C) 60 000 D) 59 000

10. Yandaki örüntüde satır ve sütunlardaki sayıların toplamı 26’dır. Buna göre $\ast + \blacktriangle$ işleminin sonucu kaçtır?

12		\ast
	9	11
\blacktriangle		5

- A) 15 B) 16 C) 17 D) 18

11. Ezgi her gün 115 dakika kitap okumaktadır. Ezgi günde kaç saat kaç dakika kitap okumaktadır?

- A) 1 saat 15 dakika B) 2 saat 5 dakika
C) 1 saat 55 dakika D) 1 saat 45 dakika

12. Berke 2 m 45 cm uzunluğundaki kumaşın 8 dm’si ile örtü diktiriyor. Berke’nin kaç mm kumaşı kalmıştır?

- A) 1650 mm B) 165 mm C) 237 mm D) 2650 mm

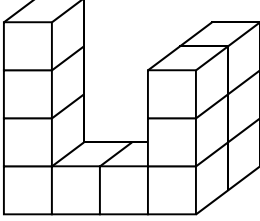
13. Aşağıdaki harflerden hangisinin birden fazla simetri doğrusu vardır?

- A) K B) H C) A D) M

14. $\begin{array}{r} \square 82 \\ + 245 \\ \hline 7 * \bigcirc \end{array}$ Yandaki toplamada $\square + * + \bigcirc$ işleminin sonucu kaçtır?
A) 10 B) 11 C) 12 D) 13

15. Bir çıkarma işleminde eksilen 7806, fark ise 2157'dir. Bu çıkarma işleminde çıkan kaçtır?
A) 5749 B) 5759 C) 5649 D) 5839

16. Yandaki eş küplerle oluşturulmuş blokların kuş bakışı görünüşü aşağıdakilerden hangisidir?



- A)

			3
4	1	1	3

 B)

4			3
4	1	1	3
- C)

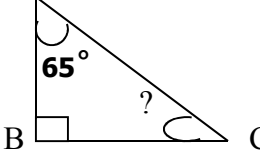
4	1	1	3
---	---	---	---

 D)


			1
1	1	1	1

17. I. \longrightarrow Işın
II. \longleftrightarrow doğru
III. . nokta
IV. --- doğru parçası

- Yanda verilen eşleştirmelerden hangisi ya da hangileri doğrudur?
A) I – III – IV B) II – III – IV
C) I – II – III – IV D) Yalnız III

18. A  Yandaki üçgenin verilmeyen açısı, kaç dercedir?
A) 25° B) 35° C) 45° D) 55°

19. Bir bebek yürümeye başladığı ilk gün 12 adım yürümüştür. Sonraki her gün ise bir önceki günden 4 adım daha fazla adım atmıştır. Bu bebek 4 günde kaç adım atmıştır?
A) 48 B) 52 C) 60 D) 72

20.  Yandaki dikdörtgene göre aşağıdakilerden hangisi şekle ait köşegendir?
A) [PY] B) [SY] C) [PS] D) [TY]

FEN VE TEKNOLOJİ
DENEME SINAVI SORULARI

1. Aşağıdakilerden hangisi vücudumuzun bölümlerinden değildir?

- A) Omurga B) Gövde C) Kafatası D) Boyun

2. Vücudumuzda bulunan kas, kemik ve eklemlerin oluşturduğu sisteme ne ad verilir?

- A) Solunum sistemi B) Sindirim sistemi
C) Hareket sistemi D) Dolaşım sistemi

3. I. Vücudun dik durmasını sağlar.
II. Kasılıp gevşeyerek hareketi sağlar.
III. İç organları korur.
IV. Vücudun genel şeklini verir.

İskeletin görevleriyle ilgili yukarıda verilen bilgilerden hangileri doğrudur?

- A) I – II – III – IV B) I – III – IV C) I – II – IV D) I – II – III

4. Aşağıdakilerden hangisi vücudumuzda bulunan kemik çeşitlerinden biridir?

- A) ince kemikler B) uzun kemikler C) orta kemikler D) düz kemikler

5. Aşağıdakilerden hangisi vücudumuzdaki yassı kemiğe örnek olarak verilebilir?

- A) kafatası kemikleri B) el kemikleri
C) ayak kemikleri D) omur kemikleri

6. ” Kemiklerin birbirine bağlandığı yere denir. “ Yandaki tümcedeki boşluğu aşağıdaki sözcüklerin hangisiyle tamamlarsak tanım doğru yapılmış olur?

- A) iskelet B) kas C) eklem D) kemik

7. Aşağıdaki kemikleri şekillerine göre gruplandırdığımızda hangisi bu grupta yer almaz?

- A) parmak kemikleri B) bilek kemikleri C) omurlar D) göğüs kemiği

8. “..... yapım sayesinde kasılıp gevşerim. İskeletle birlikte vücudumuzu ettiririm. “ Yukarıdaki boşlukları, aşağıdaki seçeneklerin hangisiyle tamamlayabiliriz?

- A) Kemikli – hareket B) Lifli – hareket
C) Etli – oynar D) Sert - rahat

9. Aşağıdakilerden hangisi soluk alıp – vermede görevli yapı ve organlar arasında yer almaz?

- A) yutak B) soluk borusu C) gırtlak D) karaciğer

10. Solunum sistemiyle ilgili bilgilerden hangisi yanlıştır?

- A) Burun, havanın ısıtılmasını, nemlendirilmesini ve temizlenmesini sağlar.
B) Akciğerlerin üst kısmına gırtlak denir.
C) Akciğer oksijen alıp kanı temizleyen organdır.
D) Soluk alma sırasında akciğer hava ile dolar.

11. Aşağıdakilerden hangisi dolaşım sistemi içinde görev alan organ ve yapılar içerisinde yer almaz?

- A) mide B) kalp C) kan D) damarlar

12. Aşağıda verilen bilgilerden hangisi yanlıştır?

- A) Egzersiz yapınca kalp daha hızlı atar.
- B) Damarlar kanın vücutta dolaştığı kanallardır.
- C) Kalp hızlı atınca soluk alıp verme yavaşlar.
- D) Korku, sevinç gibi duygularda nabız artar.

13. Dolaşım sistemi aşağıdakilerden hangisini gerçekleştirmez?

- A) Besinleri bağırsaklara ulaştırmak
- B) Karbondioksiti hücrelerden uzaklaştırmak
- C) Artık maddeleri hücrelerden uzaklaştırmak
- D) Oksijeni hücrelere taşımak

14. “Boşlukta yer kaplayan, hacmi ve kütlesi olan bütün varlıklara denir.” Tümcesini aşağıdaki sözcüklerin hangisiyle tamamlayabiliriz?

- A) madde
- B) saydam
- C) opak
- D) berk

15. Aşağıdakilerden hangisi maddenin hissedilebilir özelliklerinden biridir?

- A) kütle
- B) hacim
- C) erime noktası
- D) sertlik ve yumuşaklık

16. Işığı geçiren maddelere ne ad verilir?

- A) opak
- B) saydam
- C) cisim
- D) alet

17. Aşağıdakilerden hangisi hem madde, hem cisim hem de eşya grubundadır?

- A) masa
- B) tornavida
- C) un
- D) altın

18. Gaz maddelerle ilgili aşağıdakilerden hangisi veya hangileri doğrudur?

- I. Akıcıdırlar
- II. Belirli bir şekilleri vardır.
- III. Kütleleri vardır.
- IV. Sıkıştırılmazlar.

- A) Yalnız I
- B) I – II
- C) I – III
- D) I – II – III – IV

19. Mıknatıs aşağıdaki maddelerden hangisini çeker?

- A) altın
- B) demir
- C) gümüş
- D) bakır

20. Aşağıdakilerden hangisi maddenin hâl değiştirmesine örnek değildir?

- A) Suyun buz haline gelmesi
- B) Buharın su haline gelmesi
- C) Şekerin suda çözünmesi
- D) Bakırın erimesi

1. Bireyleri birbirinden ayıran özelliklere ne ad verilir?

- A) bireysel fark B) fiziksel fark C) duygusal fark D) Hiç biri

2. Aşağıdakilerden hangisi fiziksel özelliklerden biri değildir?

- A) Saç rengi B) boy C) ten rengi D) hobiler

3. Bir yarışmada birinci olduğumuzda sevinir, başarılı bir yarış geçirdiğimizi düşünürüz. Böyle bir duygu yaşamamız aşağıdakilerden hangisine örnek olarak verilebilir?

- A) Yaşadıklarımız bizi olumsuz etkiler.
B) Yaşadığımız olaylar duygularımızı etkilemez.
C) Duygu ve düşünceler iç içedir.
D) Duygularımız yaşadığımız olaylara göre değişmez.

4. Aşağıdaki duygulardan hangisi olumludur?

- A) öç B) şefkat C) intikam D) nefret

5. “Farklı duygu, düşünce ve davranışı anlayışla karşılayıp, farklılıklara saygı göstermeye denir.”

Yukarıdaki tümceyi aşağıdaki sözcüklerden hangisi ile tamamlayabiliriz?

- A) hoşgörü B) inanç C) saygı D) ahlak

6. Nüfus cüzdanımızda aşağıdaki bilgilerden hangisi bulunmaz?

- A) Doğum yerimiz B) annemizin adı C) kardeşimizin adı D) babamızın adı

7. Aşağıdakilerden hangisi resmi olarak düzenlenmiş kimlik belgelerinden biri değildir?

- A) pasaport B) ehliyet C) evlilik cüzdanı D) taraftar kimlik kartı

8. I. 23 Nisan 1920’de Türkiye Büyük Millet Meclisi’ni açtı.

II. Selanik’te doğdu.

III. Mahalle Mektebi’nde okula başladı.

IV. Cumhuriyeti ilan etti.

M. Kemal Atatürk’le ilgili verilen olayların kronolojik sıralanışı aşağıdakilerden hangisidir?

- A) II, III, IV, I B) II, III, I, IV C) II, I, III, IV D) III, I, II, IV

9. Aşağıdakilerden hangisi ailemizle ilgili tarih çalışmasının amaçlarından biri değildir?

- A) aile büyükleriyle ilgili bilgiler edinmek B) ailenin geçmişiyle ilgili bilgiler edinmek
C) köklerimiz hakkında bilgilere ulaşmak D) ailenin sahip olduğu arsa ve arazileri öğrenmek

10. “ Yurtta barış, dünyada barış.” sözü Atatürk’ün hangi özelliğini göstermektedir?

- A) liderliği B) çok yönlülüğünü C) barışseverliğini D) ileri görüşlülüğünü

11. Aşağıdakilerden hangisi tarih öğrenmenin yararlarından biri değildir?

- A) Tarihte yaşananları bir anı olarak değerlendiririz.
B) Geçmişimizle olan bağımız gelişir.
C) Tarihte yaşananlardan ders alırız.
D) Geçmişe bakarak geleceği planlarız.

12. Aile tarihimizi yazmak istesek aşağıdaki kaynaklardan hangisi gerekli olmaz?

- A) Yaşlı insanların anlattıkları B) Eski eşyalar

C) Fotoğraf ve albümler

D) Geçmişte yaşanan sosyal olaylar

13. Aşağıdakilerden hangisi kültürel değerlerimizden biridir?

A) internet

B) gazete

C) gölge oyunu

D) karikatür

14. Bir toplumda, eskiden kalmış kültürel kalıntıların, alışkanlıkların, bilgi, töre ve davranışların kuşaktan kuşağa aktarılmasına ne ad verilir?

A) dil

B) gelenek

C) söz

D) hareket

15. Aşağıdakilerden hangisi kültürel öğelerimiz arasında yer almaz?

A) yollarımız

B) yemeklerimiz

C) bayramlarımız

D) düğünlerimiz

16. Milli mücadele aşağıdaki olayların hangisiyle başlamıştır?

A) Erzurum Kongresi'nin yapılmasıyla

B) Mustafa Kemal'in Samsun'a çıkmasıyla

C) Sivas Kongresi'nin yapılmasıyla

D) T.B.M.M'nin açılmasıyla

17. Aşağıdaki savaşlardan hangisi Kurtuluş Savaşı'mız içinde yapılan savaşlardan biri değildir?

A) Çanakkale Savaşı

B) Sakarya Meydan Savaşı

D) I. İnönü Savaşı

D) Büyük Taarruz

18. Kurtuluş Savaşı'nda aşağıdakilerden hangisi ile savaş yapılmamıştır?

A) İtalyanlar

B) Yunanlılar

C) Ermeniler

D) Fransızlar

19. I. Sakarya Meydan Savaşı

II. İkinci İnönü Savaşı

III. Başkomutanlık Meydan Savaşı

IV. Birinci İnönü Savaşı

Kurtuluş Savaşı'mızda yapılan savaşların kronolojik sıraya konulmuş hali aşağıdakilerden hangisidir?

A) I, II, III, IV

B) IV, II, I, III

C) IV, II, III, I

D) I, III, IV, II

20. Egemenliğin kayıtsız şartsız millete ait olduğu aşağıdaki olayların hangisiyle kabul edilmiştir?

A) Mustafa Kemal'in Samsun'a çıkmasıyla

B) Düşmanların yurdumuzdan atılmasıyla

C) Sivas Kongresi'nin yapılmasıyla

D) TBMM'nin açılmasıyla

İNGİLİZCE
DENEME SINAVI SORULARI

1. Ayşe : How is Ali?

Erkan : _____ , thank you.

- a) He is very well.
- b) I am fine
- c) She is fine
- d) hello

2. -What _____ name ?

-His name _____ Fatih .

- a) are / you / is
- b) is / your / is
- c) is / his / is
- d) is / his / are

3.- What _____ these ?

- _____ are umbrellas.

- a) is / are
- b) are / they
- c) is / it
- d) are / this

4. Three + five = _____ ?

- a) eight
- b) nine
- c) six
- d) four

5. _____ that a _____ ?

Yes, it _____ a _____ .



- a) are / car / are / car
- b) is / cars / is / cars
- c) Are / cars / are / cars
- d) is / car / is / car

6. My / friends / they / are /.

- a) My friends they are.
- b) They are my friends.
- c) My friends are they.
- d) They my friends are.

7. Hasan is a student = _____

- a) He is a teacher.
- b) She is a student.
- c) He is a student.
- d) Hasan is a teacher.

8.A : Is _____ the new teacher ?

B : Yes, _____ is.

a) Mehmet / she

b) His / he

c) you / I

d) Veli / he

9. ve 10. soruları tabloya göre yapınız...

	FATHER	MOTHER	SISTER
ALİ's family	MURAT	LEYLA	GÜLAY

9. _____ is Ali's sister ?

- a) murat
- b) Leyla
- c) Gülay
- d) Ali

10. Leyla is Ali's _____ .

- a) sister
- b) teacher
- c) friend
- d) mother