






ADI-SOYADI:

2.SINIF

MATEMATİK

Saatlerde öğleden önce, öğleden sonra

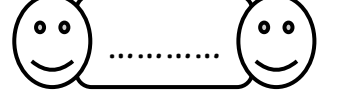
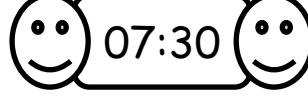
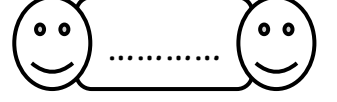
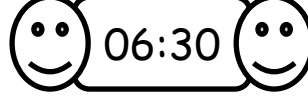
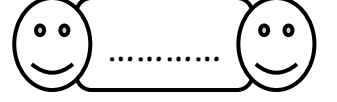
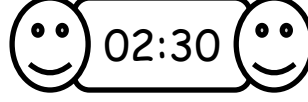
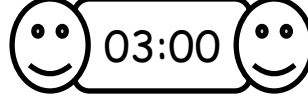
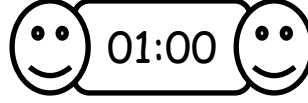
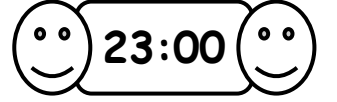
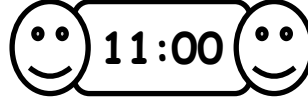
Ortada verilen saatlere göre, bir saat
öncesini ve bir saat sonrasını ayarlayınız.

bir saat
öncebir saat
sonra

Aşağıdaki saatlerden öğleden önceyi
gösterenleri kırmızıya, öğleden sonrayı
gösterenleri de sarıya boyayınız.



Aşağıdaki boşlukları örnekteki
gibi tamamlayalım.

öğleden
önceöğleden
sonra

Aşağıdaki problemleri çözünüz.

1. Ablam saat 14:30'da ders çalışmaya
başladı. 3 saat sonra ders çalışmayı bıraktı.
Ablam saat kaçta ders çalışmayı bıraktı?

$$\begin{array}{r} 14 : 30 \\ + 3 : 00 \\ \hline \end{array}$$

2. Abim kütüphaneye gitmek için saat
13:00 'te evden çıktı. Eve döndüğünde saat
15:30'du. Abim kütüphanede kaç saat
kalmıştır?

$$\begin{array}{r} 15 : 30 \\ - 13 : 00 \\ \hline \end{array}$$