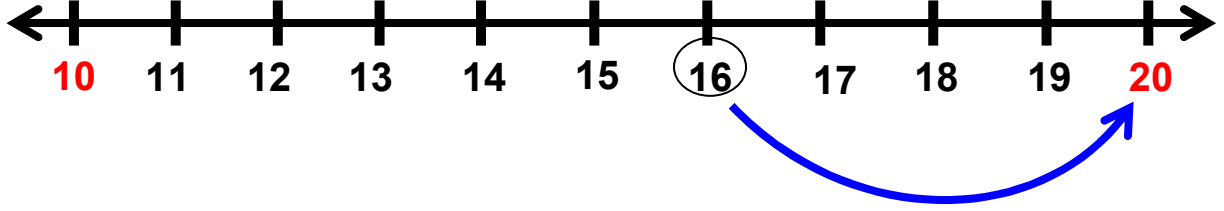


EN YAKIN ONLUK

ÖRNEK:

16 doğal sayısının en yakın olduğu onluğa sayı doğrusu üzerinde gösterelim.



➤ 16 doğal sayısını en yakın onluğa yuvarladığımızda 20 olur.

Aşağıdaki soruları sayı doğrularını kullanarak yanıtlayalım.

37 doğal sayısını en yakın onluğa yuvarlarsak kaç olur? Sayı doğrusunda gösteriniz.



➤

52 doğal sayısını en yakın onluğa yuvarlarsak kaç olur? Sayı doğrusunda gösteriniz.



➤

96 doğal sayısını en yakın onluğa yuvarlarsak kaç olur? Sayı doğrusunda gösteriniz.



➤

21 doğal sayısını en yakın onluğa yuvarlarsak kaç olur? Sayı doğrusunda gösteriniz.



➤
.....

47 doğal sayısını en yakın onluğa yuvarlarsak kaç olur? Sayı doğrusunda gösteriniz.



➤
.....

35 doğal sayısını en yakın onluğa yuvarlarsak kaç olur? Sayı doğrusunda gösteriniz.



➤
.....

88 doğal sayısını en yakın onluğa yuvarlarsak kaç olur? Sayı doğrusunda gösteriniz.



➤
.....

61 doğal sayısını en yakın onluğa yuvarlarsak kaç olur? Sayı doğrusunda gösteriniz.



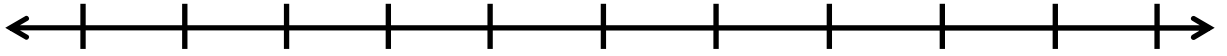
➤
.....

25 doğal sayısını en yakın onluğa yuvarlarsak kaç olur? Sayı doğrusunda gösteriniz.



➤
.....

72 doğal sayısını en yakın onluğa yuvarlarsak kaç olur? Sayı doğrusunda gösteriniz.



➤
.....

58 doğal sayısını en yakın onluğa yuvarlarsak kaç olur? Sayı doğrusunda gösteriniz.



➤
.....

73 doğal sayısını en yakın onluğa yuvarlarsak kaç olur? Sayı doğrusunda gösteriniz.



➤
.....

12 doğal sayısını en yakın onluğa yuvarlarsak kaç olur? Sayı doğrusunda gösteriniz.



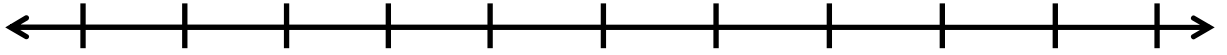
➤
.....

65 doğal sayısını en yakın onluğa yuvarlarsak kaç olur? Sayı doğrusunda gösteriniz.



➤
.....

33 doğal sayısını en yakın onluğa yuvarlarsak kaç olur? Sayı doğrusunda gösteriniz.



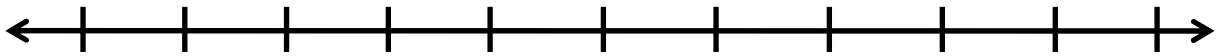
➤
.....

9 doğal sayısını en yakın onluğa yuvarlarsak kaç olur? Sayı doğrusunda gösteriniz.



➤
.....

18 doğal sayısını en yakın onluğa yuvarlarsak kaç olur? Sayı doğrusunda gösteriniz.



➤
.....

47 doğal sayısını en yakın onluğa yuvarlarsak kaç olur? Sayı doğrusunda gösteriniz.



➤
.....