

TÜRKÇE TESTİ

1. (1) Mikroskop, en güzel buluşlardan biri. (2) Bu eşsiz aygıt, bizi küçük şeylerin dünyasında yolculuğa çıkarıyor. (3) Üstelik kimi mikroskoplarla atomu da görebiliyoruz. (4) Mikroskoplarla böceklerin tüylerini, hücreleri, görebiliyoruz.



Numaralanmış cümlelerden hangi ikisi yer değiştirirse paragrafın anlatım bütünlüğü sağlanmış olur?

- A) 1. ve 2. B) 2. ve 3.
C) 1. ve 3. D) 3. ve 4.

2. 1. Yanıma gelki sana her şeyi anlatayım.
2. Bir önceki akşamda oradaydık.
3. Buradan otobüs kalkarmı bu saatte?
4. Mademki gelmeyecektin, neden söylemedin?



Minik balığın kafasını karıştıran sorunun yanıtı aşağıdakilerden hangisidir?

- A) 1. B) 2. C) 3. D) 4.

3.



Öğretmenlerinin verdiği bu bilgiden sonra öğrenciler de örnek vermiştir.

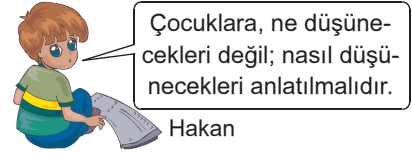
Hangi öğrencinin verdiği örnek, bu bilgiye uymaz?

- A) **Alev** : Kömürcüden üç çuval kömür alalım.
B) **Zeynep** : Yalancı insanlardan uzak dur.
C) **Atakan** : Gazeteci arkadaşımı aradım.
D) **Aytek** : Halıcı Çetin, mahalleye uğramadı.

4. İçinde ünlü düşmesi olan cümlelerle bir grup oluşturulduğunda aşağıdakilerden hangisi dışarıda kalır?

- A) Şehrin sonunda tarlalar vardı.
B) Adam gözlerini ufka çevirdi.
C) İyimser kişiliğiyle herkesi etkiledi.
D) Yolun bu kısmı bozuktur.

5.



Aşağıdakilerden hangisi Hakan'ın cümlesine anlamca en yakındır?

- A) Çocuklara düşünce özgürlüğü sağlanmalıdır.
B) Yetişkinler, çocuklara davranışlarıyla örnek olurlar.
C) Doğru düşünebilme becerisi, küçük yaşta edinilir.
D) Çocuğa kazandırılması gereken asıl şey, düşünme becerisidir.

6.

Cümleler	Uyarma	Acıma	Beğenme	Pişmanlık
1) Bir daha ödevlerini yapmadan gelirken seni affetmem.	✓			
2) Ay, ne güzel bir elbise!			✓	
3) Vah, vah! Zavallı köpeği sokağa mı atmışlar?		✓		
4) Aaa! O da mı bizimle gelecek?				✓

Yukarıdaki tabloda hangi cümlenin taşıdığı anlam yanlış işaretlenmiştir?

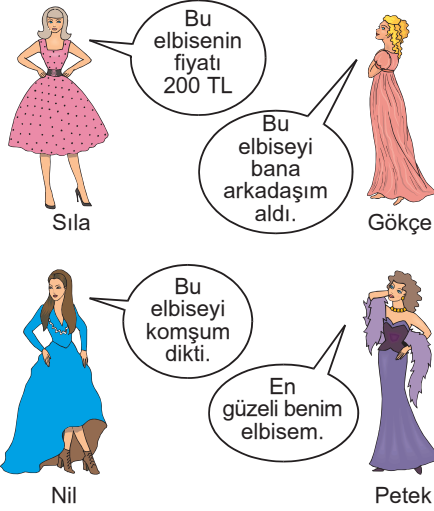
- A) 1. B) 2. C) 3. D) 4.

7. Aşağıdaki cümlelerden hangisi "nedir?" sorusunun karşılığıdır?

- A) Selimiye Camisi'ni, Mimar Sinan yapmıştır.
B) Gerçeği olduğu gibi yansıtmaktır sanat.
C) Kentlerde işsizlik oranı artmaktadır.
D) Aşk-ı Memnu romanı, televizyon dizisi oldu.

B

8.



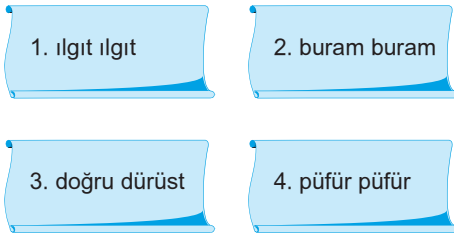
Aşağıdakilerden hangisi kişisel bir görüş bildirmiştir?

- A) Nil B) Sıla C) Petek D) Gökçe

9. Aşağıdaki cümlelerin hangisinde karşıt anlamlı sözcükler bir arada kullanılmıştır?

- A) Bana karşı gelişigüzel, çelişkili ifadeler kullandı.
B) Gidip gitmemek konusunda kararsız kaldı.
C) Yalan yanlış sözlerle beni kandırdı.
D) Varsılların, yoksullara yardım etmesi gerekir.

10.



Yukarıdaki ikilemelerden hangisi diğerlerinden farklı bir yolla oluşturulmuştur?

- A) 1. B) 2. C) 3. D) 4.

11. Dili mercan, dizi mercan, dişi mercan
Yoluna bir can koyduğum
Gökte ararken yerde bulduğum
Karadutum, çatal karam, çingenem
Daha nem olacaktın bir tanem
Gülen ayvam, ağlayan narımsın

Bedri Rahmi Eyüboğlu

Bu dizelerde aşağıdakilerden hangisi yoktur?

- A) İkileme B) Benzetme
C) Deyim D) Kişileştirme

B

12.



Yukarıda verilen numaralı dilimlerden hangileri çıkarılırsa geriye kalan sözcükler sestestlik ilişkisine kavuşur?

- A) 1. ile 3. B) 2. ile 8. C) 3. ile 7. D) 4. ile 6.

13.

- Davranışları ve sözleri yaşının gerektiğinden üstünde olan çocuk : ...
- Bir kimsenin önceleri belli olmayan kötü niteliğinin sonradan anlaşılması : ...
- Bulunduğu durumdan çok üstün bir duruma ulaşmayı istemek : ...
- Bir işi yapmamak için birtakım engeller çıkarmak, bahaneler uydurmak : ...

Boş bırakılan yerlere aşağıdaki deyimlerden hangisi getirilemez?

- A) İpe un sermek
B) Gözden düşmek
C) Büyümüş de küçülmüş
D) Foyası meydana çıkmak

14.

Bir öğrencim bir gün bana, kendisinin zeki olmadığını; bu yüzden dersleri anlamadığını ve sınavda da asla başarılı olamayacağını söyledi. Ben de ona fillerin eğitiminden bahsettim. Fil, yavruyken ayağından bir ipe bir ağaca zorla bağlanır. İpi ne kadar çekiştirse de kurtulmayı başaramaz. Zamanla büyüyen fil, mücadeleden vazgeçer. Öyle ki ağaca bağlanmasına bile gerek kalmadan sadece ayağından bağlanması kaçmaması için yeterli olmaktadır. Onun tutsaklığının nedeni, ---

Bu paragraf düşüncenin akışına göre aşağıdaki-lerden hangisiyle tamamlanamaz?

- A) başka fillerden yardım istememesidir.
B) zihnindeki yaraların ömür boyu sürmesidir.
C) ayağındaki ip değil, ön yargıları ve alışkanlıklarıdır.
D) kuruntularından, korkularından kurtulamamasıdır.

15.

TÜYAP Çocuk Kulübü
Saat : 12.15 - 13.15
Tarih : 6 Kasım Cumartesi
Söyleşi : Müzikli Masal Sepeti
Konuşmacı : Şebnem Oral
Düzenleyen : Kelime Yayınları

TÜYAP Çocuk Kulübü
Saat : 13.30 - 14.30
Tarih : 6 Kasım Cumartesi
Söyleşi : Çocuğun Edebiyatı
 Edebiyatın Çocuğu
Konuşmacı : Mehmet Güler
Düzenleyen : Çocuk ve Gençlik
 Yayınları

Yukarıdaki tabloda TÜYAP Çocuk Kulübü'nün 6 Kasım'daki programı verilmiştir.

Buna göre aşağıdakilerden hangisi söylenemez?

- A) Çocuklara yönelik çeşitli söyleşiler yapılmıştır.
- B) Söyleşiler bir saati geçmemektedir.
- C) İki söyleşiyi de aynı yayınevi düzenlemektedir.
- D) Söyleşilerin konuları birbirinden farklıdır.

16. Thomas Edison, ampulu bulana dek deneyini tam bin kez yinelemiş. Nihayet bin birincisinde ampul yanmış. Bir gazeteci, Edison'a sormuş: "Bin kez başarısız olmak nasıl bir duygu?" Edison yanıtlamış: "Bin kez başarısız olmadım. Ampul, bin bir adımlık bir icattı."

Edison'un sonuç alamadığı deneylerini başarısızlık saymamasının nedeni aşağıdakilerden hangisidir?

- A) Çünkü karamsarlığa düşenler, farklı buluşlar yapamazlar.
- B) Çünkü başarı, sabrın ve deneylerin ürünüdür.
- C) Çünkü başarı için çabalamak değil, deney yapmak gerekir.
- D) Çünkü çalışma olanakları yavaş yavaş yaratılabilir.

17. Her insanın bilgiden önce sevgi ve hoşgörüye ihtiyacı vardır. Çünkü eğitim, sevgi temelini üzerinde dimdik durur. Sevginin olmadığı bir okulda gerçek eğitim ve öğretimden söz edilemez. Sevgi ve hoşgörünün yoğun yaşandığı okullarda öğrenciler arasındaki problemler en aza inmiştir.

Bu paragrafta vurgulanmak istenen asıl düşünce, aşağıdakilerden hangisidir?

- A) Eğitimde başarıyı yakalamak için kurallara uyulmalıdır.
- B) Sevgi ve arkadaşlık üzerine kurulan her şey uzun sürelidir.
- C) Eğitimde sevgi ve hoşgörü olursa problemler en aza iner.
- D) Öğrenci problemlerini en aza indirmek için rehberlik çalışmalarına önem vermeliyiz.

18. Geçen yıl, yaz tatilinde Trabzon'a gittik. Trabzon mis gibi kokan temiz havasıyla insana huzur veriyor. Yaylaların buz gibi soğuk suları, insanı kendine getiriyor. Ayrıca acı tatlı yemeklerini de göz ardı etmemek gerekiyor.

Bu parçada aşağıdaki duyu organlarından hangisiyle ilgili bir ayrıntıya yer verilmemiştir?

- A) duymaya
- B) koklamaya
- C) tatmaya
- D) görmeye

19. Tilki : Sesiniz ne kadar güzel horoz kardeş! Tüyleriniz renk renk, pırıl pırıl ibiğiniz kralların tacı gibi başınızı süslüyor. Sanırım bu dünyada sizin kadar güzel bir hayvan yoktur. Benimle arkadaş olur musunuz?

Horoz : Niçin olmayayım? Ben de sizin gibi kurnaz bir arkadaşım olsun isterim. Yalnız bir önerim var. Benim Karabaş adında çok samimi bir arkadaşım var. Onu da aramıza alalım. O çok yırtıcı bir köpektir. Bizi korur. Dilerseniz Karabaş'ı hemen çağıralım, gelin.

Tilki : Hayır, bu işi yarına bırakalım. Bugün benim çok işim var!

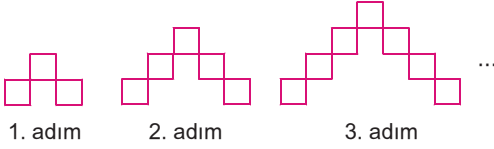
Bu parça için aşağıdakilerden hangisi söylenemez?

- A) Karşılaştırma yapılmıştır.
- B) Atasözleri kullanılmıştır.
- C) Kişileştirme ve konuşturma vardır.
- D) Benzetmeye yer verilmiştir.

**TÜRKÇE TESTİ BİTTİ.
 MATEMATİK TESTİNE GEÇİNİZ.**

MATEMATİK TESTİ

1.



Yukarıda karelerle modellenen şekil örüntüsünün 6. adımında kaç tane kare vardır?

- A) 11 B) 13 C) 15 D) 16

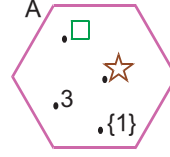
2.

Furkan'ın Efe'ye 5 TL, Efe'nin Furkan'a 12 TL borcu vardır. Arda hem Efe'ye hem Furkan'a olan 7 TL borcunu ödedikten sonra Efe ile Furkan'da birbirlerine olan borçlarını ödemişlerdir.

Başlangıçta hiç parası olmayan Efe ve Furkan'ın son durumda kaç paraları vardır?

	Efe	Furkan
A)	Yoktur	10 TL
B)	7 TL	7 TL
C)	5 TL	14 TL
D)	Yoktur	14 TL

3.



Venn şemasıyla gösterilen A kümesine göre, aşağıdakilerden hangisi yanlıştır?

- A) $1 \in A$ B) $3 \in A$
C) $\{1\} \subset A$ D) $\emptyset \subset A$

4.

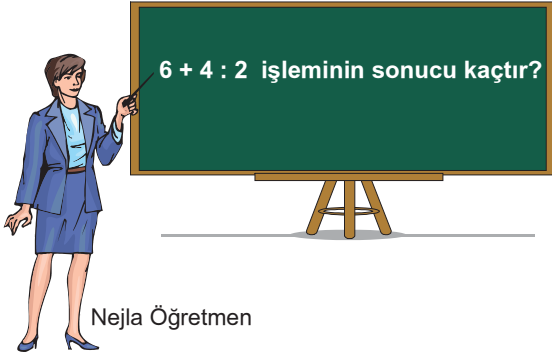


Meliha Hanım bahçesinde bulunan çiçek saksılarını yukarıdaki gibi dizmiştir.

Saksıların sayısını torunları Esra ve Emre aşağıdaki gibi hesaplayıp aynı sonucu bulmaları hangi özellik ile açıklanabilir?

Esra	Emre
$3 \cdot 5 = 15$	$5 \cdot 3 = 15$

- A) Değişme özelliği
B) Birleşme özelliği
C) Dağılma özelliği
D) Etkisiz eleman

B**B****5.**

Nejla Öğretmen'in yazılı sınavda sorduğu soru yukarıda verilmiştir.

Buna göre, soru aşağıdaki sınav kağıtlarının hangisinde doğru çözülmüştür?

A) $6 + 4 : 2 = 10 : 2$
= 5

B) $6 + 4 : 2 = 6 + 2$
= 8

C) $6 + 4 : 2 = 6 + 1$
= 7

D) $6 + 4 : 2 = 6 + 4$
= 10

6. $A = \{ \dots, 5, \dots, 7, \dots \}$

Yukarıda bazı elemanları boş bırakılan 5 elemanlı A kümesi aşağıda ortak özellik yöntemleriyle verilen kümelerden hangisine eşit olabilir?

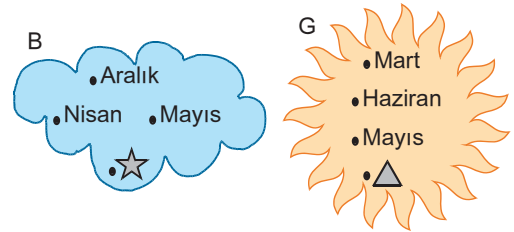
- A) {5 ile 15 arasındaki tek doğal sayılar}
- B) {4 ile 16 arasındaki çift doğal sayılar}
- C) {1 ile 8 arasındaki doğal sayılar}
- D) {3 ile 15 arasındaki tek doğal sayılar}

B**B****B****7.**

Yukarıdaki sayı doğrusunda -3 ile 12 arası eşit bölmelere ayrılmıştır.

Buna göre; $|-5|$ sayısı, sayı doğrusu üzerinde gösterilen K, L, M ve N sayılarından hangisine daha yakındır?

- A) K
- B) L
- C) M
- D) N

8.

Yukarıdaki B ve G kümelerinin kesişiminin {İlkbahar mevsiminin ayları} kümesi olabilmesi için ☆ ve △ sembolleri yerine aşağıdaki elemanlardan hangisi gelmelidir?

☆	△
A) Haziran	Nisan
B) Mart	Nisan
C) Haziran	Aralık
D) Mart	Aralık

9.

$$1999 + (2011 + \otimes) = (1999 + 2011) + 1939$$

olduğuna göre, \otimes yerine gelmesi gereken sayı aşağıdakilerden hangisidir?

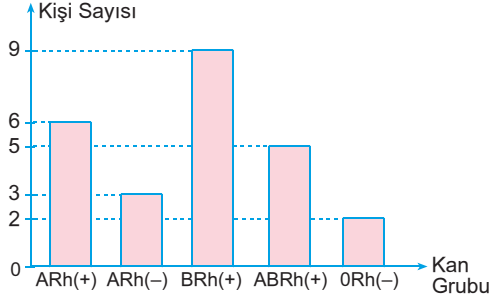
- A) 1950
- B) 1944
- C) 1939
- D) 1900

10.-16. SORULAR SEÇMELİ HAZIRLANMIŞTIR. CEVAP ANAHTARI AYNIDIR.
AYNI NUMARALI SORULARDAN İŞLEDİĞİNİZ MÜFREDATTAN SİZE UYGUN OLANI CEVAPLAYINIZ.

10. 5 tane $\frac{2}{3}$ ün toplamı ile 3 tane $\frac{1}{5}$ in toplamı kaçtır?

A) $3\frac{14}{15}$ B) $2\frac{11}{15}$ C) $2\frac{4}{15}$ D) $\frac{13}{15}$

11. Grafik: Kan Grupları



Yukarıdaki sütun grafiği bir sınıftaki öğrencilerin kan gruplarını ve öğrenci sayılarını göstermektedir.

Buna göre, aşağıdakilerden hangisi yanlıştır?

- A) Sınıf mevcudu 25 kişidir.
B) Sınıfta en çok kan grubu BRh(+) olan öğrenci vardır.
C) Kan grubu ARh(+) olan öğrenci sayısı, kan grubu ARh(-) öğrenci sayısından 3 eksiktir.
D) Kan grubu ABRh(+) ile 0Rh(-) olan öğrenci sayısı toplam 7 dir.

12. Semra Hanım oğlu Erdem'e hergün a lira harçlık veriyor. Erdem parasının bir kısmını harcıyor, bir kısmını da biriktiriyor.

Erdem 10 günün sonunda b lira biriktirdiğine göre, harcadığı miktarı gösteren cebirsel ifade aşağıdakilerden hangisidir?

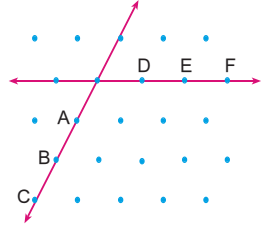
A) $10a + b$ B) $5a - b$
C) $b - 10a$ D) $10a - b$

13. 32 sayısının doğal sayı çarpanlarından ☆ tanesi tek sayı, ☼ tanesi çift sayıdır.

Buna göre, ☼ - ☆ farkı aşağıdakilerden hangisidir?

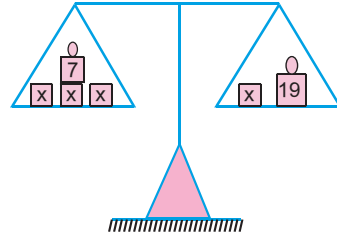
A) 4 B) 3 C) 2 D) 1

10. Yandaki izometrik kağıtta verilen şekilde aşağıdaki doğrulardan hangisi çizilirse bir ikizkenar üçgen elde edilir?



A) CF B) AE C) BF D) BD

- 11.



Yukarıdaki eşit kollu terazinin kefelelerine bazı cisimler ve bu cisimlerin üzerine kütleleri kilogram cinsinden yazılmıştır.

Terazi dengede olduğuna göre, x kaçtır?

A) 4 B) 5 C) 6 D) 7

12. Yiğit kısa kenarının uzunluğu 4 cm, uzun kenarının uzunluğu 12 cm olan bir dikdörtgene benzer bir dikdörtgen çizecektir.

Buna göre, Yiğit'in çizeceği dikdörtgenin uzun kenarının uzunluğu 3 cm ise kısa kenarının uzunluğu kaç cm olmalıdır?

A) 4 B) 3 C) 2 D) 1

13. 20° lik bir açının tümler açısının ölçüsü, kaç derecelik bir açının bütünler açısının ölçüsüne eşittir?

A) 110 B) 90 C) 70 D) 50

FEN ve TEKNOLOJİ TESTİ

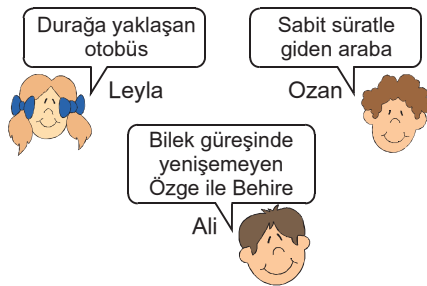
1.



Yukarıda birbiri ile bağlantılı cümlelerin doğru ya da yanlış olduğuna karar vererek ok yönünde ilerlendiğinde hangi çıkışa ulaşılır?

- A) 1. çıkış B) 2. çıkış
C) 3. çıkış D) 4. çıkış

2. Leyla, Ozan ve Ali dengelenmiş ve dengelenmemiş kuvvetlerle ilgili aşağıdaki örnekleri vermişlerdir.



Buna göre, hangi öğrencilerin verdiği örnekler dengelenmiş kuvveti belirtir?

- A) Ozan-Ali B) Leyla-Ozan
C) Leyla-Ali D) Leyla-Ozan-Ali

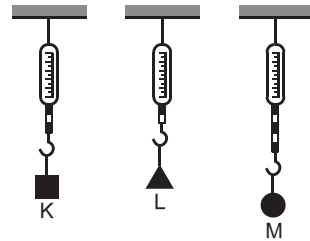
3. Ceyda, Ali, Savaş ve Ceren'in bir cisme uyguladıkları kuvvetlerin yön ve büyüklükleri aşağıdaki tabloda verilmiştir.

Kişi	Kuvvet	
	Yön	Büyüklük
Ceyda	Doğu	8 N
Ali	Kuzey	3 N
Savaş	Batı	12 N
Ceren	Güney	3 N

Buna göre, cisme etki eden bileşke kuvvetin yönü ve büyüklüğü aşağıdakilerden hangisidir?

Yön	Büyüklük
A) Batı	14 N
B) Kuzey	4 N
C) Güney	6 N
D) Batı	4 N

4. Hande özdeş dinamometrelere farklı ağırlıktaki K, L, M cisimlerini asıyor ve K cisminin ağırlığını 12 N olarak ölçüyor.

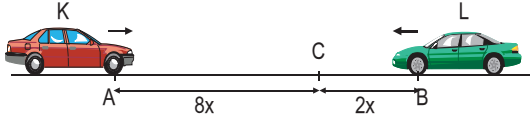


Buna göre, Hande L ve M cisimlerinin ağırlıklarını aşağıdakilerden hangisi gibi ölçer?

L	M
A) 6 N	15 N
B) 8 N	20 N
C) 15 N	6 N
D) 4 N	16 N

B

5.

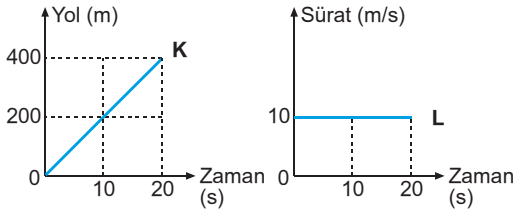


Sabit süratlerle hareket eden K ve L araçları aynı anda A ve B noktalarından geçerek C noktasında karşılaşıyorlar.

Buna göre, araçların süratleri arasındaki ilişki aşağıdakilerin hangisindeki gibi olabilir?

	K	L
A)	v	v
B)	$2v$	v
C)	v	$4v$
D)	$8v$	$2v$

6.



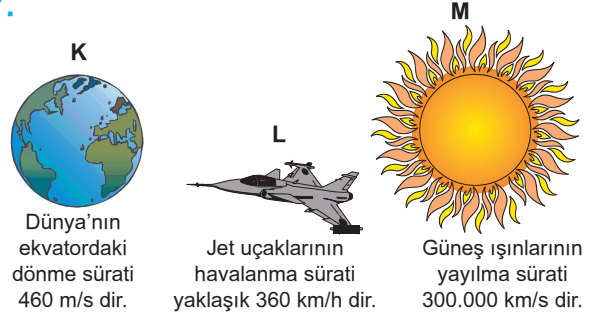
K aracına ait yol-zaman ve L aracına ait sürat-zaman grafikleri yukarıdaki gibidir.

Buna göre, K ve L araçları ile ilgili aşağıdaki ifadelerden hangisi doğrudur?

- A) K aracının sürati zamanla artmaktadır.
- B) L aracı durmaktadır.
- C) K aracının sürati 20 m/s dir.
- D) L aracı 20 saniyede 10 m yol almıştır.

B

7.



Şekilde verilen olaylardaki hareketlerin süratleri arasındaki büyüklük ilişkisi aşağıdakilerden hangisinde doğru verilmiştir?

- A) $V_M > V_L > V_K$
- B) $V_M > V_K > V_L$
- C) $V_K > V_L > V_M$
- D) $V_L > V_M > V_K$

8.

Ayça ile Bora, X ve Y ile belirttikleri maddelerle ilgili bilgiler vermişlerdir.



Ayça

X maddesinin belirli bir hacmi ve belirli bir şekli var.

Y maddesinin belirli bir hacmi var ama şekli yok.



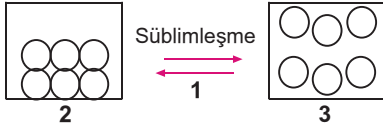
Bora

Buna göre, Ayça ve Bora'nın bilgilerini verdikleri X ve Y maddelerinin fiziksel halleri aşağıdakilerden hangisidir?

X maddesi	Y maddesi
A) Gaz	Sıvı
B) Katı	Gaz
C) Sıvı	Katı
D) Katı	Sıvı

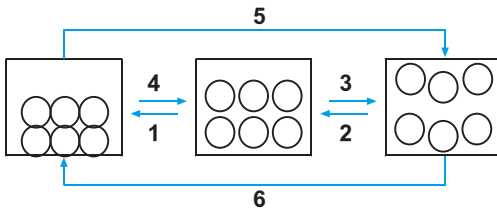
B

9. Ela, bir maddede meydana gelen değişimi şekildeki gibi göstermiştir.



Buna göre, Ela şekilde gösterilen durumla ilgili aşağıdaki yorumlardan hangisini yapamaz?

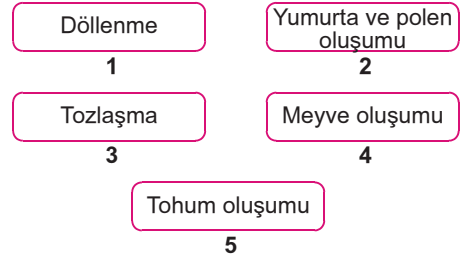
- A) 1 numaralı olay yoğuşmadır.
B) Maddenin 3 numaralı hali en düzensizdir.
C) Maddenin 2 numaralı hali katıdır.
D) Maddenin 3 numaralı halinin belirli bir şekli yoktur.

10.

Maddenin fiziksel halleri arasındaki dönüşüm şemada gösterilmiştir.

Buna göre, hangi dönüşümlerde maddenin düzensizliği artar?

- A) 1, 2, 6
B) 3, 4, 5
C) 1, 2, 5
D) 2, 3, 6

B**11.**

Çiçekli bir bitkinin hayat döngüsünde meydana gelen bazı olaylar yukarıda verilmiştir.

Bu olayların gerçekleşme sıralaması aşağıdaki-lerden hangisinde doğru verilmiştir?

- A) 1-4-5-2-3
B) 1-2-3-4-5
C) 2-3-1-4-5
D) 2-3-1-5-4


12.

25 °C	25 °C	25 °C	40 °C
nemli pamuk	nemli pamuk	kuru pamuk	nemli pamuk
oooooo	oooooo	oooooo	oooooo
nemli pamuk	nemli pamuk	kuru pamuk	nemli pamuk

“Çimlenme” konusunu araştırmak için Ceren fasulye tohumlarıyla yukarıdaki deney düzeneklerini hazırlıyor.

Buna göre, Ceren bu deneyde aşağıdaki sorulardan hangisine cevap bulamaz?

- A) Sıcaklık, tohumun çimlenmesini etkiler mi?
B) Su, tohumun çimlenmesi için gerekli midir?
C) Tohum çeşidi, çimlenmenin hızını etkiler mi?
D) Hava, tohumun çimlenmesi için gerekli midir?

B**13.**


- Doğurarak çoğalır.
- İç gelişme görülür.
- Yavru bakımı görülür.
- Başkalaşım geçirmez.



- Yumurtayla çoğalır.
- Dış gelişme görülür.
- Yavru bakımı görülür.
- Başkalaşım geçirmez.

B

- Yumurtayla çoğalır.
- Dış gelişme görülür.
- Yavru bakımı görülmez.
- Başkalaşım geçirir.



- Yumurtayla çoğalır.
- Dış gelişme görülür.
- Yavru bakımı görülmez.
- Başkalaşım geçirmez.

Yukarıda bazı hayvanların özellikleri verilmiştir.

Buna göre, hangi hayvanın özelliklerinde hata yapılmıştır?

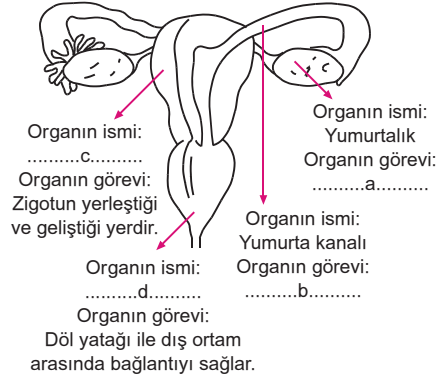
- A) Yunus
B) Güvercin
C) Kurbağa
D) Fil

14. Aşağıdaki numaralandırılarak verilen ifadeler insanda büyüme ve gelişme döneminde görülen belirgin özellikleri temsil etmektedir.

1. Gereklerini karşılamak için anne ve babasına ihtiyaç duyuyor.
2. Belli bir mesleği seçmiştir.
3. Sesi kalınlaşmıştır.
4. Sebepsiz öfkelenir.
5. Arkadaş grupları önem kazanmıştır.
6. Adet görmeye başlamıştır.

Buna göre, 14 yaşındaki Ahmet'te yukarıda belirtilen özelliklerden hangileri görülebilir?

- A) 1 ve 3
B) 1, 2 ve 6
C) 3, 4 ve 5
D) 1, 3, 4, 5 ve 6

B**15.**

Yukarıda dişi üreme sistemine ait yapıların şekilleri, isimleri ve görevleri verilmiştir.

Buna göre; a, b, c ve d aşağıdakilerden hangisinde yanlış verilmiştir?

- A) a → Yumurta üretir.
B) b → Döllenmenin gerçekleştiği yerdir.
C) c → Spermin kanalı
D) d → Vajina

16. Organel Bitki hücresi Hayvan hücresi

★	–	+
■	+	+
●	+	–

Yukarıda verilen ★, ■, ● organelleri bitki veya hayvan hücresinde bulunuyorsa (+) ile bulunmuyorsa (–) ile gösterilmiştir.

Buna göre; ★, ■, ● organelleri aşağıdakilerden hangisi gibidir?

★	■	●
A) Sentrozom	Mitokondri	Kloroplast
B) Golgi cisimciği	Mitokondri	Kloroplast
C) Mitokondri	Golgi cisimciği	Sentrozom
D) Sentrozom	Kloroplast	Golgi cisimciği

**FEN ve TEKNOLOJİ TESTİ BİTTİ.
SOSYAL BİLGİLER TESTİNE GEÇİNİZ.**

SOSYAL BİLGİLER TESTİ

1.

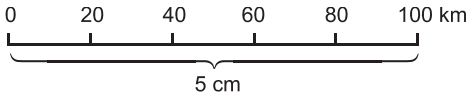


Öğretmenimiz büyük ölçekli haritalarda küçültme oranının az olduğunu söyledi.

Efe'nin derste öğrendiği bilgiye göre büyük ölçekli haritaların özelliklerinden hangisine ulaşamaz?

- A) Ölçek paydası küçüktür.
- B) Küçültme oranı azdır.
- C) Ayrıntı azdır.
- D) Dar alanlar gösterilir.

2.



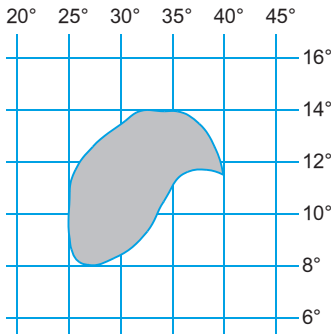
Yukarıda verilen çizgi ölçeğin kesir ölçek olarak karşılığı, aşağıdakilerden hangisidir?

- A) 1/2 000 000
- B) 1/200 000
- C) 1/100 000
- D) 1/50 000

3. Aşağıdakilerden hangisi haritalarda olması gereken özelliklerden birisi değildir?

- A) Ölçek
- B) Lejant
- C) Başlık
- D) İl sınırları

4.



Yukarıdaki şekilde taralı olarak verilen bölgenin matematik konumu belirtilirken, aşağıdakilerden hangisi kullanılmaz?

- A) 14° Kuzey
- B) 25° Doğu
- C) 40° Doğu
- D) 10° Kuzey

5.

Genel haritalardan birisi olan fiziki haritalar yerşekillerini göstermektedir.

Buna göre, aşağıdakilerden hangisi fiziki haritalarda yer almaz?

- A) Ankara il sınırı
- B) Kızılırmak'ın uzunluğu
- C) Uludağ'ın yükseltisi
- D) Çukurova'nın denize yakınlığı

6.



Dünya'nın şeklinin sonuçları nelerdir?

Aşağıdakilerden hangisi Eda'nın sorusunun doğru yanıtı olamaz?

- A) Güneş ışınları Ekvator'a kutuplardan daha büyük açıyla gelir.
- B) Meridyenler arası mesafe Ekvator'da en fazladır.
- C) Yerden yükseldikçe görülebilen alan genişler.
- D) Nüfuslanmanın en fazla olduğu kıta Asya'dır.

7.



Paralel dairelerinin boyları Ekvatordan kutuplara doğru kısalır.

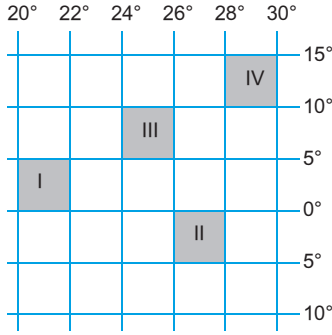
Bu durumun nedeni aşağıdakilerden hangisidir?

- A) Dünya'nın şekli
- B) Kara ve denizlerin dağılışı
- C) Sıcaklık farkları
- D) Dünyanın kendi ekseninde dönmesi

B

B

8.



Yukarıdaki koordinat düzleminde verilen taralı alanlardan hangisi Ekvator'un güneyinde yer alır?

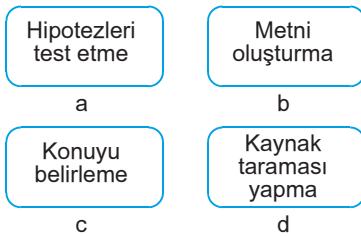
- A) I B) II C) III D) IV

9. Türkiye, 36° – 42° Kuzey paralelleri ile 26° – 45° Doğu meridyenleri arasında yer alır. Bu, Türkiye'nin matematik konumudur.

Buna göre, aşağıdakilerden hangisi Türkiye'nin matematik konumu ile açıklanamaz?

- A) Akdeniz kıyılarının Karadeniz kıyılarından daha sıcak olması
B) Kuzeyi ile güneyi arasında 666 km kuş uçuşu uzaklık bulunması
C) Akdeniz, Karadeniz ve Ege denizlerine kıyısı olması
D) Başmeridyen'e göre saatin ileri olması

10.



Yukarıda verilen bilimsel araştırma basamaklarının doğru sıralanışı aşağıdakilerden hangisidir?

- A) a – b – c – d B) c – d – a – b
C) b – d – a – c D) c – b – d – a

B

B

B

11.

Olgu	Görüş
★ Herkes tarafından kabul edilir.	▲ Kişiden kişiye değişir.
● Bilimsel verilere dayanır.	◆ Kanıtlanabilir.
■ Özneldir.	♥ Bireysel düşünceyi yansıtır.

Yukarıdaki tabloda olgu ve görüş ile ilgili özellikler sembollerle karışık olarak verilmiştir.

Buna göre, hangi semboller yer değiştirirse tablo doğru olur?

- A) ★ ve ▲ B) ● ve ◆ C) ■ ve ◆ D) ■ ve ♥

12.



Yukarıdaki resimde belirtilen soruna çözüm bulmak isteyen Gözde'nin aşağıdaki kurumlardan hangisine başvurması uygun olmaz?

- A) Reklam kurulu B) Muhtarlık
C) Kaymakamlık D) Belediye

13. Ümit Öğretmen: Sosyal bilgiler dersinin yararları nelerdir?

Buket: Vatandaşlık duygularını ve sorumluluk bilincini geliştirir.

Melis: Topluma uyum sağlayacak bireyler yetiştirir.

Selen: Bireylerin eleştireci düşünme yeteneklerini geliştirir.

Ümit Öğretmen'in sorduğu soruya karşılık öğrencilerin verdiği cevaplara bakılarak, sosyal bilgiler dersinin aşağıdakilerden hangisini hedeflediği söylenebilir?

- A) Ülkedeki üniversite sayısını artırmayı
B) Eğitim sistemini düzenlemeyi
C) Toplumu ülkenin ekonomik kaynakları hakkında bilgilendirmeyi
D) Bireylere toplumsal kişilik kazandırmayı

B

B

DİN KÜLTÜRÜ ve AHLAK BİLGİSİ DERSİNİ OKUYANLAR AŞAĞIDAKİ SORULARI CEVAPLAYACAKLAR. OKUMAYANLAR BUNUN YERİNE, AYNI NUMARALI SOSYAL BİLGİLER SORULARINI CEVAPLAYACAKLAR.

14. • Günde beş kez yapılan ibadet
- Ramazan ayında otuz gün boyunca yapılan ibadet
 - Namaz kılmadan önce sünnetlere uygun olarak yapılan temizlik
 - Suyun olmadığı ya da kullanılamayacağı durumda alınan abdest

Yukarıdaki bilgiler aşağıdaki seçeneklerle eşleştirildiğinde hangisi dışarıda kalır?

- A) Abdest B) Sünnet
C) Oruç D) Namaz

15. Hz. Muhammed'in kişilik özellikleri arasında aşağıdakilerden hangisi yer almaz?

- A) Dürüstlük B) Umursamazlık
C) Çalışkanlık D) İyi niyetlilik

16.



Din Kültürü dersinde Hasan Öğretmen öğrencilere Kuran'la ilgili yukarıdaki bilgileri vermiştir.

Bu bilgilere göre, Kuran'ı Kerim ile ilgili aşağıdaki yargılardan hangisine ulaşılamaz?

- A) İslam dininin özelliklerinin anlatıldığına
B) İslam dininin temel ilkelerinin yer aldığına
C) İlk gönderilen kitap olduğuna
D) Allah'ın emir ve yasaklarının bulunduğu

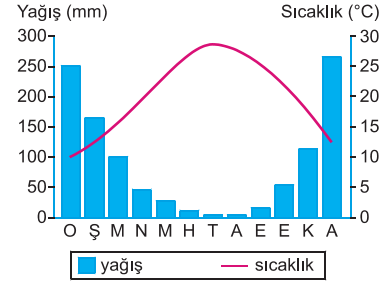
B

B

B

DİN KÜLTÜRÜ ve AHLAK BİLGİSİ DERSİNİ OKUMAYANLAR, AŞAĞIDAKİ SOSYAL BİLGİLER SORULARINI CEVAPLAYACAKLAR. DİN KÜLTÜRÜ ve AHLAK BİLGİSİ DERSİNİ OKUYANLAR CEVAPLAMAYACAKLAR.

14.



Yıllık sıcaklık ve yağış ortalamalarının verildiği yukarıdaki grafiğe göre, aşağıdakilerden hangisi söylenemez?

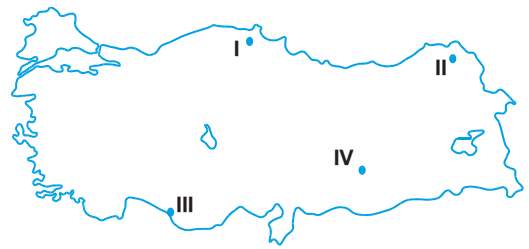
- A) Kış sıcaklık ortalaması 10 °C'nin üzerindedir.
B) Kar yağışı ve don olayları fazladır.
C) En çok yağış kış aylarında alınır.
D) Yaz ayları sıcak ve kurak geçer.

15. Belli sınırlar içerisinde, uzun yıllar boyunca devam eden hava olaylarına **iklim** denir.

Buna göre, aşağıdaki yargılardan hangisi bir yerdeki iklim özellikleri hakkında bilgi vermez?

- A) Antalya'da yazlar sıcak ve kurak geçer.
B) Bu sabah sis nedeniyle göz gözü görmüyordu.
C) Doğu Anadolu'da kışlar çok soğuk geçer.
D) Karadeniz'de yağışlar yağmur şeklindedir.

16.



- Yazlar sıcak ve kuraktır.
- Bitki örtüsü makidir.
- En fazla yağışın görüldüğü mevsim kıştır.

Yukarıda, bazı özellikleri verilen iklim tipinin yaşandığı yer, haritadaki numaralandırılmış alanlardan hangisi olabilir?

- A) I B) II C) III D) IV

**SOSYAL BİLGİLER TESTİ BİTTİ.
İNGİLİZCE TESTİNE GEÇİNİZ.**

İNGİLİZCE TESTİ

1. - 2. sorularda resimle eşleşmeyen ifade hangisidir?

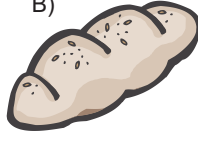
1.

A)



a can of coke

B)




a loaf of bread

C)



a jug of parsley

D)



a plate of food

2.

A)



a jacket

B)



slippers

C)



a hat

D)



a tie

3. - 5. sorularda verilen boşluklara uygun gelen seçeneği bulunuz.

3.

_____ we dance at the party?

A) How about

B) Let's

C) What about

D) Shall

4.

_____ money do we _____ ?

A) How much / need

B) How much /has

C) How many / need

D) How many / have

5.

I am wet. Because I haven't got an _____ .

A) umbrella

B) glasses

C) slippers

D) crayons

6. - 8. sorularda I-II-III nolu resimler hangi seçenekte doğru eşleştirilmiştir?

6.

I	II	III

A) I-fat

B) I-fat

II-curly hair

II-old

III-old

III-handsome

C) I-fat

D) I- thin

II-straight hair

II-short hair

III-beautiful

III- young

7.

I	II	III

A) I-two loaves of bread

II-a cup of coffee

III-a bowl of soup

B) I-two slices of bread

II-a cup of coffee

III-a bowl of soup

C) I-two packets of bread

II-a cup of coffee

III-a bowl of soup

D) I-a slice of bread


II-a cup of coffee

III-a bottle of soup

B

B


8.



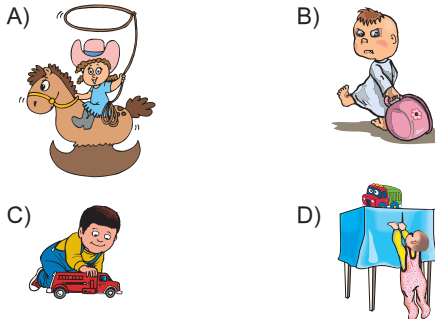
- A) I-windy
II-snowy
III-rainy
- B) I-sunny
II-windy
III-snowy
- C) I-rainy
II-sunny
III-cold
- D) I-rainy
II-windy
III-snowy

9. - 11. sorularda verilen ifadelerle uygun gelen resimleri bulunuz.

9. He enjoys painting pictures but he hates writing letters.



10. The baby can't touch the toy.

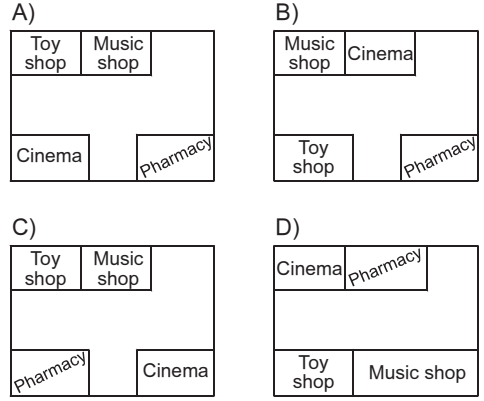


B

B

B

11. There is a music shop opposite the toy shop.



12. - 13. sorularda gramer bakımından yanlış olan seçeneği bulunuz.

12. A) You should has a shower.
B) Necla's birthday is in February.
C) Don't throw your rubbish on the floor.
D) I haven't got any brothers but I have got a little sister.
13. A) Would you like eating fruit yoghurt ?
B) The school finishes at 3 o'clock.
C) My parents don't live in Istanbul.
D) There are seven days in a week.

SINAV BİTTİ.
YANITLARINIZI KONTROL EDİNİZ.