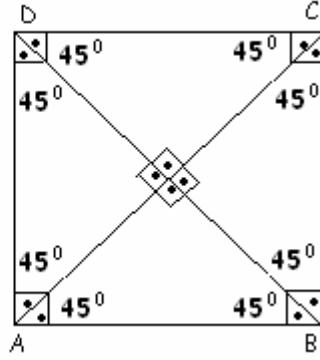
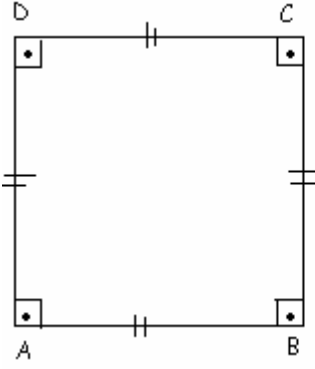


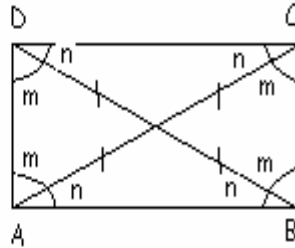
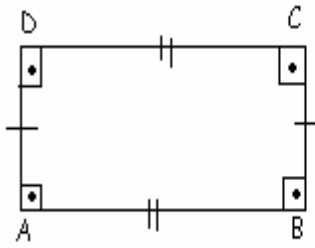
KARE :



Karenin tüm kenarlarıuzunluktur.
Kareninkenarları birbirine
Karenin açıları ölçüleri.....ve her biri dir.
Karenin.....eşit uzunluktur.
Karenin köşegenleri birbirinikeser.
Köşegenler karenin açılarınıparçaya ayırır.
Bir köşegeni kareyi iki eşayırır.

eşit 90° - dik-karşılıklı eşittir-iki eş-köşegenleri-eşit- üçgene

DİKDÖRTGEN:

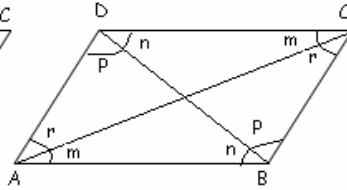
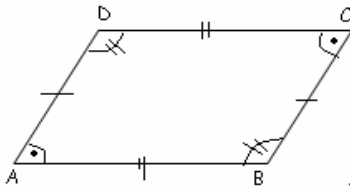


Dikdörtgeninkenarları eşit uzunluktur.
Dikdörtgenlerin karşılıklı kenarları birbirine
Dikdörtgenin açı ölçülerive her biridir.
Dikdörtgeninuzunluktur.
Dikdörtgenlerin köşegenleri birbirlerini.....parçaya böler.

Bir köşegeni dikdörtgeni.....üçgene ayırır.

iki eş - eşit 90° - karşılıklı- köşegenleri eşit- iki eş - paraleldir

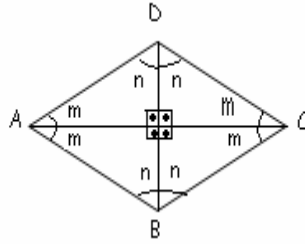
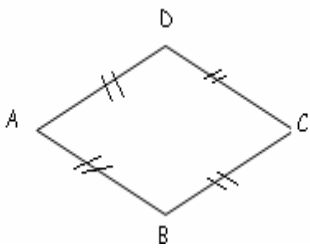
PARALELKENAR:



Paralelkenarınkenarları.....uzunluktur.
Paralelkenarın karşılıklı kenarları birbirine.....
Paralelkenarın karşılıklı açıların ölçüleri.....
Paralelkenarın köşegenleri.....
Bir köşegeni paralelkenarı iki.....ayırır.

paraleldir - birbirine eşittir- eş üçgene - farklı- karşılıklı eşit

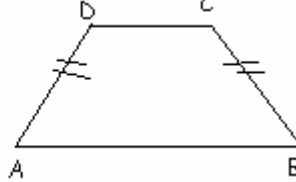
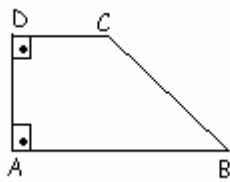
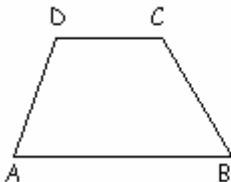
EŞKENAR DÖRTGEN :



Eşkenar dörtgeninkenarları.....uzunluktur.
Eşkenar dörtgenin karşılıklı kenarları birbirine.....
Eşkenar dörtgenin karşılıklı.....ölçüleri birbirine.....
Eşkenar dörtgenin köşegenleri.....uzunluktur.

paraleldir - açıları eşittir- tüm,eşit -eşittir

YAMUK



Yamuğun karşılıklı kenar çiftlerinden en çok biri paraleldir