

**FEN VE TEKNOLOJİ**

1. Aşağıdakilerden hangisi iskelet sisteminin görevlerinden biri değildir?

- A. Hayati önemi olan iç organlarımızı korumak.
- B. Vücudumuza şekil vermek.
- C. Vücutta oluşan ve biriken zararlı maddeleri dışarıya atmak.
- D. Kas ve sinir sistemleriyle birlikte, vücudun hareket etmesini sağlamak.

2. İskeletimizde bulunan kemik şekilleri ve bulundukları yerlerle ilgili doğru eşleştirme hangisidir?

- A. yassı kemikler □ kafatasında
- B. uzun kemikler □ omurgada
- C. kısa kemikler □ kol ve bacaklarda
- D. kısa kemikler □ kaburgalarda

**I. Kafatası, II. Omurga, III. Kaburga, IV. Göğüs kafesi, V. Kol ve bacak kemikleri,**

3. Yukarıda verilenlerden hangileri iskeletimizin temel kısımlarındandır?

- A. I, II, III, IV, V
- B. I, II, IV, V
- C. II, III, V
- D. I, III, IV

4. Kemiklerin birbirlerine bağlandıkları yerlere ne denir?

- A. bağlantı
- B. Kas
- C. eklem
- D. sinir

5. Sırasında dik oturmayan, sürekli ağır yük taşıyan, okul çantasını uygun şekilde taşımayan bir öğrencinin iskeletinin hangi bölümünde kalıcı şekil bozuklukları olabilir?

- A. Göğüs kafesinde
- B. Kafatasında
- C. Kaburgalarında
- D. Omurgasında

6. Dizlerimizdeki ve dirseklerimizdeki eklemler hangi tür eklemler gurubuna girer?

- A. oynar eklem
- B. oynamaz eklem
- C. yarı oynar eklem
- D. az oynar eklem

7. Aşağıdakilerden hangisindeki eklemlerin olduğu yerde eklenen kemikler hareket etmez?

- A. ayak bilekleri
- B. el parmakları
- C. omurga
- D. kafatası

8. Kasların yapısıyla ilgili yanlış verilen bilgi hangisidir?

- A. Kasların yapısındaki liflerin bir araya gelmesiyle lif demetleri oluşur.
- B. Kaslar lifli yapıdadırlar.
- C. Kaslar, kemiklere damarlarla bağlanmıştır.
- D. Kas demetlerinin üzeri zarla kaplıdır.

9. Kas sağlığımız için aşağıdakilerden hangisini yapmalıyız?

- A. Kaslarımızın yorulmaması için hiç spor yapmamalıyız.
- B. Dengeli ve düzenli beslenmeliyiz.
- C. Kaslarımız çok güçlü olsun diye çok ağır yükleri kaldırmalıyız.
- D. Kaslarımızın sudan zarar görmemesi için fazla banyo yapmamalıyız.

**I. Karaciğer II. Burun, III. Soluk borusu, IV. Mide, V. Yutak,**

10. Yukarıda verilenlerden hangileri solunumla ilgili organlarımızdandır?

- A. II, III, V
- B. I, II, III, IV, V
- C. I, II, III, V
- D. II, III, IV, V

11. Bir yaralıyı kontrol eden doktor, yaralının göğüs kafesinin genişleyip genişlemediğini gözlemlemiştir. Doktor bu gözlemiyle neyi öğrenmek istemiştir?

- A. Kalbinin çalışıp çalışmadığını.
- B. Nefes alıp almadığını.
- C. Göğsünde bir yara olup olmadığını.
- D. Diyaframın çalışıp çalışmadığını.

12. Aşağıdakilerden hangisi akciğerler yoluyla ölümlere neden olur?

- A. Mutfak tüpü veya doğal gazın kaçak yapması.
- B. Bozulmuş gıdaların tüketilmesiyle zehirlenme.
- C. Kalp krizi geçirme.
- D. Yüksek bir yerden düşme.

13. Damarların içerisindeki kanın vücutta dolaşımını nasıl olmaktadır?

- A. Kan, yer çekiminin etkisiyle damarlarda dolaşmaktadır.
- B. Herhangi bir etki olmadan kendiliğinden dolaşmaktadır.
- C. Kalbin pompalamasıyla dolaşmaktadır.
- D. Akciğerlerimize aldığımız havanın basıncıyla dolaşmaktadır.

14. Nabız sayısı en yüksek olan grupta hangisidir?

- A. Yaşlılar
- B. Gençler
- C. Bebekler
- D. Çocuklar

15. Aşağıda organlar ve ait olduğu yapılar eşleştirilerek verilmiştir. Yanlış eşleştirme hangisidir?

- A. Kafatası □ destek
- B. Yutak □ solunum
- C. Damar □ dolaşım
- D. Göğüs kafesi □ dolaşım

16. Televizyon izleme sırasında hangi duyu organlarımızı kullanırız?

- A. görme, koklama
- B. dokunma, işitme
- C. tad alma, görme
- D. görme, işitme

17. Maddelerin özelliklerini algılamayla ilgili aşağıdakilerden hangisi doğrudur?

**1 KOKU 2 TAD 3 SERTLİK/ YUMUŞAKLIK**

- A. burun ağız göz B. burun dil göz  
C. burun dil dokunma D. burun dil kulak

18. Aşağıda, bazı maddeler ışığı geçirip geçirmeme özelliklerine göre eşleştirilmiştir.

**Doğru eşleştirilen hangisidir?**

- A. cam kavanoz □ opak  
B. buzlu cam □ saydam  
C. kumaş □ yarı saydam  
D. toprak saksı □ opak

19. Aşağıdakilerden hangisi doğrudur?

**SAGLAM ESNEK**

- A. cam bardak sünger  
B. tahta kaşık tahta kaşık  
C. metal kaşık sulama hortumu  
D. porselen fincan kırık metre

20. Aşağıdakilerden hangisi mıknatıs tarafından çekilme ve suda batmama özelliklerine sahiptir?

- A. içi boş toprak saksı B. içi boş demir tas  
C. tahta kaşık D. metal kaşık

21. Aşağıdakilerden hangisi cisimdir?

- A. toprak C. Tel B. taş D. su

22. Dokunma duyumuzla, bir maddenin aşağıda verilen özelliklerinden hangisini anlayabiliriz?

- A. mıknatıs tarafından çekilip çekilmediğini  
B. opak veya saydamlığını  
C. renk ve kokusunu  
D. pürüzlü veya pürüzsüz olduğunu

23. Aşağıdakilerden hangisi alet değildir?

- A. ip B. Çekiç C. Testere D. Mala

24. Isıveren bir sıvı maddede aşağıdakilerden hangisi gözlenir?





- A. gaz hale dönüşür B. Katılaşır  
C. sıvı olarak kalır D. sıcaklığı gittikçe artar

25. Kışın sobamızın yanında beklettiğimiz plastik topu, dışarıya çıkardığımızda Küçüldüğünü görmekteyiz. Aşağıdakilerden hangisi bunu açıklar?

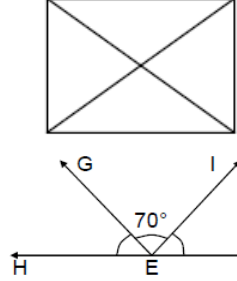
- A. Topa vurulduğu için darbelerin etkisiyle top küçülmüştür.  
B. Topun içindeki gaz madde soğuktan etkilenmez, plastik soğuduğu için top küçülmüştür.  
C. Topun içindeki gaz madde soğuduğu için hacmi küçülmüş, top da küçülmüştür.  
D. Dışarıdaki hava basıncı dolayısıyla top küçülmüştür.

## Matematik

1. Aşağıda verilenlerden hangisi doğru parçasıdır?

- A.   
B.   
C.   
D. 

2.



Yandaki şekilde kaç tane dar açı vardır?

- A. 8 C. 12  
B. 4 D. 10

3.

Yukarıdaki şekilde

HEF açısı doğru açıdır.

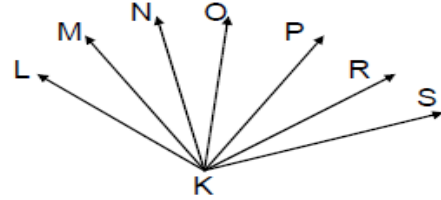
IEF açısı ile GEH açısı birbirine eşittir. IEG açısı  $70^\circ$  olduğuna göre IEF Açısı kaç derecedir?

- A.  $55^\circ$  B.  $60^\circ$  C.  $110^\circ$  D.  $65^\circ$

4. Bir ikizkenar üçgende farklı olan açı  $52^\circ$  olduğuna göre eş açılardan biri kaç derecedir?

- A.  $64^\circ$  B.  $128^\circ$  C.  $38^\circ$  D.  $48^\circ$

5.



Şekildeki LKM, MKN, NKO açıları  $20^\circ$ 'şer derece, OKP açısı  $30^\circ$ , PKR açısı  $25^\circ$  ve RKS açısı  $23^\circ$  olduğuna göre aşağıdakilerden hangisi dik açıdır?

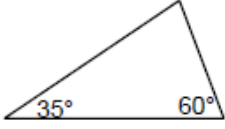
- A. MKR C. NKS  
B. MKP D. LKP

6. Aşağıdaki bilgilerden hangisi yanlıştır?

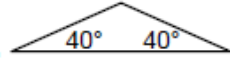
- A. Bir üçgende sadece bir tane geniş açı bulunabilir.  
B. Bir üçgende en çok bir tane dik açı bulunur.  
C. Aynı üçgende bir tane dik açı, bir tane de geniş açı bulunabilir.  
D. Eşkenar üçgenin bütün açıları dar açıdır.

7. Aşağıdakilerden hangisi dik açılı üçgendir?

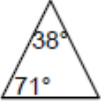
A.



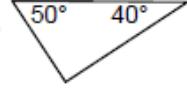
C.



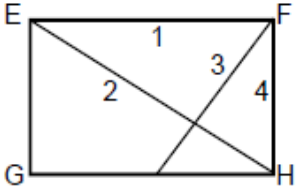
B.



D.



8.



Yandaki EFGH dikdörtgeninde kaç numaralı doğru köşegendir?

A. 1  
B. 2

C. 3  
D. 4

9.

1	2	3	4	5	6	7
8	9	10	11	12	13	14
15	16	17	18	19	20	21


Yandaki şeklin Simetrisi yapılmak istenirse kaç nolu kutuların taranması gerekir?

- A. 1, 2, 4, 12, 13, 7, 10    B. 5, 6, 8, 9, 11, 14, 17  
C. 3, 4, 7, 10, 11, 12,    D. 4, 8, 9, 10, 11, 12, 21

10. Kare ve dikdörtgenin açıları ile ilgili aşağıda verilenlerden hangisi doğrudur?

- A. Bütün açıları dik açıdır.  
B. Karenin 4 açısı, dikdörtgenin 2 açısı dik açıdır.  
C. Karşılıklı açıları geniş açı olabilir.  
D. Karşılıklı açıları dar açı olabilir.

11.



Yandaki taranmış kısmı oluşturan küçük karelerden her birinin çevresi 24 mm'dir. Buna göre taranmış kısmın çevresi kaç mm'dir?

- A. 2 800 mm    C. 280 mm    B. 120 mm    D. 1200 mm

12. Çevre uzunluğu 58 cm olan bir dikdörtgenin kısa kenarlarından biri en Fazla kaç cm olabilir?

- A. 15    B. 28    C. 14    D. 56

13.



Yukarıdaki örüntü devam ettirilmek istenirse sıradaki şekil hangisi olmalıdır?

A.



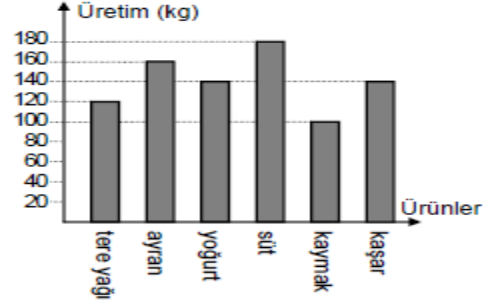
C.



B.



D.



Yukarıda bir süt fabrikasının günlük süt ve süt ürünleri üretim miktarları verilmiştir. (14, 15 ve 16. soruları grafiğe göre cevaplayınız.)

14. Fabrikada üretilen kaymak ve tereyağı miktarı toplamı hangisidir?

- A. 120 kg    C. 100 kg    B. 410 kg    D. 220 kg

15. Fabrikada en fazla üretilen 3 farklı ürün hangileridir?

- A. süt, ayran, yoğurt/kaşar    B. süt, yoğurt, tereyağı  
C. ayran, yoğurt, kaşar    D. tereyağı, kaşar, süt

16. Fabrikada hangi ürünler aynı miktarda üretilmektedir?

- A. süt, yoğurt    B. ayran, süt  
C. yoğurt, kaşar    D. kaşar, tereyağı

17. Aşağıda verilen aylardan hangisi 30 gün çeker?

- A. ocak    C. Mayıs    B. kasım    D. aralık

18. "20 563" sayısının binler bölümündeki rakamların sayı değerleri toplamı kaçtır?

- A. 14    C. 20 000    B. 2    D. 16

19. "Otuz bin seksen" sayısının rakamlarla yazılışı hangisidir?

- A. 30 80    C. 30 000 80    B. 300 080    D. 30 080

20. Birler bölümünde 503, binler basamağında 2, yüz binler basamağında 7 olan sayı hangisidir?

- A. 702 503    C. 72 503    B. 503 702    D. 503 72

21. "275 314 < ..... < 443 530" ifadesinde noktalı yere aşağıdakilerden hangisi yazılmaz?

- A. 391 250    C. 39 999    B. 375 814    D. 422 665

$$\begin{array}{r} 25\ 809 \\ + 32\ 597 \\ \hline \end{array}$$

22. Yukarıdaki işlemin toplamıyla 86 473'ün toplamı kaç eder?

- A. 134 869    C. 144 879    B. 58 406    D. 143 779

23. Bir çıkarma işleminde eksilen 71519, eksilenle farkın toplamı 84 312'dir. Bu işlemde çıkan sayı kaçtır?  
A. 58 726 C. 59 736 B. 12 793 D. 11793

24. Çevresi 440 m olan bir futbol sahasının etrafını günde 8 tur koşarak antrenman yapan bir atlet bir haftada kaç m koşmuş olur?  
A. 24 520 C. 3 136 B. 3 520 D. 24 640

25. 1116 m derinlikteki petrol yatağına ulaşmak için günde ortalama 18 m sondaj yapılmaktadır. Kaç günde petrol yatağına ulaşılır?  
A. 1098 C. 59 B. 62 D. 115

## SOSYAL BİLGİLER

1. Aşağıdakilerden hangisi kişiye özel ve en önemli bireysel farklılıklardandır?

- A. göz rengi B. parmak izi  
C. saç biçimi D. boyu ve ağırlığı

2. Aşağıdakilerden hangisi kimlik belgesi değildir?

- A. öğrenci kimlik kartı B. nüfus cüzdanı  
C. paso D. banka hesap cüzdanı

3. Aşağıdakilerden hangisini yaparken kimlik belgesi gösterme zorunluluğu vardır?

- A. Markette alışveriş yaparken.  
B. Belediye otobüsüne binerken.  
C. Düğün salonuna girerken.  
D. Banka hesabımızdan para alırken.

- I. 1969'da futbola başladı,  
II. 2000 yılında, çalıştırdığı takımla UEFA kupasını aldı,  
III. 1953 yılında Adana'da doğdu,  
IV. 2005 yılında tekrar Milli Futbol Takımımızı çalıştırmaya başladı.

4. Futbol Milli Takımımızın çalıştırıcısı Fatih Terim'in hayatındaki bazı önemli olaylarla ilgili yukarıda verilenlerin kronolojik sıralaması hangisidir?

- A. III, I, II, IV C. IV, III, II, I  
B. I, II, III, IV D. II, I, III, IV

5. Aşağıdakilerden hangisi yanlıştır?

- A. Duygularımız, düşünce ve davranışlarımızı etkiler.  
B. Herhangi bir konuda bir arkadaşımızın düşünceleri bizim düşüncemizden farklı olabilir.  
C. Bizimle aynı düşüncede olmayan insanlarla arkadaşlık yapmamalıyız.  
D. Aynı olaya, değişik zamanlarda farklı tepkiler gösterebiliriz.

6. Küçük kardeşi, aniden ateşi yükseldiği için gece yarısı acilen hastaneye götürülen bir çocuk hangi duyguyu yaşar?  
A. endişe B. Mutluluk C. neşe D. sevinç

7. Aşağıdaki ifadelerden hangisi düşüncedir?

- A. Sınav öncesi aşırı heyecanlanma.  
B. Kedi veya köpek gibi hayvanlardan korkma.  
C. Başarılı olmak için çalışmak gerektiğini bilme.  
D. Sınıfı geçince sevinme.

8. Aşağıdakilerden hangisi bizi mutlu eder?

- A. Çok istediğimiz bir oyuncağı alamamak.  
B. Ailemizle birlikte pikniğe gitmek.  
C. Arkadaşlarımızın başarısız olması.  
D. Aile üyelerimizden birinin hastalanması.

9. Aşağıdaki eşleştirmelerden hangisi yanlıştır?

- A. zeki olma ☐ fiziksel özellik  
B. heyecanlı olma ☐ duygusal özellik  
C. neşeli olma ☐ duygusal özellik  
D. uzun boy ☐ fiziksel özellik

10. Ailemizin soy ağacını oluşturmak için gerekli bilgileri alabileceğimiz en uygun kişi kimdir?

- A. dedemiz B. Annemiz C. öğretmenimiz D. babamız

11. Büyükbabam, Soyadı Kanunu'nun kabulünden 3 yıl sonra dünyaya gelmiş. Bu durumda büyükbabamın doğum yılı hangisidir?  
A. 1934 C. 1937 B. 1936 D. 1938

*I. Yemeklerde, II. Kıyafetlerde, III. Düğün törenlerinde, IV. Dini bayram kutlamalarında, V. Basketbol maçlarında, VI. Yağlı güreş şenliklerinde.*

12. Yukarıdakilerin hangilerinde milli kültürümüzü yansıtan unsurları görebiliriz?

- A. I, II, III, IV, V, VI B. I, III, V, VI  
C. II, III, V, VI D. I, II, III, IV, VI

13. Düğünlerde damat ve geline takı takılması çok eski gelenek ve adetlerimizden biridir. Bu geleneğin günümüzde de sürdürülüyor olmasının amacı ve yararları hangisi olabilir?

- A. Damat ve geline ayıp olmasın diye.  
B. Toplumsal yardımlaşma ve dayanışma.  
C. Diğer davetliler bizim ne taktığımızı görsünler diye.  
D. Bizim düğünümüzde de onlar bize takı taksın diye.

14. Aşağıdakilerden hangisinde milli kültürümüzü kıyafet yönünden yansıtan öğelere rastlayabiliriz?

- A. büyük mağazaların vitrinlerinde  
B. babaannemizin çeyiz sandığında  
C. yeni yapılmış çok katlı binalarda  
D. fabrikalarda

15. Aşağıdakilerden hangisi atalarımızdan günümüze kadar süre gelen oyun, şenlik ya da festivallerden biri değildir?

- A. Kırkpınar Yağlı Güreşleri B. Cirit müsabakaları  
C. Olimpiyatlar D. Okçuluk



16.Aşağıda verilen olay, yer, kişi ve tarih gruplarından hangisi Atatürk ile ilgili değildir?

- A. 1881, 1919, 1923, 1938
- B. Selanik, Samsun, Erzurum, Ankara
- C. Makbule Hanım, Zübeyde Hanım
- D. İstanbul'un alınması, Gelibolu Yarımadasının fethi

17.Hangi savaşın kazanılmasından sonra Mustafa Kemal'e TBMM tarafından“gazi” unvanı ve “mareşal” rütbesi verildi?

- A. Büyük Taarruz
- B. I. İnönü Savaşı
- C. II. İnönü Savaşı
- D. Sakarya Meydan Muharebesi

18.D. Yunanlılar İzmir'e asker çıkarmışlardı. Osmanlı Devleti, hangi antlaşmayla I.Dünya Savaşı'nı sona erdirmiştir?

- A. Paris Antlaşması
- B. Ankara Antlaşması
- C. Mondros Ateşkes Antlaşması
- D. Lozan Barış Antlaşması

19.Milli Mücadele yıllarının önemli olaylarıyla ilgili olarak aşağıda verilenlerden hangisi doğru değildir?

- A. 19 Mayıs 1919 Atatürk Samsun'a çıktı.
- B. 23 Ağustos 1919 Sivas Kongresi Toplandı.
- C. 23 Temmuz 1919 Erzurum Kongresi toplandı.
- D. 23 Nisan 1920 TBMM ilk defa toplandı.

20.Aşağıdakilerden hangisi Atatürk'ün katıldığı savaşlardan biri değildir?

- A. Çanakkale Savaşı
- B. Dumlupınar Meydan Muharebesi
- C. Preveze Deniz Savaşı
- D. Trablusgarp Savaşı

21.Aşağıdakilerden hangisi krokinin özelliklerinden değildir?

- A. Belli bir ölçüye göre küçültülmüştür.
- B. Belli başlı özellikler gösterilir.
- C. Kuşbakışı görünüşünün çizimidir.
- D. Herkesçe bilinen noktalar gösterilir.

I. Ay,II. Güneş,III. Kutup Yıldızı  
IV. Pusula V. Kuyruklu Yıldız

22. Bulutsuz bir gecede yukarıdakilerden hangisiyle yönümüzü bulabiliriz?

- A. Yalnız III
- B. III, IV
- C. III, V
- D. I, III, V

23.Mehmetlerin evi okulun kuzeydoğusundadır. Mehmet, evden okula giderken hangi yöne doğru gitmektedir?

- A. kuzeydoğu
- B. Doğu
- C. kuzey
- D. güneybatı

24.Antalya ilimizin 12 aylık sıcaklık ve yağış grafiğini inceleyen biri, en sıcak ay ve en yağışlı ay olarak aşağıdakilerden hangisini görür?

- | EN SICAK  | EN YAĞIŞLI |
|-----------|------------|
| A. Mayıs  | Eylül      |
| B. Temmuz | Ocak       |
| C. Ekim   | Ağustos    |
| D. Şubat  | Temmuz     |

25. Aşağıdakilerden hangisi Kurtuluş Savaşı yıllarında yurdumuzun durumuyla ilgili yanlış bilgidir?

- A. Türk askeri sayıca düşmandan çok çok fazlaydı.
- B. Fransızlardan destek alan Ermeniler
- C. Silah, cephane ve yiyecek sıkıntısı vardı.
- D.Doğu Anadolu'da olaylar çıkartıyor, sivil halka işkence yapıyorlardı.

## TÜRKÇE

Sabahtan beri dolaşıyordu. Öğlen de bir şey yememişti. Yorulmuş ve acıkmıştı. Biraz dinlenip, akşam karanlığı çökünceye kadar dört beş yere daha uğrayıp elemana ihtiyaçları olup olmadığını soracaktı.Yol kenarında, üzerine ikinci gölgesi düşmüş bir banka oturdu.Henüz oturmuştu ki, tam önünde sarı bir taksi durdu. Elinde çanta, orta yaşlı bir müşteri indi taksiden. Hızlı hareketlerle taksi ücretini ödedikten sonra cüzdanını arka cebine koydu. Belli ki acelesi vardı. Ama, cebe tam girmeyen cüzdan, adam bir kaç adım attıktan sonra düşmüş, cüzdanın düştüğünü adam fark edememişti. “Beyefendi! Beyefendi!” diye seslendi ama adam dönüp bakmadı, hızlı adımlarla ilerledi. Çocuk, yerdeki cüzdanı alıp adamın peşinden koştu...

(İlk 6 soruyu yukarıdaki metne göre cevaplayınız.)

1.Metindeki çocuk niçin sabahtan beri dolaşıyordu?

- A. Yiyecek bir şeyler bulmak için.
- B. İş bulmak için.
- C. Gezmek için.
- D. Bir arkadaşıyla buluşmak için.

2.Çocuk niçin banka oturdu?

- A. Yorulduğu için.
- B. Biraz dinlenip tekrar iş aramak için.
- C. Acıktığı için.
- D. Taksiyle gelecek bir adamı beklemek için.

3.Adamın arka cebindeki cüzdan niçin düştü?

- A. Adam hızlı yürüdüğü için.
- B. Cep delik olduğu için.
- C. Cebe iyice konulmadığı için.
- D. Cep çok küçük olduğu için.

4.Yere düşen cüzdanı gören çocuk ne yaptı?

- A. Cüzdanı alıp hızla oradan uzaklaştı.
- B. Cüzdandaki paraları cebine koydu.
- C. Cüzdanın içinde ne olduğunu kontrol etti.
- D. Cüzdanı vermek için adamın peşinden koştu.

5.Metindeki çocuk için aşağıdakilerden hangisi uygundur?

- A. dürüst
- B. Bencil
- C. çalışkan
- D. Hoşgörülü

6.Aşağıdaki varlık adlarından hangisi diğerlerinden farklıdır?

- A. ağaç
- B. Taksi
- C. çanta
- D. cüzdan





7.Aşağıdaki cümlelerin hangisinde karşıt anlamı olan sözcük kullanılmıştır?

- A. Öğleye kadar kitap okuduk.
- B. Ödev konumu internette araştırdım.
- C. Böyle yavaş gidersek yetişemeyiz.
- D. Dağların yamaçları yemyeşil ormanlarla kaplıydı.

8.Metindeki olay günün hangi bölümünde yaşanmıştır?

- A. sabah C. Öğlen B. akşam D. İkinci

9.Aşağıdaki cümlelerden hangisi kurallı cümle değildir?

- A. Sınıfın pencerelerini açtı temiz hava girsin diye.
- B. Ödevimi bitirmeden televizyon izlemem.
- C. Çalışmadan başarı olmaz.
- D. Artık havalar iyice soğudu.

10.Aşağıdaki atasözlerinden hangisi sağlıklı olma ile ilgilidir?

- A. Can çıkmadan huy çıkmaz.
- B. Sağlam kafa sağlam vücutta bulunur.
- C. Az veren candan, çok veren maldan.
- D. Ak akçe kara gün içindir.

11.Aşağıdaki cümlelerden hangisinin sonuna soru işareti konulmalıdır?

- A. Nereden geldiğimi sormadı bile
- B. Güzel mi güzel bir bahçeleri var
- C. Hangisini alacağımı şaşırdım
- D. Camı kıran hangisi

12. Aşağıdaki cümlelerin hangisinde imlâ hatası vardır?

- A. Ankara’lı arkadaşım beni sık sık arar.
- B. Yazın Ahmetlerle birlikte tatil yaptık.
- C. Ankara’da iken sık sık telefon açardı.
- D. Kızılırmak, Karadeniz’e dökülen akarsularımızdan biridir.

13. “Bu mahallenin evlerinde yoksul, fakir ve işsiz insanlar oturuyordu.” Cümlesinde hangi sözcük gereksiz kullanılmıştır?

- A. mahallenin C. yoksul
- B. evlerinde D. Oturuyordu

14. Aşağıda sözcükler ve eş anlamlıları verilmiştir. Eş anlamlısı yanlış verilen hangisidir?

- A. yürek ☐ kalp
- B. beyaz ☐ ak
- C. ödül ☐ hediye
- D. sonbahar ☐ güz

15. “Ocak” sözcüğü, aşağıdaki cümlelerden hangisinde, “26 Ocak günü Ankara’ya gideceğiz.” cümlesindeki anlamıyla kullanılmıştır?

- A. Yemeği ocakta unutunca tencere yanmış.
- B. Bu yıl ocak ayı çok soğuk geçti.
- C. Babası maden ocağında çalışıyor.
- D. Anadolu, yiğitler ocağıdır.

16. “top” sözcüğü seçeneklerden hangisinde diğerlerinden farklı anlamda kullanılmıştır?

- A. Yeni aldığım top patladı.
- B. Kaleci, tam köşeye giden topu yakaladı.
- C. Akşama kadar top oynadık.
- D. Fatih, İstanbul surlarını bu toparla yıktı.

17.Aşağıdaki cümlelerin hangisinde büyük ünlü uyumuna uymayan sözcük kullanılmıştır?

- A. Birlikte oynamaktan büyük zevk alırdım.
- B. Sandalyeyi odanın ortasına koydu.
- C. Çatının üzerinde her zaman güvercinler olurdu.
- D. Üç ay sonra hiç biri kalmaz.

18.Aşağıdaki cümlelerin hangisinde yapılışı bakımından “ayakkabı” sözcüğüne benzer bir sözcük kullanılmıştır?

- A. Ayağı takılınca yere düştü.
- B. Gece sivrisinekten yatamadım.
- C. Reçeli cam kaplara doldurduk.
- D. Kurtuluş Savaşı yıllarında yer yer ayaklanmalar olmuş.

19.Aşağıdaki cümlelerdeki altı çizili sözcüklerden hangisinin sonundaki ünsüz aldığı ekten dolayı değişikliğe uğramıştır?

- A. Çorabını bile kendisi giyemiyordu.
- B. Çoktan beri onu görmüyordum.
- C. Bu kitaptaki bilgiler çok faydalı oldu.
- D. Sütten ağzı yanan yoğurdu üfleyerek yer.

20.Hangi sözcükteki ekin ilk harfi, sözcüğün sonundaki sert ünsüzden dolayı değişikliğe uğramıştır?

- A. gazeteci C. Kitaplık B. okuldaki D. çiçekçi

21. “Çok çalıştı ama yine de birinci olamadı.”cümlesinde sıra bildiren sözcük hangisidir?

- A. birinci C. Çalıştı B. çok D. olamadı

22.Aşağıdakilerden hangisinde neden ve sonuç ilişkisi vardır?

- A. Hasta olunca okula gidemedi.
- B. Hastayı, ambulansla doktora götürdüler.
- C. Ateşi yükselmedi ama, yine de ilacını içti.
- D. Hasta yürüyebildiği halde, onu tekerlekli sandalye ile götürdüler.

23. “Soğuk pınarları, yemyeşil ağaçları, tertemiz havası olan bölge, doğayı sevenler için ender güzellikteydi.” cümlesinde kaç tane sözcük varlık özelliği belirtmek için kullanılmıştır?

- A. iki B. beş C. Üç D. altı

24. “Babam yarın Ankara’ya gidecek.”cümlesinde aşağıdaki sorulardan hangisinin cevabı yoktur?

- A. kim C. ne zaman B. nereye D. Nerede

25. .Aşağıdaki sözcüklerden hangisi yapı bakımından diğerlerinden farklıdır?

- A. delik C. Balık B. suluk D. samanlık