





1. Aşağıdakilerden hangisi aile bireyleri arasındaki farklılığı ifade etmez?

- A. Babam gazete, annem dergi okumaktan hoşlanır.
- B. Ablam resim yapmayı sever, ben müzik dinlemeyi severim.
- C. Ağabeyim, ablamdan uzun boyludur.
- D. Benim saçımın rengiyle anneminki aynıdır.

2. Aşağıdaki cümlelerin hangisinde bir düşünce belirtilmiştir?

- A. Söylediklerinin çoğunu abartılı buldum.
- B. Onları çeşme başında bekledik.
- C. Yarın sinemaya gideceğimizi unutma!
- D. Bu şarkıyı kaç kez tekrar edeceğiz?

3. Aşağıdaki çocuklardan hangisinin davranışı doğrudur?

- A.  Ablam konuşurken onu dinlemem.
- B.  Benim gibi düşünmeyenlerle görüşmem.
- C.  Arkadaşımın farklı düşüncelerine saygı gösteririm.
- D.  Dedemle yüksek sesle konuşurum.

4. Aşağıdaki davranışlarımızdan hangisi başkaları tarafından hoş karşılanır?

- A. Büyüklerimizle arkadaşlarımızla konuştuğumuz gibi konuşmak
- B. Başkalarının düşüncelerine önem vermemek
- C. Arkadaşlarımıza yardım etmek
- D. İsteklerimizi zorla kabul ettirmek

5. Bireysel farklılıklarla ilgili, ☒ İnsanları eşsiz kılar.

☐ Zenginlik olarak görülmelidir.

☐ Saygı gösterilmelidir.

İfadelerinden hangileri doğrudur?

- A. ☒ ve ☐ B. ☒ ve ☐
- C. ☐ ve ☐ D. ☒, ☐ ve ☐

6. Aşağıdakilerden hangisi bireysel farklılık değildir?

- A. Duygular ve düşünceler
- B. Yetenekler
- C. Doğum tarihi ve yeri
- D. Fiziksel özellikler

7. Aşağıda verilen olaylardan hangisine gösterdiğimiz davranış uygun değildir?

- A. Arkadaşımız iyi not alınca onu kıskanmak
- B. Hasta olan yakınımıza "Geçmiş olsun." demek
- C. Başarı kazandığımızda sevinmek
- D. Canımız sıkıldığında yalnız kalmayı istemek

8. Aşağıdaki ifadelerin hangisinde fiziksel bir özellik anlatılmamıştır?

- A. Çağdaş zayıftır.
- B. Ayça sarı saçlıdır.
- C. Aziz zekidir.
- D. Ali uzun boyludur.

9. Aşağıdakilerden hangisi olumlu bir duygudur?

- A. korku B. üzüntü
- C. şaşkınlık D. sevinç

10. Arkadaşım Haluk şişman olduğu için şişmanlıkla ilgili şakalar yapmam. Fatih'in bu davranışıyla ilgili olarak aşağıdakilerden hangisi söylenebilir?

- A. Duyarlıdır.
- B. Bencildir.
- C. Hoşgörülüdür.
- D. Çalışkandır.

11. ★ Arkadaşlarımız üzgün olduğunda onlarla konuşmamalıyız.


♥ Bizden farklı düşünen insanlarla konuşmamalıyız.

✿ Büyüklerimiz konuşurken sözlerini kesmeden dinlemeliyiz.


Yukarıdaki ifadelerden hangisi ya da hangileri yanlıştır?


- A. Yalnız ✿
- B. ★ ve ♥
- C. Yalnız ★
- D. ★, ♥ ve ✿

12. Aşağıdaki çocuklardan hangisi fiziksel özelliklerden söz etmiştir?

A.  Onun zekâsına hayran kaldım.

B.  Kollarındaki kaslar çok gelişmiş.

C.  Neden üzüldüğünü anlayamadım.

D.  Yazıyı sol eliyle yazar.

13. Aşağıdakilerden hangisi insanların soyunu gösteren şemadır?

- A. Aile albümü
- B. Soy kütüğü
- C. Nüfus cüzdanı
- D. Soy ağacı

14. Aşağıdakilerin hangisi nüfus cüzdanında yer almaz?

- A. Kan grubu
- B. Anne adı
- C. Doğum yeri
- D. Mesleği

15. Olaylar kronolojik olarak sıralanırken aşağıdakilerden hangisi dikkate alınır?

- A. Olayların bizi nasıl etkilediği
- B. Olayların önem sırası
- C. Olayın oluş tarihi
- D. Olayın ilk harfi



1. Aile tarihini araştıran bir kişi aşağıdakilerin hangisinden yararlanabilir?
- A. Gazete manşetlerinden  
B. Ailenin en yaşlı üyesinden  
C. Anlatılan masallardan  
D. Ansiklopedilerden
2. ▲ Aile bireylerinin meslekleri  
● Aile bireylerinin yaşadığı yerler  
■ Aile bireylerinin kişisel özellikleri
- Mert, aile tarihiyle ilgili araştırma yapmaktadır. Araştırmasının sonucunda yukarıdaki bilgilerden hangisi ya da hangilerini öğrenebilir?
- A. Yalnız ▲  
B. Yalnız ●  
C. ▲, ● ve ■  
D. ▲ ve ■
3. Aşağıdakilerden hangisi kültür ögesi değildir?
- A. destan  
B. kıyafet  
C. dil  
D. yaşanan yer
4. Aşağıdakilerden hangisi ata sporlarımızdandır?
- A. voleybol  
B. futbol  
C. güreş  
D. basketbol

5. Aşağıdakilerden hangisi millî kültürümüzü yansıtan öğelerden biri değildir?
- A. Halk oyunları  
B. Kına gecesi  
C. Türküler  
D. Mezuniyet balosu
6. Aşağıdakilerden hangisi sözlü kültür mirasımızın ürünlerindendir?
- A. atasözü  
B. tiyatro  
C. roman  
D. sinema
7. Demeî'in ablasının çeyiz sandığındaki,
- ✿ Nakışlı işleme havlu  
▲ Oyali tülbent  
♥ Anadolu motifleriyle süslenmiş gümüş işlemeli ayna
- Yukarıdaki öğelerden hangisi ya da hangileri millî kültürü yansıtır?
- A. Yalnız ✿  
B. ✿, ▲ ve ♥  
C. ▲ ve ♥  
D. Yalnız ▲
8. Aşağıdakilerden hangisi gelenek ve göreneklerimizi yaşattığımız etkinliklerden değildir?
- A. Yağlı güreş festivalleri  
B. Halk oyunu şenlikleri  
C. Dinî bayramlar  
D. Yerel seçimler

9. Aşağıdakilerden hangisi kültürümüze ait öğelerden değildir?
- A. Aile fotoğraflarımız  
B. Halk oyunlarımız  
C. Yöresel kıyafetlerimiz  
D. Bayramlarımız
10. Aşağıdaki antlaşmalardan hangisini Türkiye Büyük Millet Meclisi kabul etmemiştir?
- A. Lozan Barış Antlaşması  
B. Mudanya Ateşkes Antlaşması  
C. Sevr Antlaşması  
D. Gümrü Antlaşması
11. Mustafa Kemal'in vatanın kurtarılması ile ilgili başarısı aşağıdaki kişisel özelliklerinden hangisine bağlanabilir?
- A. yenilikçiliği  
B. barışçılığı  
C. hoşgörülü olması  
D. liderliği
12. Kurtuluş Savaşı sırasında Batı Cephesi'nde aşağıdakilerden hangisiyle mücadele edilmiştir?
- A. Yunanlılar  
B. İngilizler  
C. Fransızlar  
D. İtalyanlar

13. ○ Çanakkale Savaşları  
△ Trablusgarp Savaşı  
□ Kurtuluş Savaşı
- Mustafa Kemal yukarıdaki savaşlardan hangisine ya da hangilerine katılmıştır?
- A. Yalnız ○  
B. Yalnız □  
C. ○, △ ve □  
D. ○ ve △
14. Kurtuluş Savaşı'nda Güney Cephesi'nde kimlere karşı mücadele edilmiştir?
- A. İngilizlere  
B. Ruslara  
C. İtalyanlarla  
D. Fransızlara
15. Aşağıdakilerden hangisi Erzurum Kongresi'nden sonra gerçekleşmiştir?
- A. Amasya Genelgesi'nin yayınlanması  
B. Yunanlıların İzmir'i işgal etmesi  
C. Mustafa Kemal'in Samsun'a çıkması  
D. Sivas Kongresi'nin toplanması



Yönümüzü, aşağıda verilenlerin hangisinden yararlanarak günün her saatinde en doğru ve en kolay bulabiliriz?

- A. Pusula kullanarak
- B. Güneş'e bakarak
- C. Kutup Yıldızı'na bakarak
- D. Düz bir araziye dikilen çubuğun gölgesine bakarak

Kutup Yıldızı bize hangi yönü gösterir?

- A. batı
- B. güney
- C. kuzey
- D. doğu

Aşağıdakilerden hangisini yön bulmada kullanamayız?

- A. Güneş
- B. termometre
- C. Kutup Yıldızı
- D. pusula

Can, yüzünü Güneş'in doğduğu tarafa döndüğünde sağ kolu yaklaşık olarak hangi yönü gösterir?

- A. doğu
- B. güney
- C. batı
- D. kuzey

5. İpek, duvar haritasının karşısında durduğunda ayaklarının olduğu taraf haritada hangi yönü gösterir?

- A. doğu
- B. batı
- C. kuzey
- D. güney

6. Bir yerin kuş bakışı görünüşünün ana hatlarıyla ölçülmeden, kabataslak çizimine ..... denir.

Yukarıdaki ifadede boş bırakılan yere aşağıdakilerden hangisi gelmelidir?

- A. plan
- B. grafik
- C. kroki
- D. harita

7. Haritayı önümüze aldığımızda haritanın üst tarafı hangi yönü gösterir?

- A. kuzey
- B. batı
- C. güney
- D. doğu

8. İnsanların doğayı değiştirerek ortaya koyduğu ürünlere beşeri unsurlar denir. Buna göre aşağıdakilerden hangisi beşeri unsurdur?

- A. dağ
- B. park
- C. ada
- D. ova

9. Aşağıdakilerden hangisi doğal unsurlardandır?

- A. ırmak
- B. baraj
- C. tünel
- D. köprü

10. ● Deprem

- ▲ Sel
- Heyelan

Yukarıdakilerden hangisi ya da hangileri doğal afettir?

- A. ●, ▲ ve ■
- B. Yalnız ▲
- C. ▲ ve ■
- D. Yalnız ●

11. ● Televizyon

- İnternet
- ▲ Radyo

Günlük hava durumu ile ilgili yukarıdakilerin hangisi ya da hangilerinden bilgi alabiliriz?

- A. Yalnız ●
- B. Yalnız ■
- C. ●, ■ ve ▲
- D. ■ ve ▲

12. Ümit, arkadaşına oturduğu evin yerini tarif etmek istiyor.

Ümit'in bunun için aşağıdakilerden hangisini kullanması daha doğru olur?

- A. siyasi harita
- B. kroki
- C. fiziki harita
- D. plan

13. ▲ Atatürk Barajı

● Boğaz Köprüsü

■ Yeşilırmak

Yukarıdakilerden hangisi ya da hangileri beşeri unsurlardan değildir?

- A. Yalnız ▲
- B. ● ve ■
- C. Yalnız ■
- D. ▲, ● ve ■

14. Dağlar ile tepeler arasında sürekli inişi bulunan uzun çukurlara verilen ad aşağıdakilerden hangisidir?

- A. vadi
- B. ova
- C. plato
- D. ada

15. Aşağıdaki davranışlardan hangisini deprem sırasında yapmamalıyız?

- A. Sarsıntı bitene kadar dışarı çıkmamalıyız.
- B. Merdivenlere koşmamalıyız.
- C. Yere yan yatarak ellerimizi başımıza koymalıyız.
- D. Asansöre binmeliyiz.



1. ■ Yiyecek  
● Giyecek  
▲ Barınak

Yukarıdakilerden hangisi ya da hangileri temel ihtiyaçlarımızdandır?

- A. Yalnız ■ B. Yalnız ●  
C. ● ve ▲ D. ■, ● ve ▲

2. Aşağıdakilerden hangisi daha öncelikli ihtiyacımızdır?

- A. Yemek yemek  
B. Sinemaya gitmek  
C. Spor yapmak  
D. Müzik dinlemek

3. Levent'in çeşitli ihtiyaçları vardır ancak parası hepsini almaya yetmemektedir. Bu durumda Levent aşağıdakilerden hangisini yapmalıdır?

- A. İhtiyaçlarının hepsini ertelemelidir.  
B. Para biriktirmeye devam etmelidir.  
C. İhtiyaçlarını önem sırasına göre almalıdır.  
D. Temel ihtiyaçlarını ertelemelidir.

4. İnsan yaşamı için gerekli olan ve yokluğunda sıkıntı çekilen şeylere \_\_\_\_\_ denir.

Yukarıdaki ifadede noktalı yere aşağıdakilerden hangisi gelmelidir?

- A. istek B. temel madde  
C. temel ihtiyaç D. tüketim

5. Aile bütçesi hazırlanırken aşağıdakilerden hangisi zorunlu harcamalar arasında yer almaz?

- A. Eğlence giderleri  
B. Sağlık giderleri  
C. Okul giderleri  
D. Yiyecek giderleri

6. Aşağıdaki ürünlerden hangisinin üzerinde son kullanma tarihi yazar?

- A. yoğurt  
B. fırın  
C. çamaşır makinesi  
D. televizyon

7. Bilinçli bir tüketici alışveriş yaparken aşağıdakilerden hangisine öncelik vermelidir?

- A. Fiyatlarının ucuzluğuna  
B. En pahalısı olmasına  
C. Malın reklamı olup olmadığına  
D. İhtiyacının neler olduğuna

8. Evimizde bulunan aşağıdaki ürünlerden hangisinin garanti belgesi yoktur?

- A. kitap  
B. ütü  
C. bilgisayar  
D. televizyon

9. Buğdayın ekmek olup evimize gelinceye kadarki üretim, dağıtım, tüketim aşamaları aşağıdakilerden hangisinde doğru olarak verilmiştir?

- A. Değirmen - tarla - fırın - market  
B. Tarla - değirmen - fırın - market  
C. Market - tarla - değirmen - fırın  
D. Fırın - tarla - market - değirmen

10. ● Garanti belgesi olup olmadığına bakar.

▲ Kaliteli ürün alır.

■ Reklamı olan ürünün her zaman güvenilir olduğunu bilir.

Yukarıdakilerden hangisi ya da hangileri bilinçli tüketiciye ait davranıştır?

- A. ● ve ▲ B. Yalnız ■  
C. Yalnız ● D. ●, ▲ ve ■

11. ● Ekmek

▲ Su

■ Meşrubat

Yukarıdakilerden hangisi ya da hangilerinin bizim için yaşamsal önemi vardır?

- A. Yalnız ● B. Yalnız ■  
C. ● ve ▲ D. ●, ▲ ve ■

12. Bir bireyin sahip olmadığına yaşamını sürdüremeyeceği gereksinimleri vardır. Aşağıdakilerden hangisi buna örnek olarak gösterilemez?

- A. yiyecek B. eğlence  
C. barınma D. giyecek

13. Aşağıdakilerden hangisi alacağımız malın kalitesiyle ilgili olarak bize daha doğru bilgi verir?

- A. Fiyat etiketi  
B. TSE damgası  
C. Üretim ve son kullanma tarihi  
D. Fiş ve fatura

- 14.



Kullandığımız ürünler bazı aşamalardan geçtikten sonra hizmetimize sunulur.

Buna göre aşağıdaki ürünlerden hangisinin ham maddesi "pamuk" olabilir?

- A. defter  
B. elbise  
C. masa  
D. kalemtırış

15. Bilinçli bir tüketiciden aşağıdaki davranışlardan hangisi beklenmez?

- A. Alacağı ürünün standartlara uygunluğuna bakar.  
B. Yapacağı alışverişte ihtiyaçlarına öncelik verir.  
C. Alışverişten sonra fatura ya da fişini alır.  
D. Reklamı olmayan ürünü almaz.



1- "Bir sanayi dalı ile ilgili yapım yöntemlerini, kullanılan araç, gereç ve aletleri kapsayan bilgilerin bütününe ..... denir."

Yukarıdaki boşluğa hangisi gelmelidir?

- A) ürün
- B) teknoloji
- C) ulaşım
- D) araç

2- Hangisi, teknolojik bir ürün sayılmaz?

- A) buzdolabı
- B) otomobil
- C) radyo
- D) su

3- Hangisi, evlerimizde kullandığımız bir teknolojik ürün değildir?

- A) otomobil
- B) çamaşır makinesi
- C) elektrikli fırın
- D) bilgisayar

4- I- internet  
III- ağaç  
II- insan  
IV- at

Hangisi, teknolojik gelişmenin bir ürünüdür?

- A) II
- B) IV
- C) I
- D) III

5- İcat ediliş zamanlarını düşündüğümüzde hangi sıralama doğru olur?

- A) gemi - telefon - televizyon - bilgisayar
- B) bilgisayar - gemi - telefon - televizyon
- C) televizyon - gemi - telefon - bilgisayar
- D) telefon - televizyon - bilgisayar - gemi

6- Hangisi, eski insanların zamanı ölçmek için kullandığı yollardan biridir?

- A) saat
- B) Dünya
- C) Kutup Yıldızı
- D) Güneş

7- Eski insanlar, saat yokken zamanı hangisi ile hesaplardı?

- A) Güneş saati
- B) Ay saati
- C) duvar saati
- D) saat kulesi

8- Endüstri alanlarında ham maddelerin işlenmesiyle elde edilen şeylere ne ad verilir?

- A) araç
- B) teknoloji
- C) ürün
- D) maden

9- Hangisinde iletişim araçları eşleştirilmemiştir?

- A) telefon - televizyon
- B) internet - telgraf
- C) radyo - teleferik
- D) faks - telefon

10- Geçmiş tarihlerden bugüne kadar insanların kullandıkları iletişim araçlarını sıralarsak hangisi doğru olur?

- A) mektup - telefon - faks - elektronik posta
- B) elektronik posta - mektup - telefon - faks
- C) telefon - faks - elektronik posta - mektup
- D) telefon - faks - mektup - elektronik posta

11- Hangisi, insanların geçmişte kullandığı iletişim yollarından biri olamaz?

- A) duman
- B) güvercin
- C) uydu
- D) davul

12- Hangisi, teknolojik ürünlerin doğru kullanımı ile ilgili yanlış bir bilgidir?

- A) Gelişigüzel kullanılmaz.
- B) İhtiyaç duyulduğunda kullanılmamalıdır.
- C) Çevreye zarar vermemesi için önlem alınır.
- D) Fazla kullanmanın bir zararı yoktur.

13- Hangisi, teknolojik gelişmenin bir sonucudur?

- A) ihtiyaç
- B) ürün
- C) değişim
- D) üretim

14- Uydu, aşağıdaki alanların hangisinde doğrudan kullanılmaktadır?

- A) endüstri
- B) eğitim
- C) sağlık
- D) iletişim

15- Hangisi, yeni ürünlerin ortaya çıkmasında daha etkilidir?

- A) ihtiyaçlar
- B) gelişme
- C) değişim
- D) üretim

16- Hangisi, teknolojik ürünlerin doğru kullanılmamasının bir sonucu değildir?

- A) çevre kirliliği
- B) deprem
- C) gürültü
- D) sağlığa etkisi

17- Çağlar boyunca insanlar birçok ürün tasarlamış ve yapmıştır. Aşağıdakilerden hangisi bunu yapmalarına neden olmuştur?

- A) ihtiyaçların çeşitliliği
- B) çağın gerekleri
- C) savaşların etkisi
- D) çevrenin baskısı

18- 1- televizyon  
3- telefon  
5- bilgisayar  
2- kitap  
4- gaz lambası

Yukarıdakilerden kaç tanesi, Millî Mücadele yıllarında her evde bulunabilecek eşyalardandır?

- A) 1
- B) 2
- C) 3
- D) 5

19- 1- hava kirliliği  
3- su kirliliği  
2- toprak kirliliği  
4- gürültü

Bunlardan kaç tanesi, teknolojik gelişmenin olumsuz sonucudur?

- A) 1
- B) 2
- C) 3
- D) 4

20- Hangisi, doğal bir ürün değildir?

- A) petrol
- B) ilaç
- C) su
- D) hava



1. ▲ Kamu hizmetlerini yürütmek amacıyla devlet tarafından kurulan kurumdur.
- Giderleri devlet tarafından karşılanır.
- Görev ve yetkileri yasalarla belirlenir.
- Yukarıda verilen özelliklerden hangisi ya da hangileri resmî kuruma aittir?
- A. ▲, ● ve ■
- B. Yalnız ●
- C. ● ve ■
- D. Yalnız ▲
2. Aşağıdaki sivil toplum örgütlerinden hangisi çevrenin korunmasıyla ilgilenir?
- A. TEMA B. Kızılay
- C. Yeşilay D. LÖSEV
3. Okulumuzda deprem tatbikatı yaptırmak öncelikle hangi eğitsel kulüp üyelerinin görevidir?
- A. Spor Kulübü
- B. Sivil Savunma Kulübü
- C. Meslek Tanıtma Kulübü
- D. Çevre Koruma Kulübü
4. Aşağıdaki kurumlardan hangisi sosyal dayanışma amacıyla kurulmamıştır?
- A. Kızılay
- B. Millî Eğitim Bakanlığı
- C. Okul Yapma ve Yaşatma Derneği
- D. Çocuk Esirgeme Kurumu

5. Aşağıdakilerden hangisi resmî kurumdur?
- A. bakkal
- B. manav
- C. karakol
- D. eczane
6. ● Planlı çalışma alışkanlığı kazanırım.
- ▲ Yeni durum ve ortamlara uyum sağlarım.
- Boş zamanlarımı yararlı bir şekilde değerlendirebilirim.
- Yukarıdakilerden hangisi ya da hangileri eğitsel kulüplere katılmakla elde edebileceğimiz davranışlardır?
- A. Yalnız ● B. Yalnız ▲
- C. ●, ▲ ve ■ D. ▲ ve ■
7. ● İşsizlik
- Kimsesiz çocuklar
- ▲ Doğal çevrenin yok olması
- İfadelerinden hangileri sosyal problemlerdendir?
- A. ● ve ■
- B. ● ve ▲
- C. ■ ve ▲
- D. ●, ■ ve ▲

8. Kamu hizmetlerini yürütmek amacıyla devlet tarafından kurulan kurumlara ne denir?
- A. grup B. sosyal örgüt
- C. resmî kurum D. vakıf
9. Sosyal örgütlerle ilgili aşağıdaki ifadelerden hangisi doğrudur?
- A. Yasa dışı çalışırlar.
- B. Tümü eğitim alanında hizmet eder.
- C. Meslek sahibi kişilere yardım ederler.
- D. Gönüllülük esastır.
10. Aşağıdaki ifadelerden hangisi yardımlaşmaya örnektir?
- A. Çöpleri çöp kutusuna atmak
- B. Huzurevine yiyecek götürmek
- C. Evini kiraya vermek
- D. Alışveriş listesi hazırlamak
11. Zor durumda olan insanlara maddi ve manevi yönden destek olmaya ne denir?
- A. Yardımlaşma
- B. Vatanseverlik
- C. Saygı duyma
- D. Çalışkanlık
12. Eğitsel kulüplerle ilgili,
- Kişisel gelişime katkı sağlar.
- Kendine olan güveni artırır.
- ▲ Ekiple çalışma alışkanlığı kazandırır.
- İfadelerinden hangileri doğrudur?
- A. ● ve ■ B. ● ve ▲
- C. ■ ve ▲ D. ●, ■ ve ▲

13. Aşağıdakilerden hangisi çevremizi korumak ve güzelleştirmek için yapılması gerekenlerden değildir?
- A. Düzensiz ve plansız evler yapmak
- B. Çevremize çöp atmamak
- C. Ağaç dikmek
- D. Çevremizdeki yeşil alanları korumak
14. Ebru hastalandığında aşağıdaki kurumlardan hangisine başvurmalıdır?
- A. eczane
- B. sağlık ocağı
- C. karakol
- D. okul
15. ● Çevre bilinci okulda başlar.
- Ailede dayanışma gereklidir.
- ▲ Yeşilay insanları zararlı alışkanlıklardan korumayı amaçlar.
- Yukarıdaki ifadelerden hangisi ya da hangileri doğrudur?
- A. Yalnız ●
- B. Yalnız ■
- C. ●, ■ ve ▲
- D. ■ ve ▲



1.



Yerleşim birimlerinde işleyişin düzenli olması için yöneticiler görevlendirilmiştir.

Aşağıdakilerden hangisi mahalle ya da köyü yönetir?

- A. vali
- B. kaymakam
- C. muhtar
- D. belediye başkanı

2. ● Nüfus cüzdanı örneği onaylamak

■ Sivil savunma hizmetlerini takip etmek

▲ Doğum belgesi onaylamak

Yukarıdakilerden hangisi ya da hangileri muhtarın görevlerindendir?

- A. Yalnız ●
- B. Yalnız ■
- C. ■ ve ▲
- D. ●, ■ ve ▲

3. Aşağıdaki yerleşim birimlerinden hangisi diğerlerinden daha az nüfus barındırır?

- A. il
- B. belde
- C. ilçe
- D. köy

4. ● Muhtar

■ Belediye Başkanı

▲ Kaymakam

Yukarıdaki yöneticilerden hangisi devlet tarafından atanır?

- A. Yalnız ●
- B. Yalnız ▲
- C. ■ ve ▲
- D. ●, ■ ve ▲

5. İkametgâh belgesini onaylama görevi aşağıdakilerden hangisine aittir?

- A. belediye başkanı
- B. vali
- C. muhtar
- D. kaymakam

6. Belediye aşağıdaki hizmetlerden hangisini vermez?

- A. sağlık
- B. yol yapımı ve bakımı
- C. temizlik
- D. bankacılık

7. Aşağıdakilerden hangisi belediyenin parasal kaynaklarından biri değildir?

- A. ulaşım hizmetleri
- B. telefon faturaları
- C. emlak vergisi
- D. çevre vergisi

8. Aşağıdaki ifadelerden hangisi yanlıştır?

- A. Muhtar halkın oyuyla seçilir.
- B. TBMM başkanı halk tarafından seçilir.
- C. Cumhurbaşkanı TBMM tarafından seçilir.
- D. Kanun yapma yetkisi TBMM'ye aittir.

9. ● Muhtar

■ Belediye başkanı

▲ Okul müdürü

Yukarıdaki yöneticilerden hangisi ya da hangileri seçimle iş başına gelir?

- A. Yalnız ●
- B. Yalnız ■
- C. ●, ■ ve ▲
- D. ● ve ■

10. Ülkemizde yasama (kanun yapma) yetkisi hangi kuruma aittir?

- A. vali
- B. hükümet
- C. başbakan
- D. TBMM

11. Cüneyt ve ailesi Kayseri'den Ankara'ya taşınmışlardır. Cüneyt'in ailesi bu konuda öncelikle aşağıdakilerden hangisine bilgi vermelidir?

- A. belediye
- B. valilik
- C. muhtarlık
- D. karakol

12. İlimizdeki yöneticilerden hangisi devlet tarafından atanır?

- A. vali
- B. muhtar
- C. belediye meclisi üyesi
- D. belediye başkanı

13. Aşağıda verilen ifadelerden hangisi doğru değildir?

- A. TBMM'nin ilk başkanı Mustafa Kemal Atatürk'tür.
- B. İlk TBMM, yasama ve yürütme yetkilerini kendinde toplamıştır.
- C. TBMM 23 Nisan 1920'de açılmıştır.
- D. TBMM ilk toplantısını İstanbul'da yapmıştır.

14. Aşağıda verilenlerden hangisi ilçelerde görevli bir yönetici değildir?

- A. kaymakam
- B. muhtar
- C. belediye başkanı
- D. vali

15. Ulusal egemenliğin temsil edildiği yer aşağıdakilerden hangisidir?

- A. İl genel meclisi
- B. Muhtarlık
- C. Belediye meclisi
- D. Türkiye Büyük Millet Meclisi



1. Yeryüzündeki büyük kara parçalarına ne ad verilir?  
A. ada B. yarımada  
C. kıta D. ova
2. Aşağıdaki ülkelerden hangisi Asya kıtasındadır?  
A. Fransa B. Belçika  
C. Azerbaycan D. Yunanistan
3. Aşağıdakilerden hangisi kıta değildir?  
A. Avusturya B. Avrupa  
C. Asya D. Amerika
4. 23 Nisan Ulusal Egemenlik ve Çocuk Bayramı şenliklerine Fas'tan, İtalya'dan ve Türkmenistan'dan katılan çocuklar koyu renk elbiseler giymişlerdi.  
Yukarıdaki paragrafta hangi kıtadan gelen çocuklardan söz edilmemiştir?  
A. Amerika B. Avrupa  
C. Asya D. Afrika
5. ● Kurban Bayramı  
■ Ramazan Bayramı  
▲ Cumhuriyet Bayramı  
♥ 19 Mayıs Atatürk'ü Anma Gençlik ve Spor Bayramı  
Yukarıdaki bayramlardan hangileri Tunus'ta da kutlanır?  
A. ▲ ve ♥ B. ■ ve ▲  
C. ● ve ♥ D. ● ve ■

6. Aşağıdaki ülkelerden hangisi komşumuzdur?  
A. İtalya B. Yunanistan  
C. Cezayir D. Arnavutluk
7. Aşağıdaki ülkelerden hangisinin Asya ve Avrupa kıtalarında toprakları vardır?  
A. Bulgaristan  
B. Yunanistan  
C. Türkiye  
D. İtalya
8. Ata yurdumuzda bağımsız Türk cumhuriyetleri kurulmuştur.  
Aşağıdakilerden hangisi bu cumhuriyetlerden biridir?  
A. Suriye  
B. Güney Kore  
C. Irak  
D. Özbekistan
9. • Asya kıtasında yer alır.  
• Nevruz ve Kurban bayramlarını kutlarlar.  
• Bu ülkede Türkler yaşar.  
Yukarıda verilen bilgiler hangi ülkeye aittir?  
A. Arnavutluk  
B. Türkmenistan  
C. Hindistan  
D. Bulgaristan

10. ● Yunanistan  
■ Bulgaristan  
▲ Macaristan  
◆ Pakistan

Yukarıdakilerden hangileri Türkiye'ye komşu ülkelerden değildir?

- A. ● ve ■  
B. ● ve ▲  
C. ▲ ve ◆  
D. ■ ve ◆

11. Aşağıdaki ülkelerden hangisi Türklerin yönetiminde olmamıştır?

- A. Güney Kore  
B. Bulgaristan  
C. Yunanistan  
D. Irak

12. ● Anneler Günü  
■ Babalar Günü

▲ Çanakkale Şehitlerini Anma Günü  
Yukarıdaki özel günlerden hangisi ya da hangileri tüm ülkelerde kutlanır?

- A. Yalnız ●  
B. Yalnız ▲  
C. ●, ■ ve ▲  
D. ● ve ■

13. Müslüman ülkelerle hangi kutlamalarımız ortak olabilir?

- A. Ulusal bayramlarımız  
B. Dinî bayramlarımız  
C. Kurtuluş günlerimiz  
D. Yerel kutlamalarımız

14. • Peynirleriyle ünlüdür.  
• Bir Avrupa ülkesidir.  
• Dünyanın en önemli lale üreticisidir.

Yukarıda verilen bilgiler hangi ülkeye aittir?

- A. Hollanda  
B. Almanya  
C. Fransa  
D. Bulgaristan

15. Aşağıdaki ülkelerin hangisinde Türklerden kalma tarihî eserlere rastlanmaz?

- A. Suriye  
B. Bulgaristan  
C. İngiltere  
D. Yunanistan