


4.SINIFLAR İÇİN DENEME SINAVI

AL SEMENDER
SINIF ÖĞRETMENİNİN DÜNYASI

TÜRKÇE
MATEMATİK
FEN VE TEKNOLOJİ
SOSYAL BİLGİLER
İNGİLİZCE

ADI SOYADI:
OKULU:
NO:



1. "Masallar dedelerimizden, bizlere kalan en önemli söylencelerdendir. Bu yüzden masalları eskitemiyoruz. babamızın bize anlattığını biz kızımıza anlatıyoruz. U-fak tefek değişiklikleri de görmezden getiriyoruz."

Metne göre masallar neden eskimemektedir?

- A)Önemli olduklarından.
- B)Geçmişten bize kaldığı için.
- C)Değişikliklere uğradığı için.
- D)Babamızın hatırasına saygımızdan.

2. "Keçiler koyunlara karışınca ayırmak çok zor olurdu. Bu işi en çok Hasan Dayı becerirdi. Hiç birimiz keçilerle koyunları ayırmada onun kadar usta değildik. Bu işi yaparken de ıslık çalardı. Öyle güçlü çalardı ki çok uzaklardan bile duyulurdu. Ama ıslık değildi keçilerle koyunları yola getiren. Asıl Karabaş vardı yardımcısı."

Metne göre Hasan Dayı keçilerle koyunları nasıl ayırırdı?

- A)Islık çalarak.
- B)Değnekle.
- C)Köpeğinin yardımıyla.
- D)Diğer çobanlardan yardım alarak.

3. Aşağıdaki cümlelerin hangisinde yazım yanlışı vardır?

- A) Mühendis Sami, dün gitti.
- B) Kar yağışı Şubat ayında çok oluyormuş.
- C) Ankara'da TBMM'ye de gideceğiz.
- D) Kardeşim 12 Şubat 2003'te doğdu.

4. Hangi cümlede karşıt anlamlı sözcükler bir arada kullanılmamıştır?

- A) İyi de her zaman ben mi kötü olacağım?
- B) Önce ben çıkayım sonra sen inersin.
- C) Ferdi sana söyleseydi de gelmeseydi.
- D) Kurunun yanında yaş da yanarmış meğer.

5. Hangi cümlede eş sesli bir sözcük kullanılmamıştır?

- A) Her oyunda Hasan baş oluyor.
- B) Hem burada kem de orada el olduk.
- C) Hiçbir zaman yaşımı tam olarak sormadı.
- D) Dededen kalan bu aynayı ölene dek saklayacağız.

6. "(I) Sedef bizim sınıfın en uslu öğrencisiydi. (II) Uslu olduğundan" herkes onu severdi. (III) Arada sırada sesi çıkar ama o da duyulur duyulmaz bir ses olurdu. (IV) Herkesin Sedef'le iyi geçinmek için bir nedeni vardı.

Metinde numaralanmış cümlelerden hangisinde sebep sonuç ilişkisi kurulmuştur ?

- A) I
- B) II
- C) III
- D) IV

7. Aşağıdaki sözcüklerden hangisinin eş seslisi vardır?

- A) köz
- B) tiz
- C) saz
- D) tuz

8. Hangi cümlede **"geniş"** sözcüğünün zıt anlamlısı kullanılmıştır?

- A) Hiçbir şeyden sıkılmamıştım bu kadar.
- B) Herkesle iyi geçinmesini bilen birisiydi.
- C) Güzel ama biraz dar oldu diye almayacağım.
- D) Dürüstlük en büyük hazineymiş.

9. "Çok fazla kitap okuyan birisidir bizim Mert. Adının da tüm özelliklerini taşır diğer yandan. Azıcık kusur arasan boşuna uğraşırın. Böyle birisi daha var mıdır diye düşünme boşuna. Arasan da bulamazsın"

Metne göre Mert için aşağıdakilerden hangisini söyleyemeyiz?

- A) Çok kitap okur.
- B) Mert birisidir.
- C) Çok geçimsizdir.
- D) Birçok olumlu özelliği vardır.

10. Aşağıdaki cümlelerin hangisinde yazım yanlışı vardır?

- A) Turanlar burada top oynayacaklar.
- B) Karadeniz'de hamsi kalmamış dediler.
- C) Ankara'lı yazlığa gelmeyecekmiş bu sene.
- D) Muzaffer İzgü'nün tüm kitaplarını okuyorum.

11. "Sizinle spor yapmakta istekliyim. Ama siz de benimle köye geleceksiniz."

Cümlesinde altı çizili sözcüğün yerine hangi sözcük getirilirse cümlemin anlamı değişir?

- A) Ancak
- B) Fakat
- C) Yalnız
- D) Yoksa

12. Aşağıdaki sözcüklerden kurallı ve anlamlı bir cümle yaparsak sıralama nasıl olur?

- (1) kimseyi (2) geldiği (3) gece
(4) için (5) geç (6) görmemiş

- A) 3 - 2 - 6 - 4 - 5 - 1
- B) 5 - 2 - 4 - 3 - 1 - 6
- C) 3 - 5 - 2 - 4 - 1 - 6
- D) 5 - 6 - 3 - 4 - 1 - 2

13. "Çok çok onbeş yaşında olmalıydı. Sevimli gözlerini kaldırarak bana:

-Ne zaman geldiniz diye sordu?

Ben, bunu hiç beklemediğim için şaşırıp kaldım."

Yukarıdaki metinde hangi noktalama işareti yanlış kullanılmıştır?

- A) Nokta(.)
- B) İki nokta (:)
- C) Virgül (,)
- D) Soru işareti (?)

14. "Güçlü demek zengin ve istediğini yapabilen demek değildir. Güçlü demek zorluklarla mücadele edebilen demektir."


Paragrafta anlatılmak istenen düşünce hangisidir?

- A) Zengin olan güçlüdür.
- B) Güçlü olan zengin de olur.
- C) Zorluklarla mücadele edebilen güçlüdür.
- D) Ne kadar güçlü isek o kadar becerikliyizdir.

15. "Herkesin iyiliğini isteyen kişi." anlamına gelecek sözcük hangi seçenekte verilmiştir?

- A) İyi kalpli
- B) İyilik bilir
- C) İyi kötü
- D) İyisi mi

TÜRKÇE TESTİ BİTTİ
YANITLARINIZI KONTROL EDİNİZ



Yukarıdaki dikdörtgeni nasıl adlandırabiliriz?

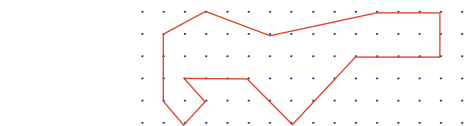
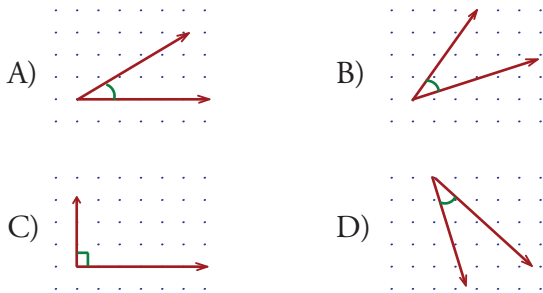
- A) TUYV dikdörtgeni
B) YVTU dikdörtgeni
C) VYTU dikdörtgeni
D) VUYT dikdörtgeni

2. I- $25^\circ - 55^\circ - 100^\circ$
II- $60^\circ - 60^\circ - 60^\circ$
III- $40^\circ - 75^\circ - 65^\circ$
IV- $20^\circ - 30^\circ - 130^\circ$

Yukarıda açı ölçüleri verilen üçgenlerden hangileri geniş açılı üçgendir?

- A) I-II
B) II-IV
C) I-IV
D) III-IV

3. Aşağıdakilerden hangisi dar açı değildir?



4. Yukarıdaki çizimde kaç tane dik açı vardır?

- A) 3
B) 4
C) 5
D) 6

5. I- 40° II- 30° III- 70° IV- 20°

Yukarıda verilen açılardan hangi ikisini toplarsak dik açı olur?

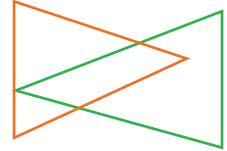
- A) I- II
B) III-IV
C) II- III
D) I-IV

6. Aşağıdakilerden hangisi açı oluşturmaz?

- A) H
B) U
C) K
D) T

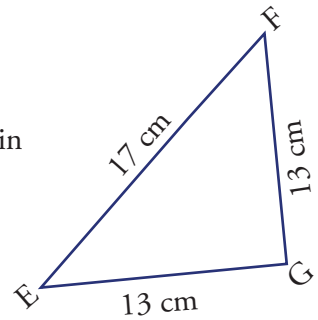
7. Yandaki şekilde kaç tane üçgen vardır?

- A) 2
B) 3
C) 4
D) 5



8) Yandaki EFG üçgeni için hangisi kesinlikle yanlıştır?

- A) İkizkenar üçgendir
B) Dik açılı üçgen olabilir
C) GFE üçgeni de denebilir
D) Eşkenar üçgendir



9. "Altı yüz bin yetmiş" olarak okunan sayı hangisidir?

- A) 600 700 B) 670 000
C) 607 000 D) 600 070

10. "305 564" sayısında binler bölümü ve onlar basamağındaki sayıların sayı değeri toplamı kaçtır?

- A) 23 B) 14 C) 11 D) 8

11. "2 yüz binlik + 5 on binlik + 2 yüzlük + 1 onluk"

Yukarıda çözümlenmiş olarak verilen sayının okunuşu aşağıdakilerden hangisidir?

- A) iki yüz beş bin yirmi bir
B) iki yüz elli bin iki yüz on
C) iki yüz on bin iki yüz elli
D) iki yüz beş bin iki yüz on

12. Aşağıdaki sıralamalardan hangisi yanlıştır?

- A) 45 100 > 44 765 > 44 800
B) 301 765 > 300 999 > 299 765
C) 54 437 > 53 532 > 50 990
D) 39 600 < 67 700 < 76 000

13. Aşağıdakilerden hangisi yanlıştır?

- A) 87 680 sayısının en yakın yüzlüğe yuvarlanmış hali seksen yedi bin yedi yüz dür
B) 1433 sayısının en yakın onluğa yuvarlanmış hali bin dört yüz kırk tır.
C) 94 sayısının en yakın onluğa yuvarlanmış hali yüz dür.
D) 666 765 sayısının en yakın yüzlüğe yuvarlanmış hali altıyüz altmış altı bin sekiz yüz dür.

14. "0, 2, 4, 5, 8" rakamlarını bir kez kullanarak yazılabilecek beş basamaklı ve 50 000'den küçük en büyük sayı kaçtır?

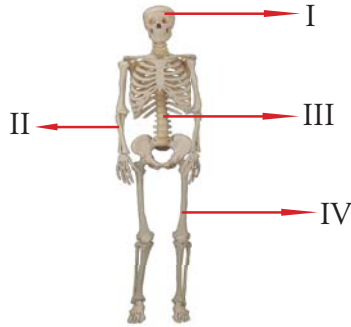
- A) 85 420 B) 58 420
C) 45 820 D) 48 520

$$\begin{array}{r} \square \square \square \square \\ + 4876 \\ \hline 10532 \end{array}$$

15. Yukarıdaki toplama işlemine göre $\square + \square$ kaçtır?

- A) 10 B) 11 C) 12 D) 13

1. Aşağıda verilen iskelet resminde bazı kemikler numaralandırılmıştır. Buna göre işaretli kemiklerin çeşitleri hangi seçenekte doğru verilmiştir?



	Kısa Kemik	Uzun Kemik	Yassı Kemik
A)	III	II,IV	I
B)	I,II	III	IV
C)	II,IV	I	II
D)	IV	II	I,III

2. Dolaşım ile ilgili hangi bilgi doğrudur?

- A) Kanın damarlarda vücudu dolaşması için kalbin gücü gerekir.
 B) Damarlardaki kanda karbondioksit bulunmaz.
 C) Nabız saymak için gelişmiş cihazlar gerekir.
 D) Yaşımız arttıkça nabız sayımız da artar.




3. "Kaslarımız kasılırken"

Yukarıdaki cümlede boş bırakılan yere hangisinin gelmesi doğru olur?

- A) Uzar
 B) Kısalır
 C) Genişler
 D) İncelir

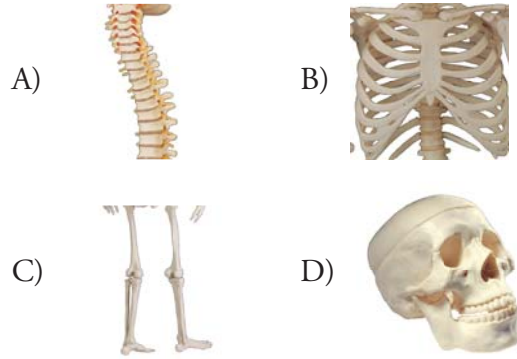
4. "Orhan salona çıkarken duvarda asılı duran örümcek maketini gördü. Bir an gerçek sanıp çok korktu."



Bu durumda Orhan'ın nabız sayısı ile ilgili söylenenlerden hangisi doğrudur?

- A) Artar
 B) Azalır
 C) Değişmez
 D) Durur

5. Aşağıdakilerden hangisi uzun kemiğe örnektir?



6. I-Yutak II-Soluk borusu
 III-Burun IV-Akciğer
 V- Gırtlak

Vücudumuza aldığımız oksijen sırasıyla hangi yollar-
 dan geçer?

- A) IV - V - I - II - III
 B) III - I - V - II - IV
 C) II - I - IV - V - III
 D) III - V - I - III - II

7. Bir saatten beri yatağa uaznıp dinlenen üç arkadaşın nabızları ölçüldüğünde aşağıdaki sonuçlar çıkıyor:

Elmas	78
Ergin	86
Ercan	81

Aşağıdakilerden hangisi bu olayın açıklamaz?

- A) Vücut yapısı B) Ten rengi
C) Cinsiyet D) Yaş

8) Aşağıdakilerden hangisi malzeme değildir?

- A) Un B) Havuç
C) Çimento D) Pense

9. "Annem kek yapmak için mutfığa gitti. Masanın üstüne un,şeker,yağ,kek kalıbı,ve önlüğünü çıkardı. Kısa süre sonra mikser ile keki karıştırıp fırına koydu."

Metinde geçen sözcüklerle ilgili eşleştirmelerden hangisi yanlıştır?

- A) un,şeker,yağ malzemedir
B) un,şeker,kek kalıbı malzemedir
C) kek kalıbı, fırın alettir
D) mikser,kek kalıbı alettir

10. "Erdinç bir kavanozun tümünü ince kum ile dolduruyor. Üzerine su döktüğünde kavanoz dolu olduğu halde su aldığını görüyor."

Bu deneyden hangi sonuç çıkabilir?

- A) Kavanozda delik olabilir.
B) Kavanoz tam dolmamıştır.
C) Kum taneciklerinin arasında hava kaldığından su alır.
D) Su kumdan daha hafif olduğundan su alır.

11) İçine elma koyduğumuz tabağı boş iken tartarsak neyi öğrenmek istemiştir?

- A) brüt kütle B) tara
C) yoğunluk D) net kütle

12. Aşağıdakilerden hangisini yeniden işleyerek kullanamayız?

- A) Plastik bardak B) Cam sürahi
D) Gazete kağıdı D) Porselen tabak

13. Hangisi ısı etkisiyle hal değiştirmez?

- A) altın yüzük B) Cam vazod
D) un D) demir tarak

14. "Erdem yumurtaları sıcak suya koyup haşladı.Daha sonra bunları yemek için soğutmak istedi. Yumurtaları bu sefer de soğuk suya koyup bekletti."

Bu durumda yumurtalarla ilgili hangisi doğrudur?

- A) Yumurtalar önce ısı alıp sonra bu ısıyı korur.
B) Yumurtadaki ısı akışı durur.
C) Yumurta önce ısı alıp sonra ısı kaybeder.
D) Her durumda ısı akışı yumurtaya doğrudur.

15. "Berklik" hangisinin özelliği olamaz?

- A) Cam bardak B) Tahta kaşık
D) Karton kutu D) Kuru boya

FEN VE TEKNOLOJİ SORULARI BİTTİ
YANITLARINIZI KONTROL EDİNİZ



- 1) "Tuğrul kendi halinde bir çocuktur. yalnızlığı sever. Ayca da bu bakımdan Tuğrul'a benzer. o da yalnız kalmayı sever. Yalnız kalınca şiir yazmaya bayılır."

Yukarıda anlatılanlarla ilgili aşağıdakilerden hangisi söylenebilir ?

- A) Ayca'nın fiziksel özelliğinden söz edilmiştir.
B) Tuğrul'un fiziksel özelliğinden söz edilmiştir.
C) Her ikisinin de kişilik özelliğinden söz ediliyor.
D) Ayca'nın durumunda sadece yetenekler söz konusudur.

- 2) I. Her Türk vatandaşına verilmektedir.
II. Bankalarda, resmi kurumlarda ve pek çok işlemlerde kullanılan bir bilgidir.
III. Nüfus cüzdanımızda yazlıdır.

Yukarıda sözü edilen nedir ?

- A) Vergi No B) Sigorta No
C) T.C. Kimlik No. D) Seri No



- 3) "Nevin Teyze torunu Aysel'i her zaman çok seviyor. Nevin Teyze Aysel'e hep eski günleri anlatır. Aysel de eskiden yaşananları öğrenmek için onu can kulağıyla dinler."

Nevin Teyze Aysel'e aşağıdakilerden hangisinden söz ediyor olamaz?

- A) Oturdıkları köy evinin taştan yapıldığını.
B) Okulda giydikleri giysileri.
C) Televizyonun olmadığı günleri.
D) Cep telefonuyla görüntülü konuştuklarını.

- 4) "Burçak caddede yürürken genç bir kişinin sokağa tükürdüğünü gördü. Hemen onu uyarmak istedi. Ama yanında yürüyen arkadaşı Orhan gencin ona kızabileceğini söyleyerek Burçak'ı durdurmak istedi. Burçak Orhan'a aldırmadan gence taklaştı ve kibarca yaptığı hatayı söyledi."

Yukarıda anlatılanlardan Burçak'ın hangi özelliğini öğrenebiliriz?

- A) Hoşgörülü olduğunu B) Duyarlı olduğunu
C) Düşüncesiz olduğunu D) Dürüst olduğunu

- 5) Aşağıdakilerden hangisi aile tarihini araştırmak isteyen Burhan'ın başvuracağı bir kaynak değildir?

- A) Dedesi B) Eski komşuları
C) Aile albümü D) Öğretmeni

- 6) Hangisi gelenek ve göreneklerimizdeki değişmeyi anlamamıza yardımcı olur?

- A) Mahallede kına gecesi olması
B) Asker uğurlama törenleri yapılması
C) Bayramlarda el öpülmesi
D) Düğünlerin sadece nikah biçiminde yapılması

- 7) I- I. Dünya Savaşı sonunda imzalandı.
II. Osmanlı İmparatorluğu yenilgiyi kabul etti.

Yukarıda sözü edilen antlaşma hangisi olabilir?

- A) Mondros Anlaşması B) Lozan Anlaşması
C) Mudanya Anlaşması D) Ankara Anlaşması

- 8) I. Amasya Genelgesi
II. Erzurum Kongresi
III. TBMM'nin açılması
IV- Sivas Kongresi

Yukarıda verilen olayları sondan başa doğru sıralayacak olursak sıralama nasıl olur ?

- A) I-II-III-IV
B) II-I-III-IV
C) IV-II-I-III
D) III-IV-II-I

- 9) Hangisi Kurtuluş Savaşı sırasında yapılan savaşlardan birisi değildir?

- A) I. İnönü Savaşı
B) II. İnönü Savaşı
C) Sakarya Savaşı
D) Çanakkale Savaşı

- 10) I. Bir bölgenin delegeleri katıldı
II. Manda ve himaye kabul edilemez kararı alındı
III. Alınan kararlar bakımından ulusaldır
IV- Atatürk ordudaki görevinden ayrıldı

Hangisi/hangileri Erzurum Kongresi'ne ait bir özelliktir?

- A) I-II-III-IV
B) I-III-IV
C) I-II-III
D) I-II-IV

- 11) Aşağıdaki olaylardan TBMM'nin açılışına göre sıralaması nasıldır ?

	TBMM'den Önce	TBMM'den Sonra
A)	Sakarya Savaşı Amasya Görüşmeleri	Erzurum Kongresi Mudanya Ateşkes An.
B)	Amasya Görüşmeleri Mudanya Ateşkes An.	Erzurum Kongresi Sakarya Savaşı
C)	Sakarya Savaşı Mudanya Ateşkes An.	Amasya Görüşmeleri Erzurum Kongresi
D)	Erzurum Kongresi Amasya Görüşmeleri	Sakarya Savaşı Mudanya Ateşkes An.

12. Aşağıdakilerden hangisi Kurtuluş Savaşı döneminde yaşanmış bir olay değildir?

- A) Büyük Taarruz
B) Trablusgarp Savaşı
C) Maraş'ın İşgali
D) Amasya Görüşmeleri

13. Aşağıdakilerden hangisi Kurtuluş Savaşı dönemine ait bir olaydır?


- A) Tekalif-i Milliye
B) Tevhid-i Tedrisat
C) Soyadı Kanunu
D) Havza Genelgesi

14. Aşağıda yabancılar ve yudrumuzda işgal ettikleri yerler eşleştirilmiştir. Hangi eşleştirme yanlıştır?

- A) İtalyanlar-Erzurum
B) Yunanlılar-İzmir
C) Fransızlar-Adana
D) İngilizler-Musul

15. Kurtuluş Savaşı döneminde yudumuzun işgaline kendi çabalarıyla karşı çıkmak için, halkımızın oluşturduğu örgütler hangisidir?

- A) Milli Menfaatler
B) Milli Güç
C) Kuvayi Milliye
D) Kuvayi İnzibatiye



İlk iki soruyu görseli dikkate alarak yanıtlayınız.

1. Aşağıdakilerden hangisi doğrudur?

- A) Begüm is my brother.
- B) Nurcan is my mother.
- C) Fahri is a dentist.
- D) Fahri is my grandpa.

2. Aşağıdakilerden hangisi yanlıştır?

- A) Begüm is Hakan's sister.
- B) This is Hakan's family.
- C) Fahri is Hakan's grandfather.
- D) Hakan is Fahri's son.

3. Is this a pen or a ball?



- A) No it isn't.
- B) It is a ball.
- C) It is a pen.
- D) Yes. It isn't a ball.

Hello! My name is Semy.



Hi!

4. Yukarıdaki diyalogda boş bırakılan yere aşağıdakilerden hangisi kesinlikle gelemaz?

- A) My name is Tim.
- B) Good morning Semy.
- C) What is your name?
- D) Raise your hand.

4. SINIF DENEME SINAVI 1

5. Aşağıdakilerden hangisi doğruyu söylemektedir?

A)



Hello! I'm Tarık. I have got a big shoes.

B)



Hello! I'm Timur. I have got a dress.

C)



Hello! I'm Suna. I have got a trousers.

D)



Hello! I'm Buse. I have got a shorts.



6. Yukarıda hangisine ait görsel yoktur?

- A) Eraser
- B) Rubber
- C) Notebook
- D) Pen

7) "I _____ got a book." cümlesinde boş bırakılan yere hangisi gelecektir?

- A) have
- B) has
- C) am
- D) is

one three five

8) Yukarıdaki boşluklara sırasıyla hangilerinin gelmesi gerekir?

- A) two - four
- B) nine - ten
- C) two - six
- D) eight - seven

9) " _____ this books?

- A) have
- B) has
- C) am
- D) is

10) "Is this an apple?
No _____"

- A) it is
- B) it isn't
- C) he is
- D) is