

ADI : .....  
 SOYADI : .....  
 SINIFI : .....  
 OKUL NO : .....

## HAYAT BİLGİSİ

## ÜNİTE 3 / TEST 2

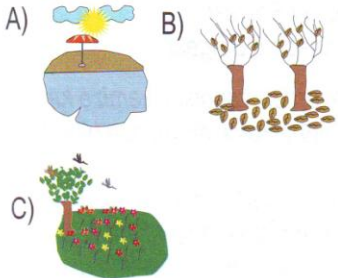


### AİLEMİZİN MUTLU GÜNÜ


"Aylardan Nisan, günlerden Çarşambaydı. Güzel güneşli bir gündü. Bu aralar sabırsızdık çünkü ailemize yeni bir fert gelecek ve ben ağabey olacaktım. Ben bunları düşünürken annem rahatsızlandı ve hastaneye götürdük. Bir müddet sonra ebe babamla, bana müjdeyi verdi. Kız kardeşim olmuştu. Annemle babam kardeşimin ismini benim koymamı istedik. Ben de kardeşim İlkbahar gibi renkli ve canlı olsun diye ismini Rengin koydum. 7 Nisan 2008 ailece kutlayacağımız güzel ve önemli bir gün olmuştu. Ayrıca ailemizin ve ülkemizin nüfusu bir kişi daha artmıştı."

Yukarıdaki paragrafa göre ilk 5 soruyu yanıtlayınız.


1) Paragraftaki ailenin yaşadığı o mutlu ve önemli gün aşağıdaki mevsimlerden hangisinde yaşanmıştır ?



2) Çocuğun kardeşinin doğduğu gün nasıl bir gün imiş ?



3) Baba ve çocuğa doğum müjdesini kim haber vermiştir ?



4) Aileye yeni katılan bebeğin ismini kim vermiştir ?

A) Çocuk B) Baba C) Anne

5) Aşağıdaki tarihlerden hangisi ailenin kutlayacağı yeni özel günün ilk yıldönümü tarihidir ?

A) 7 Nisan 2009  
 B) 7 Nisan 2008  
 C) 23 Nisan 2009

6) Aşağıdaki seçeneklerden hangisi ailece kutlayacağımız özel günlerden biri **değildir** ?

A) Evlilik Yıldönümü  
 B) İlimizin Kurtuluş Günü  
 C) Doğum Günü

7) Ülkemizi, aşağıdaki seçeneklerden hangisi yönetir ?

A) Türkiye Büyük Millet Meclisi  
 B) Hükümet  
 C) Cumhurbaşkanı

8)



Ülkemizin yönetimine katkıda bulunmak için hangi hakkımızı kullanırız ?

A) Haberleşme Hakkı  
 B) Seyahat Etme Hakkı  
 C) Seçme ve Seçilme Hakkı

9) Kendimize ait eşyaları korumak için aşağıdaki seçeneklerden hangisini **yapmamalıyız** ?

A) Kitaplarımı karalamam, yırtmam.  
 B) Okuldan gelince üzerimi değiştirmem.  
 C) Ayakkabılarımı boyarım, parlatırım.



10) Aşağıdakilerden hangisi ev kazalarına sebep **olmaz** ?



11) Dünya 'nın kaçta kaç sularla ve karalarla kaplıdır ?

A)  $\frac{1}{3}$  ' ü sularla,  $\frac{2}{3}$  ' ü karalarla kaplıdır.  
 B)  $\frac{2}{3}$  ' ü sularla,  $\frac{1}{3}$  ' ü karalarla kaplıdır.  
 C)  $\frac{3}{4}$  ' ü sularla,  $\frac{1}{4}$  ' ü karalarla kaplıdır.

12) Yurdumuz kaç coğrafi bölgeden oluşur ?

A) 6 Bölge B) 7 Bölge C) 8 Bölge

13) Ülkemizin Yüz ölçümü olarak en büyük coğrafi bölgesi hangisidir ?

A) Karadeniz Bölgesi  
 B) İç Anadolu Bölgesi  
 C) Doğu Anadolu Bölgesi

14) Aşağıdakilerden hangisi ülkemize karşı görev ve sorumluluklarımızdan biridir ?

A) 18 yaşına geldiğimizde oy kullanmak.  
 B) Odamızı temiz ve düzenli tutmak.  
 C) İlköğretim eğitimini tamamlamak.

o c a k 5 5 6 7

J. Deak

O C A K

S Ü İ E Y M A N

S Ü İ E Y M A N



ADI : .....  
SOYADI : .....  
SINIFI : .....  
OKUL NO : .....



### BÜYÜDÜM ARTIK

Saçlarımı tarıyor, banyomu yapıyorum.  
Okuma – yazma öğrendim,  
Artık masallarımı kendim okuyorum,  
Sana mektup bile yazıyorum.

Legalarımla, oyuncaklarımla değil,  
Bilgisayarımı oynuyorum.  
Artık çizgi film değil,  
Macera filmleri izliyorum.

Patiklerim süs olarak vitrinde,  
Çocukluk resimlerim ise albümde.  
Artık büyüdüm diyorum anne,  
İnanmıyorsun bana nedense ...

C.Rençber

İlk 5 soruyu yukarıdaki şiire göre yanıtlayınız?

1) Şair şiire göre hangi ihtiyaçlarını kendisi yapabiliyor ?

- A) Ayakkabılarının bağlarını bağlama
- B) Saçlarını tarama
- C) Dişlerini fırçalama

## HAYAT BİLGİSİ

### ÜNİTE 3 / TEST 3

2) Şairin şiirde okuma – yazma öğrendikten sonra ne yapabileceğine **değ**inilmemiştir ?

- A) Mektup yazma
- B) Kitap okuma
- C) Kitap yazma

3) Şair şiire göre artık ne ile oynamaktan hoşlanıyor ?

- A) Legolarla B) Oyuncaklarla C)Bilgisayarla

4) Şair hangi filmi izlemekten hoşlanıyor ?

- A) Macera filmi
- B) Korku filmi
- C) Çizgi filmi

5) Şairin büyüdüğüne annesi neden inanmıyor ?


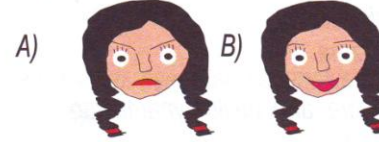
- A) Öğrenci olduğu için
- B) Boyu fazla büyümediği için
- C) Annelerin gözünde çocukları , hep çocuk olarak kaldıkları için .

6)Aşağıdaki davranışlardan hangisini tek başınıza **yapamazsınız** ?


- A) Tatile gitmek
- B) Ders çalışmak
- C) Saçlarımızı taramak

7) " Nil ' in o gün doğum günüydü. Okuldan eve geldiğinde büyük bir sürprizle karşılaştı.Babası Nil ' e bir bilgisayar almıştı. "

Yukarıdaki paragrafa göre bilgisayarı görünce Nil ' in yüz ifadesi aşağıdakilerden hangisinde doğru olarak verilmiştir ?



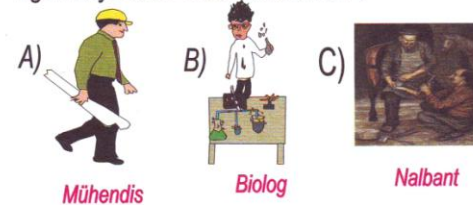
8)Aşağıdakilerden hangisi yıllar geçsede değişmeyen özelliklerimizdendir ?



Boyumuzun uzaması



9)Aşağıdakilerden hangisi günümüzde geçerli -liğini kaybeden mesleklerdendir ?



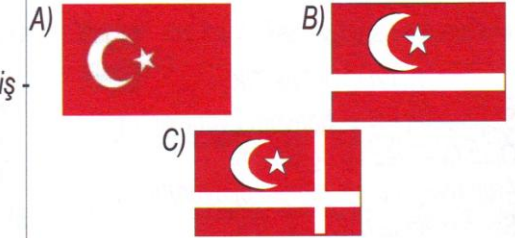
10)Aşağıdakilerden hangisi Atatürk ' ün kişisel özelliklerinden biri değildir ?

- A) İleri görüşlü B) Bencil C) Çalışkan, başarılı

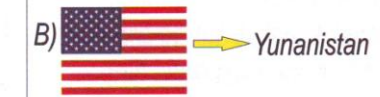
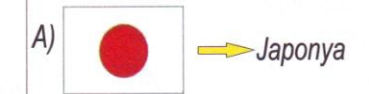
11) T.B.M.M. ' nin açıldığı günü Atatürk kimlere armağan etmiştir ?

- A) Kahraman Türk Askerine
- B) Kahraman Türk Kadınlarına
- C) Çocuklara

12) Aşağıdakilerden hangisi bayrağımızın sembolüdür ?



13)Aşağıdaki bazı ülkelerin bayrakları ve ülke isimleri eşleştirilmiştir. Buna göre hangi seçenekte **yanlış eşleştirilmiştir** ?



14)Aşağıdakilerden hangisi ulusca kutladığımız milli bayramlardan biri **değildir** ?

- A) Ulusal Egemenlik ve Çocuk Bayramı
- B) Ramazan Bayramı
- C) 29 Ekim Cumhuriyet Bayramı