

ADI :
SOYADI :
SINIFI :
OKUL NO :

HAYAT BİLGİSİ

ÜNİTE 3 / TEST 4



RÜYAMDAKİ GELECEK

Zırrr zırrr zırrrrr !.... Annem mutfaktan sesleniyordu . “ Geç kalacaksın okula, çabuk hazırlan. “ Etrafımdaki herşey yabancı ; bu yatak, oda , dışarıdaki manzara ve gökyüzü. Nerdeyim ben ? Duvarda duran kırmızı düğme dikkatimi çekti ve bastım. O da ne ? Birden kıyafetlerim değişti. Bir daha bastım. Her bastığımda değişiyordu. Bu arada bir köpek havlaması duydum. Bu Azman' ın sesiydi fakat gelen bir robottu. Beni yalıyor Azman gibi sıvra - şıyordu. Mutfağa yöneldim bir hizmetçimiz vardı o da robottu. Kapı zili çaldı. Okul servisimiz gelmişti. O da ne servis gökyüzünde uçuyor, evler, arabalar , insanlar ve daha bir çok şey.Okula geldiğimde şaşkınlığım daha da arttı. Okulumuz uzay üssü gibiydi. Yine o ses. “ Zırr zırrr zırrrrr ! “ Kaan Kaan Kaan “ Annemin sesi bu. Aman tanrım herşey rüyaymış.

Yukarıdaki okuma parçasına göre ilk dört soruyu yanıtlayınız .

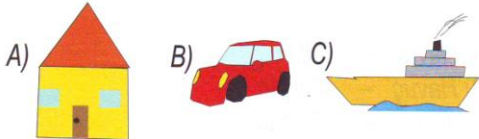
1) “ Zır “ sesi hangi aracın sesidir ?

- A) Fırının düdüğü
- B) Kapı zili
- C) Çalar saat

2)Aşağıdakilerden hangisi çocuğun rüyasında robot olarak gördüğü varlıklardan biri değildir?

- A) Annesi
- B) Hizmetçisi
- C) Köpeği

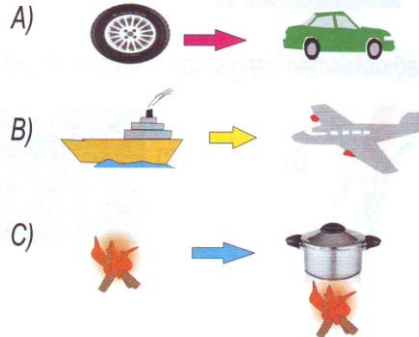
3)Aşağıdakilerden hangisi Kaan ' ın rüyasında gördüğü uçan nesnelerden biri değildir ?



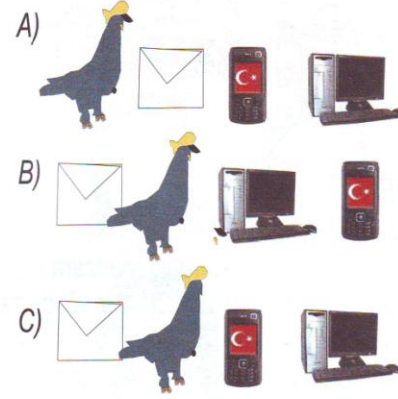
4) Kaan okulunu aşağıdakilerden hangisine benzetmiştir ?

- A) Lunapark
- B) Uzay üssü
- C) Uzay gemisi

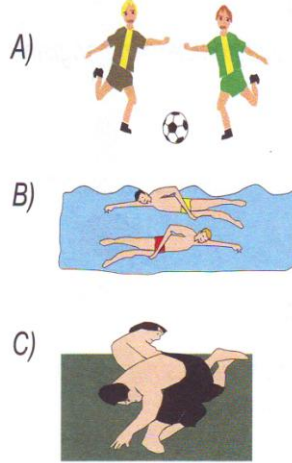
5) Aşağıdaki icatlardan hangisinin eşleştiril - mesi yanlış yapılmıştır ?



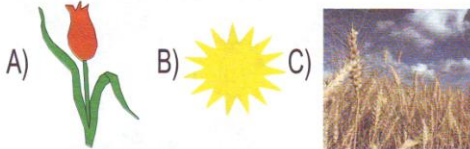
6)Aşağıdakilerden hangisinde haberleşmede geçmişten günümüze kullanılan yöntemler doğru sıralanmıştır ?



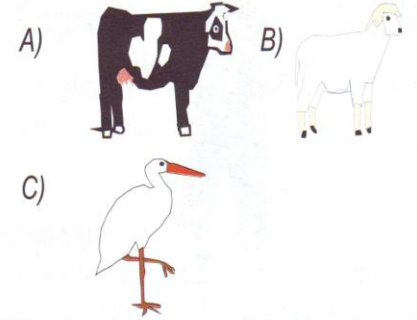
7)Aşağıdakilerden hangisi milli sporlarımızdan biridir ?



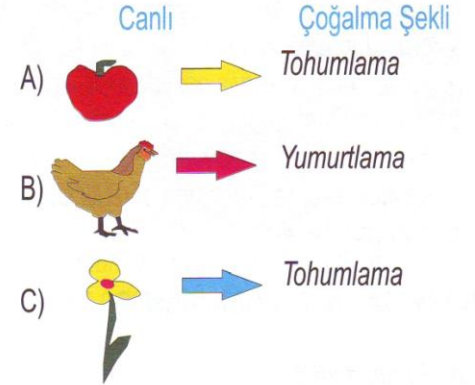
8)Aşağıdakilerden hangisi canlı bir varlık değildir?



9)Aşağıdaki canlılardan hangisinin çoğalması diğerlerinden farklıdır ?



10)Aşağıdakilerden hangisinde canlı ve çoğalma şekli eşleştirmesi yanlış verilmiştir ?



11)Su döngüsünde ; su yeryüzüne hangi şekilde dönmez ?

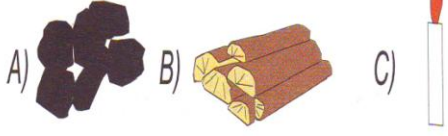
- A) Çamur
- B) Kar
- C) Yağmur



Yukarıda görselleri verilen varlıkların hangi ikisi yer değiştirirse besin zinciri doğru olur ?

- A) Havuç – Tilki
- B) Havuç – Tavşan
- C) Tilki – Tavşan

13) Aşağıdaki maddelerden hangisi ısınınca erir?



Hava olaylarının tahmin edildiği merkeze ne ad verilir ?

- A) Astroloji
B) Meteoroloji
C) Labaratuvar