

ADI :
SOYADI :
SINIFI :
OKUL NO :




HAYAT BİLGİSİ

2.DNM.GEN.DEĞ.

1) Milli marşımız olan İstiklâl marşını kim yazmış ve bestelemiştir ?

Yazarı	Bestecisi
A) Mehmet Akif Ersoy	Osman Zeki Üngör
B) Mehmet Akif Ersoy	Zeki Müren
C) Mehmet Akif Ersoy	Zeki Sezer

2) Aşağıdakilerden hangisinde hava olayı ile görsel eşleştirmesi **yanlış** verilmiştir ?

- A)  → Bulutlu
- B)  → Güneşli
- C)  → Hava açık




3) Dünya' nın kendi eksenini etrafında dönüş hareketi ile aşağıdaki olaylardan hangisi **oluşmaz** ?

- A) 1 gün 24 saat olur.
B) Mevsimler oluşur.
C) Gece, gündüz oluşur.

4) Aşağıdakilerden hangisi günümüzde kullanılan saat çeşitlerinden biridir ?

- A)  kum saati
- B)  güneş saati
- C)  duvar saati

5) "Ay" ı gökyüzünde farklı biçimlerde görürüz." 9) Aşağıdaki seçeneklerden hangisinde Ay'ın saffhalarındaki ismi doğru yazılmıştır ?

- A)  → Son dördün
- B)  → Dolunay
- C)  → İlk dördün

6) Kurtuluş Savaşı ' nın başlangıcı sayılan olay aşağıdakilerden hangisidir ?

- A) Atatürk ' ün Samsun ' a çıkışı
B) İstanbul ' un işgali
C) İzmir ' de düşmanların denize dökülmesi

7) Her yıl 19 Mayıs günü ulusca hangi milli bayramı kutluyoruz ?

- A) Ulusal Egemenlik ve Çocuk Bayramı
B) Cumhuriyetin ilânı
C) Atatürk ' ü anma Gençlik ve Spor Bayramı

8) **Okan, gelecekte doktor olmak istiyor.** Aşağıdakilerden hangisi bu mesleğin şartlarından biridir ?

- A) Ailesinden birinin doktor olması
B) Eğitim sürecini tamamlaması
C) Boyunun uzun olması



Mustafa Kemal Atatürk kaç yıl boyunca Cumhurbaşkanlığı yapmıştır ?

- A) 15
B) 8
C) 10

10) Besin zincirinin tanımı aşağıdaki şıklardan hangisinde doğru olarak verilmiştir ?

- A) Doğadaki bitki türlerinin birbirlerinden beslenmesine denir.
B) Doğadaki büyük baş hayvanların beslenmesine denir.
C) Doğadaki tüm canlıların birbirlerinden yararlanarak beslenmelerine denir.

11) Meteoroloji, hava durumunu tüm insanlara nasıl bildirir.

- A) Posta güverciniyle
B) Haberci ile
C) Basın yayın kuruluşları



12) Besin zincirinin en büyük enerji kaynağı aşağıdaki seçeneklerden hangisinde doğru verilmiştir ?

- A) Bitkiler
B) Güneş
C) Hayvanlar

13)



Müzelerden yararlanarak
..... hakkında bilgi
edinebiliriz.

Boş kalan yere aşağıdakilerden
hangisi gelirse doğru olur?

- A) Günlük olaylar
- B) Gelecekte yaşanacakları
- C) Tarihi olaylar

14) Aralık ayının son günü gecesinde kutlanan
özel gün aşağıdakilerden hangisidir?

- A) Yılbaşı
- B) Bayram
- C) Ay sonu

15)



..... maddeler çevreye zarar verir.

Boş kalan yere aşağıdakilerden
hangisi gelmelidir?

- A) Çöp ve zararlı atık
- B) Ambalajsız yiyecek ve
- C) Yeşil sebzeler

16) Fabrikalar ve araba egzozlarından çıkan

..... ozan tabakasına zarar verir.

Boş bırakılan yere aşağıdakilerden hangisi
gelir?

- A) Sular
- B) Duman ve gazlar
- C) Hava

17)



Hava sıcaklığını ölçen
aletin adı aşağıdakilerden
hangisidir?

- A) Termometre
- B) Termus
- C) İbre

18) Aşağıdaki doğal afetlerden hangisi ülkemizde
görülmez ?

- A) Volkanik patlama
- B) Çığ
- C) Deprem

19) Uygulanmadığında toplum tarafından
ayıplanan kurallara ne ad verilir?

- A) Hukuk kuralları
- B) Kent kuralları
- C) Görgü kuralları

20)



Haziran ayında aşağıdaki
mevsimlerden hangisi yaşanır?

- A) İlkbahar
- B) Yaz
- C) Sonbahar

o c a k 5 5 6 7

J. Deak

K

A

C

O

n

a

m

y

i

e

ü

S