



ADI-SOYADI:

ZAMAN ÖLÇÜLERİ

2.SINIF
MATEMATİK

Aşağıdaki saatlerin kaç gösterdiğini altlarına yazınız.

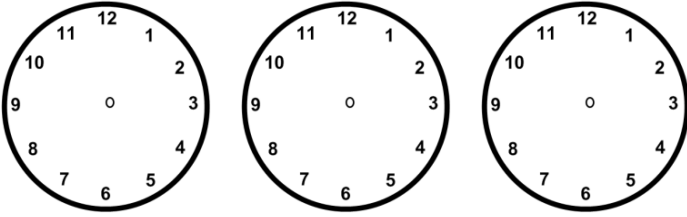


Saat:

Saat:

Saat:

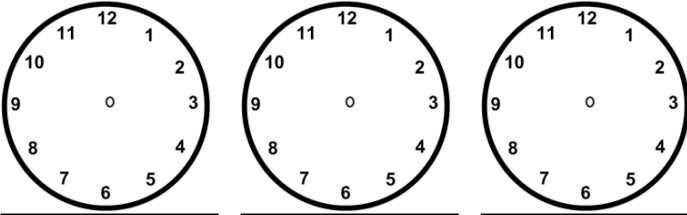
Aşağıdaki saatleri, altında verilen zamana göre ayarlayınız. Akrebi kısa, yelkovanı uzun çiziniz.



7.30

3.30

12.30



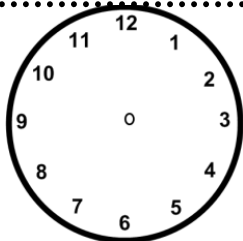
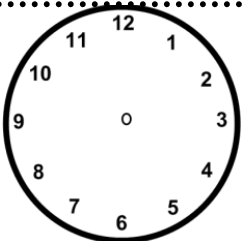
1.30

8.30

4.30

Saat kaçta kalktığınızı saat üzerinde çizerek gösteriniz.

Saat kaçta yattığınızı saat üzerinde çizerek gösteriniz.



Veli:.....

1. Sabah saat 8' de evden çıktım. Tam 4 saat sonra geri döndüm. Eve döndüğümde saat kaçtı?

Çözüm:

2. Bir hafta, 10 günden ne kadar azdır?

Çözüm:

3. İki hafta kaç gündür?

Çözüm:

4. Oyun oynamaya saat 5' te çıktım. Eve döndüğümde saat 7 idi. Kaç saat oyun oynadım?

Çözüm:

5. Kitap okumaya başladığımda saat 9 idi. Bir saat kitap okuduğuma göre kitap okumayı ne zaman bıraktım?

Çözüm:

6. Dedem yılın 4 ayını bizde, kalanını köyde geçiriyor. Dedem yılda kaç ay köyde kalıyor?

Çözüm:

7. Aslı sabah 07:30' da uyandı. Yarım saat sonra servise bindi. Aslı saat kaçta servise bindi?

Çözüm:

Öğretmen:.....