

ADIM SOYADIM:.....

ÖRÜNTÜ VE SÜSLEMELER








Bu örüntüde boş bırakılan yere aşağıdakilerden hangisi gelmelidir?

- A.  B.  C. 



Bu örüntüye benzer bir örüntü aşağıdakilerden hangisinde vardır?


- A.      B. **123512** C. **A B C A B C**

3. Aşağıdaki örüntülerden hangisi farklıdır?




- A.      


- B. **A B C D E F**

- C.      



Yukarıdaki örüntüde baştan 8. Şekil aşağıdakilerden hangisi olur?

- A.  B.  C. 



Yukarıdaki örüntü belli bir kurala göre sıralanmıştır. Kuralı bozan resmin yerine aşağıdakilerden hangisi gelmelidir?


- A.  B.  C. 

6. Aşağıdakilerden hangisi bir örüntü değildir?

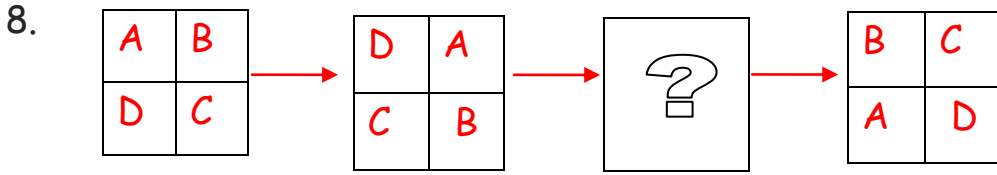
A. **A B C D A B C D**

B. **5 - 10 - 15 - 20 - 25 - 30**


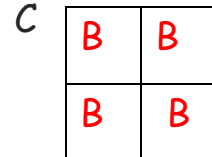
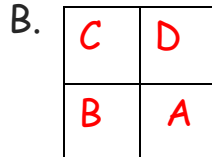
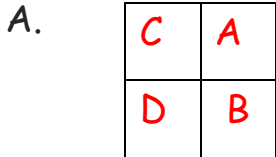
C. **3 - 5 - 9 - 12 - 19**



Yukarıdaki örüntünün kuralını bozan şekil aşağıdakilerden hangisidir?



Yukarıdaki örüntüde soru işareti yerine hangi şekil gelmelidir?



3. **A A B A A B**

Yukarıdaki örüntülerden hangilerinin kuralı aynıdır?

A. 1 ve 3

B. 1 ve 2

C. 2 ve 3