

2.SINIF MATEMATİK

DENEME-1

Bu bölümde toplam 15 soru bulunmaktadır.

1.




Bir sepette bir düzine çürük yumurta ile bir deste sağlam yumurta var.

Sepetteki yumurtalar toplam kaç tanedir?

- A) 22 B) 20 C) 12

2.



Yukarıda birim küplerle gösterilen doğal sayı aşağıdakilerden hangisidir?

- A) 32 B) 23 C) 5

3.



Yukarıdaki iki basamaklı sayının **6 rakamı** hangi basamaktadır?

- A) onlar B) birler
C) yüzler

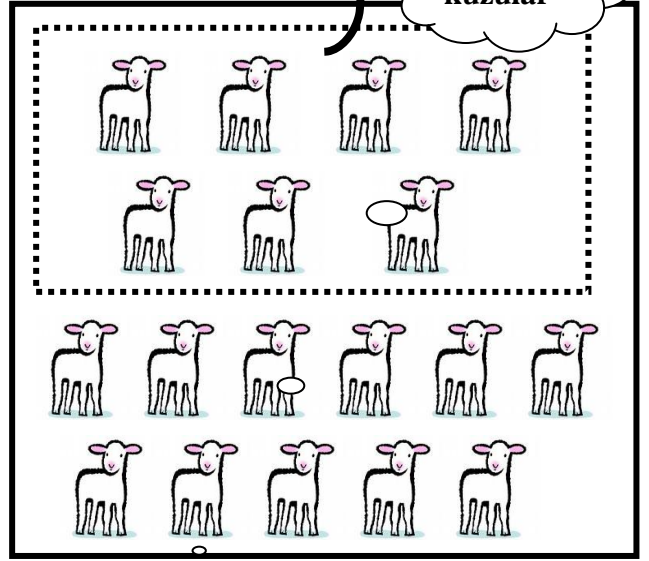
4.



Yukarıdaki örüntüde boş bırakılan yere hangisi gelmelidir?

- A) B) C)


5.



Bir çiftçi satmadan önce 18 tane kuzuya sahipti. Buna göre yukarıdaki **çıkarma işlemini** gösteren seçenek hangisidir?

- A) $18 - 7 = 11$
B) $18 - 11 = 7$
C) $11 - 7 = 4$

6.



Yukarıdaki kaplumbağaların sayısı **bir düzineden** kaç tane fazladır?

- A) 4 B) 3 C) 2

7.

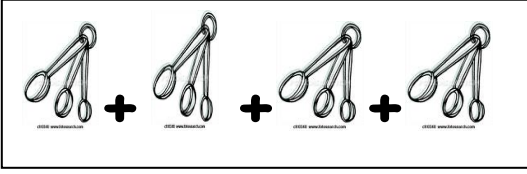


Ayşe' nin 24 tane, benim 13 tane boya kalemim var.

İkimizin **toplam** kaç tane boya kalemimiz vardır?

- A) 47 B) 37 C) 55

8.



Yukarıdaki toplama işleminin, **çarpma işlemi** olarak gösterilişi hangi seçenekte verilmiştir?

- A) $3 \times 3 = 9$ B) $4 \times 3 = 12$
C) 4×4

9. $32 - 28 - 24 - 20 - 16$

Yukarıda kaçar **ritmik sayma** yapıldığını hangi seçenekteki nesneler göstermektedir?

- A) B)
C)

10.

$\begin{array}{r} 23 \\ + 14 \\ \hline 37 \end{array}$	$\begin{array}{r} 52 \\ + 27 \\ \hline 89 \end{array}$	$\begin{array}{r} 64 \\ + 25 \\ \hline 89 \end{array}$
1	2	3

Yukarıdaki toplama işlemlerinden hangisi **yanlış** yapılmıştır?

- A) 1 B) 2 C) 3

11. Aşağıdaki örüntülerin hangisinde bir **yanlışlık** yapılmıştır?

- A) $32 - 30 - 28 - 26 - 24$
B) $30 - 27 - 25 - 21 - 18$
C) $60 - 50 - 40 - 30 - 20$


12.

Benim onlar basamağındaki rakamımın basamak değeri kaçtır?

42

- A) 20 B) 4 C) 40

13.




Yandaki abaküste gösterilen doğal sayı kaçtır?

- A) 4 B) 40 C) 41

14.

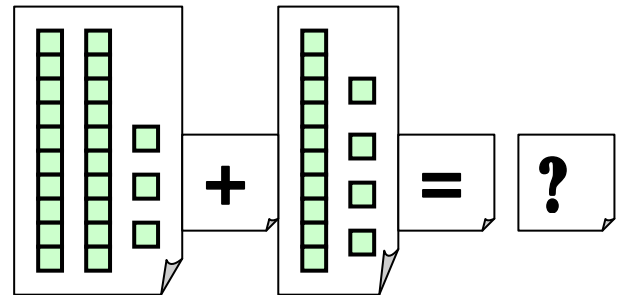
$$3 \times 2 = 6$$

Çarpma işleminin, toplama işlemi olarak gösterilişi hangisidir?



- A)
B)
C)

15.



Yukarıdaki toplama işleminin sonucu kaçtır?

- A) 10 B) 37 C) 73